

2019建设银行春季校园招聘 笔试考题



关注公众号

及时获取2020银行春招资讯



好老师 好课程 好服务

2019 年 0413 建设银行春招试卷

(时长 150 分钟, 满分 115 分)

综合能力测试

综合能力-言语理解 (共 17 题, 共 8.5 分)

1. 目前, 我国虽然与许多发达国家签有双边贸易协定, 但是中国的出口仍然成为各种歧视贸易措施的目标, 仍然面对着各种歧视性数量限制、选择性保障措施, 以及建立在歧视性标准基础上的反倾销和反补贴措施。

这段话主要说明了 ()。

- A. 面对种种歧视性的措施, 我们也不得不建立反倾销和反补贴措施
- B. 针对各种歧视性贸易, 我们应该制定各种保障措施
- C. 中国的出口, 以建立反对各种歧视性措施为目标
- D. 许多发达国家仍然针对中国的出口产品制定种种具有歧视性的贸易措施

2. 国家机关、政党组织和其他社会成员必须按照特定的规则运行和活动, 这是法治的应有之义。在当代中国, 规范国家权力运行和社会成员活动的各类规则可谓浩如烟海, 但国家法律体系和党内法规体系显然是最有影响力和最为重要的规则体系。十八届四中全会审议通过的《中共中央关于全面推进依法治国若干重大问题的决定》将“形成完备的法律规范体系和完善的党内法规体系”纳入建设中国特色社会主义法治体系, 确立了全面推进依法治国的总目标。

这段文字之后作者最有可能阐述的是 ()。

- A. 中国特色社会主义法治体系的建构
- B. 依法治国建设全面小康社会的构想
- C. 党内法规与国家法律的衔接和协调
- D. 建立健全党内法规体系的对应措施

3. 多方渠道反映, 比特币在所谓的“暗网”世界作为支付工具大行其道。“暗网”指只能用特殊软件或特殊特权才能访问的网络, 通过使用非常规的服务器地址、网络传输协议并层层加密的方式, 使得网络通信双方的位置、身份信息难以追踪。“暗网”中充斥着各类严重违法犯罪活动。比特币发明的初衷之一就是躲避监管, 具有匿名性、跨境流动便利等特征, 已成为“地下经济”的首选工具。

从文中可见，作者对比特币的态度是（ ）。

- A.无法判断
- B.中立
- C.否定
- D.支持

4.今天，我们的技术水平已经能把铁路修到世界屋脊。因此，与古丝绸之路相比，新丝绸之路覆盖的面积将更广，路线更密集，也更发达。新丝绸之路在新技术条件下，对古老的交通通道的复兴与拓展。新丝绸之路构想充分兼顾了国际、国内两方面的战略需求。从国际角度看，丝绸之路两端是当今国际经济最活跃的两个主引擎：欧洲联盟与环太平洋经济带。从国内角度看，我国当前的发展需要兼顾地区平衡，并着力开拓新的经济增长点。复兴丝绸之路能带动经济实力较为薄弱的西部地区，有望形成新的开放前沿。新丝绸之路设想兼顾政治、经济、安全乃至文化利益的均衡发展。新丝绸之路构想以经济合作为先导与基石，以政治合作为前提与推进手段，以促讲文化交流、化解安全风险为重要目标，是具有前瞻性的综合战略规划。

下列不属于表述“新丝绸之路经济带构想”内容的一项是（ ）。

- A.新丝绸之路设想兼顾政治、经济、安全乃至文化利益的均衡发展，是具有前瞻性的综合战略规划。
- B.新丝绸之路的构想需要兼顾地区平衡，着力开拓新的经济增长点，进而带动经济实力较为地的西部地区
- C.新丝绸之路是在新技术条件下，对古老的交通通道的复兴与拓展，两端是欧洲联盟与环太平洋经济带
- D.丝绸之路具备复兴的客观条件，我们的技术水平已能使新丝绸之路覆盖的面积更广，路线更密集，也更发达

5.目前，国内的多家快递企业开始尝试拓展无人机送货业务，这样既能缓解地面交通拥堵，又能提高快递企业运营效率。但是，自无人机技术应用以来，安全事故屡屡发生。无人机在快递业的大规模应用，还可能对空管秩序造成极大冲击。特别是引入人工智能的无人机技术，逐渐摆脱了人工干预，而且还会随着“经验”的不断积累，优化自己的飞行路线。一旦对其监管落实不到位，极有可能产生不堪设想的后果。对此，我们应采取切实有效的措施，最大限度地发挥人工智能在无人机领域的优势，防止其可能产生的社会危害。

这段文字意在说明 ()。

- A.无人机的广泛应用需技术和监管共同发力
- B.引入人工智能的无人机技术潜在风险更大
- C.快递企业引入无人机业务的时机尚不成熟
- D.发展人工智能需要更多地考虑其安全隐患

6.有学者认为,应该将个人数据信息作为公共物品来规制,对个人数据信息使用进行治理的主体应该是政府专门机构,因而治理的法律性质应该是公法而不是私法,治理的目的是为了公共利益和公共安全而促进个人数据信息的自由共享。这种治理方式并不影响和损害已经存在的私权例如隐私权和其他财产权等。

这段论述中未涉及的一项是 ()。

- A.个人数据信息治理的措施程序
- B.个人数据信息治理的法制属性
- C.个人数据信息治理的意义目的
- D.个人数据信息治理的行政主体

7.近几年,一度_____的神经网络算法开始复兴,这个算法在一定程度上_____了生物神经分层的架构,不仅能够不断调整优化各项行动的逻辑权重,还能够进行结果的_____,把结果重新作为输入进行训练。

填入空缺处最合适的一项是 ()。

- A.沉默 模仿 回馈
- B.沉沦 仿真 回应
- C.沉寂 模拟 反馈
- D.沉凝 仿照 反应

8.事实上,人力资源竞争,固然是一种市场竞争,但却毕竟与普通商品的市场属性有所不同。薪资待遇固然是不可或缺的重要因素,但人的需求,对于职业的权衡,却是多方面综合考量的结果。因此,人力资源的竞争,也就必须回归以人为本的理念。

根据这段文字,下列表述正确的是 ()。

- A.只要以人为本就能在人力资源竞争中获胜
- B.劳动者会从多方面综合考量职业
- C.劳动者在选择职业时不再考虑薪资待遇

D.人力资源与普通商品存在本质上的差异

9.许渊冲先生在《朗读者》一书的序言里说,人生最大的乐趣是发现美、创造美,这个乐趣是取之不尽用之不竭的,而美的乐趣来自阅读这些名篇佳作。是的,阅读不仅让人享受美,也是人之所以为文明人的一个根本。人,是这个地球上唯一能够用文字记录自己的生活与智慧,唯一能够通过阅读充盈自己的心灵、丰富自己的精神世界的生物。_____。

填入划部分最恰当的一句()。

A.如何回归真正的阅读,让浮躁的心灵有安顿的地方,仍然是我们这个时代的重要课题

B.一个人的精神发育史就是他的阅读史,一个民族的精神境界也取决于这个民族的阅读水平

C.通过品读经典培养高尚的心灵,养成知识丰富、道德高尚、情趣健康的性灵,可以让
人生从浮躁走向宁静、从浅陋走向优雅

D.因比,应该通过电视把那些伟大的思想、最美好的语篇、最优秀的著作介绍给成长中的孩子,给需型精神常养的少年,给需要过精神生活的成年人

10.一流的大国工匠,需要把科技创造同人类社会重大问题紧紧联系在一起,甚至应当立足于人类命运共同体,具备关切环境、关怀生命的责任心。人文教育中,历史文化、哲学伦理、文学艺术、自然科学等学科知识的交汇融通,造就其博约相济、以文化人的特点,让学生涵育健全人格,谙悉工程伦理,明了历史环境,树立高远理想信念和价值观念。一流的大国工匠,不仅要培育专注技艺、追求卓越之心,更重要的是涵养赋予产品生命和内涵、在技术中融入巧思和灵魂的能力。

下列不属于“一流的大国工匠”应具备的条件的一项是()。

A.一流的大国工匠,更应赋予产品生命和内、在技术中融入巧思和灵魂的能力

B.一流的大国工匠,要把历史文化、哲学伦理、文学艺术、自然科学等学科知识交汇通,博约相济,以文化人

C.一流的大国工匠,要把科技创同人类重大问题紧密联系,具备关切环境、关怀生命的责任心

D.一流的大国工匠,要培育专注技艺、追求卓越之心

11.在当今这个全球化的时代,文学理论的作用显然不可能像过去那样具有巨大的启蒙和指导作用,它将和文化研究并存,而不会被后者所吞没。只是文化研究的领域已得到了扩

展和深化,不少文化研究的课题也进入了文学理论家的视野,因此,文化研究与文学理论并非一定要形成对立的局面。

对这段话的复述不正确的是()。

- A.文学理论的地位已经今非昔比
- B.文化研究在广度和深度上都得到扩展
- C.文化研究和文学理论有很多共同的地方
- D.以前的文化研究和文学理论是对立的

12.近代西方自然科学和社会科学迅猛发展,而中国在这些方面落后了。我们应当励志图强、奋起直追,虚心向西方学习,凡是好的,有用的都应当学习,这是没有疑问的。但我们如果因此丢弃了“自我”,失去了“自我”的根基,忘记了“我们自己是谁”,恐怕就要成为民族罪人了。历史证明,一个民族一旦失去了自己的文化传统,尤其是标志文化特质、体现文化灵魂的哲学思维传统,那就很难“自立于世界民族之林”,终究要被淘汰出局。况且我们中华民族有着优秀的历史文化传统和独特的哲学思维个性,更应该发挥所长,为创造人类的新文化和新哲学作出应有的贡献

对这段文字主旨概括最为准确的是()。

- A.对于西方的文明和本国的民族传统,我们应该同等地对待
- B.我们国家的民族传统相对于西方的现代文明来说更进步
- C.学习西方,更要保持和发扬本民族哲学思想传统
- D.对于西方的先进文化,我们是应该积极借鉴的

13.下列各句中没有语病的一句是()。

A.这首歌表现出的意境和风格,让人很难相信是平均年龄仅 20 岁的作品

B.针对石油上升的趋势,美国等国家纷纷建立或增加了石油储备,我国也应增加国家的石油战略储备体系

C.关于水资源,除农村集体组织所有的水塘、水库中的水属于集体所有制外,凡是我国领域内的一切水资源均属于国家所有

D.当时全校不止有一个文学社团,我们的“文学苑”是最大的,参加的学生纵跨三个年级,此外,我们还出版了最漂亮的文学刊物《青春》

14.转变发展理念,切实增强协调发展的自觉性和坚定性。发展理念是管全局、管根本、管长远的,直接关乎发展成效。我们党提出协调这一发展理念,旨在补齐发展短板,解决发

展不平衡问题。尽管我国经济社会发展取得巨大成就，但也出现了发展不平衡、不协调、不可持续问题，迫切需要转变发展理念，特别是增强发展的整体性、协调性。在当前全面建成小康社会的决胜时期，我们必须转变观念，把思想和行动统一到新发展理念上来，正确处理发展中的重大关系，在协调发展中拓宽发展空间，在补齐短板中增强发展后劲，在增强国家硬实力的同时提升国家软实力，使物质文明和精神文明协调发展，同步提升。

这段文字意在强调我们要（ ）。

- A. 转变发展理念，解决发展不平衡问题
- B. 推动物质文明与精神文明协调发展
- C. 增强协调发展的自觉性与坚定性
- D. 转变发展理念，提升国家软实力

15. 近年来，以云计算、大数据、物联网、工业互联网为代表的新技术得到了快速应用，更多的传统能源、电力、交通基础设施、招投标平台联入网络，成为泛在的关键信息基础设施的有机组成。基础设施中系统的大规模集成、互联使得基础设施的脆弱性和安全威胁不再是简单的线性叠加。在有组织的、高强度攻击面前，关键信息基础设施面临着巨大挑战。新形势下的网络安全问题以更复杂系统的理论和思路去破解，呼吁创新性的安全评价机制给人们以信心。

这段文字接下来最可能谈的是（ ）。

- A. 新技术革命带来的严峻局面
- B. 我国在新技术威胁应对中已经投入的基础设施
- C. 网络安全问题中威胁等级的基本评价体系
- D. 新形势下各国应对网络安全威胁采取的基本措施

16. 有媒体报道，某社区是一个成立只有 3 年多的新社区，常住居民 3 万多人，其中四分之三来自市内外，5.5%的居民来自外省市，对社区缺乏认同感和归属感，更没兴趣参与社区公共事务管理。针对这个问题，该社区将国学融入社区生活，以“耕、读、居、养、礼、乐”为内容，密集开展“一平米菜园”、太极拳、负离子体验、小剧场等活动，让居民有了沟通交流的平台，邻里矛盾纠纷明显下降，治安环境明显改善。

如果请你给这则报道起个标题，下列选项中适宜的是（ ）。

- A. 推广新“六艺”，党员发挥先锋模范作用
- B. 政府提供贴心服务，做好社区“好管家”

- C.创新社会治理，撑起群众生活“幸福伞”
- D.普法宣传进万家，探索治安管理专业化

17.随着债务置换计划的实施，地方债到期不能偿付的风险基本消弭，刚性兑付再一次得到确保。但地方债管理要真正走向规范化，还有许多技术问题有待解决，其中最为突出的就是地方政府的信用评级问题。信用评级是债券定价的基础。直接关乎发行方的融资成本，但由于信用评级标准不明确，东部发达地区和西部欠发达地区的政府信用评级一样，地方政府信用和国家信用评级一样，甚至还出现地方债利率低于国债利率的情形，这在理论上显然是说不通的，也完全不能反映“市场在资源配置中起决定性作用”的要求。

这段文字意在强调（ ）。

- A.地方债务管理风险仍需引起重视
- B.地方政府信用评级制度亟待完善
- C.债务利率的确定应当符合市场规律
- D.解决地方债务问题应考虑地域差异

综合能力测试—数量关系（17题，8.5分）

1.老林和小陈绕着周长为720米的小花园匀速散步，小陈比老林的速度快。若两人同时从某一点同向出发，则每隔18分钟相遇1次。若两人同时从某一点反向出发，每隔6分钟相遇一次。由此可知，小陈绕花园散步一周需要（ ）分钟。

- A.6
- B.9
- C.15
- D.18

2.6, 12, (), 90, 315, 1260

- A.30
- B.24
- C.45
- D.60

3.若干名天使投资人对某个需求资金120万元的创业项目表达出投资意向，并计划每人以相同的金额投资该项目，但实际投资时有2人退出，剩下的每人需要多投资10万元才能满足该项目的资金需求，则实际投资这一项目的有（ ）人。

A.6

B.4

C.8

D.3

4. $\sqrt{5697} \div \sqrt{0.005697}$ 的值是 ()。

A.0.0001

B.0.01

C.1000

D.10000

5.有 a、b、c、d 四人在晚上都要从桥的左边到右边。此桥一次最多只能走两人，而且只有一支手电筒，过桥时一定要用手电筒。四人过桥最快所需时间如下：a 需 2 分钟，b 需 3 分钟，c 需 8 分钟，d 需 10 分钟。走得快的人要等走得慢的人，则让所有的人都过桥最短需 () 分钟。

A.19

B.20

C.21

D.22

6.一台全自动咖啡机打八折销售，利润为进价的 60%，若打七折出售，利润为 50 元。则这台咖啡机的原价是 () 元。

A.250

B.240

C.210

D.200

7. $1/2, 1/8, 1/24, 1/48, ()$

A.1/48

B.1/36

C.1/96

D.1/24

8.某项工程若由甲、乙两队合作需 105 天完成,甲、丙两队合作需 60 天完成,丙、丁两队合作需 70 天完成,甲、丁两队合作需 84 天完成。则这四个工程队的工作效率由低到高的顺序是 ()。

- A.乙、丁、丙、甲
- B.丁、乙、丙、甲
- C.乙、甲、丙、丁
- D.乙、丁、甲、丙

9.一个水池装有甲乙两根水管,同时打开,12 小时可以注满,现在同时打开 3 小时后关闭甲管,又过 15 小时才把空池注满。则甲、乙两管单独注满空池各需要 () 小时。

- A.22; 24
- B.20; 15
- C.30; 20
- D.24; 16

10.甲乙两车的出发点相距 360 千米,如果甲乙在上午 8 点同时出发,相向行驶,分别在 12 点和 17 点到达对方出发点。但两车在到达对方出发点后,分别将速度降低到原来的三分之一和一半,再返回各自出发点,则在当日 18 点时,甲乙相距 ()。

- A.240 千米
- B.200 千米
- C.160 千米
- D.120 千米

11.为加强机关文化建设,某机关举办了演讲比赛,3 个部门分别派出 3、2、4 名选手参加比赛,要求每个部门的参赛选手比赛顺序必须相连,则不同参赛顺序的种数在以下哪一个区间之内? ()

- A.1000-5000
- B.小于 1000
- C.5001-20000
- D.大于 20000

12.某银行推出 3 年期和 5 年期的两种理财产品甲和乙。小王分别购买这两种产品各 1 万元。结果发现,按单利计算(即利息不产生收益),乙产品平均年收益率比甲产品多 2

个百分点。期满后，乙产品总收益是甲产品的 2.5 倍。则小王各花 1 万元购买甲、乙两种产品的平均年收益分别是（ ）。

- A.700 元和 900 元
- B.600 元和 900 元
- C.500 元和 700 元
- D.400 元和 600 元

13. 1, 3, 7, 15, 31, ()

- A.63
- B.56
- C.72
- D.48

14. 某单位有 3 项业务要招标，共有 5 家公司前来投标，且每家公司都对 3 项业务发出了投标申请，最终发现每项业务都有且只有 1 家公司中标。若 5 家公司在每项业务中中标的概率均相等，则这 3 项业务由同一家公司中标的概率为（ ）。

- A.1/243
- B.1/125
- C.1/81
- D.1/25

15. 某商店花 10000 元进了一批商品，按期望获得相当于进价 25% 的利润来定价，结果只销售了商品总量的 30%，为尽快完成资金周转，商店决定打折销售，这样卖完全部商品后，亏本 1000 元，则商店是按定价打几折销售的？（ ）

- A.九折
- B.七五折
- C.七折
- D.六折

16. 一个书架上层比下层多 52 本，从上层拿 6 本到下层后，下层的书是上层的 $\frac{2}{3}$ ，则该书架上层原来有（ ）本书。

- A.84
- B.136

C.126

D.74

17. 1, 2 (), 121, 16900

A.11

B.9

C.12

D.10

综合能力测试—逻辑推理（16题，8分）

1 某研究所对该所上年度研究成果的统计显示，在该所所有的研究人员中，没有两个人发表的论文数量完全相同，没有人恰好发表了 10 篇论文，没有人发表的论文数量等于或超过全所研究人员的数量。

如果上述统计是真实的，则以下哪些断定也一定是真实的？（ ）

I.该所研究人员中，有的人上年度没有发表 1 篇论文

II.该所研究人员的数量，不少于 3 人

III.该所研究人员的数量，不多于 10 人

A.I、II 和 III

B.只有 I

C.只有 I 和 III

D.只有 I 和 II

2.晴朗的夜晚我们可以看到满天星斗，其中有些是自身发光的恒星，有些是自身不发光但可以反射附近恒星光的行星。恒星尽管遥远，但是有些可以被现有的光学望远镜“看到”。和恒星不同，由于行星本身不发光，而且体积远小于恒星。所以，太阳系外的行星大多无法用现有的光学望远镜“看到”。

以下哪项如果为真，最能解释上述现象？（ ）

A.现有的光学望远镜只能“看到”自身发光或者反射光的天体

B.有些恒星没有被现有的光学望远镜“看到”

C.如果行星的体积够大，现有的光学望远镜就能够“看到”

D.太阳系外的行星因距离遥远，很少能将恒星光反射到地球上

3.在决断之前,每个事物的价值在决策者心中大致相近,则难以决断其优劣;但在作出选择之后,决策者对这些事物的态度评价就发生了改变。这种现象叫作决断后效应。

根据上述定义,下列现象属于决断后效应的是()。

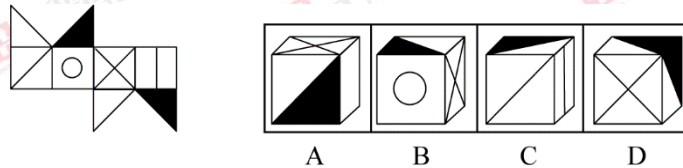
A.某学生填报志愿时对报甲大学还是乙大学犹豫不决,最后他听从老师建议选择了甲大学,从此觉得甲大学优于乙大学

B.某老师对选甲还是乙去参加比赛犹豫不决,班长建议选乙,事后,老师认为选乙完全正确,因为乙最终夺得了冠军

C.某女士对各有优劣的两个品牌手机难以抉择,最后她从经济角度考虑选择其中一款,到货后发现这款有色差

D.某职员对自己的去留一筹莫展,一番考量之后他认为留下来要面对许多复杂关系,不如重新开创新天地

4.图中给定的是纸盒外表面,下边哪一项能由它折叠而成?()



5.S企业与J企业生产和销售一样的仪表。S企业和J企业中员工的工资都占了生产仪表成本的40%。S企业正在寻求强于J企业的竞争优势。因此,为促使达到目的,S企业应该降低员工的工资。

以下哪一项如果是正确的,将最能削弱以上论述?()

A.工资降低会降低员工工作质量,这种质量降低将导致销量的下降

B.J企业去年抢走了S企业20%的生意

C.因为他们生产少量的精密仪器,仪表制造商们不能再原材料上获得批量折扣

D.S企业付给它的员工的工资,平均来说,比J企业高10%

6.最近上映了一部很受欢迎的电影,小刘购买了4张座位连在一起的电影票,邀请小马、小杨、小廖一同去观看。私人各自随机拿了一张电影票,此时他们分别猜了一下座位情况。

小刘说:“我好像坐在小马旁边。”

小马说:“我的左边不是小刘就是小杨。”

小杨说:“我肯定是坐在小廖旁边。”

小廖说:“小刘应该是坐在我的左边。”

假如他们四人都猜错了，则他们面向银幕从左到右的正确座位可能是（ ）。

- A.小杨、小刘、小廖、小马
- B.小马、小廖、小杨、小刘
- C.小刘、小杨、小廖、小马
- D.小廖、小马、小杨、小刘

7. 根据图中的规律，在选项中找到符合问号处的答案？（ ）

A	T	M
J	G	L
B	D	?

C	F	N	Z
A	B	C	D

8.一家刚开业的大型超市决定开展降价促销活动，部分商品售价甚至低于成本价。在这种情况下，销售量越大，超市的经济损失就越大。这一决定遭到很多超市员工反对，但超市经理依然坚持这一决定。

- 以下最能支持经理决定的一项是（ ）
- A.物美价廉的商品更容易受到消费者的欢迎
 - B.扩大知名度对于新开业的超市至关重要
 - C.薄利多销的方式有利于提高超市的销售收入
 - D.许多超市在开业时都开展降价促销活动

9. 某市举办民间文化艺术展演活动。小李、小张、大王和老许将作为剪纸、苏绣、白局和昆曲的传承人进行现场展演。每人各展演一项，展演按序一一进行。主办方还有如下安排：

- (1)老许的展演要在剪纸和苏绣的后面
- (2)白局、昆曲展演时小李只能观看
- (3)大王的展演排在剪纸前面
- (4)小张的展演要在昆曲和老许展演前面。

根据上述安排，可以得出以下哪项？

- A.小张展演昆曲，排在第 3 位
- B.大王展演苏绣，排在第 2 位

C.老许展演白局，排在第 4 位

D.小李展演剪纸，排在第 1 位

10. 某办公室有刘丽、李明和丁勇 3 名工作人员，本周有分别涉及网络、财务、管理、人事和教育的 5 项工作需要他们完成。关于工作安排，需要满足下列条件：

(1) 每人均需至少完成其中的一项工作，一项工作只能由一人完成

(2) 人事和管理工作都不是由刘丽完成的

(3) 如果人事工作由丁勇完。那么财务工作由李明完成

(4) 完成教育工作的人至少还需完成一项其他工作

到了周末，3 人顺利地完成了上述 5 项工作。

以下哪项的工作安排符合上述条件？

A.刘丽：网络；李明：教育、管理；丁勇：人事、财务

B.刘丽：网络；李明：人事、管理、财务；丁勇：教育

C.刘丽：教育、财务；李明：人事、管理；丁勇：网络

D.刘丽：管理、网络；李明：教育、人事；丁勇：财务

11.我国在西南地区进行的页岩气勘探获得重大成果，估算天然气资源量达千亿立方米，这是我国首次在四川盆地以外的南方复杂构造区取得页岩气勘探的重大突破。有专家称该地有望成为新的工业气田，可以满足上千万居民的生活和工农业发展的用气需求，促进经济发展。

该专家观点成立的假设前提是（ ）

A.南方复杂的地质构造有利于天然气生成

B.凡是勘探到的天然气都能顺利开采出来

C.我国目前天然气产量无法满实际需求

D.天然气作为清洁能源是促进经济发展的重要动力

12.信息化是构建信息与信息的快传播方式，其本质是一种信息的传递。数据化描述则是将现实世界的某些特点进行数据整理收集或对某些世界的功能进行模拟，并以信息化的状态描述出来。

根据上述定义，下列属于数据化描述的是（ ）。

A.在某诗歌比赛中，根据评委说出的关键词。机器人“小诗”当场写出了几首辞藻华美、意境清新的作品

- B.互联网某种程度上与人脑的错综复杂的神经网络相似
- C.人们出行、寻找餐饮和银行需要用到依靠数据建立的互联网地图
- D.某电商平台根据销售数据在网站上给出畅销排行榜指导客户购买手机

13. 根据图中的规律, 在选项中找到符合问号处的答案? ()

Σ	了	圭
R	兄	𠂇
?	侣	⑥

齐	有	洲	靳
---	---	---	---

A B C D

14. 课间休息时, 一位同学帮老师擦了黑板。老师回到教室后询问是谁擦的黑板。他问了四位同学, 得到以下回答:

- (1) 或者班长擦了, 或者学习委员擦了
- (2) 如果纪律委员没擦, 那么班长也没擦
- (3) 如果卫生委员没擦, 那么班长擦了
- (4) 班长和学习委员都没有擦

实际上, 四位同学的回答中只有一句是假的。此可以推出擦黑板的是 ()

- A. 班长
- B. 卫生委员
- C. 学习委员
- D. 纪律员

15. 在国家发展新兴产业的大背景下, 某公司虽然在某产业长期处于领先地位, 但上半年的销售数据显示, 领先优势越来越小。在邀请专家进行企业诊断后, 专家认为公司领先优势缩小的原因在于公司虽然管理制度健全, 但由于企业文化缺乏进取心, 导致好的政策环境下公司发展趋缓。

以下哪项如果为真, 不能反驳专家的观点? ()

- A. 发展趋缓的原因在于长期以来公司下半年的销售数据一般高于上半年

- B.公司一直注重加强企业文化建设,形成了和谐的企业氛围
- C.相较沿海地区同类公司受益于健全的产业链,该公司处于内地,其发展有所受限
- D.企业文化并不是一个公司的核心竞争力,关键问题在于新产品研发力度不够

16.某网购平台布了一份网购调研报告,分析亚洲女性网购特点。分析显示,当代亚洲女性在网购服饰、化妆品方面的决策权为 88%。在网购家居用品方面的决定为 85%。研究者由此认为。那些喜爱网购的亚洲女性在家庭中拥有更大的控制权。

以下哪项如果为真,最能反驳上述结论? ()

- A.一些亚洲女性经济不独立,家庭收入没有贡献
- B.亚洲女性在购买贵重商品时往往会与丈夫商量,共同决定
- C.亚洲女性中,习惯上网购物的人数只占女性总人数的 30%左右
- D.喜爱网购的亚洲女性的网购支出只占其家庭消费支出的 25%

综合能力测试—资料分析 (15 题, 15 分)

2016-2017 学年某市高等教育分学科研究生数						
学科	毕业人数 (人)		招生数 (人)		在校人数 (人)	
	硕士	博士	硕士	博士	硕士	博士
哲学	425	210	430	263	1356	944
经济学	4218	708	5094	970	11818	3705
法学	6185	1027	6753	1161	17882	4630
教育学	2474	252	3721	374	8692	1535
文学	3863	570	4204	675	10953	2847
历史学	370	193	474	195	1349	714
理学	3671	2802	5500	4099	15283	14617
工学	23398	4666	27055	6499	74697	28613
农学	1952	600	2276	687	5690	2623
医学	2599	1503	3625	1419	9645	4879
军事学	19	6	14	12	70	50
管理学	9169	997	11603	1271	28669	5867
艺术学	2209	271	2688	337	7348	1180
总计	59552	13805	73437	17962	193452	72204

1.2016-2017 学年该市毕业的研究生中,工学研究生所占比例约为 ()。

- A.32%
- B.38%
- C.42%
- D.47%

2.在校博士生人数超过在校研究生人数 25%的学科有 () 个。

A.7

B.6

C.5

D.4

3.下列学科中,硕士生与博士生招生人数比例与其毕业人数比例相差最大的是()。

A.哲学

B.文学

C.军事学

D.艺术学

4.在校研究生人数排名第三的学科,其研究生招生人数是毕业人数的()倍。

A.1.0

B.1.2

C.1.5

D.1.8

5.能够从上述资料推出的是()。

A.文、史、哲三专业共招录 1200 多名博士研究生

B.博士研究生招生人数超过 1000 人的有 4 个学科

C.各项研究生数统计指标中,管理学科均高于经济学科

D.表中各专业博士研究生毕业人数均低于招生人数

为了解城镇棚户区改造情况,国家统计局社情民意调查中心选取了 20 个省(市、区)城镇棚户区的 10100 位居民进行调查,各类棚户区受访居民数占比均等。调查显示,对于棚户区配套公共服务设施改造状况,受访棚户区居民中 23.4%表示“满意”,40.2%表示“基本满意”,具体调查结果如下表。

受访棚户区居民对配套公共服务设施改造状况的评价 单位:%						
棚户区类型	国有工矿	国有垦区(农场)	国有林区(林场)	城中村	城市危房	其他
满意	21.8	36.5	27.5	22.6	23	24
基本满意	39.8	38.3	49.6	41.3	38	36.5
不满意	15.9	13.7	15.3	16.7	12.2	9.3
不清楚	22.5	11.5	7.6	19.4	25.9	29.4

6.下列棚户区类型中,表示“满意”“基本满意”的受访居民之和占本类棚户区受访居民总数的比重最高的是()。

A.国有工矿

B.城中区

C.国有垦区（农场）

D.国有林区（林场）

7.表示“满意”“基本满意”的受访棚户区居民数之和比表示“不满意”“不清楚”的居民数之和多（ ）人。

A.2747

B.3676

C.2617

D.2508

8.各棚户区类型中，表示“满意”的受访居民数比表示“不满意”的多1倍及以上的棚户区类型有（ ）。

A.3个

B.4个

C.2个

D.1个

9.各类棚户区中，表示“不清楚”的受访居民数占本类棚户区受访居民总数的比重最多相差（ ）。

A.21.8个百分点

B.29.4个百分点

C.16.9个百分点

D.12.7个百分点

10.下列说法正确的是（ ）。

A.国有垦区（农场）与国有林区（林场）的受访棚户区居民之和少于5050人

B.各类棚户区受访居民中，表示“基本满意”的人数均多于“不满意”“不清楚”的居民之和

C.各类棚户区都有65%以上的受访居民表示“满意”“基本满意”

D.各类棚户区受访居民给出的评价中，占比最少的均是“不满意”

2017年某省城乡居民收支情况		
居民人均收入	2017年	同比增长 (%)
全省居民人均可支配收入 (元)	16734	10.8
工资性收入	9386	13.2
经营净收入	3106	6.4
财产净收入	1243	11.1
转移净收入	2999	8.4
城镇居民人均可支配收入	24309	9.9
农村居民人均可支配收入	10117	11.3
居民人均生活消费支出	2017年	同比增长 (%)
全省居民人均生活消费支出 (元)	11089	10.3
城镇居民人均生活消费支出	15142	9.4
食品烟酒	4966	9.7
衣着	1395	9.1
居住	3377	4
生活用品及服务	991	14.2
交通通信	1628	10.2
教育文化娱乐	1654	13.5
医疗保健	761	18.5
其他用品和服务	371	6.2
农村居民人均生活消费支出	7548	10.9
食品烟酒	2755	8.9
衣着	381	12.1
居住	1877	9.8
生活用品及服务	407	9.7
交通通信	759	12.2
教育文化娱乐	712	20.5
医疗保健	525	12.7
其他用品和服务	132	6.9

11. 2017年, 该省农村居民人数约占全省居民人数的 ()。

- A.41.6%
- B.60.5%
- C.53.4%
- D.68.8%

12. 2017年, 该省城镇居民人均生活消费支出项目中增长最快的是 ()。

- A.居住
- B.医疗保健
- C.教育文化娱乐

D.生活用品及服务

13. 2016 年, 该省农村居民人均可支配收入约为 ()。

A.9090 元

B.8974 元

C.9947 元

D.9386 元

14. 2017 年, 该省居民人均生活消费支出中, 城镇居民人均生活消费支出超过农村居民人均生活消费支出两倍的项目是 ()。

A.医疗保健

B.居住

C.食品烟酒

D.衣着

15. 下列说法正确的是 ()。

A.2017 年, 该省城镇居民人均可支配收入比农村居民人均可支配收入的增长幅度大

B.2017 年, 该省城镇居民人均生活消费支出比农村居民人均消费支出少

C.2017 年, 该省农村居民人均可支配收入增幅大于全省居民人均可支配收入增幅

D.农村居民人均可支配收入低于全省居民人均可支配收入, 主要原因是全省居民人均可支配收入中工资性收入所占比重过大

综合能力测试—职业行为测试单选题 (10 题, 10 分)

1. 根据《中华人民共和国消费者权益保护法》, 经营者不得以通知、声明、店堂告示的方式, 作为排除或者限制消费者的权利, 减轻或免除经营者的责任, 这是经营者的 () 义务。

A.格式条款的合理使用

B.安全保障

C.不得侵犯消费者人格权

D.质量担保

2. 长春长生生物科技有限责任公司违法违规生产疫苗行为, 性质恶劣, 令人触目惊心。吉林省食品药品监督管理局随后收回长春长生狂犬病疫苗药品 GMP 证书, 停止该企业狂犬病疫苗生产及销售, 暂停该企业所有产品批签发。这是为了保护公民的 ()。

A.自主选择权

B.生命健康权

C.人身自由权

D.人格尊严权

3.《中华人民共和国民法总则》于 2017 年 10 月 1 日施行。“在民法慈母般的眼神中，每个人就是整个国家。”这表明，国家尊重和保障公民（ ）。

A.当家作主的地位

B.个人的合法权益

C.神圣的政治权利

D.庄严的民事义务

4.良好的个人品德体现为对道德原则和规范的自觉遵守。某银行工作人员小王的言行合乎社会的要求和礼节的规定，尊老爱幼，孝亲敬长，说话和气，以礼待人，服饰整洁大方，举止端庄文雅，这是良好个人品德中（ ）的表现。

A.敬业好学

B.正直无私

C.文明礼貌

D.勇于进取

5.“爱人者，人恒爱之；敬人者，人恒敬之。”一个人自恃清高、看不起别人、不尊重别人的人，是很难获得别人尊重的。这启示我们，人际交往中应该遵循（ ）。

A.平等原则

B.互助原则

C.诚信原则

D.宽容原则

6.“一个人的快乐，不是因为他拥有的多，而是因为他计较的少。”这句话告诉我们要（ ）。

(1) 树立自信，少自卑

(2) 拥有自尊，少自负

(3) 懂得宽容，少计较

(4) 学会感恩，少抱怨

A.(1)(4)

B.(2)(3)

C.(3)(4)

D.(1)(2)

7.我们所处的时代是一个竞争的时代,无论什么人,无论什么事情都无法避免竞争这个现象的存在。我们所处的时代又是一个合作的时代,无论什么人,无论什么事情也都无法避免合作这个现象的存在。关于竞争与合作的关系,下列说法错误的是()。

A.竞争需要借助合作才更有可能获胜,合作增强了竞争的能力

B.在竞争中合作,在合作中竞争,两者相互渗透,相辅相成

C.合作是为了更好地竞争,合作愈好,竞争中成功的可能性就愈大

D.在现代社会中,无论竞争还是合作都是为了获取最大的物质利益

8.中美经贸摩擦几经起伏,在相互较量中,贸易战没有赢家,合作是双方唯一正确的选择,这种观念越来越深入人心。关于“贸易战”给中美两国以及世界带来的影响,以下说法错误的是()。

A.对美国虽会缩小与中国的贸易逆差,但同时也将势必增加美国消费者的生活成本

B.对中国会直接导致进口增速快速下滑,不利于我国经济的持续稳定增长

C.破坏国际贸易规则和经济秩序,影响全球的产业链,削弱国际分工

D.冲击世界金融市场,影响全球经济复苏,阻碍经济全球化进程

9.新修订的《个人所得税法》从2019年1月1日起正式实施。本次个税改革将原工资薪金所得基本减除费用标准提高到每月()元,并按新的税率表计算纳税。

A.8000

B.5000

C.10000

D.3000

10.2019年1月21日,国家统计局对外公布,经初步核算,2018年全年我国国内生产总值(GDP)首次站上()万亿元的历史新台阶,稳居世界第二。

A.90

B.100

C.70

D.120

综合能力测试—职业行为测试多选题（5 题，5 分）

1.公共生活中个人权利与他人权利发生冲突在所难免,比如高铁里有人看书,有人休息,有人听音乐……对权利冲突要有正确的认识,虽然每个人都有行使个人权利的自由,但也要尊重他人的权利。这是因为()。

- A.尊重他人权利既是一项法律义务,也是一项道德义务
- B.权利实现的内在动力是人们彼此之间对各自权利的相互尊重
- C.不尊重他人权利,就可能丧失自己的权利
- D.尊重他人权利是公民权利意识的重要内容

2.积极进取的人生态度有助于人生价值的实现。下列选项中,属于积极进取的人生态度的有()。

- A.身处逆境而能够百折不挠
- B.自强不息,自制自励
- C.用乐观的心态看待周围世界
- D.在顺境当中安于现状,得过且过

3.一位社会科学家发现大楼的一块玻璃坏了,起初他没太当回事,没过多久,他发现许多处窗户都破损了。经过调研后,他得出结论。一样东西如果有点破损,人们就会有意无意地加快它的破损速度,一样东西如果完好无缺,或是及时维护,人们就会精心的护理。这就是著名的“破窗定律”。下列关于道德修养的名言与“破窗定律”内涵相近的是()。

- A.一念之非即遏之,一动之妄即改之
- B.善不可谓小而无益,不善不可谓小而无伤
- C.见贤思齐焉,见不贤而内自省也
- D.非知之难,行之惟难,非行之难,终之斯难

4.中央经济工作会议 2018 年 12 月 19 日至 21 日在北京举行。下列有关本次会议精神的表述中正确的有()。

A.宏观政策强化逆周期调节,继续实施积极的财政政策和稳健的货币政策,适时预调微调,稳定总需求

B.积极的财政政策要加力提效,实施更大规模的减税降费,较大幅度增加地方政府专项债券规模

C.稳健的货币政策要松紧适度,保持流动性合理充裕,改善货币政策传导机制,提高直接融资比重,解决好民营企业和小微企业融资难融资贵问题

D.社会政策要强化兜底保障功能,实施就业优先政策,确保群众基本生活底线,寓管理于服务之中

5.中国人民银行发布公告,决定放开外商投资支付机构准入限制,在商业存在、业务系统、信息保护等方面对外商投资支付机构提出要求,给予其全面国民待遇。这一举措对我国产生的影响有()。

- A.会倒逼我国内资支付机构转型升级,提高服务水平
- B.会对我国内资支付机构造成冲击,导致其业务总量大幅减少
- C.能优化我国金融服务供给结构,促进我国金融业发展
- D.将带来境外资金大量涌入,有力提升我国利用外资水平

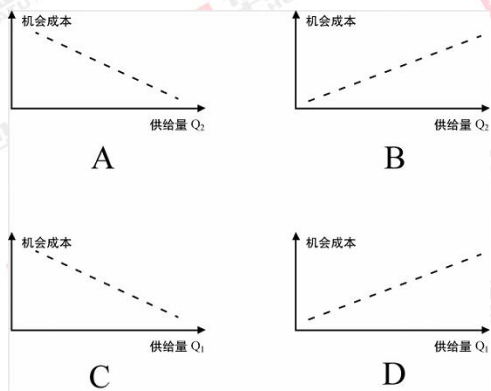
职业基本知识测试

单选题 (40 题, 20 分)

1.下列选项中,不属于社会主义市场经济和资本主义市场经济共同特征的是()。

- A.一切企业都由国家统负盈亏
- B.企业都具有生产经营自主权
- C.大多数情况下,政府部门不直接干预企业的生产和经营活动
- D.经济活动都直接或间接同市场相联系

2.假设某银行只提供信用贷款和抵押贷款两种信贷产品。 Q_1 代表信用贷款产品的供给量, Q_2 代表抵押贷款产品的供给量。根据生产可能性曲线原则,对“信用贷款”这一产品的单位机会成本与供给量的关系,描述正确的图形是()。



3.从 2016 年到 2018 年,商品甲的需求量、价格和供给量情况变动如下表所示。则从 2017 年到 2018 年,商品甲的需求价格弹性和供给价格弹性分别为 ()。

年份	需求量	价格	供给量
2016	10	40	50
2017	15	30	30
2018	25	20	10

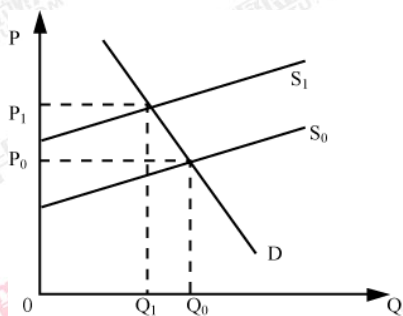
A.需求价格弹性 5.6,供给价格弹性-1.75

B.需求价格弹性 1.25,供给价格弹性-2.5

C.需求价格弹性-5.6,供给价格弹性 1.75

D.需求价格弹性-1.25,供给价格弹性 2.5

4.在下图中,商品受到税收因素影响后,供给从 S_0 变为 S_1 ,价格从 P_0 变为 P_1 ,需求量从 Q_0 变为 Q_1 ,则这最可能描述的商品是 ()。



A.汽车

B.高档化妆品

C.大米

D.珠宝

5.美林投资钟工具是通过将投资对象按产品大类和行业属性进行归类,从而制定出经济周期各阶段的最佳投资组合策略。其中,对经济周期的分析是美林投资钟工具起作用的前提。按照美林投资钟的分析方法,在下表中,依次填入正确的是 ()。

经济周期划分方法

经济发展阶段	经济增长速度	通货膨胀率
滞胀阶段	①	上升
衰退阶段	②	下降
复苏阶段	③	下降

过热阶段	④	上升
------	---	----

A.①=下降, ②=下降, ③=上升, ④=上升

B.①=下降, ②=上升, ③=下降, ④=上升

C.①=上升, ②=上升, ③=下降, ④=下降

D.①=上升, ②=下降, ③=上升, ④=下降

6.在经济过热时,为了放缓经济发展速度,减少需求,理论上可以采取的财政政策是()。

A.提高财政补贴

B.提高税率

C.增加政府采购

D.降低法定准备金率

7.据 IMF 预测的数据显示,2018 年全球通胀同比将达 3.5%。对于通货膨胀,下列理解错误的是()。

A.通货膨胀所指的物价上涨并非个别商品或劳务价格的上涨,而是指一般物价水平的上涨

B.通货膨胀下,有效供给大于有效需求

C.对于通货膨胀,应采取紧缩的货币政策

D.通货膨胀是一种强制性的国民收入再分配

8.下列财政支出中,属于消费性支出的是()。

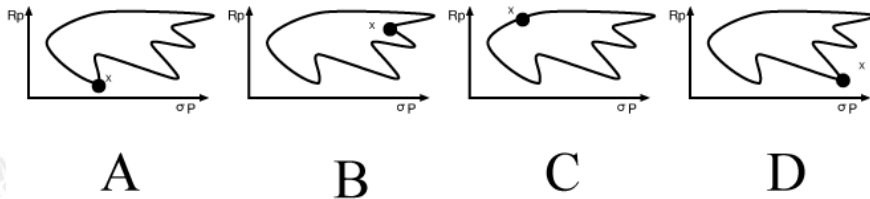
A.财政贴息

B.行政管理费

C.支农支出

D.挖潜改造支出

9.根据马科维茨的金融证券投资理论,证券投资需要满足“有效边界”理论。证券投资的“有效边界”应满足一定的条件:期望收益最大化或者投资组合风险最小化。现有一个临时证券投资组合 X, R_p 表示期望收益, σ_p 表示风险,则 X 满足有效边界条件的位置是()。



10.在财政分配中涉及帕累托最优原理的运用。帕累托最优是资源分配的一种状态,是指在使任何人境况变坏的情况下,不可能再使某些人的处境变好。理论上,当达到帕累托最优时,以下说法错误的是()。

- A.达到帕累托最优时,也同时达到利润最大化
- B.达到帕累托最优时,也同时达到交换的最优
- C.帕累托改进是达到帕累托最优的路径和方法
- D.帕累托最优是指没有进行帕累托改进余地的状态

11.为对冲税期、政府债券发行缴款等因素的影响,维护银行体系流动性合理充裕,2018年9月12日,中国人民银行以利率招标方式开展了600亿元逆回购操作。该操作在性质上属于()。

- A.再贴现
- B.再贷款
- C.公开市场操作
- D.现券交易

12.根据流动性偏好理论,当预期利率上升时,理性投资者将倾向于()。

- A.抛售债券而持有货币
- B.抛售货币而持有债券
- C.只持有债券
- D.既持有债券又持有货币

13.2018年中美贸易摩擦致使美元对人民币汇率有所波动。汇率变化对经济造成的直接影响不包括()。

- A.影响进出口贸易
- B.影响资本流动
- C.影响国内利息水平
- D.影响各国外汇储备

14.《商业银行资本管理办法(试行)》将商业银行资本监管要求分为四个层次。以下说法正确的是()。

- A.第二层次为系统重要性银行附加资本要求 1%
- B.第三层次为储备资本要求和逆周期资本要求
- C.第一层次为最低资本要求,核心一级资本充足率、一级资本充足率和资本充足率分别为 5%、6%和 8%
- D.第四层次为第一支柱资本要求

15.未来经济领域最大的发展趋势之一就是货币变革,数字货币的发行和流通是一种趋势。假如中国人民银行推出法定数字货币,将会()。

- (1)有效降低传统纸币发行、流通的成本
- (2)降低商业银行对货币供给和货币流通的控制力
- (3)提升经济交易活动的便利性和透明度
- (4)加快货币的流通速度,改变货币的购买力

- A.(2)(4)
- B.(1)(3)
- C.(3)(4)
- D.(1)(2)

W 公司 2017 年销售收入 5000 万元,净利润 400 万元,支付股利 200 万元。2017 年末有关资产负债表资料如下(单位:万元):

其中流动资产和流动负债均为经营性,且与销售额成正比例变动,非流动资产与销售额没有固定变动关系。该公司没有金融性资产。

资产	金额	负债和所有者权益	金额
流动资产	3000	流动负债	1000
非流动资产	7000	非流动负债	3000
		所有者权益	6000
资产合计	10000	负债及所有者权益	10000

16.若 W 公司既不发行新股也不举借新债,营业净利率和股利支付率不变,则 2018 年可实现的销售额约为()万元。

A. 4556

B. 5600

C. 5556

D. 6500

17.若 2018 年预计销售额为 6000 万元,需要增加 100 万元的长期投资,销售净利率为 6%,股利支付率为 80%,则其外部融资额为 () 万元。

A. 428

B. 400

C. 500

D. 328

18.若 2018 年预计销售额为 6000 万元,但 W 公司经预测,2018 年可以获得外部融资 250 万元,在销售净利率不变的情况下,W 公司 2018 年可以支付的股利是 () 万元。

A. 250

B. 330

C. 480

D. 280

19.关于企业的偿债能力,以下说法错误的是 ()。

A. 营业周期短的企业,可适当提高其资产负债率

B. 一般来说,同一个企业,其成长期的资产负债率要高于其成熟期的资产负债率

C. 流动比率高一定意味着企业的短期偿债能力强

D. 如果企业有很快变现的长期资产,那么企业的短期偿债能力会增强

20.银行信贷人员小李在分析某企业财务客户时发现,该企业利润表中 2017 年净利润为 5000 万,其中非营业净收益(包括投资收益和处置固定资产收益)1000 万元,非付现费用(包括折旧费用和摊销费用)800 万元,应收账款增加了 500 万元。假设经营活动净现金流可由净利润、非经营性净收益、非付现费用、应收账款简化计算得出。则该企业 2017 年经营活动净现金流为 ()。

A. 4500 万元

B. 4700 万元

C. 3700 万元

D. 4300 万元

21. 甲乙两公司签订了一份原材料买卖合同，后来乙公司和丙公司协商一致将乙公司的部分供货义务转移给丙公司，则乙公司（ ）。

- A. 无需通知任何公司
- B. 无需经甲公司同意
- C. 应当经甲公司同意
- D. 应通知丙公司，由丙公司通知甲公司

22. 甲公司由于经营不善，无力偿债被人民法院宣告破产，甲公司尚有 1 亿元 Z 银行贷款未还，该贷款以甲公司的办公楼为担保。甲公司变价出售后的总破产财产 2 亿元，其中办公楼清算价为 8000 万元，甲公司的未偿债务还包括欠缴税款 8000 万元，职工工资及保险费用 4000 万元，其他普通破产债权 1 亿元。则 Z 银行可收回（ ）。

- A. 9000 万元
- B. 8000 万元
- C. 1 亿元
- D. 5000 万元

23. 某业务部门负责人向其上级管理者汇报工作时，常常会谈到自己本季度有十项工作抓手。其上级管理者建议，每个阶段只要制定两个抓手即可。如果确实有十个抓手，则要将其分解到不同的机构。对于该上级管理者的建议，下列说法较为贴切的是（ ）。

- A. 该管理者喜欢言简意赅，因此向上级汇报工作时要注意清晰简洁
- B. 该管理者是在提醒下属工作要确定重点，注重目标分解
- C. 该管理者直接建议的方式不太妥当，会打击下属工作的积极性
- D. 该管理者的建议说明他已经有先入为主的想法，应该直接向下属说明自己的观点

24. 达美乐比萨是美国最大的比萨连锁企业，美国各地的顾客都可以使用该公司的网络平台或智能手机应用软件追踪到当地门店发放的优惠券，用 GPS 确定最近的门店下单，就能很快收到新鲜出炉的比萨。达美乐比萨细分消费市场的方法是（ ）。

- A. 心理细分
- B. 行为细分
- C. 人口细分
- D. 地理细分

25.2018 年 9 月, 法国奢侈品牌 CELINE 以全新设计亮相时装展, 引发时尚圈及大众的关注。此前, 该品牌进行了更换 LOGO、中止电商业务等一系列大刀阔斧的改革。其实, 组织变革往往伴随许多阻力。关于组织变革及阻力, 以下说法错误的是 ()。

- A. 绝大多数人都厌恶不能给自己带来利益的变革
- B. 部分变革的阻力可以通过教育和沟通加以减少
- C. 变革需要推动者, 推动者应该是管理人员
- D. 变革遇到强大的抵制时, 需要通过谈判加以解决

26. 注明营销学家特劳特的“定位理论”认为, 产品的市场定位要使其能在目标客户心目中占有一个独特的、有价值的位置, 使本企业和其他企业严格区分开来, 使客户明显地感觉和认识到这种差别, 从而在客户心目中留下特殊的印象。该理论给企业经营的启示是 ()。

- A. 提高自主创新能力, 形成技术优势
- B. 注重个性, 满足多样化的消费需求
- C. 面向市场, 扩大生产规模引导消费
- D. 制定正确经营战略, 确保企业盈利

27. 王丽是一家餐厅的总经理, 她管理着近百名员工。她在工作中投入了大量的时间和精力, 期望能够领导她的团队“更有效率”地完成工作, 使得餐厅的运转更加顺畅, 同时为员工营造更好的工作环境。如今, 有数以百万计的管理者像王丽一样, 正在从事重要的管理工作。关于管理工作, 下列说法正确的是 ()。

- A. 管理的主要职能是领导和控制
- B. 一般而言, 基层管理者最为重要的技能是人际技能
- C. 王丽希望的“更有效率”, 可以理解为“做正确的事”, 而不是“正确地做事”
- D. 管理者的管理能力会对员工的生产率和忠诚度产生较大影响

28. 某手机制造商为了开拓农村市场, 专门推出了一款功能齐全但价格低廉的轻巧型手机, 并花费重金在农村进行宣传促销。则该手机制造商采用的营销策略是 ()。

- A. 快速渗透策略
- B. 缓慢渗透策略
- C. 缓慢撇脂战略
- D. 快速撇脂战略

29.电子商务安全要求的四个方面是 ()。

- A.存储的安全性、传输的高效性、数据的完整性和交易各方的身份认证
- B.传输的高效性、数据的完整性、交易各方的身份认证和交易的不可抵赖性
- C.传输的安全性、数据的完整性、交易各方的身份认证和交易的不可抵赖性
- D.存储的安全性、传输的高效性、数据的完整性和交易的不可抵赖性

30.要想让机器具有智能,必须让机器具有知识。因此,在人工智能中有一个研究领域,主要研究计算机如何自动获取知识和技能,实现自我完善,这门研究分支学科是 ()。

- A.专家系统
- B.机器学习
- C.神经网络
- D.模式识别

31.在 Windows 7 中,回收站是 ()。

- A.硬盘上的文件夹
- B.软盘上的文件夹
- C.内存上的一块存储区域
- D.CPU 高速缓冲存储器的一部分存储区域

32.信息技术革命与经济社会活动的交融催生了大数据。下列选项中不属于大数据特征的是 ()。

- A. Virtual(虚拟)
- B. Variety(多样)
- C. Volume(大量)
- D. Velocity(高速)

33.假设有两种理财产品可供选择,并且这两种理财产品的投资期限都是两年。其中,第一种理财产品在第一年的收益率为 8%,第二年的收益率为 10%,第一年的收益直接转化为第二年的本金;第二种理财产品在第一年的收益率为 5%,第二年的收益率为 13%,第一年的收益直接转化为第二年的本金。假设这两种理财产品到期均可兑付本金和收益,则可选择哪种理财产品进行投资,从而使收益达到最大? ()

- A.两种理财产品的收益一样大
- B.选择第二种收益最大

C.无法判断

D.选择第一种收益最大

34.某企业 2018 年参加医疗保险的人数是 2004 年的 3 倍,比 2017 年增长 20%。则 2017 年参加医疗保险的人数比 2004 年增长 ()。

A.150%

B.60%

C.300%

D.250%

35.若要定量研究边际消费倾向,并预测一定收入条件下的人均消费金额,适用的统计方法是 ()。

A.描述分析

B.偏态分析

C.回归分析

D.相关分析

36.某企业的人力资源部想了解员工每周的加班情况并估计整体的加班情况。根据员工编号的顺序,每 50 人抽取一人登记其每周的加班时间,这种抽样组织形式是 ()。

A.整群抽样

B.机械抽样

C.类型抽样

D.纯随机抽样

37.2018 年 1 月 23 日,中国建设银行官方新闻发布平台的公众号正式上线,从而打开了又一个了解建设银行的窗口。通过该公众号,可以第一时间了解建设银行改革发展的故事,传递新时代的建设银行声音。该公众号的名称是 ()。

A.“我的建行”

B.“今日建行”

C.“外部咨询”

D.“建设银行”

38.为深入贯彻习近平总书记关于在发展中保障和改善民生，多谋民生之利、多解民生之忧等重要讲话精神，建设银行在全行全面启动（ ）建设工作，进一步推进点服务资源对公众开放，打造服务民生的新品牌。

- A. “劳动者之家”
- B. “爱心之家”
- C. “劳动者港湾”
- D. “爱心驿站”

39.从“要买房，到建行”到“租房，到建行”，中国建设银行一直起着引领作用。2017年11月份以来，中国建设银行推出多项住房租赁相关业务，给专业化经营机构、住房租赁项目、个人租客提供全方位的金融支持，并上线了租赁服务平台，建设银行住房租赁业务在全国多地遍地开花。这里所说上线的租赁服务平台指的是（ ）。

- A. “CCB 建行之家”
- B. “CCB 住房租赁”
- C. “CCB 银行乐园”
- D. “CBB 建融家园”

40.建设银行（ ）是由大学生“当家”的网点，运用“互联网校园金融”服务理念，通过开展金融产品推广、金融业务知识普及、金融活动策划等工作让大学生参与到金融产品创新和金融服务升级中。正把金融服务融入校园生态圈；通过设立专属的金融产品和服务，推进普惠金融进校园，传播金融知识和金融文化，提高金融防范意识，让学生远离非法“校园贷”，是为在校大学生提供真实环境下开展银行经营管理的实践平台。

- A. “校园无人银行”
- B. “我的大学，我的银行”
- C. “校园自助银行”
- D. “校园 e 银行”

多选题（25 题，25 分）

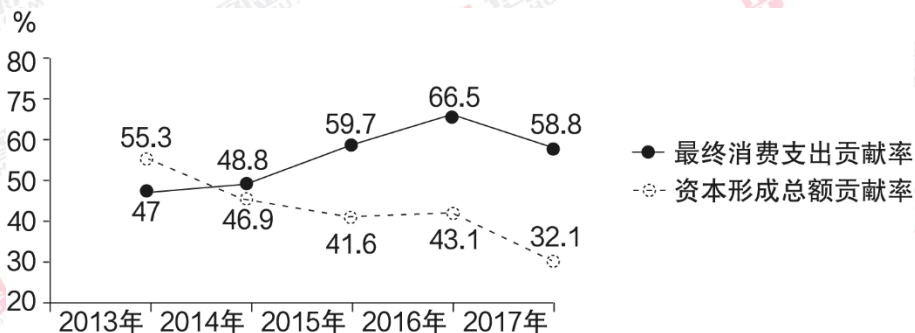
1.基尼系数是国际上通用的，用以衡量一个国家或地区居民收入分配公平程度的常用指标。以下关于基尼系数的描述，正确的有（ ）。

- A.洛伦兹曲线越凸向横轴，基尼系数越大
- B.洛伦兹曲线越凸向横轴，基尼系数越小

C.如果居民收入水平完全平均,基尼系数将等于 1

D.基尼系数越大,表示不平等程度越高

2.我国 2013-2017 年消费和投资对经济增长贡献率如下图所示。



由图可以推断出 ()。

A.经济增长逐渐由投资拉动转向消费拉动

B.消费在经济增长中的作用不断增强

C.全社会资本形成总额逐年下降

D.经济结构在逐步转型升级

3.十九大报告中,“提高全要素生产率”的提法备受关注。与以往相比,十九大报告中更加强调提高质量的增长,而全要素生产率与实现更高质量、更有效率、更加公平、更可持续的发展机密相关。以下有关经济增长的说法中正确的有 ()。

A.全要素生产率对于打破资本报酬递减,从而保持经济可持续增长具有决定性作用,通常被视为技术进步对经济发展作用的综合反映

B.进入经济高质量发展阶段的中国,必然要求实现经济增长动力从资本、土地、劳动力等生产要素投入驱动向更多依靠技术进步等效率驱动的全要素生产率提高的转换

C.全要素生产率是指在常规生产要素即土地、资本和劳动外,其他导致经济增长的要素

D.知识存量的增长、劳动力质量的提高、资本积累、技术进步、制度创新等因素是经济增长的主要动因

4.联合国将“普惠金融”定义为:一个能有效地、全方位地为社会所有阶层和群体(特别是贫困与低收入人口)提供服务的金融体系。以下对我国及建设银行发展“普惠金融”的描述中,正确的有 ()。

A.2016 年,国务院印发了《推进普惠金融发展规划(2016-2020 年)》,标志着中国普惠金融国家战略顶层设计初步完成

B.党的十八届三中全会通过《中共中央关于全面深化改革若干重大问题的决定》，正式提出“发展普惠金融”的国家性金融战略

C.2018 年，中国建设银行召开普惠金融战略启动大会，对普惠金融战略工作进行安排部署，全面推动普惠金融战略实施

D.中国普惠金融发展基本完成，不存在金融资源配置不均、金融基础设施建设有待加强等问题

5.收益曲线是指具有相同特点的金融资产的利率曲线,这些相同特点包括()。

- A.期限
- B.利率
- C.税率结构
- D.信用风险

6.近年来，在经济建设领域，我国坚持稳中求进的工作总基调，坚持实施积极的财政政策和稳健的货币政策，着力创新和完善宏观调控，着眼“放水养鱼”、增强后劲。以下哪些属于积极的财政政策的具体措施？()

- A.实行结构性减税
- B.降低存款准备金率
- C.提高存贷款利率
- D.增加财政支出

7.《银行业金融机构全面风险管理指引》适用于在我国境内依法设立的银行业金融机构。以下对于银行业金融机构的全面风险管理认识错误的有()。

- A.银行业金融机构应当建立全面风险管理体系,采取定性和定量相结合的方法,识别、计量、评估、监测、报告、控制或缓释所承担的各类风险
- B.银行业金融机构应当制定书面的风险偏好,做到定性指标和定量指标并重,每 4 年对风险偏好进行一次评估
- C.银行业金融机构的全面风险管理体系应当考虑风险之间的关联性,评估各类风险之间的相互影响,防范跨境、跨业风险
- D.各类风险包括市场风险、流动性风险、国别风险、声誉风险、战略风险、信息科技风险

8. 商业银行财务管理目标是银行采用财务管理行为所要达到的目标, 在不同外部环境、不同发展阶段, 商业银行财务管理目标会有所差异。以下对商业银行财务管理目标描述正确的有 ()。

- A. 利润最大化目标更像是一种事后评价, 缺少对银行未来发展的关注
- B. 股东价值最大化目标往往欠缺对除股东以外的客户、监管方等利益的考虑
- C. 商业银行财务管理目标主要包括利润最大化、股东价值最大化、和银行价值最大化等
- D. 商业银行财务管理的目标会有所差异, 但都以“最小化”作为驱动力

9. 中国建设银行作为系统重要性银行之一, 对于我国货币政策的贯彻落实有着至关重要的作用。下列选项中, 对货币需求的一般概念理解正确的有 ()。

- A. 指在特定时间内为社会经济服务的货币总量, 包括现金和存款
- B. 指个人、企业和单位对货币进行流通、支付或价值贮存手段的需求
- C. 是指商品流通或商品交换对货币的需求
- D. 是一国货币供给量的形成机制、运行机制和调控机制等的综合

10. 商业银行财务预算管理是涉及到全方位、全过程、和全员的一种管理机制, 被视为商业银行的一种公司治理机制或者管理理念。以下关于商业银行财务预算的描述正确的是 ()。

- A. 商业银行战略的有效实施需要财务预算的有力支撑
- B. 商业银行财务预算具有现实性、可操作性、和短期性等特点
- C. 没有定位银行战略时, 财务预算也可以设定预算目标
- D. 商业银行的财务战略决策应该是以银行预算为基础

X 公司是一家白色家电生产和销售公司, 总部在上海, 产品销往全国各地。在上海、北京、辽宁、山西、江苏、浙江、湖北、广东等地均设有分支机构, 假定各分支机构间没有内部交易。上海分支机构的相关信息如下:

项目	营业收入	利息收入	管理费用	销售费用	营业成本	投资收益	营业外收入
金额	20000	4000	1000	600	6000	7000	400

11. X 公司在编制会计报表时, 下列不应在上海分支机构的分部收入进行披露得有 ()。

- A. 营业收入 20000 万元
- B. 利息收入 4000 万元

C.投资收益 7000 万元

D.营业外收入 400 万元

12. X 公司发生的下列交易事项中,属于关联交易的有()。

A. X 公司为其联营企业代为偿还应付账款,且该账款预计不会再收回

B. X 公司为其子公司的贷款提供担保

C. X 公司将产品销售给子公司

D. X 公司从子公司购买一批存货

13. X 公司在编制财务报告时,下列信息不应作为会计政策在报表附注中披露的有()。

A.采用移动加权平均法作为存货的发出计量方法

B.对其投资性房地产采用公允价值模式进行后续计量

C.固定资产可收回金额的计算根据公允价值减去处置费用后的净额与预计未来现金流量价值孰高确定

D.对其持有的固定资产不动产按照 50 年计提折旧

14.大型纪录电影《厉害了,我的国》在全国各大院线上映,国产大型客机 C919 等“大国重器”在影片中悉数亮相,展现了中国的国家实力。研发 C919 大飞机的中国商用飞机有限责任公司注册资金 190 亿元,下列有关该公司的说法中,错误的有()。

A.该公司应当向股东发行股票作为出资凭证

B.该公司股东以出资额为限对公司承担责任

C.该公司可向社会公开募集股资,发起人为 2-200 人

D.该公司监事会可对公司董事和高级管理人员的工作进行监督,是决策机构

15.根据《票据法》的规定,汇票到期日前,有下列情形的,持票人可以行使追索权()。

A.承兑人或者付款人死亡、逃逸

B.承兑人或者付款人被依法宣告破产

C.汇票被拒绝承兑

D.承兑人或者付款人因违法被责令终止业务活动

16.管理技能是指组织中各级管理者运用流程、技术和知识完成管理任务的能力。下列关于管理技能的说法中,正确的有()。

A.管理层级越高,越需要制定长期计划,工作中概念技能所占的比例也就越大

- B.管理者不一定需要熟练掌握他所管理的团队的技术技能
- C.组织中较低层次的管理者只要带领下属完成工作目标即可,不需要人际技能
- D.管理技能可以通过培训、工作设计、行为管理等组织行为来发展

17.产品生命周期即一种新产品从开始进入市场到被市场淘汰的整个过程。下列关于产品生命周期各阶段营销重点的说法,正确的有()。

- A.产品介绍期的营销重点是快速占领市场
- B.产品成长期的营销重点是强化品牌忠诚度
- C.产品成熟期的营销重点是防止竞争者进入
- D.产品衰退期的营销特点是提高市场占有率

18.建设银行积极推动国际业务产品服务创新,将区块链等新技术与贸易金融业务有机结合,可有效实现福费廷交易在线撮合、电文和单据在线传输,极大地提升了时效性、安全性和用户体验。以下选项中属于区块链技术特征的有()。

- A.利用由自动化即本代码组成的智能合约来编程和操作数据
- B.利用分布式节点共识算法来生成和更新数据
- C.利用中心化数据思维重构金融行业底层架构
- D.利用块链式数据结构来验证与存储数据

19.以下关于过程改进的说法中,正确的有()。

A.软件过程改进的框架包括软件过程基础设施、过程改进路线图、软件过程评估方法和软件过程改进计划

- B.过程能力成熟度模型基于这样的理念:改进过程将会改进产品,尤其是软件产品
- C.软件过程改进不是一次性的,要反复进行
- D.在评估后要把发现的问题转化为软件过程改进计划

20.入侵检测系统包括()。

- A.网络入侵检测系统
- B.链路状态入侵检测系统
- C.数据包过滤入侵检测系统
- D.主机入侵检测系统

21.下列指标中属于时点指标的有()。

- A.2017年某市生产10488亿元

- B.2017 年末某市常住人口 695 万人
- C.2017 年某市城镇居民人均可支配收入 34725 元
- D.2017 年末某市共有卫生机构 859 个

22.在开展信贷业务时,要明确目标客户并进行客户画像。客户画像不仅需要文字的描述,而且需要用数据定量体现。下列属于针对大学生的校园消费贷款的客户画像标签的有()。

A.年龄一般在 18-30 岁,学历主要有大专、本科、研究生,学校有“985”、“211”和一般院校之分

- B.一般收入来源主要来自父母资助
- C.购买产品主要是电子产品,如手机、电脑等,这类商品的价格在 1000-10000 元不等
- D.该类客户对资金需求呈现短、小、频、急、散的特点

23.2018 年 5 月,中国建设银行首家“无人银行”在上海设立。以下关于“无人银行”的说法中,正确的有()。

- A.提供免费阅读服务体验
- B.提供 VR、AR 元素游戏体验
- C.是一个以智慧、共享、体验、创新为特点的全自助智慧服务平台
- D.充分运用了生物识别、语音识别、数据挖掘等最新金融科技成果

24.针对城市建设、未来运营与城市居民不同金融需求,建设银行在“善行城建”整体品牌下又推出系列品牌,为新时代城市建设与运营添砖加瓦,体现建设银行致力于新时代中国城市建设,惠及城市新老市民,共建和谐美丽新城市。这些系列品包括()。

- A.“服务益城”
- B.“融智兴城”
- C.“科技造城”
- D.“融资建城”

25.建设银行致力建设美好生活,使百姓共享现代金融发展成果。2018 年,建设银行经营与创新围绕()“三大战略”展开,形成了金融科技驱动、金融理念引领、战略协同发展的势头。

- A.住房租赁
- B.零售优先

C. 金融科技

D. 普惠金融

英语 (15 题, 15 分)

Passage 1

Americans shopping for a mattress online may find the selection at Casper, a New York-based mattress startup, somewhat lacking. Unlike brick-and-mortar shops, which offer dozens of models, the startup sells just three. And yet Casper's customers are spoiled for choice at the till. Those who cannot afford to pay with a debit or credit card, or Pay Pal, can pay by instalments over six to 12 months. Those who make payments on time can enjoy the service free.

Such "point-of-sale" loans, which have been around for decades in one form or another, are becoming increasingly popular in America. Consumers who might previously have financed big-ticket purchases such as furniture, electronics or home-improvement projects with a credit card are now opting to borrow at the checkout, often with an initial 0% interest rate. These short-term credit products were once the domain of big banks like Wells Fargo, which finances consumer purchases, and Synchrony Financial, an issuer of store-branded credit cards. Now tech startups are entering the market with innovative techniques for underwriting and approving potential borrowers, often in seconds.

Some new entrants offer credit mainly through online merchants. Many target affluent youngsters with simple borrowing terms and partnerships with high-end brands. Affirm, an online lender based in San Francisco, was founded by Max Levchin, who co-founded Pay Pal. It has agreements with 1,500 online retailers, including Nest, which sells smart thermostats, and Peloton, which sells internet-connected exercise bikes.

Affirm's loans, which typically range from \$500 to \$5,000, tend to carry higher interest rates than traditional credit cards. But the firm says borrowers end up paying less because they are not subject to hidden fees or compound interest, and have a set pay-off date. Its figures suggest that merchants using the service see revenue increase by 7-12% thanks to shopping baskets that are bigger and less likely to be abandoned before check out is complete.

Other lenders partner with brick-and-mortar sellers. Greensky, an Atlanta-based lender founded in 2006, arranges financing for home improvements, elective medical procedures and

other pricey items. Rather than lend the money, it matches merchants like Home Depot with banks like Suntrust and Regions Financial to finance their loans. Loans are arranged face-to-face by the retailer or contractor making the sale, cutting the risk of fraud. Greensky, which makes money by charging fees to both merchants and banks, earned \$326m in revenue and \$139m in net income in 2017. It went public in May and is now valued at \$3.5bn, making it America's fourth most valuable fintech company.

Investor enthusiasm for online lenders can be fickle, however. Lendingclub and Ondeck Capital, two lenders that went public in 2014 promising to shake up the banking industry, have struggled with high sales-and-marketing costs, and difficulty finding cheap and stable funding for loans. Since its initial public offering, Lendingclub's share price has fallen by 82%; Ondeck's has dropped 76%. Neither company turned a profit in 2017. Greensky, which bills itself as a technology company rather than a lender, hopes to fare better by partnering with traditional banks rather than trying to beat them at their own game. That may not be as striking as the strategy of other fintech startups. But it has the advantage that it is already profitable.

1. Why did the author mention Casper, the mattress startup at the beginning of the passage?
().

- A. To compare the mattress models provided at online shops and brick-and-mortar shops
- B. To explain why the customers cannot afford the mattress at brick-and-mortar shops
- C. To illustrate why customers are usually upset at the till
- D. To give an example of instalment loans

2. Which of the following statements is true? ().

- A. Customers always used a credit card instead of debit card in the past
- B. Traditional banks also provide short-term credit products
- C. The customers pay by the instalment loans without interest
- D. It usually takes tech startups several days to assess a potential borrower

3. According to the passage, which of the following is NOT true about Affirm? ().

- A. Nestand Peloton have partnerships with Affirm in terms of credit services.
- B. Affirm's loans cost the users more fees than credit cards
- C. Most of Affirm's partners are online retailers

D. Affirm does not charge customers compound interest

4. Lendingclub and Ondeck Capital ().

A. have difficulty in reducing the costs

B. are both profitable in 2017.

C. are two tech startups which shook up the banking industry in 2014

D. enjoy higher share price this year.

5. What is the author's attitude towards Greensky in the passage? ().

A. Uncertain

B. Critical

C. Supportive

D. Indifferent

Passage 2

Jeez, Europe, what more do you need? Great universities. Fantastic transit systems. More than twice the population of the U.S. The finest cars, watches. wine. beer OK the Americans do better beer now, but still So many glorious advantages. And yet Europe, as ever, continues its reign as the globe's consumer-tech underachiever.

The heyday of Nokia Corp. and Ericsson AB is a distant memory, and Europe doesn't have anything remotely comparable to Apple, Amazon, Alphabet, Microsoft, or Facebook, or Alibaba or Tencent, companies with market values ranging from \$100 billion to \$1 trillion and counting. with apologies to Stefon, Europe's hottest tech business is Spotify (\$34 billion); the only one into nine figures is SAP(\$1 40 billion), the German maker of the world's most boring business software.

The good news for Euro startups is that thee got their best chance In a long while something themselves, China's champions are struggling to expand in markets for which they haven't adequately tailored their services And Silicon Valley is two years into a string of unforced errors: fake news. On Aug. 13 the Associated Press reported the latest outrage Google has been tracking app users' locations and storing that data even if users change their privacy settings to forbid it from tracking their location activity. Facebook Inc. and Google are persuasively if unintentionally making the case that the world needs alternative visions of the future-all Europe needs to do is

find some. Over the past few years, Europe has brought in the kind of money it used to lack, worn down some barriers to regional expansion, and built a handful of startup hubs in its national capitals. Europe's tech ecosystem has the talent, ambition, and velocity to produce companies of comparable scale to the Facebooks and Ubers of the world, " says Manish Madhvani, managing partner of GP Bullhound LLP, a tech-focused investment adviser. And still, many of the continent's best efforts keep laming out or selling out too early. It's worth taking a tour through this lovely land of walkable cities and missed business opportunities to figure out what's gone wrong, and what may finally be right.

Europe is also no stranger to unforced errors. London, its largest financial and technology hub, has unsurprisingly been one of the best places on Earth to start a financial tech company. In the U.S. companies have to contend with each state's banking and insurance regulators, and laws may vary widely. A company regulated by since January, any EU citizen who wants to try the services of a financial startup can demand that his existing bank share his account data with the upstart. But, you know, Brexit If the U.K. leaves the EU next year. that British leg up will vanish.

6. What can we infer from the first paragraph? ().
- A. Europe could have done better in the tech field
 - B. Universities and transit systems are the advantages of Europe
 - C. The best cars, watches and wine are in Europe
 - D. Population is a weakness of Europe
7. The good news for Euro startups is that these got their best chance in a good, long while to make something of themselves. What is not the "chance" for Europe? ().
- A. Europe has found the money it needs and removed some barriers
 - B. Brexit gives Europe another advantage to develop tech industry
 - C. The Silicon Valley is involved in a series of negative news
 - D. The tech companies of China still need time to adapt to the local markets
8. The example of Google in the third paragraph is cited to explain that ().
- A. Google is no longer the pride of Americans
 - B. users are not satisfied with Google.
 - C. it is a chance for Europe to build an alternative tech giant.

D. Google has invaded its users' privacy

9. According to the passage, why does Europe not have tech giants like Apple or Facebook?

().

A. The passage does not tell

B. Because Europe rests on its Laurels

C. Because America has a Silicon Valley while Europe does not

D. Because Europe does not have the business environment for tech companies

10. Which one of the following statements is true? ().

A London is much better than any other cities to build a financial tech company.

B. Companies in EU face more complicated regulations than their American counterparts do

C. Europe has the tech ecosystem to build businesses comparable to the Facebook

D. The hottest tech business in Europe is SAP with nine figures

Passage 3

Investors, unnerved by inflationary pressure and the wide current account deficit, took further fright following a dispute between Donald Trump, the US president, and Recep Tayyip Erdogan, his Turkish counterpart. Mr. Trump imposed sanctions on two Turkish ministers and raised tariffs on imports of Turkish steel and aluminium in an attempt to press Ankara to release an American pastor. Mr. Erdogan has refused to back down in the face of what he has called a US economic war against Turkey. He has repeated his opposition to high interest rates, which he has termed "the mother and father of all evil" and has argued are a cause of high inflation rather than a potential cure. Turkey's central bank stunned investors by refusing to raise rates even as the lira lost nearly a quarter of its value against the dollar in August alone.

The falling currency has turned the screws on Turkish companies. Some are laden with debt in dollars or euros that are becoming more expensive to service. Others are struggling with the rising costs of imported materials and energy or rent payments indexed to the dollar. On Saturday, a Turkish shoe retailer announced that it was having cash flow problems because of exchange rate pressures. Hotic, which has 150 branches in Turkey and employs close to 900 people, said a commercial court would oversee an agreement with its creditors while debt restructuring took place. The previous day, Derindere, a vehicle rental company, said it had failed to redeem a

TL50m corporate bond that was due to mature on that day. It cited cash flow problems caused by "economic developments". The company, which had a fleet of 36,000 vehicles and a market share of 10 per cent at the end of 2017, said discussions with the banks were continuing to "ensure that our cash flow is returned to a healthy structure."

Signs of corporate distress will stoke concerns about the ability of Turkey's banks to withstand a rise in bad debts. The sector were given a major overhaul after a financial crisis in 2000 and 2001 and the banks, but their capital adequacy ratios have been eroded by the falling lira. Low domestic savings rates mean that Turkish banks are heavily reliant on foreign funding. Last week, the rating agency Moody's downgraded 18 banks because of concerns about their ability to refinance.

11. What is the best title of the passage? ().

A. The economic war between America and Turkey.

B. Inflation data-the next flashpoint for lira.

C. Economic crisis in Turkey gives rise to social unrest.

D. Turkey braced for turmoil as inflation rises.

12. The devaluation of Turkey's currency leads to ().

A. a dispute between Mr Trump and Mr Erdogan.

B. an increase of interest rates.

C. inflow of the hot money to Turkey.

D. cash flow constraints and debt default of Turkish companies.

13. which of the following is not the problem Turkish companies face? ().

A. Hotic faces cash flow problems and will go through debt restructuring.

B. Falling currency makes the imported materials cheaper.

C. The rent payment indexed to dollar will be much lower.

D. Banks refuse to give loans to Derindere because of its default.

14. According to the passage, which one of the following statements is false? ().

A. What unsettled the investors most is the current account deficit.

B. Turkish exports of steel and aluminum to America faces higher tariffs.

C. Turkish government refused to raise interest rates in the face of inflation

D. The Turkish government failed to control its inflation rate.

15. What does the last paragraph indicate? ().

A. Turkish banks will rely on foreign funding rather than domestic savings.

B. The banking sector in Turkey will finally come through the difficulties.

C. Turkish banks might face a crisis.

D. All the rating agencies are pessimistic about Turkish banks.



【扫码进群获取更多笔试指导】