

# 2018建设银行春季校园招聘 笔试考题解析



关注公众号

及时获取2020银行春招资讯



好老师 好课程 好服务

## 2018.04.22 建设银行春招考题解析

### 第一单元 (题量 65)

#### 职业基本知识测试-单项选择题 (共 40 个小题)

1. 下列程序设计语言中, 属于面向过程的是 ( )。

- A. Java
- B. C 语言
- C. C++
- D. Visual Basic

【答案】B。C 语言是面向过程的程序设计语言。故 B 当选。C++、Java、Visual Basic 是一种面向对象的程序设计语言。所以 B 选项符合题意, ACD 说法不符合题意, 故答案选 B。

2. 固定资产占比是商业银行衡量中小企业客户资产规模的重要指标。信贷员小王在分析某目标客户的资产情况时发现以下情况。其中企业处置不恰当的是 ( )。

- A. 特定固定资产弃置费用的现值, 企业计入该资产的成本
- B. 融资租入固定资产发生的费用化后续支付, 企业计入当期损益
- C. 未投入使用的固定资产, 企业没有计提折旧
- D. 季节性停用的机械设备, 企业依然计提折旧

【答案】C。特殊行业的特定固定资产, 对其进行初始计量时, 还应当考虑弃置费用, 企业应当将弃置费用的现值计入相关固定资产的成本, 同时确认相应的预计负债, A 正确; 融资租入固定资产的后续支出, 不能满足固定资产确认条件的, 按费用化的后续支出处理, 计入当期损益, B 正确; 新《企业会计准则》对于固定资产计提折旧的范围作了明确规定, 除已提足折旧仍继续使用的固定资产, 按规定单独估价作为固定资产入账的土地外, 企业对所有固定资产计提折旧, C 错误, D 正确。本题选企业处置不恰当, 故本题应选 C 项。

3. Word2010 文档的默认后缀扩展名为 ( )。

- A. .doc
- B. .exe
- C. .txt
- D. .docx

【答案】D。word 文档在 word 2007 之前的版本默认的为 doc, 在 word 2007 之后版本

默认的为 docx。题目说得是 Word2010 文档的默认后缀扩展名，所以 D 选项符合题意，A 项错误。txt 是文本文件的扩展名，C 选项不符合题意；WINDOWS 操作系统中的二进制可执行文件，分两种：一种后缀名为.com，另一种是.exe，B 选项不符合题意。所以答案选 D。

4.对某小区居民的人均收入进行调查，首先随机抽取一幢居民楼，然后对居民楼的所有住户进行调查，该调查方法是（ ）。

- A.简单随机抽样
- B.整群抽样
- C.等距抽样
- D.分层抽样

【答案】B。整群抽样又称聚类抽样(Cluster Sampling)，是将总体中各单位归并成若干个互不交叉、互不重复的集合，称之为群；然后以群为抽样单位进行单纯随机抽样抽取个体的一种抽样方式。题目中先从小区随机抽取一幢居民楼，然后对居民楼的所有住户进行调查，符合整群抽样，B 项符合题意；A 项指从总体 N 个单位中任意抽取 n 个单位作为样本，使每个可能的样本被抽中的概率相等的一种抽样方式。假如是随机抽取小区内一定数量的住户进行调查，该调查方法是简单随机抽样，A 项不符合题意；C 项也叫机械抽样或系统抽样。是将总体各单位按一定标志或次序排列成为图形或一览表式(也就是通常所说的排队)，然后按相等的距离或间隔抽取样本单位，C 项不符合题意；D 项分层抽样是将抽样单位按某种特征或某种规则划分为不同的层，然后从不同的层中独立，随机地抽取样本，D 项不符合题意；故答案选 B。

5.数据库系统，将计算机科学和人类理解认知的数据管理方式衔接在一起，从上世纪五十年代开始就影响并改变世界。常用的主要有 Oracle、MySQL、DB2 等。下列关于数据库系统的说法，正确的是（ ）。

(1) 数据库系统可以采用 C/S 体系结构。Client 负责显示用户界面信息、访问数据库服务器，Server 则用于提供数据服务。

(2) 数据库结构包括外模式、模式、内模式。其中，一个数据库只能有一个模式。而外模式和内模式可以有一个或多个。

(3) MySQL 和 Oracle 的区别在于 MySQL 开源，可以免费使用，可以阅读源码和内部结构，使得技术人员可以更广泛的交流。

(4)数据库中有两张表，学员表 S(SNO, SNAME)和英语成绩单 SG(SNAME, GRADE)，



用 SQL 语言找出成绩高于 80 分且不超过 90 分学生的学号: SELECT SNO FROM G, SG  
WHERE S.SNAME=SG.GRADE AND GRADE>80 AND GRADE <=90

- A. (2) (3)
- B. (1) (3)
- C. (1) (2) (4)
- D. (1) (2) (3) (4)

【答案】B。选项(1)说法正确;选项(2)关于数据库领域公认的标准结构是三级模式结构,它包括外模式、模式和内模式。在一个数据库系统中,只有唯一的数据库,因而作为定义、描述数据库存储结构的内模式和定义、描述数据库逻辑结构的模式,也是惟一的,但建立在数据库系统之上的应用则是非常广泛、多样的,所以对应的外模式不是惟一的,也不可能是惟一的。所以选项(2)说法错误,ACD 直接排除。MySQL 是开源数据库,提供的接口支持多种语言连接操作。MySQL 的核心程序采用完全的多线程编程。线程是轻量级的进程,它可以灵活地为用户提供服务,而不过多的系统资源。所以选项(3)说法正确;选项(4)说法错误。故答案选 B。

6.美国营销学者杰罗姆麦卡锡将诸多市场营销因素概括为产品、定价、分销和促销,即“4P”策略,某商业银行推出“扫码支付立减 10 元”,属于( )策略。

- A.产品
- B.定价
- C.分销
- D.促销

【答案】D。促销组合是指企业利用各种信息载体与目标市场进行沟通的传播活动,包括广告、人员推销、营业推广与公共关系等,故 D 项正确;产品策略,即指企业制定经营战略时,首先要明确企业能提供什么样的产品和服务去满足消费者的要求,也就是要解决产品策略问题,主要包括商标、品牌、包装、产品定位、产品组合、产品生命周期等方面的具体实施策略,故 A 项错误;定价策略,市场营销组合中一个十分关键的组成部分,企业定价的目标是促进销售,获取利润,这要求企业既要考虑成本的补偿,又要考虑消费者对价格的接受能力,从而使定价策略具有买卖双方双向决策的特征,此外,价格还是市场营销组合中最灵活的因素,它可以对市场作出灵敏的反映,故 B 项错误;分销策略是市场营销组合策略之一,分销渠道是指某种货物和劳务从生产者向消费者移动时取得这种货物和劳务的

所有权或帮助转移其所有权的所有企业和个人，故 C 项错误。所以答案选 D。

7.由国际知名专业财经杂志《环球金融》(GlobalFinance)组织的2017年“全球最佳财资与现金管理银行与供应商”评选中。中国建设银行以卓越的表现荣获亚太区最佳流动性管理银行奖。以下关于流动性管理的说法不正确的是( )。

- A.流动性风险管理水平最能体现商业银行整体经营管理水平
- B.我国商业银行法规定，商业银行的流动性比例应当不低于25%
- C.流动性风险管理只需要考虑流动性风险一个因素
- D.流动性风险的成因较为复杂

【答案】C。流动性风险与信用风险、市场风险和操作风险相比，形成的原因更加复杂和广泛，通常被视为一种综合性风险。流动性风险的产生除了因为商业银行的流动性计划可能不完善之外，信用、市场、操作等风险领域的管理缺陷同样会导致商业银行的流动性不足，甚至引发风险扩散，造成整个金融系统出现流动性困难。因此，流动性风险管理除了应当做好流动性安排之外，还应当有效管理其他各类主要风险，流动性风险水平体现了商业银行的整体经营状况。选项 C 说法不正确，应选择，选项 AD 说法正确。我国商业银行法规定，商业银行的流动性比例应当不低于 25%，选项 B 说法正确。本题选说法不正确选项，所本题应选 C。

8.根据《中华人民共和国票据法》规定，下列说法正确的是( )。

- A.汇票上未记载付款日期的，为见票即付
- B.持票人对支票出票人的权利，自出票日起一年
- C.票据上有伪造、变造的签章的，票据无效
- D.票据金额、日期不得更改，其他记载事项，原记载人可以更改，更改时应当由原记载人签章证明

【答案】A。汇票上未记载付款日期的，为见票即付。汇票上未记载付款地的，付款人的营业场所、住所或者经常居住地为付款地。汇票上未记载出票地的，出票人的营业场所为出票地，选项 A 正确。持票人对支票出票人的权力，自出票日起 6 个月，选项 B 错误。我国《票据法》第十四条，票据上的记载事项应当真实，不得伪造、变造。伪造、变造票据上的签章和其他记载事项的，应当承担法律责任。票据上有伪造、变造的签章的，不影响票据上其他真实签章的效力。票据上其他记载事项被变造的，在变造之前签章的人，对原记载事项负责；在变造之后签章的人，对变造之后的记载事项负责；不能辨别是在票据被变造之前

或者之后签章的，视同在变造之前签章，选项 C 错误。票据和结算凭证的金额、出票或者签发日期、收款人名称不得更改，更改的票据无效；更改的结算凭证，银行不予受理。对票据和结算凭证上的其他记载事项(如用途)，原记载人可以更改，更改时应当由原记载人在更改处签章证明，选项 D 错误。故本题应选 A 项。

9. 以下属于逻辑结构的是 ( )。

- A. 单链表
- B. 哈希表
- C. 有序表
- D. 顺序表

【答案】C。有序表指关键字有序的线性表，仅描述结点之间的逻辑关系，既可以链式存储也可以顺序存储。有序表中的“有序”是逻辑意义上的有序，指表中的元素按某种规则已经排好了位置。所以 C 选项符合题意。顺序表、哈希表和单链表都是存储结构，所以 ABD 排除。故答案选 C。

10. 下列关 GDP 的说法中，错误的是 ( )。

- A. GDP 收入法计算中资本折旧也应计入
- B. GDP 核算主要以法人单位作为核算单位
- C. 实际统计中，我国一般以国民经济核算体系的收入法所计算出的国内生产总值为标准
- D. 技术性衰退是指 GDP 连续两个季度同比增速为负值

【答案】C。我国核算 GDP 一般以国民经济体系中的支出法核算，故 C 项错误；收入法也叫要素支付法、要素收入法，是用要素所有者的收入也是企业生产成本来核算的 GDP，收入法对应的是社会的总供给，其核算 GDP 的公式是： $GDP = 工资 + 利息 + 利润 + 租金 + 间接税和企业转移支付 + 折旧 + 统计误差$ ，因此，GDP 收入法计算中资本折旧也应计入，故 A 项正确；GDP 核算主要以法人单位作为核算单位，在核算中依据法人单位从事的主要活动将其划分到不同的行业，分别计算各个行业的增加值，再将各行业增加值汇总得到 GDP，故 B 项正确；技术性衰退是指一个经济体以国内生产总值 (GDP) 同比增速为技术参数，当这个参数连续表现为负值时，就表明该国进入“技术性衰退”，自 2008 年全球金融危机以来，判断能否进入“技术性衰退”的标识，是连续两个季度同比增速为负值，故 D 项正确。题干选的是错误的是，所以答案选 C。

11. 下列哪种合同属于无名合同？ ( )



- A. 张某将一辆车赠与女友的赠与合同
- B. 某明星与广告公司签订的肖像权使用合同
- C. 供电房和用电方签订的供用电合同
- D. 银行与客户签订的个人住房贷款合同

【答案】C。合同法明文规定了 15 类有名合同，包括买卖合同、供用电、水、气、热力合同（B 选项）、赠与合同（A 选项）、借款合同（D 选项）、租赁合同、融资租赁合同、承揽合同、建设工程合同、运输合同、技术合同、保管合同、仓储合同、委托合同、行纪合同及居间合同，选项 ABD 都属于有名合同，故本题应选 C 项。

12. 利率的期限结构，即零息债券的到期收益率与期限的关系可以用一条曲线来表示，如水平线、向上倾斜和向下倾斜的曲线。甚至还可能出现更复杂的收益率曲线。是债券定价的主要参考因素。以下关于利率期限结构理论说法正确的是（ ）。

- A. 预期理论认为长期利率与短期利率之间的关系取决于即期利率的变化
- B. 市场分割理论认为，在债券定价中，流动性偏好导致了价格的差别
- C. 流动性偏好理论认为，利率的期限结构是由不同市场的均衡利率决定的
- D. 利率期限结构的三种理论来看，利率期限结构的形成主要是由对未来利率变化方向的预期来决定的

【答案】D。利率期限结构的三种理论来看，利率期限结构的形成主要是由对未来利率变化方向的预期来的，选项 D 正确。预期理论认为，长期债券的现期利率是短期债券的预期利率的函数，长期利率与短期利率之间的关系取决于现期短期利率与未来预期短期利率之间的关系，而不是即期利率的变化，选项 A 错误。选项 B 应为流动性偏好理论的解释，错误，选项 C 应为市场分割理论的解释，错误。故本题应选 D。

13. 2017 年，中国建设银行通过进一步深化银税合作，将涉税信息纳入“小微快贷”大数据体系，推出“小微快贷”子产品、“税易贷”线上版本（ ）。为小微企业提供了更加便捷、有效的信贷支持。

- A. “税费贷”
- B. “银税贷”
- C. “税贷通”
- D. “云税贷”

【答案】D。2017 年，中国建设银行通过进一步深化银税合作，将涉税信息纳入“小微

快贷”大数据体系，推出“小微快贷”子产品、“税易贷”线上版本——“云税贷”。所以 D 选项符合题意，ABC 说法不符合题意，故答案选 D。

14.在美国加州丘珀蒂诺市举行的苹果果新产品发布会上。苹果公司首席执行官蒂姆库克介绍新推出的全面屏苹果手机 iPhone X，生产 iPhone X 手机的苹果公司是生产全面屏 Note8 手机的三星公司的（ ）。

- A.愿望竞争者
- B.品牌竞争者
- C.产品形式竞争者
- D.一般竞争者（属类竞争者）

【答案】C。产品形式竞争者是指满足消费者某种愿望的同类商品在质量、价格上的竞争者，比如电视机中的背投电视机与等离子电视机之间的竞争，因此，生产 iPhone X 手机的苹果公司是生产全面屏 Note8 手机的三星公司的产品形式竞争者，故 C 项正确；愿望竞争者是指满足消费者目前各种愿望的竞争者，比如消费者想要出去旅游，又想买家具，那么旅游公司与家具公司之间的竞争就属于愿望竞争者，故 A 项错误；品牌竞争是指满足相同需求的、规格和型号等相同的同类产品的不同品牌之间在质量、特色、服务、外观等方面所展开的竞争，因此，当其他企业以相似的价格向同一顾客群提供类似产品与服务时，营销者将其视为竞争者，故 B 项错误；一般竞争者：指以不同的方法满足消费者同一需要的竞争者，故 D 项错误。所以答案选 C。

15.下列属于经常性支出的是（ ）。

- A.支付债务利息
- B.基本建设投资
- C.国家储备支出
- D.购置交通工具支出

【答案】A。在企业的经营活动中，供长期使用的、其经济寿命将经历许多会计期间的资产如：固定资产、无形资产、递延资产等都要作为资本性支出.所以 B、C、D 均属资本性支出。故本题应选 A 项。

16.企业融资来源日益多元化，债权人差异大，分析企业负债来源结构，可以判断其负债的稳定性和融资成本情况。以下企业负债，从稳定性来看，从高到低依次为（ ）。

- A.股东借款-理财产品-企业长期债券-银行贷款-应付账款等商业信用-民间借贷



- B. 股东借款-银行贷款-理财产品-企业长期债券-应付账款等商业信用-民间借款
- C. 股东借款-理财产品-银行贷款-企业长期债券-应付账款等商业信用-民间借款
- D. 股东借款-企业长期债券-银行贷款-理财产品-应付账款等商业信用-民间借款

【答案】D。四个选项的区别主要在于判断理财产品-企业长期债券-银行贷款的稳定性，从稳定性来看，直接筹资稳定性高于间接筹资，故三者中企业长期债券是直接融资的，理财产品和银行贷款是间接融资，企业长期债券稳定性是大于理财产品和银行贷款，排除 ABC，故本题应选 D 项。

17. 某企业员工中男性占 60%，管理人员占 20%，现在从该企业中任选一人，为女员工或管理人员的概率是（ ）。

- A. 0.52
- B. 0.60
- C. 0.68
- D. 0.8

【答案】B。女员工占  $1-60%=40%$ ，则女员工或管理人员共占比  $40%+20%=60%$ ，因此概率为 0.60。B 选项正确，A、C、D 选项错误。故本题应选 B。

18. 国内高精尖工业设备制造行业大多数都具备高水准的技术设备，以及一流的研究条件，通过独特的激励手段，还能使具备精湛技术及职业素养的“德艺双馨”之才积极努力的工作。调动整个生产线的效率。从管理学“双因素理论”角度，该行业这种积极高效工作氛围背后的秘诀是（ ）。

- A. 合理的工作流程可以让员工顺利的完成任务，人性化的工作理念可以满足员工的个性化需求
- B. 满足员工对工资水平和福利待遇的基本期望
- C. 为每位员工配备工作所需的技术设备和辅助工具
- D. 融洽和睦让人舒适的人际关系

【答案】A。双因素理论，又叫“激励—保健因素”理论，其中激励因素指的是使人们感到满意的因素往往和工作本身的特点和工作内容有关，如工作本身的挑战性、工作上的成就感、工作得到认可和赞扬、对未来发展的期望、职务上的责任感等，这类因素能对人的工作的积极性产生激励，称之为激励因素，包括成就、认可、工作自身、责任感、发展、成长等，合理的工作流程和人性化的工作理念能够激发员工的积极性，这是工作本身带来的，故

A 项正确；保健因素主要是企业政策和行政管理、监督、与主管的关系、工作条件、薪水、与同级的关系、与下级的关系、个人生活、地位、安全等，保健因素的改善只能消除不满，不能使职工满意，不能激发工作积极性，BCD 均属于保健因素，故 BCD 错误。所以答案选 A。

19.完全竞争企业面临的需求曲线的需求价格弹性为（ ）。

- A.大于零的常数
- B.非零常数
- C.无限大
- D.零

【答案】C。完全竞争市场上供求者无穷多，单个企业是价格的接受者，价格一旦提高，将失去所有的客户，因而其需求曲线为一条水平线，需求价格弹性无穷大，故 C 项正确；ABD 错误。所以答案选 C。

20.下列关于财政收入的说法中，错误的是（ ）。

- A.收入规模过小，影响政府职能的实现
- B.收入规模过大，影响市场机制的良性循环
- C.国债收入不属于财政收入
- D.财政收入表现为政府部门在一定时期内（一般为一个财政年度）所取得的货币收入

【答案】C。财政收入表现为政府部门在一定时期内（一般为一个财政年度）所取得的货币收入，包括税收收入、国有资产收益、国债收入和收费收入以及其他收入等，故 D 项正确，C 项错误；事实上，无论财政收入规模过大还是过小，都会影响经济与社会的健康发展，财政收入规模过大，会加重社会经济负担，拖累社会经济发展；财政收入规模过小，又会加剧财政收支矛盾，影响政府机构的正常运转和政府职能的实现，难以满足社会公共需要，同样是对经济与社会发展的损害，故 AB 正确。题干选的是错误的是，所以答案选 C。

21.非货币资产交换具有商业实质且公允价值能够可靠地计量的，在发生补价的情况下，支付补价方应当以换出资产的公允价值加上支付的补价和应支付的相关税费，作为换入资产的成本；收到补价方，应当以换入资产的公允价值和应支付的相关税费，作为换入资产的成本。下列关于换出资产公允价值与其账面价值差额的会计处理正确的是（ ）。

- A.换出资产为存货的，应当以换出资产公允价值和其账面价值的差额计入营业外收入或营业外支出

- B.换出资产为长期股权投资的，换出资产公允价值和账面价值的差额应计入投资收益
- C.换出资产为固定资产的，换出资产公允价值和账面价值的差额应计入投资收益
- D.换出资产为无形资产的，应当作为销售处理，以其公允价值确认收入，同时结转相应成本

【答案】B。换出资产为存货的，应当作为销售处理，以其公允价值确认收入，同时结转相应的成本，A 错误；换出资产为长期股权投资、金融资产的，换出资产公允价值与其账面价值的差额，记入“投资收益”科目，B 正确；换出资产为固定资产、无形资产的，换出资产公允价值与换出资产账面价值的差额，计入营业外收入或营业外支出，C、D 错误。故本题应选 B 项。

22.A 公司和 B 公司是生产同类产品的竞争对手，随着双方生产技术的变化。A 公司发展越来越好，B 公司则业绩惨淡，A 公司的高层为了扩展业务，决定收购 B 公司。A 公司发展业务的方式属于（ ）。

- A.扩散增长
- B.一体化增长
- C.密集增长
- D.多元化增长

【答案】B。一体化增长是指企业利用自己在产品、技术和市场上的优势，向企业外部扩展的战略，分为三种形式：后向一体化，前向一体化，水平一体化（也叫横向一体化），其中横向一体化是指获得竞争对手的所有权，或者加强对其控制，包括收购，兼并和接管，故 B 项正确；业务发展的方式不包括扩散增长，故 A 项错误；密集性增长战略是指企业以快于过去速度来增加某个组织现有产品或劳务的销售额、利润额以及市场占有率，故 C 项错误；多元化增长是指企业尽量增加产品种类，跨行业生产经营多种产品和业务，扩大企业的生产范围和市场范围，使企业的特长充分发挥，使企业的人力、物力、财力等资源得到充分利用，从而提高经营效益，故 D 项错误。所以答案选 B。

23.小张受命担任公司技术部门负责人，他发现部门某员工在没有事先请假的情况下连续缺席部门例会，既不道歉也不解释，迟到早退更是家常便饭，小张安排他完成的调研报告也是一拖再拖。作为部门领导，小张应当（ ）。

- A.明确告诉他遵守工作纪律，并严密监督他完成调研报告
- B.和他讨论为什么缺席例会、迟到早退，并对他完成调研报告给予鼓励



- C.强调何时该交来调研报告，并对他的努力给予支持
- D.认定他最终会完成调研报告交过来

【答案】A。X 理论认为，一般人天生好逸恶劳，只要有可能，就会逃避工作；人生来就以自我为中心，漠视组织的要求；一般人缺乏进取心，逃避责任，甘愿听从指挥，安于现状，没有创造性；人们通常容易受骗，易受人煽动，持 X 理论观的管理者在管理工作中对员工采用强制、惩罚、解雇等手段来迫使他们工作，故 A 项正确；BCD 错误。所以答案选 A。

24.X 公司与 2016 年 2 月 18 日召开公司董事会。董事会制定的利润分配方案如下：2015 年实现净利润 29145 万元，按 2015 年实现净利润的 10%提取法定盈余公积，分派普通股现金股利 10000 万元。根据新准则的规定，资产负债表日后，企业利润分配方案中拟分配的以及经审议批准宣告发放的股利或利润，应当（ ）。

- A.调整资产负债表日的财务报表
- B.属于资产负债表日后调整事项
- C.不确认为资产负债表日负债
- D.无需在财务报表附注中加以单独披露

【答案】C。资产负债表日后非调整事项包括：1.资产负债表日后发生重大诉讼、仲裁、承诺；2.资产负债表日后资产价格、税收政策、外汇汇率发生重大变化；3.资产负债表日后因自然灾害导致资产发生重大损失；4.资产负债表日后发行股票和债券以及其他巨额举债；5.资产负债表日后资本公积转增资本；6.资产负债表日后发生巨额亏损；7.资产负债表日后发生企业合并或处置子公司；8.资产负债表日后，企业利润分配方案中拟分配的以及经审议批准宣告发放的股利或利润。该事项属于资产负债表日后非调整事项，需要披露，排除 ABD。故本题应选 C 项。

25.日本“尿布大王”多川博让自己的员工假扮成客户，排成长队购买自己生产的尿布，营造了一种尿布旺销的热闹氛围，吸引了很多真正的客户前来排队。销量大幅提高，多川博抓住客户的心理特点制造了（ ）。

- A.牛群效应
- B.马群效应
- C.狼群效应
- D.羊群效应

【答案】D。“羊群效应”也叫“从众效应”，是个人的观念或行为由于真实的或想象的群体的影响或压力，而向与多数人相一致的方向变化的现象，“羊群效应”就是比喻人都有一种从众心理，从众心理很容易导致盲从，而盲从往往会陷入骗局或遭到失败，故 D 项正确；牛群效应是指通过提出“与对方公司属于同行业的几家大公司”已经采取了某种行动，从而引导对方采取同样行动的方法，故 A 项错误；狼群效应是指为了达到某种目标和愿景而组合起来的具有明确分工、默契合作、组织性强、协同作战、反应机敏、巧用策略、极富耐心、不惧失败、不达目的绝不放弃的优秀团队精神，故 C 项错误。所以答案选 D。

26.某家以向客户提供物业管理和租赁服务为主要经营业务的中外合资企业，总部下设的一级分支机构在各地均有覆盖，各地区一级分支机构下又分别设置了人事部、财务部、公关部、法务部、物业管理和租赁服务部等部门，该企业目前已签订合同的商场商铺和门店租赁用户 328 家，自用和居住型公寓套房租赁用户 205 家，商务办公写字楼租赁用户 89 家，这些均由物业管理部和租赁服务部下设置的商铺管理部、公寓管理部、商务写字楼管理部负责，结合管理学相关理论，该企业 and 主营业务部门的组织结构分别采用了哪种组织设计形式？（ ）。

- A.顾客部门化和职能部门化
- B.职能部门化和顾客部门化
- C.均为顾客部门化
- D.均为职能部门化

【答案】B。顾客部门化又称用户部门化，就是根据目标顾客的不同利益需求来划分组织的业务活动。在激烈的市场竞争中，顾客的需求导向越来越明显，企业应当在满足市场顾客需求的同时，努力创造顾客的未来需求，顾客部门化顺应了需求发展的这一趋势，职能部门化是根据业务活动的相似性来设立管理部门的过程。该企业总部下设的一级分支机构在各地均有覆盖，各地区一级分支机构下又分别设置了人事部、财务部、公关部、法务部、物业管理和租赁服务部等部门，这些部门是按职能部门划分的，属于职能部门化，由物业管理部和租赁服务部下设置的商铺管理部、公寓管理部、商务写字楼管理部，这些部门则是按照不同的目标顾客划分，属于顾客部门化，故 B 项正确，ACD 均错误。所以答案选 B。

27.下列哪种票据可以挂失支付？（ ）

- A.商业汇票
- B.支票

- C. 银行汇票
- D. 银行本票

【答案】B。挂失止付适用于付款人及代理付款人明确的票据。具体包括已承兑的商业汇票（排除 A 选项）、支票（B 选项）、填明现金字样的代理付款人的银行汇票（排除 C 选项）以及填明现金字样的银行汇票（排除 D 选项）。故本题应选 B 项。

28. ( ) 是中国建设银行面向全国高校在校大学生推出的集电子银行特色产品、专享优惠等优质服务为一体的产品服务。签约后即可享有 AA 收款、ATM 预约取款、手机账号支付、E+ 账户绑定和查询等适用于学生特点的电子银行服务产品，也可享受免收短信服务费、卡工本费、卡年费、小额账户管理费等优惠。

- A. 莘莘无忧
- B. 悦生活
- C. 学生惠
- D. “心”服务，新体验

【答案】C。“建行学生惠”是中国建设银行面向全国高校在校大学生推出的集电子银行特色产品、专享优惠等优质服务为一体的产品服务。签约“建行学生惠”后即可享有 AA 收款、ATM 预约取款、手机账号支付、E+ 账户绑定和查询等适用于学生特点的电子银行服务产品，也可享受免收短信服务费、卡工本费、卡年费、小额账户管理费等优惠。所以 C 选项符合题意，ABD 不符合题意，故答案选 C。

29. 中央银行是一国金融体系的重要组成部分。下列关于中央银行的描述中不正确的是 ( )。

- A. 在考虑经济政策时，中央银行与政府的侧重点相同
- B. 稳定币值是中央银行的首要任务
- C. 商业银行和各类金融机构均是中央银行的服务对象
- D. 中央银行业务的操作方式不应受到任何干扰

【答案】A。央行和政府考虑经济政策时，侧重点可以不同，因为首要目标不同，选项 A 说法错误。稳定币值是中央银行的首要任务，充分就业是政府的首要目标，选项 B 说法正确。中央银行是为政府和金融机构提供服务的特殊金融机构，选项 C 说法正确。中央银行的业务具有高度的技术性，其操作方式不应受到任何干扰，选项 D 说法正确。本题选择描述不正确选项，故本题应选 A。



30.中国人民银行于 2017 年 9 月 30 日发布消息称。根据国务院部署，央行将对普惠金融实施定向降准政策，并从 2018 年起实施。对此，以下解读错误的是（ ）。

- A.此举将有助于缓解资金的结构性问题，降低杠杆率
- B.此举有利于支持小微企业发展
- C.此举意味着央行将在未来改变稳健货币政策的总体取向
- D.此举会释放部分流动性，稳定预期

【答案】C。对普惠金融实施定向降准政策并不改变稳健货币政策的总体取向。对普惠金融实施定向降准政策建立了增加普惠金融领域贷款投放的正向激励机制，有助于促进金融资源向普惠金融倾斜，优化信贷结构，这属于一种结构性的政策。选项 C 解读错误，选项 A 解读正确。此次定向降准聚焦单户授信 500 万元以下的小微企业贷款、个体工商户和小微企业主经营性贷款，选项 B 解读正确。定向降准政策释放的流动性也是符合总量调控要求的，银行体系流动性保持基本稳定，选项 D 解读正确。本题选择解读错误选项，故本题应选为 C。

31.某面包店平时主要销售各类面包和蛋糕，但在端午节前会重点销售粽子，中秋节前会重点销售月饼，该面包店对消费者市场的细分变量主要是（ ）。

- A.待购阶段细分
- B.使用者细分
- C.时机细分
- D.利益细分

【答案】C。按消费者购买和使用产品的时机细分市场，这些时机包括结婚、离婚、购房、搬家、拆迁、入学、升学、退休、出差工、旅游、节假日等，故 C 项正确；待购阶段细分是指在任何时候，人们都处于购买的不同阶段，在市场上，有的消费者根本不知道这种产品，有的消费者知道有这种产品，有的已发生兴趣，有的想购买，有的正准备购买，按照消费者所处待购阶段细分市场后，企业就可以针对不同阶段消费者的特点，开展有针对性的营销活动，故 A 项错误；使用者细分是指根据顾客是否使用和使用程度细分市场，通常可分为：经常购买者；首次购买者；潜在购买者；非购买者。大公司往往注重将潜在使用者变为实际使用者，较小的公司则注重于保持现有使用者，并设法吸引使用竞争产品的顾客转而使用公司产品，故 B 项错误；利益细分是指消费者购买某种产品总是为了解决某类问题，满足某种需要，故 D 项错误。所以答案选 C。

32.2017 年 9 月，央行重启 28 天逆回购及超额续作中期借贷便利（MLF），关于央行

这项举措，下列说法正确的是（ ）。

- A.这是央行收紧银根的信号之一，属于紧缩性财政政策
- B.这是央行放开银根的信号之一，属于扩张性货币政策
- C.这是央行缩进银根的信号之一，属于紧缩型货币政策
- D.这是央行放开银根的信号之一，属于扩张性财政政策

【答案】B。央行逆回购为中国人民银行向一级交易商购买有价证券，并约定在未来特定日期将有价证券卖给一级交易商的交易行为，逆回购为央行向市场上投放货币的操作，会增加市场上货币供应量；央行超额续作中期借贷便利，属于放开银根的操作，属于扩张性货币政策，故 B 项正确，A 项错误；财政政策的主体是政府，不是央行，故 AD 错误。所以答案选 B。

33.以下哪项说法不是税收的作用？（ ）

- A.收入分配合理化
- B.优化资源配置
- C.弥补财政赤字
- D.调节经济运行

【答案】C。要不然由于税收具有强制性、无偿性、固定性的特征，因此税收就把财政收入建立在及时、稳定、可靠的基础之上，成为国家满足公共需要的主要财力保障，增加税收可以弥补财政赤字，但并不是主要方式，选项 C 不是税收的作用。在市场经济条件下，由市场决定的分配机制，不可避免地会拉大收入分配上的差距，客观上要求通过税收调节，缩小这种收入差距，选项 A 是税收的作用。在社会主义市场经济条件下，市场对资源配置起主导作用，但市场配置资源，也有它的局限性，可能出现市场失灵（如无法提供公共产品、外部效应、自然垄断等）。这时，就有必要通过税收保证公共产品的提供，以税收纠正外部效应，以税收配合价格调节具有自然垄断性质的企业和行业的生产，使资源配置更加有效，选项 B 是税收的作用。税收对改善国民经济结构发挥着重要作用，课有效调节经济运行，选项 D 也是税收的作用。本题选不是税收所用的，故本题应选 C。

34.2017 年，中国建设银行准确把握国家住房政策定位，借助金融的力量助推国家住房供给侧结构性改革。依托住房金融三十余年传统优势和“新一代”核心系统技术优势，在同业中率先推出（ ），取得了良好的市场和社会反响。

- A.房地产企业供应链方案

- B.长租公寓综合解决方案
- C.住房贷款综合解决方案
- D.住房租赁综合解决方案

【答案】D。2017年，建设银行准确把握国家住房政策定位，抓住住房市场租购并举发展新机遇，主动探索多渠道、市场化手段发展住房租赁业务的新模式，借助金融的力量助推国家住房供给侧结构性改革。依托住房金融三十余年传统优势和“新一代”核心系统技术优势，建设银行在同业中率先推出住房租赁综合解决方案，创新推出集五大系统于一体的住房租赁综合服务平台，积极向社会传导新时代住房消费新理念，打造“要租房 到建行”品牌形象。所以D选项符合题意，ABC说法不符合题意，故答案选D。

35.2017年9月，全国首套平均房贷利率升至5.22%，为年内第9次上涨。国家通过调节利率高低可以影响经济活动，一般来说，房贷利率增加带来的经济影响是（ ）。

- A.货币总供给增加，引起适度的通货膨胀
- B.货币总供给减少，对生产的影响不能确定
- C.扩大房市需求，经济活动水平上升
- D.抑制房市需求，尤其是房屋的投资性需求

【答案】D。房贷利率增加意味着购置房产要向银行贷款需要支付更多的利息，国家通过此举抑制房市的需求，人们对购房的投资需求也会下降，故D项正确，C项错误；在萧条时期，降低利率，扩大需求，增加货币供应量，刺激经济发展，故A项错误；在膨胀时期，提高利息率，减少需求，抑制经济的恶性发展，故B项错误。所以答案选D。

36.2012年6月，银监会发布了《商业银行资本管理办法（试行）》，按照《巴塞尔协议III》关于监管资本定义的新规定，审慎确定监管资本的构成，维护资本工具的质量。提升各类资本工具的损失吸收能力。以下关于监管资本说法错误的是（ ）。

- A.划分为核心一级资本、其他一级资本、二级资本
- B.覆盖为应对市场风险、信用风险、操作风险所需要的资本量
- C.包括经监管部门认可的债务资本和储备金
- D.对参数、押品等要求较为宽松

【答案】D。根据《商业银行资本管理办法（试行）》，监管资本对参数、押品的要求仍然较为详细和严格，选项D说法错误。商业银行总资本包括核心一级资本、其它一级资本和二级资本，选项A说法正确。商业银行风险加权资产包括信用风险加权资产、市场风



险加权资产和操作风险加权资产，选项 B 说法正确。监管资本是指从商业银行监管当局监管角度所下的定义，除了实际资本外，经监管部门认可的、可以在特殊情况下承担产权资本职责的债务资本和储备金也包含在内，选项 C 说法正确。本题选说法错误选项，故本题应选 D。

37.OSI 的中文含义是 ( )。

- A.网络通信协议
- B.数据通信与网络互连模型
- C.开放系统互联参考模型
- D.国际质量体系标准

【答案】C。OSI 是 Open System Interconnection 的缩写，意为开放式系统互联。国际标准化组织 (ISO) 制定了 OSI 模型，该模型定义了不同计算机互联的标准，是设计和描述计算机网络通信的基本框架。所以 C 选项符合题意，ABD 不符合题意，故答案选 C。

38.在其他条件不变的情况下，下列会导致期权的内在价值变大的是 ( )。

- A.股价波动率变大
- B.期权到期期限变长
- C.股票市价提升
- D.期权执行价格提高

【答案】C。期权的内在价值，也称履约价值，是指期权持有者立即行使该期权合约所赋予的权利时所能获得的收益。期权内在价值=股价-执行价格，其他条件不变，当股价提高时，内在价值变大，选项 C 正确。执行价格提高，内在价值变小，选项 D 错误。内在价值公式没有包括股价波动率，选项 A 错误。内在价值是期权立即行权产生的经济价值，所以不受时间溢价的影响，选项 B 错误。故本题应选 C。

39.某银行贷款项目评估小组在分析甲公司的基本情况时发现该公司在 2015 年 2 月 1 日为建造一栋厂房已向该银行申请 3000 万元固定资产贷款。2015 年 3 月 6 日，以该贷款支付前期订购的工程物资款。后因征地拆迁发生纠纷，该厂房延迟至 2015 年 6 月 1 日才开工兴建，开始支付其他工程款。2016 年 1 月 28 日，该厂房建造完成，达到预定可使用状态。2016 年 4 月 30 日，甲公司工程竣工决算。不考虑其他因素，甲公司该笔贷款费用的资本化期间未 ( )。

- A.2015 年 2 月 1 日至 2016 年 1 月 28 日

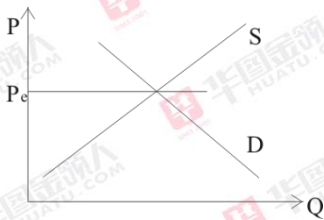
B.2015 年 3 月 6 日至 2016 年 1 月 28 日

C.2015 年 2 月 1 日至 2016 年 4 月 30 日

D.2015 年 6 月 1 日至 2016 年 1 月 28 日

【答案】D。借款费用同时满足下列条件的，才能开始资本化：(一)资产支出已经发生，资产支出包括为购建或者生产符合资本化条件的资产而以支付现金、转移非现金资产或者承担带息债务形式发生的支出；(二)借款费用已经发生；(三)为使资产达到预定可使用或者可销售状态所必要的购建或者生产活动已经开始。本题中，三个条件全部满足是发生在 2015 年 6 月 1 日，所以 2015 年 6 月 1 日为开始资本化时点，而达到预定可使用状态时停止资本化，所以资本化期间的结束时间为 2016 年 1 月 28 日。故本题应选 D 项。

40.假定某行业市场情况如下图所示，属于该行业的某企业在目前产量水平上的边际成本、平均成本和平均收益都相等，则该企业的盈利状况为（ ）。



A.该企业可以获得超额利润

B.不确定是否有最大化利润

C.没有实现利润最大化

D.只得到正常利润

【答案】D。边际成本、平均成本和平均收益即  $MC=AC=AR$  意味着完全竞争厂商的均衡点位于收支相抵点，即位于完全竞争行业的长期均衡点，根据完全竞争市场理论，此时完全竞争厂商的经济利润为零，也就是超额利润为零，即只能得到正常利润，故 D 项正确；ABC 错误。所以答案选 D。

### 职业基本知识测试-多项选择题（共 25 个小题）

1.为提高客户服务能力，减轻网点员工操作压力，2017 年中国建设银行物理渠道转型创新步伐不断加快，持续推进网点数字化及流程银行建设，受到社会各界的广泛关注。在新加坡《亚洲银行家》杂志组织的 2017 年度国际化奖项中国奖项评选中，中国建设银行荣获（ ）。

A. “中国最佳银行”

- B. “最佳中资银行”
- C. “最佳网点数字化奖”
- D. “中国最佳数字银行奖”

【答案】CD。2017 年中国建设银行物理渠道转型创新步伐不断加快，持续推进网点数字化及流程银行建设，受到社会各界的广泛关注。在新加坡《亚洲银行家》杂志组织的 2017 年度国际奖项及中国奖项评选中，建行分别荣获“最佳网点数字化奖”及“中国最佳数字银行奖”。所以答案选 CD。

2.每年的政府工作报告不仅在金融业发展机遇方面有所提示，同时也点出了行业所存在的风险。具体来看，2016 年政府工作报告着重强调打击诈骗、非法集资等违法犯罪活动。要“守住不发生系统性区域性风险的底线”；而 2017 年报告认为“当前系统性风险总体可控”。但对“不良资产”、“债券违约”、“影子银行”、“互联网金融”等累积风险要“高度警惕”。下列对于这四类风险的说法，正确的有（ ）。

- A.根据《贷款分类指导原则》，要求商业银行按风险程度将贷款划分为五类：正常、关注、次级、可疑、损失
- B.短期债券主体不能在债券到期日后 15 天内全额偿还本金和利息，认定该债券发生违约
- C.影子银行引发系统性风险的因素主要包括：期限错配、流动性转换、信用转换和高杠杆
- D.建设银行与阿里巴巴、蚂蚁金服签署战略合作协议和合作备忘录意味着传统金融让步于互联网金融

【答案】AC。《贷款分类指导原则》,要求商业银行依据借款人的实际还款能力进行贷款质量的五级分类,即按风险程度将贷款划分为五类:正常、关注、次级、可疑、损失,后三种为不良贷款,选项 A 正确。短期债券主体不能在债券到期日后 30 日内全额、偿还本金和利息,认定该债券发生违约,选项 B 错误。影子银行引发系统性风险的因素主要包括:期限错配、流动性转换、信用转换和高杠杆,选项 C 正确。建设银行与阿里巴巴、蚂蚁金服签署战略合作协议和合作备忘录意味着传统金融与互联网金融的进一步合作,而不是让步,选项 D 错误。故本题应选 AC。

3.下列关于 oracle 体系结构的叙述中，正确的有（ ）。

- A.oracle 服务器包括 oracle 数据库和 oracle 实例



- B.oracle 数据库包括日志文件和控制文件
- C.oracle 实例包括系统进程和所有用户进程
- D.oracle 数据库的表空间是物理存储单元

【答案】ABC。D 说法错误，Oracle 数据库的表空间是逻辑存储单元，而不是物理存储单元。ABC 说法正确。所以答案选 ABC。

4.近年来，中国建设银行深入学习贯彻习近平同志系列讲话精神，贯彻落实党中央国务院决策部署，着眼全局，勇于担当，切实增强“三个能力”，多项工作实现了新突破，为经济社会发展作出了新贡献，“三个能力”是指（ ）。

- A.服务国家建设能力
- B.防范金融风险能力
- C.参与国际竞争能力
- D.勇于改革创新能力

【答案】ABC。近年来，中国建设银行深入学习贯彻习近平同志系列重要讲话精神，贯彻落实党中央国务院决策部署，着眼全局，勇于担当，切实增强“三个能力”，多项工作实现了新突破，为经济社会发展作出了新贡献。这三个能力指：①服务国家建设能力明显增强。②防范金融风险能力③参与国际竞争能力。所以答案选 ABC。

5.下列关于 Java 与 C++语言的对比，正确的有（ ）。

- A.C++语言丢了指针的概念，引入了真正的数组，在一定程度上减少了不安全问题的发生
- B.Java 比 C++语言的可靠性更高
- C.Java 的所有函数和变量都是类的一部分，对象将数据和方法结合起来封装在类中，而 C++语言允许将函数和变量定义为全局的
- D.Java 也支持 C++语言中的强制类型转换

【答案】BC。Java 语言中没有指针的概念，引入了真正的数组。不同于 C++中利用指针实现的“伪数组”，Examda,Java 引入了真正的数组，同时将容易造成麻烦的指针从语言中去掉，这将有利于防止在 c++程序中常见的因为数组操作越界等指针操作而对系统数据进行非法读写带来的不安全问题，所以 A 选项错误；Java 虽然提供了安全机制，比 C++安全，故 B 项正确；Java 是完全面向对象的语言，所有函数和变量都必须是类的一部分，对象将数据和方法结合起来，把它们封装在类中，这样每个对象都可实现自己的特点和行为，而

c++允许将函数和变量定义为全局的,故 C 项正确;Java 不支持 c++中的自动强制类型转换,如果需要,必须由程序显式进行强制类型转换,所以 D 选项错误。故答案选 BC。

6.电话营销是银行网点进行老客户维护、睡眠客户激活或产品营销的重要手段,为了提升电话邀约成功率,致电前的准备工作必不可少,打电话前需要做哪些准备?( )

- A.寻找时机明确理由
- B.打磨内容训练语气
- C.先发短信引起兴趣
- D.筛选名单了解客户

【答案】ABCD。电话营销打电话前需要做的准备包括:筛选名单了解客户,先发短信引起兴趣、寻找时机明确理由,打磨内容训练语气,故 ABCD 正确。所以答案选 ABCD。

7.根据国库司公布的 2017 年 8 月份全国财政收支情况数据:8 月份,全国一半公共预算收入为 10652 亿元,同比增长 7.2%,全国一半公共预算支出为 14647 亿元,同比增长 2.9%。出现略微的财政赤字,克服财政赤字的根本途径是发展经济,增加财政收入,针对现阶段造成财政赤字和结构性原因,可以采取的措施有( )。

- A.规范财政分配关系,完善预算管理制度
- B.盘活竞争性的国有资产
- C.完善税制,加强税收征管,增加财政收入
- D.加快进行预算结构的调整,大力削减经常项目的财政支出

【答案】ABC。财政赤字是财政支出大于财政收入而形成的差额,由于会计核算中用红字处理,所以称为财政赤字。财政赤字是财政收支未能实现平衡的一种表现,是一种世界性的财政现象。针对题中所说现象,可采取规范财政分配关系的措施,故 A 项正确。且可对国有资产进行整合重新注入活力,故 B 项正确。除此之外,财政收支与税收密切相关,因此,可通过完善税制的方式调整财政赤字,故 C 选项正确。针对题中所阐述的目前出现略微的财政赤字现象,大力削减经常项目的方式不符合题意。故 D 选项错误。所以答案选 ABC 选项。

8.杨某因生意资金周转困难向吴某借款人民币 4 万元,并于借款当日向吴某出具了一张借条,双方在借条上约定了还款时间,张某作为保证人在借条上签名,还款期限届满后,杨某未能履行还款义务,下列说法正确的是( )。

- A.张某应承担连带保证责任

- B. 张某应承担一般保证责任
- C. 吴某可要求杨某或张某履行债务，张某履行债务后有权向杨某追偿
- D. 吴某要求张某履行债务时，张某享有先诉抗辩权

【答案】AC。根据《担保法》第十九条规定，当事人对保证方式没有约定或者约定不明确的，按照连带责任保证承担保证责任。连带责任保证是指当事人在保证合同中约定保证人与债务人对债务承担连带责任的保证，即当债务履行期限届满而债务人没有履行债务时，债权人既可以要求债务人履行债务，也可以要求保证人在其保证范围内承担保证责任，而不必考虑债务人是否真的没有履行能力。故 AC 正确；一般保证是指当事人在保证合同中约定，债务人不能履行债务时，由保证人承担保证责任的保证。一般保证的保证方式是保证人仅对债务人没有能力履行的部分负补充责任，即当债务履行期限届满而债务人没有按约履行债务时，债权人必须先要求债务人履行债务，只有当债务人真的没有履行能力时，才可以要求保证人承担责任。根据题干，没有约定张某承担一般保证的责任，故张某不享有先诉抗辩权，故 BD 错误。所以答案选 AC。

9. 下列属于随机现象的有 ( )。
- A. 水在标准大气压下加热到 100 摄氏度就沸腾
  - B. 某银行网点一天到访的客户数量
  - C. 掷一枚骰子出现的点数
  - D. 每日早晨太阳从东方升起

【答案】BC。随机现象，指在一定条件下，在个别试验或观察中呈现不确定性，但在大量重复试验或观察中其结果又具有一定规律性的现象，称为随机现象。从数学的角度来研究社会和自然现象可以把这些现象分为以下三类：(1) 随机现象：事前不可预言的现象，即在相同条件下重复进行试验，每次结果未必相同，或知道事物过去的状况，但未来的发展却不能完全肯定。例如：以同样的方式抛置硬币却可能出现正面向上也可能出现反面向上；走到某十字路口时，可能正好是红灯，也可能正好是绿灯。研究这类现象的数学工具是概率论和统计。故 BC 正确；(2) 确定现象，指事前可预言的现象，即在准确地重复某些条件下，它的结果总是肯定的。如：在一个标准大气压下给水加热到 100℃ 便会沸腾。比如质量守恒定律、牛顿定律反映就是这类现象。研究这类现象的数学工具有数学分析、几何、代数、微分方程等。故 AD 错误；(3) 模糊现象，指事物本身的含义不确定的现象。如：“情绪稳定”与“情绪不稳定”，“健康”与“不健康”，“年青”与“年老”。研究这类现象的数学工具是



模糊数学。本题应选 BC。

10.宏观经济学与微观经济学的区别包括（ ）

- A.微观经济学的中心理论是价格理论，宏观经济学的中心理论则是国民收入决定理论
- B.微观经济学认为“看不见的手”能自由调节实现资源配置的最优化，宏观经济学通过“看得见的手”纠正市场机制的缺陷
- C.微观经济学要解决的是资源配置问题，宏观经济学研究社会范围内的资源利用问题
- D.微观经济学研究的是单个经济单位，宏观经济学研究的是整个经济

【答案】ABCD。从中心理论来说，微观经济学的中心理论是价格理论，宏观经济学的中心理论则是国民收入决定理论，故 A 项正确。从对市场的看法来说，微观经济学认为市场可以达到资源利用的最大化，而宏观经济学则认为市场调控存在缺陷，必须需要政府的调控，故 B 项正确。从资源的角度来看，微观经济学要解决的是资源配置问题，即生产什么、如何生产和为谁生产的问题，以实现个体效益的最大化。宏观经济学则把资源配置作为既定的前提，研究社会范围内的资源利用问题，以实现社会福利的最大化，故 C 项正确。而针对研究的对象来说，微观经济学研究的是单个经济单位，宏观经济学研究的是整个经济，故 D 项正确。所以答案是 ABCD。

11.经中国人民银行批准，商业银行可以经营下列哪些业务？（ ）

- A.结汇
- B.证券经营
- C.售汇
- D.信托投资

【答案】AC。商业银行经中国人民银行批准，可以经营结汇、售汇业务，选项 AC 正确。中国《商业银行法》规定，商业银行在中华人民共和国境内不得从事信托投资和证券经营业务，不得向非自用不动产投资或者向非银行金融机构和企业投资，选项 BD 错误。故本题应选 AC。

12.某商业银行 2018 年计划开展的下列业务中，属于资产业务是（ ）。

- A.发放新贷款 200 亿元
- B.办理居民委托投资 100 万元
- C.办理企业未到期的票据贴现 6000 万元
- D.发行债券 20 亿元

【答案】AC。资产业务，是指商业银行运用资金的业务，也就是商业银行将其吸收的资金贷放或投资出去赚取收益的活动。资产业务主要包括：贷款，贴现，证券投资，金融租赁等，选项 AC 正确。委托投资为商业银行的中间业务，选项 B 错误，发行债券是商业银行的负债业务，选项 D 错误。故本题应选 AC。

根据下列资料，回答问题。

结构分析是对报表某一项目或某一类别的金额占总数的比重进行分析，并根据结果进一步分析导致结果不合理的原因。

13.分析主要资产项目占总资产比重时，下列导致其他应收款比重高的因素有（ ）。

- A.企业产品销售不畅
- B.关联方无偿占用资金
- C.企业抽逃资本金
- D.季节性生产需要

【答案】BC。大股东及其关联方占用上市公司的资金主要体现在“应收账款”与“其他应收款”两个会计科目下，故会导致其他应收款比重高。A 项 D 项主要反映的是应收账款的变化，不涉及其他应收款。C 项抽逃资本金是指公司依法领取营业执照宣告成立以后，原缴纳出资的股东未经合法程序（如合法减资等）的情况下，私自撤走原依法投入公司的注册资本的行为，资金撤走时分录，借：其他应收款，贷：银行存款，涉及其他应收款的变化。故本题应选 BC。

14.当经营活动净现金流为负数且与企业的净利润不匹配时，在资产负债表上体现为哪些项目的减少？（ ）

- A.应收账款
- B.应付账款
- C.预付账款
- D.预收账款

【答案】AC。经营净现金流减少说明企业经营不善，可能有倒闭的风险。当与净利润不符的时候，在资产负债表中应反映为资产的减少，应调节应收款项，应收账款和预付账款属于应收款项，故 AC 正确。BD 均为应付项目，是负债，不能表现为负债的增加，故错误。故本题应选 AC。

15.每年看把 SOGO 崇光店庆期间。都能吸引大量的购物者前来购物，化妆品的折扣更

是吸引众多女性的来消费。相比往常, 这给 SOGO 增加了许多收益。然而, 生活中我们又听到“谷贱伤农”的说法。谷子降价, 却会使得农民遭受损失。出现这种情况的原因是两者的需求弹性不同. 下列关于需求收入弹性的表述中, 正确的有 ( )。

- A. 一般来说, 必需品的需求收入弹性大于 0 小于 1
- B. 需求收入弹性大于 1, 说明收入弹性高
- C. 一般来说, 高档品的需求收入弹性大于 1
- D. 一般来说, 吉芬商品的需求收入弹性小于 0

【答案】ABCD。当需求收入弹性大于 0 小于 1 时, 需求量对商品变动反应不敏感。当价格上升或下降时, 需求量减少或增加的量小于 1%, 一般为生活必需品, 故 A 项正确。需求收入弹性大于 1 时, 需求量对商品价格的变动敏感。价格上升或下降 1% 时, 需求量减少或增加大于 1%, 因此收入弹性高, 一般为奢侈品, 故 BC 正确。吉芬商品是一种特殊的低档品, 当随着收入的增加, 消费数量反而减少。因此收入弹性小于 0, 故 D 项正确。所以答案选 ABCD。

16. 商业票据发展与我国供应链金融的发展紧密相关, 商业票据的签发缓解了买方的资金压力, 同时对拥有商业票据的卖方而言, 既拥有了对于签发方的票据金额索取权, 也可向金融机构用作质押, 获得流动性, 下列关于商业票据的描述, 正确的有 ( )。

- A. 商业票据的流通转让有一定的范围
- B. 具体来说, 可将其分为商业期票和商业汇票
- C. 商业票据可以且仅可以转让一次
- D. 商业票据又称商业货币, 它包括在广义的信用货币范畴之内

【答案】ABD。根据我国《票据法》规定的票据均为记名票据, 必须通过背书转让或交付转让的方式予以流通转让, 因此, 商业票据的流通转让有一定的范围, 故 A 项正确; 商业汇票和期票都是商业票据, 都是反映商品交易中债权人与债务人约期付款的凭据, 选项 B 正确; 信用货币的形式主要有商业票据、银行券和存款货币, 主要以银行券、汇票、支票等形式存在, 选项 D 正确。商业票据可以进行再贴现, 不止可以转让一次, C 选项错误。故本题应选 ABD。

17. 银行信贷人员在贷前调查时发现, 某目标公司客户在上一年度发放了股票股利, 则对该公司的影响有 ( )。

- A. 会对公司股东权益总额产生影响



- B.公司每股市价会降低
- C.导致公司现金的流出
- D.会增加公司流通在外的普通股股数

【答案】BD。发放股票股利后，盈利总额不变，会使普通股股数增加而引起每股收益和每股市价下降，选项 BD 正确。发放股票股利不会对公司的资产总额、负债总额及所有者权益总额产生影响，但会引起未分配利润的减少和股本及资本公积的增加，选项 A 错误。发放股票股利不用支付现金，不好会导致现金流出，选项 C 错误。故本题应选 BD。

18.下列业务中，属于中国建设银行个人贷款业务的有（ ）。

- A.个人经营类贷款业务
- B.网络银行“E 贷款”业务
- C.个人消费类贷款业务
- D.个人住房贷款业务

【答案】ACD。中国建设银行个人贷款业务有：个人住房贷款、个人消费贷款（个人汽车贷款、助学贷款、个人消费额度贷款、个人住房装修贷款、个人耐用消费品贷款、个人权利质押贷款）、个人经营贷款、个人信用卡透支。故 ACD 正确；“E 贷款”业务是建设银行的电子银行业务。故 B 错误，所以答案选 ACD。

19.关于计算机病毒，下列说法正确的有（ ）。

- A.发现计算机病毒时，应先将重要数据备份，然后启动杀毒软件进行杀毒，将病毒危害降低到最低限度
- B.WannaCry 病毒之所以能够在全球范围内大肆蔓延，是因为蠕虫病毒是自包含一套程序，能够对自身进行复制、拷贝，常利用网络和电子邮件进行传播
- C.计算机病毒的特点是人为的特制程序，具有自我复制能力、很强的感染性、一定潜伏期、很强的破坏性
- D.把带病毒的存储设备设置成只读状态，那么此存储设备上的病毒就不会因读操作而传染给另一台计算机

【答案】ABC。发现计算机病毒应立即清除,将病毒危害减少到最低...1.在清除病毒之前,要先备份重要的数据文件。A 说法正确。WannaCry，一种“蠕虫式”的勒索病毒软件，蠕虫病毒是一种常见的计算机病毒。它是利用网络进行复制和传播，传染途径是通过网络和电子邮件。最初的蠕虫病毒定义是因为在 DOS 环境下，病毒发作时会在屏幕上出现一条类

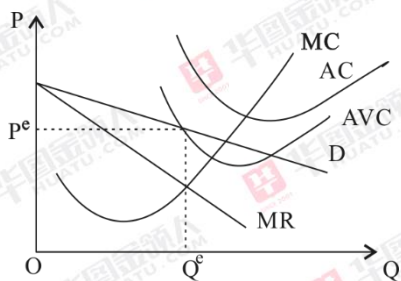
似虫子的东西，胡乱吞吃屏幕上的字母并将其改形。蠕虫病毒是自包含的程序（或是一套程序），它能传播自身功能的拷贝或自身的某些部分到其他的计算机系统中（通常是经过网络连接）。所以 B 说法正确。计算机病毒的特点计算机病毒是人为的特制程序,具有自我复制能力,很强的感染性,一定的潜伏性,特定的触发性和很大的破坏性。C 选项正确。把带病毒的存储设备设置成只读状态，那么此存储设备上的病毒依然会通过读操作传染给另一台计算机。D 说法错误。所以答案选 ABC。

20.若某厂商的产品需求函数为  $P=12-0.4Q$  总成本函数为  $TC=0.6Q^2+4Q+5$ 。则以下说法中正确的有（ ）。

- A 产量 Q 为 10 时，厂商的总收益最大
- B 若厂商要求净利润需大于 10 此时能够获得的最大总收益为 50
- C.产量 Q 为 5 时，厂商的总利润最大
- D.厂商可以获得的最大总利润为 11

【答案】BD。净利率大于 10，即  $TR-TC=8Q-Q^2-5 \geq 10$ ，解不等式  $3 \leq Q \leq 5$ ，B 选项要求总收益最大，TR 函数在 0 至 15 区间递增，因此在  $Q=5$  时，总收益达到最大值  $TR=50$ ，故 B 项正确；总利润最大时  $MR=MC$ ， $MR=-0.8Q+12$ ， $MC=1.2Q+4$ ，此时  $Q=4$ ， $P=10.4$ ，总利润= $TR-TC=11$ ，故 D 项正确，C 项错误；边际收益为零时，总收益达到最大值，总收益函数为  $TR=PQ=12Q-0.4Q^2$ ，边际收益  $MR=-0.8Q+12=0$ ， $Q=15$ ， $P=6$ ，选项 A 错误。所以答案选 BD。

21.某完全垄断行业的企业到银行提出贷款申请。银行经过充分的贷前调查。清楚知晓该企业的生产经营情况(如下图所示)。并且该状况将维持很长一段时间。以下说法正确的有（ ）。



- A 该企业的收入刚好弥补变动成本，处于停业边缘
- B.该企业已处于会计上的亏损状态
- C.该企业目前还有会计利润
- D.因为垄断企业必然有垄断利润，所以银行可以考虑提供贷款

【答案】AB。根据图形，由  $MR=MC$  确定的均衡产量及价格分别和，此时  $P=AVC$ 。 $P>AVC$  虽然在亏损，但是生产可以弥补可变成本和一部分固定成本，减少损失，厂商会继续生产。 $P<AVC$ ，厂商收入不仅固定成本无法弥补，可变成本也收不回，所以是停止营业点。选项 A 正确。图形中， $P<AC$ ，产品销售总收入小于总成本，厂商处于亏损状态，没有利润，选项 B 正确，选项 CD 错误。故本题应选 AB。

22.随着现代信息技术的发展，大数据时代悄然来临，大数据的建设和运用，对经济、科技、军事、社会管理等方方面面将带来深刻影响。大数据时代的到来，需要企业（ ）。

- A.及时掌握数据，降低生产技术，杜绝盲目经营
- B.有效监督市场，提升管理水平，增强竞争优势
- C.准确分析信息，明确市场需求，寻求营销对策
- D.把握市场动向。合理配置资源，调节生产规模

【答案】CD。大数据到来需要企业一方面准确分析信息-明确市场需求-寻求营销对策，另一方面把握市场动向-合理配置资源-调节生产规模，故 CD 正确；大数据到来的时代对于企业而言要及时掌握相关数据，同时要提高生产技术，而不是降低生产技术，故 A 项错误；对市场进行监督的主体是政府，而题干中的主体是企业，故 B 项错误。所以答案选 CD。

23.以下业务属于直接融资的是（ ）。

- A.债券
- B.银行贷款
- C.股票
- D.银行票据

【答案】AC。直接融资是指不经过任何金融中介机构，而由资金短缺的单位直接与资金盈余的单位协商进行借贷，或通过有价证券及合资等方式进行的资金融通，如企业债券、股票、合资合作经营、企业内部融资等，选项 AC 正确。间接融资是指通过金融机构为媒介进行的融资活动，如银行信贷、非银行金融机构信贷、委托贷款、融资租赁、项目融资贷款等，选项 BD 属于间接融资。故本题应选 AC。

24.王某在一家销售公司工作，经过几年打拼，终于晋升为公司市场调研部的总经理。然而，与他同一年入职的李某却已坐到了公司副总经理的位子，王某开始反思自己工作上的不足，发现自己在日常管理中缺乏总揽全局的意识，便主动向李某讨教经验。如果你是李某，你会在激励员工方面给予下列哪些建议？（ ）



- A.奖励为主，惩罚为辅，奖励要及时
- B.你可以让个别人有意见和怨言，但务必做到公平公正
- C.物质有时候也是一个关键的因素
- D.一定要区别化对待员工的需求，尤其是各部门直接负责人的需求

【答案】ABCD。强化理论强调奖励与惩罚并用，以奖为主，以罚为辅，但并不等于奖励与惩罚并重，而是应以奖为主，以罚为辅，且奖励要及时，因为过多运用惩罚的方法，会带来许多消极的作用，在运用时必须慎重，故 A 项正确；领导者在管理时，可以允许让个别人有意见和怨言，但务必做到公平公正，故 B 项正确；物质激励是指运用物质的手段使受激励者得到物质上的满足，从而进一步调动其积极性、主动性和创造性，由于物质需要是人类的第一需要，也是基本需求，所以物质激励是激励的主要模式，也是一个关键的因素，故 C 项正确；按需激励原则激励的起点是满足员工的需要，领导者有针对性地采取激励措施，才能收到实效，故 D 项正确。所以答案选 ABCD。

25.第五次全国金融工作会议后，权威媒体多次提到，防范和化解金融风险，既要防“黑天鹅”，也要防“灰犀牛”，建设银行田国立董事长也曾在会议上提出，要关注“灰犀牛”事件，大行往往会忽视“灰犀牛”风险，以下对于“黑天鹅”和“灰犀牛”的认识，正确的有（ ）。

- A.“灰犀牛”这一概念最早由美国学者迈克尔·沃克提出，用来指代大概率、事发前有迹可循却未引起最够重视、最终引发严重后果的重大危机事件
- B.当前，我国在企业杠杆率、房地产市场、影子银行、地方政府债务以及人民币汇率这五个领域，触发“灰犀牛”事件的可能性相对较高
- C.美国次贷危机是典型的“灰犀牛”事件
- D.“黑天鹅”事件发生概率低、极其罕见且不可预测，但后果与“灰犀牛”事件相比，不是很严重

【答案】ABC。“灰犀牛”概念由古根海姆学者奖获得者迈克尔·渥克，在 2013 年 1 月的达沃斯论坛上首次提出，比喻那些大概率且影响巨大的潜在危机。他此后又在《灰犀牛：如何应对大概率危机》一书中进行了详细阐述：相对于“黑天鹅”的难以预见和偶然性，“灰犀牛”不是突发的，而是在一系列警示信号和迹象之后发生的大概率事件。故 AB 正确；“灰犀牛”所反应的现实问题就是：视而不见近在咫尺的危机。美国次贷危机就是典型的“灰犀牛”事件。故 C 正确；“黑天鹅”已是一个我们耳熟能详的名词，指那些小概率而又影响巨

大的事件。故 D 错误。所以答案选 ABC。

## 第二单元（题量 80）

### 综合能力测试-职业行为测试-单项选择题（共 10 个小题）

1.某青年在国庆假期与朋友一起自驾出行，他自恃车技高超，经验丰富，在某路段无视友人劝阻而超速行驶。最终导致重大交通事故发生。在此次事故中，该青年的罪过形式为（ ）。

- A.疏忽大意的过失
- B.间接故意
- C.过于自信的过失
- D.直接故意

【答案】C。过于自信的过失，又叫“有认识的过失”。是指行为人已经预见自己的行为可能发生危害社会的结果，但轻信能够避免以致发生这种结果的心理态度。过于自信的过失的特征表现为认识特征和行为特征，认识特征表现为行为人已经预见到自己的行为可能发生危害社会的结果，同时又轻信能够避免危害结果的发生。交通肇事罪是典型的过失犯罪，所以排除 BD，同时题干已经说明某青年在不听劝阻的情况下超速行驶，属于预见到了。并自恃车技高超导致事故发生。所以答案选 C。

2.近年来，一系列“让座纠纷”引起舆论热议。因为不让座，就挨打、遭骂，甚至上演“今天谁也别想走”这样的拦车闹剧。让不让座，本身属于道德层面、道德问题。但是不让座却遭遇拦车、辱骂以及动手打人等行为。却使让座纠纷上升到了侵权和违法层面。其中，动手打入侵犯的公民权利是（ ）。

- A.人格尊严权
- B.社会保障权
- C.人身自由权
- D.生命健康权

【答案】D。生命健康权是公民的生命权和健康权两种权利的统称，是公民享有的最基本的人权。生命权是指公民享有的生命安全不被非法剥夺、危害的权利，健康权是指公民保护自己身体各器官、机能安全的权利。题干中的动手打人，侵犯了公民此项权利。A 选项的

人格尊严是指与人身有密切联系的名誉、姓名、肖像权不容侵犯的权利。B 选项社会保障权又称福利权，即公民要求国家通过立法来承担和增进全体国民的基本生活水准的权利。具体而言，即政府和社会应保障个人和家庭在遭受工伤、职业病、失业、疾病和老年时期维持一定的固定收入并获得其他各种补助。D 选项人身自由权，是指公民在法律范围内有独立为行为而不受他人干涉，不受非法逮捕、拘禁，不被非法剥夺、限制自由及非法搜查身体的自由权利。ABC 均与题干无关。所以答案选 D。

3.我国古代著名的思想家孟子说过“爱人者，人恒爱之；敬人者，人恒敬之。”这句话带给我们的启示是（ ）。

- A.要想得到别人的爱戴，就要首先让自己的各方面变得强大起来
- B.良好的人际关系是建立在相互尊重基础之上的，只有尊重他人，才会赢得他人尊重
- C.对他们我们要敬而远之
- D.将心比心，要为他们奉献自己的一切

【答案】B。“爱人者，人恒爱之；敬人者，人恒敬之”是出自《孟子·离娄章句下》的一句话，指爱别人的人，别人也永远爱他；尊敬别人的人，别人也永远尊敬他。这句话给我们的启示是为人处世，要学会尊重，只有尊重他人，才能够赢得他人的尊重。所以答案选 B。

4.《公民道德建设实施纲要》不仅在公民基本道德规范中提出“诚信”。而且在职业道德要求中，再次强调“诚实守信”的重要性。以下关于“诚实守信”的说法中不正确的是（ ）。

- A.诚实守信是中华民族的传统美德
- B.诚实守信既是道德规范，又是法律原则
- C.诚实守信是市场经济应有的法则
- D.在职业生涯中，从业人员是否践行诚实守信要视对方是否诚信而定

【答案】D。在职业生涯中，从业人员不管任何时候都得践行诚实守信。所以 D 选项错误，符合题意。ABC 说法正确，不符合题意。故答案选 D。

5.道德修养是一个循序渐进的过程。古人云：“积土成山，风雨兴焉；积水成渊，蛟龙生焉；积善成德，而神明自得，圣心备焉。故不积跬步，无以至千里，；不积小流，无以成江海。”下列名言中与这段话在含义上近似的是（ ）。

- A.君子求诸己，小人求诸人
- B.勿以善小而不为，勿以恶小而为之



- C.有能一日用其力于仁矣乎? 我未见力不足者
- D.仁远乎哉? 我欲仁, 斯仁至矣

【答案】B。题干的意思主要强调的是积累的作用。选项中只有 B 选项与题干中名言在含义上近似, 意思是不要因为是一件较小的坏事就去做, 不要因为是一件较小的善事就不去做。这是刘备去世前给其子刘禅的遗诏中的话, 劝勉他要进德修业, 有所作为。A 选项, 君子求诸己, 小人求诸人是指具有君子品行的人, 遇到问题先从自身找原因, 而那些小人, 出现麻烦总是想方设法推卸责任, 撇清自己, 从不会去反思自己, 从自身找原因。C 选项意思是, 有能一天把自己的力量用在实行仁德上吗? 我还没有看见力量不够的。这种人可能还是有的, 但我没见过。D 选项意思是仁难道离我们很远吗? 我想达到仁, 仁就到了。ACD 均与题干含义不相干。故答案选 B。

6.在新的历史条件下, 发扬爱国主义传统要把弘扬民族精神与弘扬时代精神有机统一起来, 坚持解放思想、实事求是, 与时俱进、勇于创新, 知难而进、一往无前, 艰苦奋斗、务求实效, 淡泊名利、无私奉献, 大力弘扬以 ( ) 为核心的时代精神。

- A.勤劳勇敢
- B.爱国主义
- C.改革创新
- D.自强不息

【答案】C。爱国主义是民族精神的核心, 改革创新是时代精神的核心、为人民服务是社会主义思想建设的核心。所以 C 选项符合题意, ABD 不符合题意, 故答案选 C。

7.2017 年 5 月 3 日国务院总理李克强主持召开国务院常务会议, 部署推动大中型商业银行设立 ( ), 聚焦小微企业和“三农”等提升服务能力。

- A.P2P 金融事业部
- B.PPP 金融事业部
- C.B2B 金融事业部
- D.普惠金融事业部

【答案】D。2017 年 5 月 3 日国务院总理李克强主持召开国务院常务会议, 部署推动大中型商业银行设立普惠金融事业部, 聚焦小微企业和“三农”等提升服务能力。所以 D 选项符合题意, ABC 不符合题意, 故答案选 D。

8.2017 年我国决定设立 ( ), 这是以习近平同志为核心的党中央作出的一项重大的

历史性战略选择,是继深圳经济特区和上海浦东新区之后又一具有全国意义的新区,是千年大计、国家大事。

- A.河北雄安新区
- B.京津冀经济开放区
- C.厦门经济特区
- D.海南经济特区

【答案】A。中共中央、国务院印发通知,决定设立河北雄安新区。这是以习近平同志为核心的党中央作出的一项重大的历史性战略选择,是继深圳经济特区和上海浦东新区之后又一具有全国意义的新区,是千年大计、国家大事。所以 A 选项符合题意,BCD 说法错误,故答案选 A。

9.党的十九大报告指出,我国经济已由( )阶段转向( )阶段,正处在转变经济发展方式、优化经济结构、转换增长动力的攻关期,建设现代化经济体系是跨越关口的迫切要求和我国发展的战略目标。

- A.高速发展;高水平发展
- B.高速增长;高质量发展
- C.高速增长;高水平发展
- D.高速发展;高质量发展

【答案】B。党的十九大报告指出,我国经济已由高速增长阶段转向高质量发展阶段,正处在转变经济发展方式、优化经济结构、转换增长动力的攻关期,建设现代化经济体系是跨越关口的迫切要求和我国发展的战略目标。所以 B 选项符合题意,ACD 说法不符合题意,故答案选 B。

10.我国 2018 年政府工作报告指出,目前我国经济增长实现了主要依靠投资、出口拉动转向依靠( )协调拉动。

- A.投资、消费、进口
- B.消费、投资、出口
- C.消费、进口、出口
- D.投资、出口、进口

【答案】B。我国 2018 年政府工作报告指出,目前我国经济增长实现了主要依靠投资、出口拉动转向依靠消费、投资、出口协调拉动。所以 B 选项符合题意,ACD 说法不符合题

意，故答案选 B。

### 综合能力测试-职业行为测试-多项选择题（共 5 个小题）

1. 公民既有权利追求自由，又有义务担负责任，只讲自由，不讲责任，和只讲责任不讲自由一样。都因为权利与义务的不对等，而使社会迷失于个人和集体两个极端。使社会最终失去前途，而身处其中的任何个人也因此难以获得真正的安全与幸福。这段话强调的是（ ）。

- A. 尊重他人权利，往往会丧失自己的权利
- B. 法律权利与法律义务要平等
- C. 权利和义务是相互依存的
- D. 没有无义务的权利，也没有无权利的义务

【答案】CD。从结构上看权利与义务紧密联系，不可分割，它们的存在和发展都必须以另一方的存在和发展为条件。故 C、D 正确；尊重他人权利，是自己的义务，有利于他人尊重自己的权利，故 A 项表述不准确，A 错误；从数量上看，权利与义务的总量相等，并不是“要平等”故 B 错误。所以答案选 CD。

2. 在下列银行从业人员的行为中，哪些违反了“诚实待客”的要求？（ ）

- A. 向客户推荐产品或服务时，对涉及的有关法律、政策、市场风险进行充分提示
- B. 使客户能够做出合理判断和决策
- C. 诱导客户购买与其风险认知和承受力不符的产品
- D. 向客户做出不符合有关法律或银行规章制度的承诺或保证为达成交易而隐瞒风险或进行虚假、诱导性陈述

【答案】BCD。向客户推荐产品或服务时，银行业从业人员应当对所推荐产品及服务所涉及的法律风险、政策风险及市场风险进行充分提示，对客户提出的问题应当本着诚实信用的原则答复，不得为达成交易而隐瞒风险或进行虚假或误导性陈述，不得向客户作出不符合有关法律法规及所在机构规章制度的承诺或保证。故 A 正确，BCD 说法有误，所以答案选 BCD。

3. 做事先做人，这是自古不变的道理，如何做人，不仅体现了一个人的智慧，也体现了一个人的修养。我国先人早就强调“做人先”的重要性，体现在以下名句中的有（ ）。

- A. “德若水之源，才若水之波”
- B. “子欲为事，先为人圣”



- C. “穷理以致其知，反躬以践其实”
- D. 功以才成，业由才广

【答案】AB。“子欲为事，先为人圣”，“德若水之源”，“才若水之波”讲述了一个重要的道理。孔子的意思是：“一个人要想取得成功，首先要修炼内功，提高自己的品质修为，人做好了，事才有可能做好。故 AB 正确；“穷理以致其知，反躬以践其实”，这句话出自宋·黄榦《朝奉大夫文华阁待制赠宝谟阁直学士通议大夫谥文朱先生行状》指的是穷究事物之理以探求知识，自我检束以求切实履行。指治学的最终目的是实践。故 C 不符题意；功以才成，业由才广，出自《三国志·蜀志·董允传》裴松之注引《襄阳记》，现今正要扫除强贼，统一华夏，功绩有人才方能建立，事业有人才才能发展。习近平总书记引用此语，意在说明实现中华民族伟大复兴离不开各方面的人才，故 D 错误。所以答案选 AB。

4. 党的十八大以来，我国初步建立了适应经济发展新常态的经济政策框架，包括（ ）。
- A. 做出经济发展进入新常态的重大判断
  - B. 贯彻稳中求进工作总基调
  - C. 形成以新发展理念为指导，以供给侧结构性改革为主线的政策体系
  - D. 推进精准扶贫重要战略思想，深入实施精准识贫、精准扶贫、精准脱贫

【答案】ABC。党的十八大以来，初步确立了适应经济发展新常态的经济政策框架。会议强调，稳中求进工作总基调是治国理政的重要原则，也是做好经济工作的方法论，明年贯彻好这个总基调具有特别重要的意义。会议系统阐述了适应经济发展新常态的经济政策框架：第一，作出经济发展进入新常态的重大判断，把认识、把握、引领新常态作为当前和今后一个时期做好经济工作的大逻辑；第二，形成以新发展理念为指导、以供给侧结构性改革为主线的政策体系，引导经济朝着更高质量、更有效率、更加公平、更可持续的方向发展，提出引领我国经济持续健康发展的一套政策框架；第三，贯彻稳中求进工作总基调，强调要保持战略定力，坚持问题导向、底线思维，发扬钉钉子精神，一步一个脚印向前迈进。故 ABC 正确；2017 年 10 月 18 日，习近平同志在十九大报告中指出，要动员全党全国全社会力量，坚持精准扶贫、精准脱贫，……，确保到二〇二〇年我国现行标准下农村贫困人口实现脱贫，贫困县全部摘帽，解决区域性整体贫困，做到脱真贫、真脱贫。据此，精准扶贫是全面建成小康社会、实现中华民族伟大复兴“中国梦”的重要保障，并不是新常态的经济政策框架下的内容，所以答案选 ABC。

5. 在 2017 年 7 月召开的全国金融工作会议中，习近平总书记发表重要讲话，他指出做

好金融工作要把握好以下哪些重要原则? ( )

- A. 回归本源, 服从服务于经济社会发展
- B. 优化结构, 完善金融市场, 金融机构、金融产品体系
- C. 强化监管、提高防范金融风险能力
- D. 市场导向, 发挥市场在金融资源配置中的决定性作用

【答案】ABCD。做好金融工作, 要回归本源, 把为实体经济服务作为出发点和落脚点; 要优化结构, 完善金融市场、金融机构、金融产品体系; 要强化监管, 提高防范化解金融风险能力; 要坚持市场导向, 发挥市场在金融资源配置中的决定性作用。故 ABCD 全部正确, 所以答案选 ABCD。

### 综合能力测试-逻辑判断 (共 16 个小题)

1. 聚合效应是指企业和其产品成了名牌, 不仅可获得较高的利益和较好的经济效益, 而且还可以利用品牌资本使企业不断发展壮大。名牌企业或产品在资源方面会获得社会的认可, 社会的资本、人才、管理经验甚至政策都会倾向名牌企业或产品。名牌企业或产品会稳固自己的实力, 并通过加强与供应商、后续企业的关系, 通过资本营运聚合社会资源使企业更进一步扩大, 形成规模, 进而产生规模效益。

根据上述定义, 下列属于聚合效应的是 ( )。

- A. 某知名奢侈品牌因发明一项新专利而获得海量社会资本
- B. 某知名品牌因质量问题导致经济效益锐减
- C. 某国际知名品牌因其极高的知名度而收拢了一大批优秀设计师
- D. 某新兴品牌因符合国家扶持政策而获得大量的社会资金

【答案】C。聚合效应是企业知名度和规模之间的良性循环。A 项是取得专利之后获得的投资, 与知名度无关, 排除; B 项质量问题影响了企业的形象与规模, 效益锐减不是规模扩大, 排除; D 项符合政策取得资金, 也与知名度无关, 排除。C 项知名度高导致人才向该企业倾斜, 符合定义, 因此选择 C 项。

2. 在一项实验中, 让 100 名焦虑程度不同的女性完成同样的字母识别任务, 同时在她们头上放置电极, 观察大脑活动。结果表明, 焦虑程度高的女性完成任务时脑电活动更复杂, 更容易出错, 实验者由此得出结论: 女性焦虑影响完成任务的质量。

以下哪项如果为真, 最能反驳上述结论? ( )

- A. 女性焦虑容易引起强迫症、广泛性焦虑等心理问题

B.女性焦虑时,大脑会受到各种思绪的干扰而无法专注

C.有研究显示,焦虑和大脑反应错误率是正相关的

D.焦虑程度高的女性与其他女性相比在实验前对任务不熟悉

【答案】D。削弱论证题型,论点为:女性焦虑影响完成任务的质量。A项,无关选项,并不知道完成任务的情况,排除;B项,在解释焦虑为什么会导出错的原因,并不能反驳论证,排除;C项,引入论据加强,排除;D项,另有他因,说明出错的原因是对任务不熟悉,并不是因为焦虑,故可以削弱;因此本题答案为D。

3.甲、乙、丙、丁四人参加学校的4×100米接力赛,为了赢得比赛,必须对四人的出场顺序有一个合理的安排,综合考虑各种因素,确定了如下安排:

(1)甲如果跑第1棒,乙就必须跑第4棒;

(2)丁如果跑第2棒,丙就不能跑第3棒;

(3)丁不能跑第1棒。

最终确定丙跑第3棒。由此可以推出跑出第2棒的是( )。

A.甲或乙

B.丁

C.乙

D.甲

【答案】D。翻译推理加分析推理,先翻译题干:①甲1→乙4;②丁2→非丙3;③非丁1;现得知,丙跑了第三棒,那么对于式子②而言就是否后,否后必否前,所以丁没有跑第2棒,故排除B;又由③可知,丁不跑第一棒,那么丁跑第3或第4棒,而丙跑第3棒,所以丁只能跑第4棒;那么第1棒和第2棒由甲和乙跑,假设甲跑第1棒,那由①知,乙应该跑第4棒,而第4棒由前面已经推出是由丁跑的,因此假设不成立,则第1棒不是由甲跑的,所以甲跑的是第2棒,而乙跑的是第1棒,排除A、C;故本题答案选择D。

4.转型,是指事物的结构形态、运转模型和人们观念的根本性转变过程。不同转型主体的状态及其与客观环境的适应程度,决定了转型内容和方向的多样性。转型是主动求新求变的过程,是一个创新的过程。

根据上述定义,下列各项属于转型的是( )。

A.某企业大力革新生产设备,主动购买了世界先进的生产线

B.某高校实施新的选课办法,经过一学期试用,受到学生反对,新办法最终被废止



- C.为了适应市场竞争的需要,某公司主动更新经营理念打造企业文化
- D.清政府迫于西方列强的压力,决定变法求新

【答案】C。转型的关键信息有①事物的结构、运转模型和人们观念的根本性转变,②主动求新求变。A项主动购买设备只是设备的更新,不是根本性变化,不符合①,排除;B项新的选课办法只是学校制度的一部分,不是根本性变化,不符合①,排除;D项被迫变法不符合②,排除;C项主动更新文化,属于观念的根本性转变,符合定义,因此选择C项。

5.在网络交往中,显现的是虚拟的数字符号,虽然这些抽象的数字能表达丰富的内容,但是内容背后活生生的主体却是无法看到的。网络交流主体思维发挥了极大自由,表达了主体的需求,达到了一定的精神满足。但是,这种满足是以身体的不在场来实现的,身心二者处于不同步的分割状态。这种二者长期割裂的态势必将分裂瓦解同一的自我人格,造成身心的不和谐。

如果以下各项为真,不能支持上述论证的是:( )。

- A.在现实社会交往中,语言对情景意义的表达不到 35%,而剩下的 65%都是以非语言的方式来表达的
- B.非语言方式的交流是健康的人际交往的必要条件
- C.网络人际交往更易让人产生不信任感和怀疑感
- D.网络交往中产生的人格瓦解问题远比现实交往多

【答案】D。题干中的论点是网络时代语言交流过多,身心不一致会造成身心的不协调;A项、B项都说明了非语言交流的重要性,可以支持;C项直接说明网络导致的人格瓦解较多,可以支持;D项网络导致的不信任、怀疑与身心不一致无关,不能支持;因此选择D项。

6.某银行年终晚会上,主持人在3个小箱中各放了一个奖品,让小王、小张、小杨、小李四人猜一下各个箱子中放了几等奖的奖品。

小王说:“1号箱是三等奖,2号箱是特等奖,3号箱是一等奖”

小张说:“1号箱是二等奖,2号箱是特等奖,3号箱是四等奖”

小杨说:“1号箱是安慰奖,2号箱是三等奖,3号箱是五等奖”

小李说:“1号箱是二等奖,2号箱是四等奖,3号箱是安慰奖”

如果有一个人恰好猜对了两个,其余三人都只猜对了-一个,则第二个箱子中放的是( )。

- A. 安慰奖
- B. 五等奖
- C. 二等奖
- D. 特等奖

【答案】D。分析推理题型，明确表明了题干部分的对错情况，采用选项代入法；A 项代入，也就是假设第二个箱子是安慰奖，那么小杨和小李必错了 2 个，则二人属于只猜对了一个的行列，所以 3 号是五等奖和 1 号是二等奖正确，那么会发现，小王说的全错，这与题干不符，因此 A 错误；B 项代入，2 号项是五等奖，那么小杨必错了 2 个，则其属于只猜对了一个的行列，所以 1 号箱是安慰奖是正确的，但会发现，小李说的话全错，这与题干不符，因此 B 项错误；C 项代入，2 号箱是二等奖，那么小张和小李必错了 2 个，则二人属于只猜对了一个的行列，所以 3 号是四等奖和 3 号是安慰奖都应该正确，显然矛盾，因此 C 项错误；故本题答案选择 D 项。

7. 碎片化时代人们的注意力很难持久，让用户在邮件页面停留更长时间已经成为了营销者不断努力的方向，随着富媒体化的逐步流行，邮件逐步从单一静态向动态转变，个性化邮件的特性也逐步凸显，GIF 制作简单，兼容性强，在邮件中可以增加冲击力，因此，在邮件中插入 GIF 动态图片，更能吸引用户的目光，增加用户的点击率。

以下哪项如果为真，最能支持上述结论？（ ）

- A. 如果针对特定用户群而制定个性化营销邮件，那么销售机会会增加 20%
- B. 过去没有插入 GIF 动态图片的个性化营销邮件，也为很多企业带来了成功
- C. 上世纪 70 年代出生的人习惯于电子邮件的静态界面，不喜欢花里胡哨的东西
- D. 插入 GIF 动态图片的个性化营销邮件，比普通发送的邮件给企业带来的收入多 18 倍

【答案】D。题干中的论据为“GIF 制作简单，兼容性强，在邮件中可以增加视觉冲击力”，论点为“在邮件中插入 GIF 动态图片，更能吸引用户的目光，增加用户的点击率”。D 项通过插入 GIF 动态图片的邮件给企业带来的收入多，加强了题干中的论点，属于补充论据。A 项只是提到了个性化营销邮件，并没有提到是否插入了 GIF 动态图片，属于无关选项，故排除；B 项比较了没有插入 GIF 动态图片的邮件，发现同样给企业带来成功，属于削弱选项，故排除；C 项上世纪 70 年代出生的人与现代人的习惯有何相同之处无从考证，属于无关选项，故排除。因此本题答案为 D。

8. 某单位招聘了甲、乙、丙、丁、戊五名新员工，每位员工被分配到不同的部门，并且

满足以下条件：

- (1) 如果甲去销售部，那么乙不去设计部；
- (2) 或者丙去生产部，或者甲去销售部；
- (3) 或者丁去后勤部，或者戊不去财务部；
- (4) 如果乙不去设计部，那么丁也不去后勤部；

以下哪项为真，可以推出“丙去生产部”？（ ）

- A. 戊去财务部
- B. 甲去销售部
- C. 乙不去设计部
- D. 丁不去后勤部

【答案】A。翻译推理题型，先翻译题干：①甲销售→非乙设计；②丙生产部或甲销售；③丁后勤或非戊财务；④非乙设计→非丁后勤；题干要求是推出“丙去生产部”的结论，这题是一个逆推的过程，根据式子②知，要想推出“丙去生产部”的结论，那么甲应该不是销售部的，所以排除 B；而要想得到甲不是销售部这样一个结论，根据①可知，乙应该是设计部的，所以排除 C；要想得到乙去设计部这个结论，根据④可知，丁应该去后勤部，所以排除 D；要想得到丁去后勤部的结论，根据③可知，戊应该去财务部，A 正确；故本题答案为 A。

9. 在一些特定领域，比如说国际象棋、围棋、股市交易以及人机对话等，我们已经发明出与人脑匹敌或超越人脑的计算机，并且电脑和驱动他们的运算法则只会变得更好。因此，有人认为，电脑精通几乎任何人类能力只是时间问题。

以下哪项如果为真，最能支持上述观点？（ ）

- A. 人类的大脑是生物学意义的机器，具有可复性，超级电脑已具备某些人类独有的特殊能力
- B. 电脑所控制的机器人将在未来的几十年取代数以百万计的岗位职工
- C. 随着编程工作的日益完善，电脑也在趋于完全的智能化
- D. 生物脑在本质上是具有独特之处的，这是科技无法超越的

【答案】A。加强论证题型，论点为：电脑精通任何人类能力只是时间问题。论据是：在一些特定领域，我们已经发明出与人脑匹敌或超越人脑的计算机，并且电脑和驱动他们的运算法则只会变得更好。A 项人类的大脑可以被复制，意味着电脑精通的领域会越来越多，



加上良好的算法，使得在未来电脑精通任何人类能力成为可能。B 项电脑取代数百万计岗位职工能够加强，但范围太小，加强力度弱。C 项电脑趋于完全智能化也可以加强，但没有明确说明智能化和精通所有人类能力之间的关系，加强力度弱。D 项科技无法超越生物脑，是削弱项。综合来讲，选择 A 项；故本题答案选择 A 项。

10. 从下列所给的选项中，选择最合适的一个填入问号处，使之呈现一定的规律性（ ）。

大	行	易	?	须
---	---	---	---	---

仄	香	笑	篆
A	B	C	D

【答案】C。考察的是“丿”的个数，题干中“丿”的个数分别为 1、2、3、?、5，所以问号处的汉字应该含有 4 个“丿”；A、B 项是 2 个，D 项 5 个“丿”，均不符合题意，排除；C 项 4 个“丿”，正确；故本题答案为 C。

11. 以往，境内企业进出口只能以美元或第三方货币结算，在合同签约至合同执行完毕期间汇率的变化会使企业的实际盈收出现波动，现在银行推出了人民币结算业务。由于人民币是境内企业的本币，合同计价和企业运营的主要货币相一致，境内企业在合同签订前就能够切实了解交易的成本和收入，从而防范了汇率风险。因此，使用跨境贸易人民币结算业务的企业必定会增多。

以下哪项如果为真，最能作为上述论证的前提条件？（ ）

- A. 有了跨境贸易人民币结算业务，开展对外贸易的企业数量会越来越多
- B. 有了跨境贸易人民币结算业务，国内企业可以更方便地将跨境贸易开展到世界各地
- C. 由于国内巨大的市场空间，越来越多的境外企业愿意与国内企业开展贸易往来
- D. 在与国内企业开展贸易时，由于人民币币值保持稳定，境外企业愿意使用人民币作为结算货币

【答案】D。加强论证类题型，论点为：使用跨境贸易人民币结算业务的企业必定会增多；A 项，即使开展对外贸易的企业数目不变，但是这些企业的结算方式改为人民币结算，同样可以得到题干中的结论，因此 A 并不是前提，排除；B 项，无关选项，与论题无关，排除；C 项，与 A 项表述的意思一致，不能作为前提，排除；D 项，如果境外企业不愿意使用人民币作为结算货币，那合同就无法签成，跨境贸易根本无法完成，也就不会有该论点的存在，因此 D 项是前提项；故本题答案为 D。

12.以下是一则广告：本网络文学培训班有着其他同类培训班所没有的特点，除了传授高超的写作技巧、帮助学员打开认识世界的多维视角和宏观视野、丰富学员的文化知识和艺术涵养外，还负责向毕业班学员提供切实有效的就业咨询。去年进行咨询的毕业班学员，100%都找到了工作。为了在网络文学创作事业上开创一片天地，欢迎加入我们的行列。

为了确定该广告的可信性，以下相关问题必须询问清楚的是（ ）。

I.去年共举办了多少期这类培训班，共有多少学员毕业？

II.去年有多少毕业班学员进行了就业咨询？

III.对于找到工作的学员，就业咨询究竟起到了多少作用？

IV.咨询者找到的是否都是网络文学创作工作？

A.I、II和III

B.II、III和IV

C.I、II、III和IV

D.II和IV

【答案】B。I 中，培训班的期数和毕业学员的数量与广告所宣传的咨询的毕业班学员的情况无关，所以不需要必须问清，排除 A、C；II 中，必须问清，可以验证样本量是否有代表性，排除 D。故本题答案选 B。

13.矩阵对策是指处于利益竞争的两个关系主体，各自可选的策略有限，且在一局对策中双方得失和为零的现象，即要不成功、要不失败。对策中，一方真正成功的措施应该是，针对对方所采取的行动相应地制定有利于自己的应对策略，各方选择的策略必定是自己对对方策略预测的最佳反应。

根据上述定义，下列属于矩阵对策的是（ ）。

A.丈夫要去踢球，妻子要去看电影，儿子要去游乐园，最后三人去郊游

B.劳资双方进行薪资谈判，经过反复的讨价还价，最终双方都作出让步

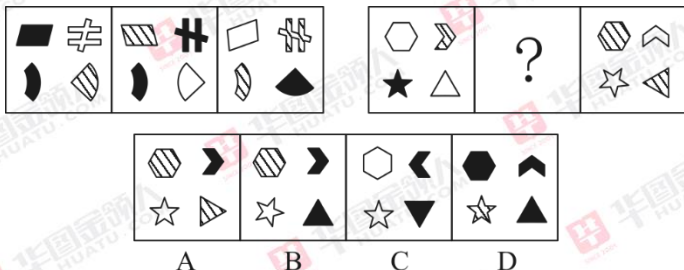
C.齐王和田忌按原条件重新赛马，并约定每局比赛须用同等级的马参赛

D.在进入奥运女子排球决赛后，某国家队重新安排队员阵容和出场顺序

【答案】D。定义判断题型，定义的关键信息是：①处于利益竞争的两个关系主体；②双方得失和为零；③针对对方所采取的行动相应的制定有利于自己的应对策略；A 项，有三个主体，且并不是处于利益竞争的主体，不符合定义，排除；B 项，都做出让步，得失和并不为零，而是负数，并且劳资双方是合作关系，并不是利益竞争主体，不符合定义，排除；

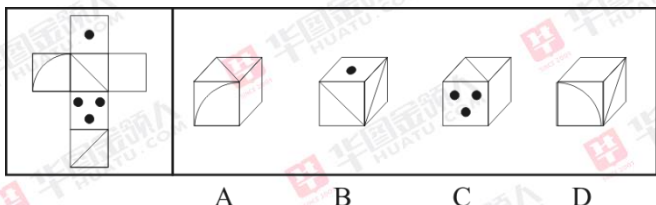
C 项，不符合对对方策略预测作出最佳反应，排除；故本题答案为 D。

14. 请从所给的四个选项中，选择最合适的一个填入问号处，使之呈现一定的规律性 ( )。



【答案】D。本题考查颜色遍历。已知图形每个都由 4 个小元素构成，共 3 种颜色：黑色、白色和阴影。左边一组 3 个图形共 12 个小元素，每种颜色都出现了 4 次，每种形状的图形都三种颜色各出现一次；右边图形遵循同样规律，从总颜色上来看缺三个黑色和一个阴影，排除 A、B 项；从每种形状的颜色来看，缺的阴影图形是五角星，正确答案应该是 D 项；故本题答案为 D。

15. 下面给定的是纸盒的外表面，下列哪一项能由它折叠而成？ ( )



【答案】C。A 项，弧线面和空白面是相对面，不能同时出现，排除；B 项，两个对角线面是相对面，不能同时出现，排除；D 项，弧线面与下面的对角线面没有交点，排除。C 项符合题意，因此选择 C 项。

16. 现代边缘派诗歌代表作《奇怪的接近》中写道：“咖啡的颜色接近于黑啤，黑啤的颜色接近于咖啡……我必须要放弃其中之一。我留下了黑啤，尽管它似乎不如咖啡高贵……”如果我们把诗歌中的语句看做表达了一种判断形式的话，以下选项中判断形式与之不同的是 ( )。

A. 《孟子·公孙丑下》曰：“陈臻问曰：‘前日於齐，王馈兼金一百而不受；於宋，馈七十镒而受；於薛，馈五十镒而受。前日之不受是，则今日之受非也。今日之受是，则前日之不受非也。夫子必居一於此矣。’”

B. 毛泽东曾说：“不是东风压倒西风，就是西风压倒东风。”

C. 宋代卢梅坡在《雪梅》中写道：“有雪无梅不精神，有雪无诗俗了人。日暮诗成天又



雪，与梅并作十分春。”

D.当代诗人顾城在《初春》中写道：“阴沉的天空还在犹豫：是雪花？还是雨滴？混浊的河流在疾走：是追求？还是逃避？远处的情侣在分别：是序幕？还是结局？”

【答案】C。题干诗句中的判断形式是咖啡和黑啤二者不能共存，二者之中必选其一，是不相容选言命题。A项是在接受与不接受之间选择，B项是东风西风不能共存，D项是在雪花和雨滴、追求和逃避、序幕和结局之间选择，和题干判断形式一致。C项雪和梅同时出现，与题干判断形式不一致，当选；因此选择C项。

## 综合能力测试-言语理解（共 17 个小题）

1.诺贝尔文学奖得主埃利亚斯·卡内提的杰作《群众与权力》是一部分析不同族群特征的最具影响力的著作。该著作从不同角度解剖群众的形象，首先是按国别、地缘、族群来展开，并去分析每个国家特殊的文化背景。由于作者没有从经济层面展开分析，在国别分析中范围仅限于欧洲，因此，本文尝试\_\_\_\_\_。

填入划线部分最恰当的一句是（ ）。

- A.从经济层面来谈谈中国和日本的族群特征及其启示
- B.从文化层面来谈谈欧洲文化背景对日本族群的影响
- C.从文化层面来谈谈特殊文化背景对欧洲族群的影响
- D.从经济层面来谈谈欧洲族群特征研究对我国的启示

【答案】A。下文推断题。从题干可推出，“本文”和《群众与权力》是两本不同的书，本文是从《群众与权力》中没谈过的角度来写作，即：从经济层面展开分析，且欧洲以外的地区的族群。符合这两项的就只有A。B、C的“文化层面”错了，故排除；D错在仍然在谈“欧洲”族群。也排除。故选A。

2.由泥沙为致灾因子形成的灾害命其为泥沙的直接灾害；由泥沙诱发其他载体引发的灾害命其为泥沙的间接灾害。前者指如因滑坡、泥石流及崩塌形成的泥沙物质给人类、社会和环境造成的危害。后者指因土壤侵蚀形成的泥沙在河道或水库年复一年又一年的淤积使河床抬高，泄洪能力降低，由不太大的洪水引发的浸堤、溃决的灾害。因滑坡、泥石流和崩塌形成的泥沙灾害相当严重，据不完全统计，每年发生的滑坡数以万计，有70多座城市和460多个县城受到成胁。这些还使我国的铁路、水库和电站受到严重威胁。

下列说法与原文相符的是（ ）。

- A.滑坡等灾害严重威胁我国部分地区的生产生活

- B.由泥沙淤积使河床抬高后引发的灾害是直接灾害
- C.滑坡形成的泥沙灾害比洪水引发的浸堤灾害严重
- D.泥沙灾害成为我国首要自然灾害

【答案】A。细节理解题。从文段最后一句可推出 A 项是对的。B 项“由泥沙淤积使河床抬高后引发的灾害是”不是“直接灾害”，而是“间接灾害”，故排除 B；C 文中未提及两种类型灾害作对比，故排除 C；D 文中未提及，故排除。因此选 A。

3.有相当一部分的企业对其成本控制的对象主要局限于企业内部生产加工制造的过程中所发生的各项成本费用支出，而往往忽略企业的采购与销售过程对成本核算控制的影响，忽视了对其他相关企业及相关领域成本行为的管理，缺乏战略管理的思维，使企业未能获得全面的发展竞争战略，不能形成系统的成本控制方法体系。

这段文字意在说明（ ）。

- A.部分企业成本控制存在的问题
- B.部分企业成本控制的对象是加工制造过程中的费用
- C.部分企业在成本控制方面缺乏战略管理思维
- D.部分企业成本控制的内容相对片面

【答案】C。意图判断题。主旨句是“缺乏战略管理的思维，使企业未能获得全面的发展竞争战略，不能形成系统的成本控制方法体系。”，C 项是原文主旨句的同义替换，故选 C；A 项形容得太笼统，未点明要点，排除；B 项，片面，排除；D 项也形容得太笼统，未点明要点，即需要具备战略管理的思维这点，排除。故选 C。

4.随着智能手机、平板电脑、电子阅读器等在家庭中的普及,少年儿童的“微阅读”渐成趋势。“微阅读”是伴随手机短消息、网文、博文出现而兴起的一种阅读方式。尽管关于“微阅读”价值的认定还处于争论阶段,但碎片化的信息导致碎片化思维这一结论显然是成立的,而且已经有了不少的例证。如果过沉溺于“微阅读”,其实用性和消遣性会在无形中消解少年儿童阅读时的沉潜心态,从而影响到少年儿童对知识的吸收。

这段文字意在（ ）。

- A.说明“微阅读”在少年儿童中渐成趋势
- B.提醒少年儿童不要被“微阅读”所掌控
- C.揭示促使“微阅读”兴起的前提条件
- D.剖析“微阅读”对社会知识传承的影响

【答案】B。意图判断题。从微观关联词法入手，转折之后是重点，“碎片化的信息导致碎片化思维这一结论显然是成立的，”最后用反面论证法，强调了：少年儿童不能沉溺于“微阅读”这一主旨。A、C 都片面，排除。D 项的论述对象变成了对社会知识传承的影响，而文中着重讲的是对少年儿童的影响。所以排除 D；故选 B。

5.我国并不缺乏好的设计,人才也不少。但如何与生活、市场结合,让设计成为产业,其间还有不少障碍。一是设计师与生产厂家缺少交流的渠道,二是设计师闭门造车的不少。三是厂家对设计缺乏兴趣。许多专家认为,对设计的现代认知应该推广到所有企业,让企业舍得投资,只有明白了设计是未来竞争的主要资本,是国际社会衡量产品的主要标准,是消费者购买天平中的主要砝码,企业才能拥有重视设计的战略眼光。

从这段文字可以推出 ( )。

- A.国内企业对设计水平的评价与国际标准存在差异
- B.设计者与企业沟通不畅制约着设计的市场化进程
- C.企业不愿在设计环节投资造成大批设计人才流失
- D.企业对设计的漠视阻碍了我国设计的产业化发展

【答案】D。细节理解题。A 项文中未提及，排除；C 项属于强加因果关系，文中并未表明企业不愿在设计环节投资造成了大批设计人才流失。文中说：不缺设计人才。故排除 C；B 项的“市场化进程”这一叙述不精准，原文说：如何与生活、市场结合,让设计成为产业,其间还有不少障碍。所以，落脚点落在了“产业化”上，因此 D 更适合。

6.正因为网红的一举一动和无数互联网用户的“体验”息息相关,决定了人们不能仅仅将其作为一种商业模式,还应作为需要引导和规范的社会文化现象。移动互联时代,影响力越大,社会责任越大。尤其是考虑到那些关注网红且深受影响的青少年,网红经济更应有益于世道人心。从公众的角度,网红就是那些通过网络走红的人。既有能在自身的专长领域发挥到极致的草根达人,比如通过写作成名的当年明月、南派三叔等人,也有凭借爆料隐私、行为出格、装萌邀宠走红的各色人等。甄别良莠、择其善者而从之,应该成为社会公众的自觉意识。

这段文字旨在说明 ( )。

- A.网红从一开始就有着草根化、粉丝化的特点
- B.社会公众应能够甄别网红世界中的优劣信息
- C.网红经济时代网红与公众须各担负社会责任
- D.网红经济应作为社会文化现象被引导和规范



【答案】C。主旨概括题。文段为分-分结构。文段从网红和公众的角度，给出建议，应如何应对网红经济。所以，只有 C 具有综合概括的高度，故选 C。A、B、D 都很片面，只讲了其中一个方面，所以排除 A、B、D。选 C。

7.出境旅游越来越多,国人在国外疯狂购物;而国内许多景点还停留在“门票经济”上,期待改变的呼声高涨。经济新常态下,国家在大力提倡发展第三产业、提升消费能力。面对诸多背景,国内景区不能甘愿成为节假日在媒体上被吐槽的对象,应该痛定思痛,努力改变自身形象,不断提高硬件和软件水平,吸引国内外游客。

根据这段文字,可以知道作者想说的是 ( )。

- A.国人对国内景区的形象及水平有诸多不满
- B.我国经济水平提高,出境旅游购物人数骤增
- C.国内景区应提高自身来吸引国内外游客
- D.我国景区经济结构落后成为国人吐槽对象

【答案】C。意图判断题。本文为分-总结构。主旨句：国内景区,应该痛定思痛,努力改变自身形象,吸引国内外游客。选 C。A、B、D 都只是论述现状,片面,故排除 A、B、D; 故选 C。

8.医院里床位时常面临紧缺之势,房间设计格局不合理,患者不能及时得到检验结果,易引起病人及家属的焦躁与暴怒。部分实验室布局不符合安全防护要求,缺乏长远计划。检验硬件设备跟不上技术发展的脚步,仪器设备长时间得不到更新和添置而有趋于老化之势。

文段中谈及的主要问题是 ( )。

- A.医院设备落后且得不到更新添置
- B.医院检验条件与技术配备不合理
- C.医院布局设计不合理及检验设备落后
- D.医院布局不合理且缺乏长远考虑

【答案】C。主旨概括题。文段是分分结构。第一层说病房设计和检验室、实验室布局设计不合理、缺乏长远计划;第二层说仪器设备老化。能够综合这两层意思的,就是 C 项。A、B 比较片面,排除;D 项的也只能概括第一层意思,不具有综合性概括全文的高度,排除。故选 C 项。

9.与历史热相伴的“娱乐化”倾向,需要引起高度关注。有人称孔子是“怀抱理想,在现实世界找不到精神家园”的“丧家狗”;有人把梁山泊义士比喻成危害社会稳定的恐怖分

子;有人笔下岳飞成了大宋奸臣,秦桧反成了忠相;又有解梦派从《红楼梦》中“考证”出:“雍正皇帝是被曹雪芹毒杀的。”他们迎合某些猎奇的文化消费需求,打着学术的旗号,凭空脑想出一些阴暗、无稽、荒诞甚至情色的“历史”故事,用哗众取宠的惊人之语亵渎先贤,推翻历史定论,颠覆传统价值观念。

文段所列各种现象,不属于“颠覆传统价值观念”的一项是( )。

- A.孔子是现实世界找不到精神家园的“丧家狗”
- B.有人把梁山泊义士比喻成危害社会稳定的恐怖分子
- C.有人笔下岳飞成了大宋奸臣,秦桧成了忠相
- D.解梦派考证的“雍正皇帝是被曹雪芹毒杀的”

【答案】A。“颠覆”观念是指颠倒,把黑说成白,对某项事物造成强烈冲击改变,使事物本质发生变化。“颠覆传统价值观念”的,B、C、D 都很明显跟史实的正恶立场相反,把好人说成坏人。“雍正皇帝是被曹雪芹毒杀的”也是莫须有的观点,把无说成有,所以都颠覆了传统价值观念;而 A 虽然把孔子比喻成“丧家狗”有失妥当,但是孔子确实在现实中未找到精神家园,这点无可置疑,所以,相比起其他三项,A 项没有达到“颠覆”的程度。故选 A。

10.工匠精神,是一种工匠对产品\_\_\_\_\_的理念,其内涵在于精益求精、注重细节、严谨专注。改革开放以来,中国制造业高速增长、雄冠全球,但高能耗、低技术、低创新、低附加值让“中国制造”难以真正\_\_\_\_\_。

依次填入划横线部分最恰当的一项是( )。

- A.细致入微 眉飞色舞
- B.一丝不苟 视远步高
- C.分毫不差 趾高气扬
- D.精雕细琢 扬眉吐气

【答案】D。该题的关键可从第二空着手,这一空应填形容“中国制造”的褒义词,而“眉飞色舞”不能搭配“中国制造”,排除 A;“视远步高”意思是高视阔步。形容态度傲慢,是贬义词,排除 B;“趾高气扬”也是贬义词,排除 C。而 D 项,“精雕细琢”能用来形容工匠对产品的做法,“扬眉吐气”也能形容“中国制造”。故选 D。

11.蒲县的基层干部,面对的就是这样一个棘手的难题。封山禁牧之下,羊群不减反增,破坏生态、祸害庄稼、引发山火,但同时不管圈养还是非圈养,甚至偷牧、乱牧的羊,也都是

群众的利益,甚至是最直接的脱贫手段。绿色发展是重要理念,脱贫攻坚也是当务之急,哪一样都对接着复杂的治理情况,如果再加上简单粗暴的“一刀切”要求,一线工作的人就难以做出太好的选择,更顾不上思考更科学的决策。

下列哪句话最能概括这段文字? ( )

- A.蒲县政府需常抓禁牧,以防止生态破坏
- B.绿色还是脱贫,绝对不能“一刀切”
- C.两难问题倒逼政府科学决策
- D.绿色发展与脱贫攻坚难两全

**【答案】B。**主旨概括题。分-总结构。最后一句用反面论证法道出了文段主旨:绿色发展和脱贫攻坚,不应“一刀切”。B项是最符合文意的。A项很片面,故排除;C项的“倒逼政府科学决策”比较笼统,并未说出倒逼政府如何决策,故排除;D项的“难两全”并未提到因此政策不能一刀切的这层意思,不具有归纳全文的高度,故排除;因此选B。

12. (1) 那时,学校与家庭的心理距离也非常近,二者一结合,孩子就在保护网之内了

(2) 后来,先是学校因其专业功能日益增强,而与家庭的距离越来越大

(3) 以前,家庭及其环境是与孩子的成长单一而直接相关的因素

(4) 这些孩子自发地走向社会,实有促成其事的现实条件

(5) 继之以留守儿童的出现,导致家庭呵护儿童这一格局破裂

(6) 那时,就算一个叛逆的孩子,要离家出走,也有可能因为来自家庭与社会的重重阻力而作罢

将以上6个句子重新排列,语序正确的是 ( )。

- A. (4) (3) (2) (6) (1) (5)
- B. (3) (2) (5) (4) (6) (1)
- C. (4) (3) (6) (1) (2) (5)
- D. (3) (6) (1) (2) (5) (4)

**【答案】D。**先看选项,(4)中的“这些”不适合做首句,所以排除A、C。B项的(5)(4)和(6)(1)的衔接不符合表达逻辑,语义承接地很突兀,前面说家庭呵护儿童这一格局破裂,后面又开始说:那时,学校与家庭的心理距离也非常近。只有D项,语义最连贯,(3)(6)(1)说以前,家庭及其环境对孩子的呵护,孩子在保护网下成长;(2)(5)(4)说后来由于一些因素发生变化,格局破裂。故选D。



13.纵观各国货币发展历史,货币国际化虽然给所在国带来一定风险,但却远远低于带来的好处。从老百姓的角度看,本国货币的国际化程度高,就意味着在出国旅游、消费、留学的过程中,可以较为便利地用本币支付,不必经过繁琐的汇兑程序。从政府的角度看,国际货币发行国可通过发行本国货币为国际赤字融资,相当于对别的国家征收了“铸币税”,其中的好处不言而喻。因此,许多国家的货币都“争先恐后”地走向国际化。

这段文字意在说明 ( )。

- A.揭示出使货币国际化的原因
- B.说明实现货币国际化的结果
- C.提醒货币国际化潜藏的危险
- D.剖析货币国际化的现实途径

【答案】A。意图判断题。本文是总-分-总结构。文段先说货币国际化能带来很多好处。然后从两个方面，一是老百姓，一是政府，来分析能带来什么好处。最后呼应段首，因为好处多，所以很多国家争相实施。所以，前面大篇幅的内容都在说实行货币国际化的意义、原因。所以选 A。B 项是指已经实施后的结果，结果不等于原因、意义。结果是已经出现的，而文中并未提到很多国家已经实现了货币国际化。所以排除 B；C 刚好和文段主旨相违背。D 项文中未提及，排除 D。故选 A。

14.微博、微信上时常流行“是中国人就转”的口号，这是用一面澎湃激昂的民族情怀大旗，迎风一展，遮住大众的眼睛，眼花缭乱间，既剥夺民众独立思考的能力，又\_\_\_\_\_他人自由的意志。爱国主义是其廉价外衣，使人跟风盲从是其内在属性，看似强大逻辑的背后，实则是批判的缺失与思想的\_\_\_\_\_。

依次填入划横线部分最恰当的一项是 ( )。

- A.挟持 苦闷
- B.裹挟 贫瘠
- C.要挟 浅薄
- D.胁迫 单薄

【答案】B。“挟持”是从两旁抓住或架住被捉住的人，或倚仗权势或抓住别人的弱点，强迫其服从。而他人自由的意志不符合“挟持”适用的对象。排除 A；“裹挟”是指（形势、潮流等）把人卷进去，迫使其采取某种态度，很符合题意。思想也可与“贫瘠”搭配；“要挟”指扬言要惩罚、报复或危害某人而强迫他答应自己的要求，或利用对方的弱点、借力量、

威胁或其他压力以强迫对方去做或去选择。本文段并未提及强迫对方去做或去选择,而是让公众根本没有思考的空间。所以“要挟”不合适,排除 C;“胁迫”是威胁强迫,词义也比较重,而文段并没有说威胁公众这一层意思,排除 D。故选 B。

15.由于煤炭价格滑落谷底,火电相对于风电要便宜很多,缺电省份宁愿自己兴建煤电项目解决缺电问题,也不愿接受外来风电。而在这些煤电项目背后,还有发展地方经济、解决当地就业等宏观考量。由此,就出现了甘肃等地风电有价无市,而湖北、江西等地仍在大量上煤电项目的现象。

这段文字意在说明 ( )。

- A. 风电基地停摆现象的原因
- B. 甘肃等地产能严重过剩
- C. 缺电省份自建煤电项目的原因
- D. 火电对于风电存在的优势

【答案】C。意图判断题。本文是分-总结构。文段先说火电对于风电存在的优势;然后第二层说火电有利于发展地方经济、解决当地就业。最后一句是主旨句:因此,多个省份上煤电项目。A 项和 D 项只是第一层意思;B 项文中未提及,故排除;只有 C 项能涵盖文段全部意思。故选 C。

16.目前,产业园区在发展过程中,管理机构在前期的招商引资及后期的管理服务过程中,更加注重企业的规模、税收等经济效益,相比而言,对企业的知识产权产出、运用、保护等方面重视程度不足。除少数如中关村自主示范区之类的先进园区外,大多数园区管理机构在园区企业知识产权工作的领导、统筹、协调、管理等方面存在缺失,缺乏园区知识产权战略发展规划及年度计划,未形成有效的知识产权管理工作体系。

对这段文字的主旨概括最准确的是 ( )。

- A. 产业园区管理机构重经济指标,轻知识产权
- B. 知识产权管理服务多头分散,缺乏有效整合
- C. 产业园区管理机构在知识产权服务工作方面的状况
- D. 强化园区企业知识产权意识迫在眉睫

【答案】D。本文的主旨是“对企业的知识产权产出、运用、保护等方面重视程度不足”以及“大多数园区未形成有效的知识产权管理工作体系。”这两部分意思。A 项只说了第一层意思,B 和 C 项只说了第二层意思,都很片面,故排除 A、B、C。D 项“强化园区企业

知识产权意识”很好地概括了这两层意思, 故选 D。

17. 解决科技与经济结合的问题始终是科技体制改革的核心, 以往的改革从技术商品化、科技运行机制、组织结构、人事制度等方面采取了一系列措施, 主要着力在微观组织层面。改革进程发展到今天, 需要更多地从宏观管理层面思考问题。换句话说, 改革已经改到了推动科技体制改革的政府管理者自己头上。政府科技资源配置的理念需不需要转变? 对科技活动营理的模式需不需要改变? 管理科技活动的组织机构需不需要调整? 回答了这三个问题, 才有可能解决科技、经济“两张皮”的问题。

这段文字意在说明 ( )。

- A. 明确政府职责是科技体制放革的重要前提
- B. 科技与经济相脱节是我国科技体制的弊端
- C. 进行国家科技体制的深层次改革迫在眉睫
- D. 应从政府管理角度思考科技体制改革问题

【答案】D。意图判断题。本文是分-总-分结构。主旨句在“改革进程发展到今天, 需要更多地从宏观管理层面思考问题。换句话说, 改革已经改到了推动科技体制改革的政府管理者自己头上。”再把它精简一点, 就是“改革已经改到了政府管理者自己头上”, 所以需要政府管理者想办法。“政府管理者”才会文段的主体词, 所以选项中只有 D 项一针见血, 命中要点。C、D 项都未提及该主体词, 所以排除 C、D; A 项“明确政府职责”并不等于“从政府管理角度思考改革问题”, 以往的改革也很明确政府职责, 只是“主要着力在微观组织层面”, 所以 A 项形容地不确切, 所以排除 A。故选 D。

### 综合能力测试-数量关系 (共 17 个小题)

1. 某公司原有数十名员工, 其中有 14 名女性。当两名女员工调出该公司后, 女员工的比重下降了 3 个百分点。现在该公司需要随机选派两名员工参加培训, 则选派的两人都是女员工的概率在一下哪个范围内? ( )

- A. 小于 1%
- B. 1%-4%
- C. 4%-7%
- D. 7%-10%

【答案】C。[14/x]-[12/(x-2)]=3%, 解得 x=50, 则 C (2, 12) /C(2, 48)=12×11/48×47≈6%。C 选项正确, A、B、D 选项错误。答案选择 C。



2.某银行组织员工参加周末公益活动,有 80%的员工报名参加。其中报名参加周六活动的人数与报名参加周日活动的人数之比是 2:1,两天的活动都报名参加的为只报名参加周日活动人数的 50%,则未报名参加活动的人数是只报名参加周六活动的人数的( )。

- A.50%
- B.40%
- C.30%
- D.20%

【答案】B。周六日都报名参加的有  $x$  人,则只报名参加周日的有  $2x$ ,报名参加周六的有  $6x$ 。只报名参加周六的有  $5x$ 。未报名参加的有  $2x$ 。因此所求比例为 40%。B 选项正确, A、C、D 选项错误。答案选择 B。

3.某单位组建兴趣小组,每人选择一项参加,羽毛球组人数是乒乓球组人数的 2 倍,足球组人数是篮球组人数的 3 倍,乒乓球组人数的 4 倍与其他 3 组人数的和相等,则羽毛球组的人数等于( )。

- A.足球组人数的 1.5 倍
- B.足球组与篮球组人数之和
- C.乒乓球组和篮球组人数之和
- D.篮球组人数的 3 倍

【答案】B。根据题目可知:  $4 \text{ 乒乓} = \text{羽毛球} + \text{篮球} + \text{足球}$ 。羽毛球 = 2 乒乓球。所以  $2 \text{ 羽毛球} = \text{羽毛球} + \text{篮球} + \text{足球}$ , 所以羽毛球 = 篮球 + 足球 = 2 乒乓。B 选项正确, A、C、D 选项错误。答案选择 B。

4.共有 100 个人参加某银行的招聘考试,考试内容共有 5 道题,1-5 题分别有 80 人、92 人、86 人、78 人和 74 人答对,答对了 3 道和 3 道以上的人员能通过考试,则至少有( )人能通过考试。

- A.30
- B.55
- C.70
- D.74

【答案】C。没答对 1-5 的人数分别是 20 人、8 人、14 人、22 人和 26 人,那么所有人最多错了 90 道题。答对 3 道及以上通过考试,那么不能通过考试的人应是答错 3 道、4 道、

5 道,如果要最少的人数通过考试,那么错的人必须多,因此都错 3 道题目的人数是最多的, $90 \div 3 = 30$  人,因此至少有  $100 - 30 = 70$  人通过考试。C 选项正确, A、B、D 选项错误。答案选择 C。

5.某人才专场招聘会有 300 名求职者参加,其中软件设计类、市场营销类、财务管理类和人力资源管理类分别有 100、80、70 和 50 人,则至少有 ( ) 人找到工作,才能保证一定有 70 名找到工作的人专业相同。

- A.71
- B.119
- C.258
- D.277

【答案】C。最不利构造问题,找到单种情况的最不利值,将所有情况的不利值相加,得到最不利的情况,在最不利的基础上加 1 即为答案。 $69 + 69 + 69 + 50 + 1 = 258$ 。所以 C 项正确, A、B、D 选项错误。答案选择 C。

6.某金融公司销售部有 4 名区域销售经理,每人负责的区域数相同,每个区域都正好有两名销售经理负责,而任意两名销售经理负责的区域只有一个相同。则这 4 名销售经理总共负责 ( ) 个区域的业务。

- A.6
- B.8
- C.4
- D.12

【答案】A。通过“每人负责的区域数相同,每个区域都正好有两名销售经理负责”、“而任意两名销售经理负责的区域只有一个相同”就是从后 4 个销售经理里挑出两个人组合,因此,是  $C_4^2 = 6$ , A 选项正确, B、C、D 选项错误。答案选择 A。

7.325, 118, 721, 604, ( )

- A.541
- B.431
- C.911
- D.242

【答案】A。各位数字相加等于 10,只有 A 选项符合, B、C、D 选项不符合,答案选

择 A。

8.网络管理员小王负责甲、乙、丙三个机房的巡检工作，甲、乙和丙机房分别需要每隔 2 天、4 天和 7 天巡检依次，3 月 1 日，小王巡检了 3 个机房，则他在整个 3 月有 ( ) 天不用做机房的巡检工作。

A.15

B.14

C.13

D.12

【答案】B。根据题意甲乙丙分别每 3, 5, 8 天巡检一次机房，所以 3 月需巡检甲机房 11 次，乙机房 7 次，丙机房 4 次，其中有 3 天同时巡检甲乙机房，有 2 天同时巡检甲丙机房，有 1 天同时巡视了甲、乙、丙三个机房。所以共有  $11+7+4-3-2-1+1=16$  天需巡检机房，剩下 14 天不需要巡检，故 B 选项正确，A、C、D 选项错误。答案选 B。

9.某集团有 X 和 Y 两个公司，X 公司全年的销售任务是 Y 公司的 1.2 倍，前三季度 Y 公司的销售业绩是 X 公司的 1.2 倍，如果照前三季度的平均销售业绩，Y 公司到年底正好能完成销售任务，则如果 X 公司希望完成全年的销售任务，第四季度的销售业绩需要达到前三季度平均销售业绩的 ( ) 倍。

A.1.44

B.2.4

C.2.76

D.3.88

【答案】C。设 Y 公司前三季度的销售业绩为 12，则其每季度的销售业绩为 4，全年的销售业绩为 16。根据题意，X 公司的销售任务为  $16 \times 1.2$ ，前三季度已完成 10，还剩 9.2，则第四季度完成的销售业绩为 9.2，前三季度的平均业绩为  $10/3$ 。因此，第四季度的销售业绩是前三个月的  $9.2 \div 10/3=2.76$  倍。C 选项正确，A、B、D 选项错误。答案选择 C。

10.1, 7, 17, 31, 49, ( )

A.69

B.67

C.71

D.65



【答案】C。两两做差得到差数列：6，10，14，18，(22) 未知项=49+22=71，C 选项正确，A、B、D 选项错误。答案选择 C。

11.在某次关于获取信息渠道的调查中，问卷回收率是 90%。有 179 名调查对象使用搜索引擎获取信息，146 名调查对象从官方网站获取信息，246 名调查对象从社交网站获取信息，同时使用这三种方式的有 115 名调查对象，使用其中两种的有 24 名调查对象，另有 52 名调查对象这三种方式都不使用，则这次调查共发出了（ ）份问卷。

- A.310
- B.360
- C.390
- D.410

【答案】D。三集合问题非标准公式。带入公式： $A+B+C-满足 2 条件-2ABC+非 ABC=$  总数。总数=369 份。 $369 \div 0.9=410$ 。D 选项正确，A、B、C 选项错误。答案选择 D。

12.8，8，( )，24，60，180

- A.14
- B.16
- C.12
- D.10

【答案】C。两两做商，商数列是 1，(1.5) (2)，2.5，3，因此未知项=24/2=12。C 选项正确，A、B、D 选项错误。答案选择 C。

13.某公司实行师徒制，师徒两人合作完成一项工程，由于配合的好，师傅的工作效率比单独做时要提高 1/10。徒弟的工作效率比单独做时提高 1/5。两人合作六天，完成全部工程的 2/5，接着徒弟又单独做 6 天，这时这项工程还有 13/30 未完成。如果这项工程由师傅一人做，则需（ ）天完成。

- A.36
- B.33
- C.42
- D.30

【答案】B。设工程总量为 1，徒弟独做 6 天完成： $1-2/5-13/30=1/6$ ，徒弟独做的效率为  $1/6 \div 6=1/36$ ，师徒合作时徒弟的效率为： $1/36 \times (1+1/5)=1/30$ ，师傅单干时的效率为： $1/30$

$\div (1+1/10) = 1/33$ , 师傅单独做需要的时间  $1 \div 1/33 = 33$  天, 选项 B 正确, 选项 A、C、D 不正确, 故本题应选 B 项。

14.0, 9, 26, 65, 124, ( )

A.215

B.216

C.186

D.217

【答案】D。题干规律为  $1^3-1=0, 2^3+1=9, 3^3-1=26, 4^3+1=65, 5^3-1=124, 6^3+1=127$ 。

D 选项正确, A、B、C 选项错误。答案选择 D。

15.2, 3, 6, 36, ( )

A.72

B.54

C.1296

D.48

【答案】C。 $2 \times 3 = 6, 2 \times 3 \times 6 = 36$ , 故  $2 \times 3 \times 6 \times 36 = 1296$ , 选项 C 正确, 选项 A、B、D 不正确, 故本题应选 C 项。

16.某机构原有 45 名员工, 从下级机构调入 5 名党员员工后, 该机构的党员人数占总人数的比重上升了 6 个百分点, 如果该机构又有 2 名员工入党, 则该机构现在的党员人数占总人数的比重为 ( )。

A.40%

B.70%

C.50%

D.60%

【答案】C。假定原有党员数量为 M, 根据题意可得:  $(M+5) \div (45+5) - M \div 45 = 6\%$ , 解得  $M=18$ 。故该单位现在党员人数所占比重为  $(18+5+2) \div (45+5) = 50\%$ 。选项 C 正确, 选项 ABD 不正确, 故本题应选 C 项。

17.某银行机构 20 人参加百分制的岗位资格考试, 及格线为 60 分, 20 人的平均成绩为 88 分, 及格率为 95%。所有人的份均为正数, 且彼此得分不同。则成绩排名第十的人最低考了 ( ) 分。

- A.91
- B.90
- C.89
- D.88

【答案】C。设成绩排名第十的人考 X 分，若要 X 最低，则其他人考分都要尽量高，由“及格率为 95%”可知有一人不及格，即第 20 名最高可考 59 分，第 1 名最高可以考 100 分，“所有人的份均为正数，且彼此得分不同”，第 2 名最高可考 99 分，第 3 名 98 分，以此类推，第 9 名可考 92 分，第 11 名可考 X-1 分，第 12 分可考 X-2 分，……第 19 名最高可考 X-9 分，由“20 人的平均成绩为 88 分”，可列式为  $100+99+98+\dots+92+X+X-1+X-2+\dots+X-9+59=88\times 20$ ，解得  $X=88.2$ ，最低不能低于 88.2，只能向上取整为 89。选项 C 正确，选项 A、B、D 不正确，故本题应选 C 项。

### 综合能力测试-资料分析（共 15 个小题）

根据下列资料，回答问题。

2016 年，A 省完成港口货物吞吐量 13.3 亿吨，同比增长 14.2%，其中外贸货物吞吐量 2.0 亿吨，增长 24.5%。港口货物吞吐量中，集装箱吞吐量达 878.0 万标准集装箱，增长 3.1%。

2016 年末，全省公路里程 14.2 万公里，新增 1071.1 公里。年末高速公路里程 3755 公里。铁路营业里程 1642.1 公里，铁路正线延展长度 2381.8 公里。

2016 年末，全省民用汽车保有量 458.1 万辆，净增 84.9 万辆，分别增长 22.8% 和 97.5%。年末私人汽车保有量 338.2 万辆，净增 74.9 万辆，分别增长 28.5% 和 106%。其中私人轿车保有量 216.5 万辆，净增 56.4 万辆，分别增长 35.2% 和 59.3%。

	货物周转量		货运量		旅客周转量		客运量	
	绝对数 (亿 吨公里)	比上年增长 (%)	绝对数 (万 吨)	比上年增长%	绝对数 (亿 人公里)	比上年增长 (%)	绝对数 (万 人次)	比上年增长 (%)
总计	5154.5	8.5	160966.8	9.2	1423.3	8.1	201262.9	9.5
铁路	323.9	-6.2	6137.4	19.1	311.3	-2.4	9167.2	3.6
公路	971.1	9.7	104002	8.8	1058	11.2	191001	9.8
水路	3372.1	10.1	42016	9.1	1.4	85.6	686.5	9.7
民航	0.6	-3.6	4.4	-5.1	52.7	15.4	408.2	16.3
管道	486.8	6.4	8807	8.8				

1.2015 年，A 省完成港口货物吞吐量约为 ( ) 吨。

- A.11.6
- B.13.3
- C.10.8



D.15.5

【答案】A。2015 年港口货物吞吐量= $13.3 \div (1+14.2\%) = 11.6$ 。A 选项正确，B、C、D 选项错误。答案选择 A。

2.2015 年末，该省除私人轿车之外的私人汽车保有量为（ ）辆。

A.109.9

B.121.7

C.103.2

D.140.2

【答案】C。通过“年末私人汽车保有量 338.2 万辆，净增 74.9 万辆，……其中私人轿车保有量 216.5 万辆，净增 56.4 万辆，”那么除私人轿车之外的私人汽车保有量  $338.2 - 74.9 - (216.5 - 56.4) = 103.2$ 。C 选项正确，A、B、D 选项错误。答案选择 C。

3.2016 年，A 省下列各项同比增长最快的是（ ）。

A.公路货物周转量

B.水路货运量

C.铁路货运量

D.民航货物周转量

【答案】C。表中 A 项 9.7%，B 项 9.1%，C 项 19.9%，D 项 -3.6%，C 选项正确，A、B、D 选项错误。答案选择 C。

4.表中四种客运方式中，2016 年平均每人运输距离高于 2015 年水平的有（ ）种

A.2

B.3

C.1

D.4

【答案】A。平均每人运输距离=距离÷人次，分子增长率大于分母增长率，平均值上升。有两个（公路、水路）。

5.关于该省交通运输状况，能够从上述资料中推出的是（ ）。

A.2016 年该省客运平均每人运输距离超过 100 公里

B.2016 年管道货物周转量超过货物周转总量的一成

C.2016 年末，高速公路里程占全省公路总里程比重超过 3%

D.2015 年末，全省民用汽车保有量超过 300 万辆

【答案】D。

A 项：2016 年客运平均每人次运输距离为  $14233000 \div 201262.9 \approx 70$ ，错误；

B 项：2016 年管道货物周转量 486.8 亿吨公里，货物总周转量 5154.5 亿吨公里，不足 10%，错误；

C 项，高速公路里程占全省公路总里程的比重为  $3755 \div 142000 \times 100\% \approx 2.6\% < 3\%$ ，错误；

D 项，2015 年末，全省民用汽车保有量 =  $458.1 - 84.9 = 373.2$ 。A、B、C 三项均错，故可推知 D 项正确。

D 选项正确，A、B、C 选项错误。故本题选 D。

根据下列资料，回答问题。

2017 年 1-5 月份，全国规模以上工业企业实现利润总额 23816.4 亿元，同比增长 6.4%，增速比 1-4 月份回落 0.1 个百分点。

1-5 月份，在规模以上工业企业中，国有控股企业实现利润总额 4290.2 亿元，同比下降 7.3%；集体企业实现利润总额 177.8 亿元，下降 2%；股份制企业实现利润总额 15992.9 亿元，增长 7.6%，外商及港澳台商投资企业实现利润总额 6082.9 亿元，增长 6%，私营企业实现利润总额 8488.9 亿元，增长 9.4%。

1-5 月份，采矿业实现利润总额 66.6 亿元，同比下降 93.8%，制造业实现利润总额 21632.6 亿元，增长 12.5%；电力、热力、燃气及水生产和供应业实现利润总额 2117.2 亿元，增长 1.3%。

1-5 月份，在 41 个工业大类行业中，32 个行业利润总额同比增加，1 个行业持平，8 个行业减少。主要行业利润情况如下：农副食品加工业利润总额同比增长 11.7%，纺织业增长 6.9%，石油加工、炼焦和核燃料加工业增长 3 倍，化学原料和化学制品制造业增长 14.7%，非金属矿物制品业增长 4.1%，黑色金属冶炼和压延加工业增长 74.8%，有色金属冶炼和压延加工业增长 13.4%，通用设备制造业增长 2%，专用设备制造业增长 2.3%，汽车制造业增长 8.9%，电气机械和器材制造业增长 18.4%，计算机、通信和其他电子设备制造业增长 13.5%，煤炭开采和洗选业下降 73.4%，电力、热力生产和供应业下降 0.1%，石油和天然气开采业由同期盈和转为亏损。

6.2016 年 1-5 月份，全国规模以上工业企业实现利润总额约为（ ）亿元。

A.25469

B.23500

C.22384

D.21612

【答案】C。根据材料， $23816.4 / (1+6.4\%) \approx 23816 \div 106\% = 22467$ ，和 C 选项接近，C 项正确，A、B、D 选项错误。答案选择 C。

7.2017 年 1-5 月份，外商及港澳台商投资企业实现利润总额占规模以上工业企业实现利润总额的比重约为（ ）。

A.32%

B.26%

C.17%

D.12%

【答案】B。根据材料， $6082.9/23816.4$ ，上下约分，约为 1/4，接近 25%，故 B 项正确，A、C、D 选项错误。答案选择 B。

8.2017 年 1-5 月份，以下哪个行业利润总额同比增速最快？（ ）

A.电气机械和器材制造业

B.有色金属冶炼和压延加工业

C.化学原料和化学制品制造业

D.农副食品加工业

【答案】A。根据材料，电气为 18.4%，有色为 13.4%，化学为 14.7%，农产品为 11.7%。故 A 项正确，B、C、D 选项错误。答案选择 A。

9.2016 年 1-5 月，制造业实现利润总额约是私营企业实现利润总额的（ ）倍。

A.3.3

B.2.4

C.2.1

D.1.4

【答案】B。 $(21632.6/8488.9) \times (1+9.4\%) / (1+12.5\%) \approx 2.47$  与 B 项接近，B 选项正确，A、C、D 选项错误。答案选择 B。

10.能够从上述资料中退出的是（ ）。



- A.2017 年 1-5 月份工业主要行业利润同比增长超过 10%的有 7 个
- B.2017 年 1-5 月份在 41 个工业大类行业中，同比减少的行业所占比例大于 20%
- C.2017 年 1-4 月份全国规模以上工业企业实现利润总额同比增长 6.3%
- D.2016 年 1-5 月份采矿业实现利润总额小于 100 亿元

【答案】A。综合分析。A 项，通过材料最后一段可知，工业主要行业利润同比超过 10% 的是：农副食品加工业，石油加工、炼焦和核燃料，化学原料和化学制品，黑色金属冶炼和压延加工业，有色金属冶炼和压延加工业，电气机械和器材制造业，计算机、通信和其他电子设备制造业这七个行业，因此 A 项正确；B 项，通过“1-5 月份，在 41 个工业大类行业中，32 个行业利润总额同比增加，1 个行业持平，8 个行业减少”同比减少的行业所占比重  $8/41 < 20\%$ ，B 项错误；C 项，通过“2017 年 1-5 月份，全国规模以上工业企业实现利润总额 23816.4 亿元，同比增长 6.4%，增速比 1-4 月份回落 0.1 个百分点。”可知 1-4 月份的增速为  $6.4\% + 0.1\% = 6.5\%$ ，C 项错误；D 项，基期量计算，通过“1-5 月份，采矿业实现利润总额 66.6 亿元，同比下降 93.8%”，基期量  $= 66.6 \div (1 - 93.8\%) = 1074$  亿元，超过 100 亿元。D 项错误。A 项正确，B、C、D 选项错误。答案选择 A。

根据下列资料，回答问题。

2017 年上半年，我国服务业增加值 184290 亿元，增长 7.5%，占 GDP 比重 54.1%，比第二产业高出 14.7 个百分点，比上年同期提高 1.8 个百分点。服务业对国民经济增长的贡献率为 59.7%，比第二产业高出 22.3 个百分点。

2017 年上半年，服务业完成固定资产投资 149198 亿元，同比增长 11.7%，增速高于第二产业 7.3 个百分点；占全部固定资产投资比重 57.7%，比上年同期提高 1.4 个百分点，高于第二产业 18.3 个百分点。其中，基础设施投资（不含电力、热力、燃气及水生产和供应业）49085 亿元，增长 20.9%。从到位资金情况看，上半年全国到位资金 282443 亿元，同比增长 8.0%。其中国家预算资金增长 21.8%，国内贷款增长 12.4%，自筹资金增长 1.4%，利用外资下降 7.2%。上半年，新开工项目计划总投资 240202 亿元，同比增长 25.1%。

2017 年上半年全社会用电量同比增长 2.7%，增速比上年同期加快 1.4 个百分点。其中，服务业用电量同比增长 9.2%，增速超过第二产业 8.7 个百分点，加快 1.1 个百分点，占全社会用电量的比重为 13.4%，比上年同期提高 0.6 个百分点。

11.2017 年上半年我国第二产业增加值最接近以下那个数值？（ ）

- A.134250 亿元

B.142210 亿元

C.128090 亿元

D.151860 亿元

【答案】A。根据：“我国服务业增加值 184290 亿元，增长 7.5%，占 GDP 比重 54.1%，比第二产业高出 14.7 个百分点”可知 2017 年上半年第二产业增加值=184290÷54.1%×(54.1%-14.7%)=134214.9，与 A 项接近。答案选择 A。

12.2017 年上半年，以下各项中按同比增速从高到低排序正确的是（ ）。

A.服务业完成固定资产投资>国内贷款>服务业用电量>全国到位资金

B.服务业用电量>服务业增加值>第二产业用电量>全社会用电量

C.服务业增加值>利用外资>全社会用电量>自筹资金

D.国家预算资金>基础设施投资>第二产业完成固定资产投资>第二产业用电量

【答案】D。A 项中服务业完成固定资产投资 11.7%<国内贷款 12.4%，错误。B 项中第二产业用电量 0.5%<全社会用电量 2.7%。C 项中利用外资-7.2%<全社会用电量 2.7%错误。D 中国家预算资金 21.8%>基础设施投资 20.9%>第二产业完成固定资产投资 11.7%-7.3%=4.4%>第二产业用电量 0.5%，正确。D 选项正确，A、B、C 选项错误。答案选择 D。

13.2017 年上半年，新开工项目计划总投资比上年同期约增加了（ ）亿元。

A.47856

B.46679

C.48194

D.45928

【答案】C。增长量计算。通过“新开工项目计划总投资 240202 亿元，同比增长 25.1%”可知  $240202 \times 25.1\% \div (1+25.1\%)$  其中  $25.1\% \approx 1/4$ ，那么结果等于  $240202 \div 5 = 48+$ ，答案选择 C。

14.与 2015 年上半年相比，2017 年上半年全社会用电量的增速约为（ ）。

A.4%

B.8.1%

C.3.5%

D.17.3%

【答案】A。隔期增长率。 $R=r_1+r_2+r_1\times r_2=2.7\%+1.3\%+2.7\%\times 1.3\%\approx 4.0\%$ 。A 选项正确，B、C、D 选项错误。答案选择 A。

15.根据上述资料，下列说法正确的是（ ）。

- A.2017 年上半年全部固定资产投资超过 26 万亿元
- B.2016 年上半年服务业完成固定资产投资在全部固定资产投资中的占比超过一半
- C.2016 年上半年服务业用电量占全社会用电量的比重为 14%
- D.2017 年上半年第二产业对国民经济增长的贡献最小

【答案】B。

A 项中全部固定资产投资=149198÷57.7%=258575<26 万，错误。

B 项通过“服务业完成固定资产投资 149198 亿元……占全部固定资产投资比重 57.7%，比上年同期提高 1.4 个百分点”可知大于一半，正确。

C 项通过“服务业用电量……占全社会用电量的比重为 13.4%，比上年同期提高 0.6 个百分点。”可知 2016 年上半年服务业用电量占全社会用电量的比重为 13.4%-0.6%=12.8%；

D 项由“服务业对国民经济增长的贡献率为 59.7%，比第二产业高出 22.3 个百分点。”可知 2017 年上半年第二产业对国民经济增长的贡献率为 59.7%-22.3%=37.4%，第一产业对国民经济增长的贡献率为 1-59.7%-37.4%=2.9%，可知 2017 年上半年对国民经济增长的贡献最小的是第一产业，D 项错误。

B 选项正确，A、C、D 选项错误。故本题应选 B。

### 第三单元（题量 15）

#### 英语（共 15 个小题）

In the United States of America, banks are categorized into the federally-chartered bank with receives their charter from the Office of the Comptroller of the Currency (OCC); these are referred to as “National Banks”; and also the states-chartered banks which receive their charter from the superintendent to as “State Banks” Banks are allowed to register either with the federal or the state authority. Let us now look at the organizational structure of Commercial Banks, which include unit banking, group banking and branch banking.

The main characteristic of unit banking is that it can operate only a single full service bank from a single location. Unit banking institutions are not allowed to have branch networks.



However, unit banking does not necessarily have to be small. In fact, many unit banks are quite large.

Group banking refers to banking operations conducted by a corporation owning more than one bank. The group banking system usually exists in the states where branch banking is prohibited.

As for branching, it is sometimes referred to “limited branching” or “stateside branching”. Limited branching allows bank to operate branches within geographic territories authorized by the state law. Stateside branching implies that bank branches are allowed to operate anywhere within the state. New York State, California, Florida and some others are stateside branch banking areas while Minnesota, Arkansas, Iowa and others are limited branching areas.

In the United States, there are also specialized banks including the Edge Act Banks, the international Banking Facility, the bankers’ banks, the savings banks, the savings and loans associations, the credit unions and government owned and the Real Estate Investment Trust (REIT).

There are also non-bank financial institutions in the USA, including the securities firms, the leasing and commercial finance companies, the mortgage bankers and the Real Estate Investment Trust (REIT).

Let us now look at the Federal System. Commonly known as the Federal Reserve Bank or the “Fed”, this is the Central Bank of the United States founded in 1913. It determines the reserve requirement within limits set by the US Congress. The function of the Fed is economic stabilization through the management of the nation’s money supply. The Federal Reserve System comprises a board of governors with 7 members stationed in Washington D.C. Reserve Banks, including Boston, New York City, Dallas and San Francisco.

The Federal Reserve Act (FRA) 1913 set out the powers of the Fed which, on top of the regular central bank’s objectives, emphasize the following:

- i. Managing the monetary system and money supply of the USA;
- ii. Providing funds as the lender of last resort;
- iii. Providing for an efficient clearing system;
- iv. Providing a rigorous banking supervision system.

1. Which of the following is NOT true? ( )

A. National Banks in the USA refers to “State Banks”

B. The group banking system usually exists in the states where branch banking is prohibited.

C. Stateside branching implies that bank branches are allowed to operate anywhere the state.

D. Limited branching allows bank to operated branches within geographic territories authorized by the state law.

【答案】A。选非题。第一段提及“National Banks”是国家银行，“State Banks”是州银行，两者并非相同，A 选项错误；B 选项，由“The group banking system usually exists in the states where branch banking is prohibited.”可知 B 选项正确；C 选项，由“Stateside branching implies that bank branches are allowed to operate anywhere within the state.”可知 C 选项正确；D 选项，由文中“Limited branching allows bank to operate branches within geographic territories authorized by the state law.”可知 D 选项正确。A 选项符合题意，BCD 不合题意，故本题应选 A。

2. Which of the following is TRUE? ( )

A. The Fed undertakes banking supervision over banking system in the USA.

B. The savings banks in the USA are authorized to do real estate business by some states' law

C. Specialized banks in the USA provide funds as the lender of last resort.

D. Specialized banks in the USA are the same to those in China.

【答案】A。细节题。文中提到美联储 Fed 的权力，包括“Providing a rigorous banking supervision system.”即提供严格的银行监管体系。A 选项正确，BCD 选项错误。故本题应选 A。

3. What is the charting authority of the USA for banks? ( )

A. FRA

B. Laws of states

C. Fed

D. OCC

【答案】C。细节题。由“The Federal Reserve Act (FRA) 1913 set out the powers of the Fed which, on top of the regular central bank's objectives”可知美联储居于银行系统的权威地位。C 选项正确，BCD 选项错误。故本题应选 C。

4. What is included in the commercial banking system of the USA? ( )

- A. The Fed banks, the State banking and group banking.
- B. The Fed banking, the state banking and region banking.
- C. Unit banking, group banking and branch banking.
- D. Sepcialized banks, group banking and unit banking.

【答案】C。细节题。文中第一段提到“Let us now look at the organizational structure of Commercial Banks, which include unit banking, group banking and branch banking.”因此商业银行系统包括了“unit banking, group banking and branch banking”。C 选项正确，ABD 选项错误。故本题应选 C。

5. Which of the following title best suits the passage? ( )

- A. Banking and Non-banking in the USA.
- B. Banks in the USA.
- C. Bankers in the USA.
- D. Banking in the USA.

【答案】D。主旨题。虽然文中提及“There are also non-bank financial institutions in the USA”但是从开篇到设计美联储的职能重点在于介绍美国的银行业。因此应为 Banking in the USA.D 选项正确，ABC 选项错误。故本题应选 D。

Seeking to end a stalemate in negotiations over her country's withdrawal from the European Union, Prime Minister Theresa May of Britain offered Friday substantial payments to the bloc during a two-year transition period immediately after the country's exit.

Mrs. May's long-awaited intervention, during a speech in Florence, Italy, was being watched closely in capitals on the Continent and in London, where members of her cabinet have been fiercely divided over Britain's tortuous divorce from the bloc. The speech aimed to open the way to serious negotiations on what is commonly known as Brexit, and to a broader and more productive discussion about Britain's relationship with the bloc.

However, while offering some concessions designed to do that, Mrs. May did not give any fresh insight into the type of ties she ultimately wants Britain to have to the bloc a question that divides her cabinet and her Conservative, or Tory, Party.

The European Union's chief negotiator, Michel Barnier issued a cautious response, saying in



a statement that, “We look forward to the United Kingdom’s negotiators explaining the concrete implications of Prime Minister Theresa May’s speech. Our ambition is to find a rapid agreement on the conditions of the United Kingdom’s orderly withdrawal, as well as on a possible transition period.”

Although Britain is scheduled to exit the European Union in 2019, there has been little progress in talks since March, when London formally announced its intention to leave. Brussels is insisting that Britain agree to the terms of the divorce before discussing future trade ties, while the British would like to do both simultaneously.

In light of the continuing standoff, many businesses worry about a “cliff edge” scenario, in which Britain would crash out without a deal, so Mrs. May is under pressure to find a way out of the impasse. Speaking in Florence on Friday, Mrs. May did not say precisely how much money Britain would continue to contribute to the European Union. But she made a significant promise that the British who are big net contributors to the bloc would not leave a hole in the union’s budget in 2019 and 2020.

“I do not want our partners to fear that they will need to pay more or receive less over the remainder of the current budget plan as a result of our decision to leave.” Mrs. May said. That would probably mean payments of around 20 billion euros, or about \$24 billion, after Britain’s departure. It would also effectively maintain the status quo for the duration of a two-year transition period, meaning that Britain would allow the free movement of European workers and accept rulings from the European Court of Justice. This alone is unlikely to be enough to satisfy the 27 other member nations, but Mrs. May hinted that she would be willing to go further and “honor commitments we have made during the period of our membership.”

In addition, Mrs. May proposed a security partnership with the European Union, stressing Britain’s importance as a defense power, and also offered new legal safeguards to guarantee the rights of European Union citizens in Britain after Brexit.

Over all, Mrs. May sought to stress the common interest London shares with continental European capitals in reaching an agreement and avoiding disruption to trade, wrapping here offer in dialogue that was more positive, and less antagonistic, than that of some previous interventions.

European Union negotiators have refused to talk about post-Brexit ties until they judge that

there is “sufficient progress” on the issues they consider a priority: the status of European Union citizens in Britain after it leaves, the border between Ireland and Northern Ireland(which is a part of the United Kingdom) and Britain’s financial commitments to the bloc.

There is little sign yet that the other 27 nations are prepared to grant Britain a bespoke agreement, and officials have warned London on numerous occasions that there would be no “cherry picking” of the parts of European Union membership it likes.

6. What’s the purpose of May’s speech? ( )
- A. To demonstrate here resolve to divorce Britain from EU.
  - B. To pave the way for dialogues and negotiations with EU on Brexit.
  - C. To comfort the sentiment of British people.
  - D. To end the division between her cabinet and the Conservative Party.

【答案】B。细节题。由文中第一句 “Seeking to end a stalemate in negotiations over her country’s withdrawal from the European Union.”可知特蕾莎·梅是为英国脱欧谈判开辟道路，避免陷入僵局。B选项符合题意，ACD选项错误。故本题应选B。

7. Theresa May’s speech mentioned the following things except ( ) .
- A. The rights of EU’s citizens will be protected in Britain after the divorce.
  - B. Britain would be willing to continue to fulfill the commitment they have during the period of membership.
  - C. A good trade relation between Britain and the EU is in line with the interests of both sides.
  - D. Britain will provide 20 billion euros to EU during the transition period.

【答案】D。选非题。D选项，“That would probably mean payments of around 20 billion euros, or about \$24 billion, after Britain’s departure.”说明具体金额不确定，并未确切说明是20 billion。A选项，由 “It would also effectively maintain the status quo for the duration of a two-year transition period, meaning that Britain would allow the free movement of European workers and accept rulings from the European Court of Justice.”可知欧盟成员国家公民的权利依然可以得到保障，A选项有提及；B选项，由 “Mrs. May hinted that she would be willing to go further and “honor commitments we have made during the period of our membership”可知，英国会继续兑现对欧盟成员国的承诺；C选项，由 “Over all, Mrs. May sought to stress the common interest London shares with continental European capitals in reaching an agreement and avoiding

disruption to trade”可知其强调维持良好的贸易关系的共识；故本题应选 D。

8. There's a stalemate between EU and Britain after Brexit because ( ).

- A. The two sides have not reached an agreement on conditions of Britain's orderly exit.
- B. Britain refuses to fill the financial hole of the EU.
- C. British People are divided on the issue of Brexit.
- D. EU does not want Britain to exit from it.

【答案】A。细节题。文中第一句话“Seeking to end a stalemate in negotiations over her country's withdrawal from the European Union.”说明特蕾莎·梅演讲的目的也说明了两方陷入僵局的原因 “The speech aimed to open the way to serious negotiations on what is commonly known as Brexit, and to a broader and more productive discussion about Britain's relationship with the bloc.”试图进行谈判进行结局。BCD 选项未提及。故本题应选 A。

9. According to the passage, which of the following statement is true? ( )

- A. Britain has agreed to discuss the conditions of the exit before discussing the future trade ties.
- B. Theresa May has mapped out the blue print of the relations between Britain and EU.
- C. EU might not be satisfied with May's Speech.
- D. Britain is fully prepared to withdraw from EU in an orderly way.

【答案】C。细节题。C 选项，由文中“European Union negotiators have refused to talk about post-Brexit ties until they judge that there is “sufficient progress” on the issues they consider a priority: the status of European Union citizens in Britain after it leaves, the border between Ireland and Northern Ireland(which is a part of the United Kingdom) and Britain's financial commitments to the bloc.”可知此次演讲尚未涉及到一些的重要话题，欧盟国家对此表示不满，拒绝进一步谈判英国脱欧的相关事宜。C 选项符合文意。A 选项，文中 “Brussels is insisting that Britain agree to the terms of the divorce before discussing future trade ties, while the British would like to do both simultaneously.”说明英国方面希望脱欧谈判与未来贸易关系问题讨论可以同时进行，A 选项描述错误；B 选项，特蕾莎·梅对于英国与欧盟关系尚未有一个详细的规划，譬如资金投入方面也仅有一个大致的承诺；D 选项 “Although Britain is scheduled to exit the European Union in 2019, there has been little progress in talks since March,” 说明目前脱欧事宜进展不佳，D 选项不符合文意。



10. What's the main idea of this passage? ( )

- A. Theresa May makes financial commitment to EU for the transition period.
- B. Britain insists on leaving EU without any agreement.
- C. EU won't talk to Britain unless Britain makes concession.
- D. Theresa May seeks to unlock Brexit talks in her speech.

【答案】D。主旨题。本文从开篇“Seeking to end a stalemate in negotiations over her country's withdrawal from the European Union.”即表明特蕾莎·梅希望开启脱欧谈判，并且开始表明英国方面的态度和承诺，大段叙述其演讲的内容以及欧盟国家对其演讲的态度。说明本文主旨是特蕾莎·梅尝试通过演讲开启英国脱欧事宜的谈判和磋商。D选项符合题意，ABC不合题意。故本题应选D。

Our rates on certificate of deposits are among the best in the industry. The rate may vary on day-to-day basis. For CD's of above \$250,000.00, the interest is simple i.e. not compound; therefore, annual percentage yield is same as annual interest rate. The interest is payable on the day of maturity of deposit. Interest paid during the year is reported to Internal Revenue Services. For today's rates please refer to Current Rates of Interest on STAR CDs.

Maturity Period: Flexible to your needs.

You may choose any maturity date with a minimum period of 7 days to a maximum period of 1 year to suit your needs. Your CD is automatically renewed for the same period in absence of any other instruction, at the ruling rate of interest on the date of renewal. There is no grace period for automatic renewal of deposits on maturity. For deposits issued for 1 year or more, we send maturity notices to the depositors 2 to 4 weeks before the due date.

Minimum Amount: Easy to Start

The minimum amount accepted is USD 2000

Other Features:

- 1.FDIC Insurance Up to \$100,000
- 2.Facility to Open Joint & Corporate Accounts

Additional Deposits:

Additional amounts deposited into an account will be treated as fresh deposits & separate certificate of deposits will be issued for such deposits

Early Withdrawal:

Withdrawal of deposit before its date of maturity may be allowed at bank's discretion. In that event, interest will be paid at the rate applicable for the period for which the deposit remained with the bank or the contracted rate, whichever is lower, as prevailing on the date of deposit, less one percent. However, no interest shall be paid on the deposit which runs for less than 30 days. There is on other penalty or charge on early withdrawal.

11. Bank of India CDs are safe because ( ).

A. CD is a safe instrument.

B. Bank of India is safe.

C. CD is insured.

D. All of the above.

【答案】A。本文主要强调的是 CDs 安全性高的原因在于这个金融产品本身的设计特点。所以原因在于 CD 是安全的交易工具，与国别无关。A 选项符合题意，BCD 选项错误。故本题应选 A。

12. The CDs' annual percentage yield is ( ) annual interest rate.

A. more than

B. less than

C. the same as

D. not comparable with

【答案】C。细节题。原文“annual percentage yield is same as annual interest rate”可知 C 选项正确，ABD 选项错误。故本题应选 C。

13. Which of the following statements is true?( )

A. CD is automatically renewed for the same period unless having other instruction.

B. CD isn't automatically renewed for the same period at the ruling rate of interest on the date of renewal.

C. CD is automatically renewed for the same period without any other instruction.

D. CD is automatically renewed for the same period with permission of the bank manager.

【答案】C。细节题。选项中描述的都是“automatically renewed”即自动续期问题，原文中“Your CD is automatically renewed for the same period in absence of any other instruction”

说明无任何附加条件即可自动续期, 可知 C 选项符合题意, ABD 选项错误。故本题应选 C。

14. For deposit running for more than 30 days, early withdrawal may be ( ), ( ) penalty or charge.

- A. allowed, without
- B. banned, with
- C. allowed, with
- D. banned, without

【答案】C。细节题。本题主要涉及“early withdrawal”提前取现问题。由“Withdrawal of deposit before its date of maturity may be allowed at bank’s discretion.”“However, no interest shall be paid on the deposit which runs for less than 30 days. There is on other penalty or charge on early withdrawal.”可知提前取现是允许的, 但是会有相应的处罚和收费。C 选项符合题意, ABD 选项错误。故本题应选 C。

15. According to the passage, which of the following is NOT true about Star CD?( )

- A. The minimum amount to invest is USD 2000.
- B. You may choose any maturity date as you wish.
- C. The rates on certificate of deposits may vary day to day.
- D. Separate certificates of deposits will be issued for additional deposits.

【答案】B。选非题。B 选项, 由“You may choose any maturity date with a minimum period of 7 days to a maximum period of 1 year to suit your needs.”可知选择到期日由时间范围 7 天-1 年而非任意选择, B 选项错误。A 选项, 由“The minimum amount accepted is USD 2000”可知 A 选项正确; C 选项, 由“The rate may vary on day-to-day basis.”可知利率会每日有所变动, C 选项正确; D 选项, 由“Additional amounts deposited into an account will be treated as fresh deposits & separate certificate of deposits will be issued for such deposits”可知额外的存款会有单独的存款证明, D 选项正确。B 选项符合题意。ACD 不合题意。故本题应选 B。





**【扫码进群获取更多笔试指导】**



**【扫码进群获取更多笔试指导】**