

2018建设银行春季校园招聘 笔试考题



关注公众号

及时获取2020银行春招资讯



好老师 好课程 好服务

2018.04.22 建设银行春招考题解析

第一单元 (题量 65)

职业基本知识测试-单项选择题 (共 40 个小题)

1. 下列程序设计语言中, 属于面向过程的是 ()。

A. Java

B. C 语言

C. C++

D. Visual Basic

2. 固定资产占比是商业银行衡量中小企业客户资产规模的重要指标。信贷员小王在分析某目标客户的资产情况时发现以下情况。其中企业处置不恰当的是 ()。

A. 特定固定资产弃置费用的现值, 企业计入该资产的成本

B. 融资租入固定资产发生的费用化后续支付, 企业计入当期损益

C. 未投入使用的固定资产, 企业没有计提折旧

D. 季节性停用的机械设备, 企业依然计提折旧

3. Word2010 文档的默认后缀扩展名为 ()。

A. .doc

B. .exe

C. .txt

D. .docx

4. 对某小区居民的人均收入进行调查, 首先随机抽取一幢居民楼, 然后对居民楼的所有住户进行调查, 该调查方法是 ()。

A. 简单随机抽样

B. 整群抽样

C. 等距抽样

D. 分层抽样

5. 数据库系统, 将计算机科学和人类理解认知的数据管理方式衔接在一起, 从上世纪五十年代开始就影响并改变世界。常用的主要有 Oracle、MySQL、DB2 等。下列关于数据库系统的说法, 正确的是 ()。

(1) 数据库系统可以采用 C/S 体系结构。Client 负责显示用户界面信息、访问数据库服务器, Server 则用于提供数据服务。

(2) 数据库结构包括外模式、模式、内模式。其中, 一个数据库只能有一个模式。而外模式和内模式可以有一个或多个。

(3) MySQL 和 Oracle 的区别在于 MySQL 开源, 可以免费使用, 可以阅读源码和内部结构, 使得技术人员可以更广泛的交流。

(4) 数据库中有两张表, 学员表 S(SNO, SNAME) 和英语成绩单 SG(SNAME, GRADE), 用 SQL 语言找出成绩高于 80 分且不超过 90 分学生的学号: `SELECT SNO FROM G, SG WHERE S.SNAME=SG.GRADE AND GRADE>80 AND GRADE <=90`

- A. (2) (3)
- B. (1) (3)
- C. (1) (2) (4)
- D. (1) (2) (3) (4)

6. 美国营销学者杰罗姆麦卡锡将诸多市场营销因素概括为产品、定价、分销和促销, 即“4P”策略, 某商业银行推出“扫码支付立减 10 元”, 属于 () 策略。

- A. 产品
- B. 定价
- C. 分销
- D. 促销

7. 由国际知名专业财经杂志《环球金融》(Global Finance) 组织的 2017 年“全球最佳财资与现金管理银行与供应商”评选中。中国建设银行以卓越的表现荣获亚太区最佳流动性管理银行奖。以下关于流动性管理的说法不正确的是 ()。

- A. 流动性风险管理水平最能体现商业银行整体经营管理水平
- B. 我国商业银行法规定, 商业银行的流动性比例应当不低于 25%
- C. 流动性风险管理只需要考虑流动性风险一个因素
- D. 流动性风险的成因较为复杂

8. 根据《中华人民共和国票据法》规定, 下列说法正确的是 ()。

- A. 汇票上未记载付款日期的, 为见票即付
- B. 持票人对支票出票人的权利, 自出票日起一年

C. 票据上有伪造、变造的签章的，票据无效

D. 票据金额、日期不得更改，其他记载事项，原记载人可以更改，更改时应当由原记载人签章证明

9. 以下属于逻辑结构的是 ()。

A. 单链表

B. 哈希表

C. 有序表

D. 顺序表

10. 下列关 GDP 的说法中，错误的是 ()。

A. GDP 收入法计算中资本折旧也应计入

B. GDP 核算主要以法人单位作为核算单位

C. 实际统计中，我国一般以国民经济核算体系的收入法所计算出的国内生产总值为标准

D. 技术性衰退是指 GDP 连续两个季度同比增速为负值

11. 下列哪种合同属于无名合同？ ()

A. 张某将一辆车赠与女友的赠与合同

B. 某明星与广告公司签订的肖像权使用合同

C. 供电房和用电方签订的供用电合同

D. 银行与客户签订的个人住房贷款合同

12. 利率的期限结构，即零息债券的到期收益率与期限的关系可以用一条曲线来表示，如水平线、向上倾斜和向下倾斜的曲线。甚至还可能出现更复杂的收益率曲线。是债券定价的主要参考因素。以下关于利率期限结构理论说法正确的是 ()。

A. 预期理论认为长期利率与短期利率之间的关系取决于即期利率的变化

B. 市场分割理论认为，在债券定价中，流动性偏好导致了价格的差别

C. 流动性偏好理论认为，利率的期限结构是由不同市场的均衡利率决定的

D. 利率期限结构的三种理论来看，利率期限结构的形成主要是由对未来利率变化方向的预期来决定的

13. 2017 年，中国建设银行通过进一步深化银税合作，将涉税信息纳入“小微快贷”大数据体系，推出“小微快贷”子产品、“税易贷”线上版本 ()。为小微企业提供了更加便捷、有效的信贷支持。

- A. “税费贷”
- B. “银税贷”
- C. “税贷通”
- D. “云税贷”

14.在美国加州丘珀蒂诺市举行的苹果果新产品发布会上。苹果公司首席执行官蒂姆库克介绍新推出的全面屏苹果手机 iPhone X, 生产 iPhone X 手机的苹果公司是生产全面屏 Note8 手机的三星公司的 ()。

- A. 愿望竞争者
- B. 品牌竞争者
- C. 产品形式竞争者
- D. 一般竞争者 (属类竞争者)

15.下列属于经常性支出的是 ()。

- A. 支付债务利息
- B. 基本建设投资
- C. 国家储备支出
- D. 购置交通工具支出

16.企业融资来源日益多元化, 债权人差异大, 分析企业负债来源结构, 可以判断其负债的稳定性和融资成本情况。以下企业负债, 从稳定性来看, 从高到低依次为 ()。

- A. 股东借款-理财产品-企业长期债券-银行贷款-应付账款等商业信用-民间借贷
- B. 股东借款-银行贷款-理财产品-企业长期债券-应付账款等商业信用-民间借贷
- C. 股东借款-理财产品-银行贷款-企业长期债券-应付账款等商业信用-民间借贷
- D. 股东借款-企业长期债券-银行贷款-理财产品-应付账款等商业信用-民间借贷

17.某企业员工中男性占 60%, 管理人员占 20%, 现在从该企业中任选一人, 为女员工或管理人员的概率是 ()。

- A. 0.52
- B. 0.60
- C. 0.68
- D. 0.8

18.国内高精尖工业设备制造行业大多数都具备高水准的技术设备, 以及一流的研究条

件,通过独特的激励手段,还能使具备精湛技术及职业素养的“德艺双馨”之才积极努力的工作。调动整个生产线的效率。从管理学“双因素理论”角度,该行业这种积极高效工作氛围背后的秘诀是()。

A.合理的工作流程可以让员工顺利的完成任务,人性化的工作理念可以满足员工的个性化需求

B.满足员工对工资水平和福利待遇的基本期望

C.为每位员工配备工作所需的技术设备和辅助工具

D.融洽和睦让人舒适的人际关系

19.完全竞争企业面临的需求曲线的需求价格弹性为()。

A.大于零的常数

B.非零常数

C.无限大

D.零

20.下列关于财政收入的说法中,错误的是()。

A.收入规模过小,影响政府职能的实现

B.收入规模过大,影响市场机制的良性循环

C.国债收入不属于财政收入

D.财政收入表现为政府部门在一定时期内(一般为一个财政年度)所取得的货币收入

21.非货币资产交换具有商业实质且公允价值能够可靠地计量的,在发生补价的情况下,支付补价方应当以换出资产的公允价值加上支付的补价和应支付的相关税费,作为换入资产的成本;收到补价方,应当以换入资产的公允价值和应支付的相关税费,作为换入资产的成本。下列关于换出资产公允价值与其账面价值差额的会计处理正确的是()。

A.换出资产为存货的,应当以换出资产公允价值和其账面价值的差额计入营业外收入或营业外支出

B.换出资产为长期股权投资的,换出资产公允价值和账面价值的差额应计入投资收益

C.换出资产为固定资产的,换出资产公允价值和账面价值的差额应计入投资收益

D.换出资产为无形资产的,应当作为销售处理,以其公允价值确认收入,同时结转相应成本

22.A公司和B公司是生产同类产品的竞争对手,随着双方生产技术的变化,A公司发

展越来越好，B 公司则业绩惨淡，A 公司的高层为了扩展业务，决定收购 B 公司。A 公司发展业务的方式属于（ ）。

- A. 扩散增长
- B. 一体化增长
- C. 密集增长
- D. 多元化增长

23. 小张受命担任公司技术部门负责人，他发现部门某员工在没有事先请假的情况下连续缺席部门例会，既不道歉也不解释，迟到早退更是家常便饭，小张安排他完成的调研报告也是一拖再拖。作为部门领导，小张应当（ ）。

- A. 明确告诉他遵守工作纪律，并严密监督他完成调研报告
- B. 和他讨论为什么缺席例会、迟到早退，并对他完成调研报告给予鼓励
- C. 强调何时该交来调研报告，并对他的努力给予支持
- D. 认定他最终会完成调研报告交过来

24. X 公司与 2016 年 2 月 18 日召开公司董事会。董事会制定的利润分配方案如下：2015 年实现净利润 29145 万元，按 2015 年实现净利润的 10% 提取法定盈余公积，分派普通股现金股利 10000 万元。根据新准则的规定，资产负债表日后，企业利润分配方案中拟分配的以及经审议批准宣告发放的股利或利润，应当（ ）。

- A. 调整资产负债表日的财务报表
- B. 属于资产负债表日后调整事项
- C. 不确认为资产负债表日负债
- D. 无需在财务报表附注中加以单独披露

25. 日本“尿布大王”多川博让自己的员工假扮成客户，排成长队购买自己生产的尿布，营造了一种尿布旺销的热闹氛围，吸引了很多真正的客户前来排队。销量大幅提高，多川博抓住客户的心理特点制造了（ ）。

- A. 牛群效应
- B. 马群效应
- C. 狼群效应
- D. 羊群效应

26. 某家以向客户提供物业管理和租赁服务为主要经营业务的中外合资企业，总部下设

的一级分支机构在各地均有覆盖，各地区一级分支机构下又分别设置了人事部、财务部、公关部、法务部、物业管理和租赁服务部等部门，该企业目前已签订合同的商场商铺和门店租赁用户 328 家，自用和居住型公寓套房租赁用户 205 家，商务办公写字楼租赁用户 89 家，这些均由物业管理部和租赁服务部下设的商铺管理部、公寓管理部、商务写字楼管理部负责，结合管理学相关理论，该企业 and 主营业务部门的组织结构分别采用了哪种组织设计形式？（ ）。

- A. 顾客部门化和职能部门化
- B. 职能部门化和顾客部门化
- C. 均为顾客部门化
- D. 均为职能部门化

27. 下列哪种票据可以挂失支付？（ ）

- A. 商业汇票
- B. 支票
- C. 银行汇票
- D. 银行本票

28. （ ）是中国建设银行面向全国高校在校大学生推出的集电子银行特色产品、专享优惠等优质服务为一体的产品服务。签约后即可享有 AA 收款、ATM 预约取款、手机账号支付、E+ 账户绑定和查询等适用于学生特点的电子银行服务产品，也可享受免收短信服务费、卡工本费、卡年费、小额账户管理费等优惠。

- A. 莘莘无忧
- B. 悦生活
- C. 学生惠
- D. “心”服务，新体验

29. 中央银行是一国金融体系的重要组成部分。下列关于中央银行的描述中不正确的是（ ）。

- A. 在考虑经济政策时，中央银行与政府的侧重点相同
- B. 稳定币值是中央银行的首要任务
- C. 商业银行和各类金融机构均是中央银行的服务对象
- D. 中央银行业务的操作方式不应受到任何干扰

30.中国人民银行于 2017 年 9 月 30 日发布消息称。根据国务院部署，央行将对普惠金融实施定向降准政策，并从 2018 年起实施。对此，以下解读错误的是（ ）。

- A.此举将有助于缓解资金的结构性问题，降低杠杆率
- B.此举有利于支持小微企业发展
- C.此举意味着央行将在未来改变稳健货币政策的总体取向
- D.此举会释放部分流动性，稳定预期

31.某面包店平时主要销售各类面包和蛋糕，但在端午节前会重点销售粽子，中秋节前会重点销售月饼，该面包店对消费者市场的细分变量主要是（ ）。

- A.待购阶段细分
- B.使用者细分
- C.时机细分
- D.利益细分

32.2017 年 9 月，央行重启 28 天逆回购及超额续作中期借贷便利（MLF），关于央行这项举措，下列说法正确的是（ ）。

- A.这是央行收紧银根的信号之一，属于紧缩性财政政策
- B.这是央行放开银根的信号之一，属于扩张性货币政策
- C.这是央行缩进银根的信号之一，属于紧缩型货币政策
- D.这是央行放开银根的信号之一，属于扩张性财政政策

33.以下哪项说法不是税收的作用？（ ）

- A.收入分配合理化
- B.优化资源配置
- C.弥补财政赤字
- D.调节经济运行

34.2017 年，中国建设银行准确把握国家住房政策定位，借助金融的力量助推国家住房供给侧结构性改革。依托住房金融三十余年传统优势和“新一代”核心系统技术优势，在同业中率先推出（ ），取得了良好的市场和社会反响。

- A.房地产企业供应链方案
- B.长租公寓综合解决方案
- C.住房贷款综合解决方案

D.住房租赁综合解决方案

35.2017 年 9 月, 全国首套平均房贷利率升至 5.22%, 为年内第 9 次上涨。国家通过调节利率高低可以影响经济活动, 一般来说, 房贷利率增加带来的经济影响是 ()。

- A.货币总供给增加, 引起适度的通货膨胀
- B.货币总供给减少, 对生产的影响不能确定
- C.扩大房市需求, 经济活动水平上升
- D.抑制房市需求, 尤其是房屋的投资性需求

36.2012 年 6 月, 银监会发布了《商业银行资本管理办法(试行)》, 按照《巴塞尔协议 III》关于监管资本定义的新规定, 审慎确定监管资本的构成, 维护资本工具的质量。提升各类资本工具的损失吸收能力。以下关于监管资本说法错误的是 ()。

- A.划分为核心一级资本、其他一级资本、二级资本
- B.覆盖为应对市场风险、信用风险、操作风险所需要的资本量
- C.包括经监管部门认可的债务资本和储备金
- D.对参数、押品等要求较为宽松

37.OSI 的中文含义是 ()。

- A.网络通信协议
- B.数据通信与网络互连模型
- C.开放系统互联参考模型
- D.国际质量体系标准

38.在其他条件不变的情况下, 下列会导致期权的内在价值变大的是 ()。

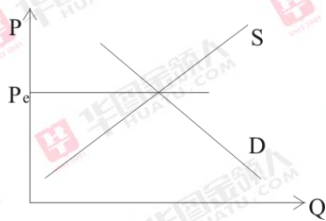
- A.股价波动率变大
- B.期权到期期限变长
- C.股票市价提升
- D.期权执行价格提高

39.某银行贷款项目评估小组在分析甲公司的基本情况时发现该公司在 2015 年 2 月 1 日为建造一栋厂房已向该银行申请 3000 万元固定资产贷款。2015 年 3 月 6 日, 以该贷款支付前期订购的工程物资款。后因征地拆迁发生纠纷, 该厂房延迟至 2015 年 6 月 1 日才开工兴建, 开始支付其他工程款。2016 年 1 月 28 日, 该厂房建造完成, 达到预定可使用状态。2016 年 4 月 30 日, 甲公司工程竣工决算。不考虑其他因素, 甲公司该笔贷款费用的资本化期间

未 ()。

- A. 2015 年 2 月 1 日至 2016 年 1 月 28 日
- B. 2015 年 3 月 6 日至 2016 年 1 月 28 日
- C. 2015 年 2 月 1 日至 2016 年 4 月 30 日
- D. 2015 年 6 月 1 日至 2016 年 1 月 28 日

40. 假定某行业市场情况如下图所示, 属于该行业的某企业在目前产量水平上的边际成本、平均成本和平均收益都相等, 则该企业的盈利状况为 ()。



- A. 该企业可以获得超额利润
- B. 不确定是否有最大化利润
- C. 没有实现利润最大化
- D. 只得到正常利润

职业基本知识测试-多项选择题 (共 25 个小题)

1. 为提高客户服务能力, 减轻网点员工操作压力, 2017 年中国建设银行物理渠道转型创新步伐不断加快, 持续推进网点数字化及流程银行建设, 受到社会各界的广泛关注。在新加坡《亚洲银行家》杂志组织的 2017 年度国际化奖项中国奖项评选中, 中国建设银行荣获 ()。

- A. “中国最佳银行”
- B. “最佳中资银行”
- C. “最佳网点数字化奖”
- D. “中国最佳数字银行奖”

2. 每年的政府工作报告不仅在金融业发展机遇方面有所提示, 同时也点出了行业所存在的风险。具体来看, 2016 年政府工作报告着重强调打击诈骗、非法集资等违法犯罪活动。要“守住不发生系统性区域性风险的底线”; 而 2017 年报告认为“当前系统性风险总体可控”。但对“不良资产”、“债券违约”、“影子银行”、“互联网金融”等累积风险要“高度警惕”。下列对于这四类风险的说法, 正确的有 ()。

A.根据《贷款分类指导原则》，要求商业银行按风险程度将贷款划分为五类：正常、关注、次级、可疑、损失

B.短期债券主体不能在债券到期日后 15 天内全额偿还本金和利息，认定该债券发生违约

C.影子银行引发系统性风险的因素主要包括：期限错配、流动性转换、信用转换和高杠杆

D.建设银行与阿里巴巴、蚂蚁金服签署战略合作协议和合作备忘录意味着传统金融让步于互联网金融

3.下列关于 oracle 体系结构的叙述中，正确的有（ ）。

A.oracle 服务器包括 oracle 数据库和 oracle 实例

B.oracle 数据库包括日志文件和控制文件

C.oracle 实例包括系统进程和所有用户进程

D.oracle 数据库的表空间是物理存储单元

4.近年来，中国建设银行深入学习贯彻习近平同志系列讲话精神，贯彻落实党中央国务院决策部署，着眼全局，勇于担当，切实增强“三个能力”，多项工作实现了新突破，为经济社会发展作出了新贡献，“三个能力”是指（ ）。

A.服务国家建设能力

B.防范金融风险能力

C.参与国际竞争能力

D.勇于改革创新能力

5.下列关于 Java 与 C++语言的对比，正确的有（ ）。

A.C++语言丢了指针的概念，引入了真正的数组，在一定程度上减少了不安全问题的发生

B.Java 比 C++语言的可靠性更高

C.Java 的所有函数和变量都是类的一部分，对象将数据和方法结合起来封装在类中，而 C++语言允许将函数和变量定义为全局的

D.Java 也支持 C++语言中的强制类型转换

6.电话营销是银行网点进行老客户维护、睡眠客户激活或产品营销的重要手段，为了提升电话邀约成功率，致电前的准备工作必不可少，打电话前需要做哪些准备？（ ）

- A.寻找时机明确理由
- B.打磨内容训练语气
- C.先发短信引起兴趣
- D.筛选名单了解客户

7.根据国库司公布的 2017 年 8 月份全国财政收支情况数据: 8 月份, 全国一半公共预算收入为 10652 亿元, 同比增长 7.2%, 全国一半公共预算支出为 14647 亿元, 同比增长 2.9%。出现略微的财政赤字, 克服财政赤字的根本途径是发展经济, 增加财政收入, 针对现阶段造成财政赤字和结构性原因, 可以采取的措施有 ()。

- A.规范财政分配关系, 完善预算管理制度
- B.盘活竞争性的国有资产
- C.完善税制, 加强税收征管, 增加财政收入
- D.加快进行预算结构的调整, 大力削减经常项目的财政支出

8.杨某因生意资金周转困难向吴某借款人民币 4 万元, 并于借款当日向吴某出具了一张借条, 双方在借条上约定了还款时间, 张某作为保证人在借条上签名, 还款期限届满后, 杨某未能履行还款义务, 下列说法正确的是 ()。

- A.张某应承担连带保证责任
- B.张某应承担一般保证责任
- C.吴某可要求杨某或张某履行债务, 张某履行债务后有权向杨某追偿
- D.吴某要求张某履行债务时, 张某享有先诉抗辩权

9.下列属于随机现象的有 ()。

- A.水在标准大气压下加热到 100 摄氏度就沸腾
- B.某银行网点一天到访的客户数量
- C.掷一枚骰子出现的点数
- D.每日早晨太阳从东方升起

10.宏观经济学与微观经济学的区别包括 ()

- A.微观经济学的中心理论是价格理论, 宏观经济学的中心理论则是国民收入决定理论
- B.微观经济学认为“看不见的手”能自由调节实现资源配置的最优化, 宏观经济学通过“看得见的手”纠正市场机制的缺陷

- C.微观经济学要解决的是资源配置问题, 宏观经济学研究社会范围内的资源利用问题

D.微观经济学研究的是单个经济单位，宏观经济学研究的是整个经济

11.经中国人民银行批准，商业银行可以经营下列哪些业务？（ ）

- A.结汇
- B.证券经营
- C.售汇
- D.信托投资

12.某商业银行 2018 年计划开展的下列业务中，属于资产业务是（ ）。

- A.发放新贷款 200 亿元
- B.办理居民委托投资 100 万元
- C.办理企业未到期的票据贴现 6000 万元
- D.发行债券 20 亿元

根据下列资料，回答问题。

结构分析是对报表某一项目或某一类别的金额占总数的比重进行分析，并根据结果进一步分析导致结果不合理的原因。

13.分析主要资产项目占总资产比重时，下列导致其他应收款比重高的因素有（ ）。

- A.企业产品销售不畅
- B.关联方无偿占用资金
- C.企业抽逃资本金
- D.季节性生产需要

14.当经营活动净现金流为负数且与企业的净利润不匹配时，在资产负债表上体现为哪些项目的减少？（ ）

- A.应收账款
- B.应付账款
- C.预付账款
- D.预收账款

15.每年看把 SOGO 崇光店庆期间。都能吸引大量的购物者前来购物，化妆品的折扣更是吸引众多女性的来消费。相比往常，这给 SOGO 增加了许多收益。然而，生活中我们又听到“谷贱伤农”的说法。谷子降价，却会使得农民遭受损失。出现这种情况的原因是两者的需求弹性不同.下列关于需求收入弹性的表述中，正确的有（ ）。

- A.一般来说,必需品的需求收入弹性大于 0 小于 1
- B.需求收入弹性大于 1,说明收入弹性高
- C.一般来说,高档品的需求收入弹性大于 1
- D.一般来说,吉芬商品的需求收入弹性小于 0

16.商业票据发展与我国供应链金融的发展紧密相关,商业票据的签发缓解了买方的资金压力,同时对拥有商业票据的卖方而言,既拥有了对于签发方的票据金额索取权,也可向金融机构用作质押,获得流动性,下列关于商业票据的描述,正确的有()。

- A.商业票据的流通转让有一定的范围
- B.具体来说,可将其分为商业期票和商业汇票
- C.商业票据可以且仅可以转让一次
- D.商业票据又称商业货币,它包括在广义的信用货币范畴之内

17.银行信贷人员在贷前调查时发现,某目标公司客户在上一年度发放了股票股利,则对该公司的影响有()。

- A.会对公司股东权益总额产生影响
- B.公司每股市价会降低
- C.导致公司现金的流出
- D.会增加公司流通在外的普通股股数

18.下列业务中,属于中国建设银行个人贷款业务的有()。

- A.个人经营类贷款业务
- B.网络银行“E 贷款”业务
- C.个人消费类贷款业务
- D.个人住房贷款业务

19.关于计算机病毒,下列说法正确的有()。

A.发现计算机病毒时,应先将重要数据备份,然后启动杀毒软件进行杀毒,将病毒危害降低到最低限度

B.WannaCry 病毒之所以能够在全球范围内大肆蔓延,是因为蠕虫病毒是自包含一套程序,能够对自身进行复制、拷贝,常利用网络和电子邮件进行传播

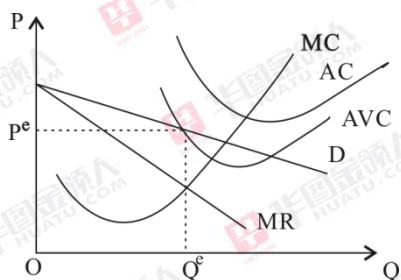
C.计算机病毒的特点是人为的特制程序,具有自我复制能力、很强的感染性、一定潜伏期、很强的破坏性

D.把带病毒的存储设备设置成只读状态,那么此存储设备上的病毒就不会因读操作而传染给另一台计算机

20.若某厂商的产品需求函数为 $P=12-0.4Q$ 总成本函数为 $TC=0.6Q^2+4Q+5$.则以下说法中正确的有 ()。

- A.产量 Q 为 10 时,厂商的总收益最大
- B.若厂商要求净利润需大于 10 此时能够获得的最大总收益为 50
- C.产量 Q 为 5 时,厂商的总利润最大
- D.厂商可以获得的最大总利润为 11

21.某完全垄断行业的企业到银行提出贷款申请。银行经过充分的贷前调查。清楚知晓该企业的生产经营情况(如下图所示)。并且该状况将维持很长一段时间。以下说法正确的有 ()。



- A.该企业的收入刚好弥补变动成本,处于停业边缘
- B.该企业已处于会计上的亏损状态
- C.该企业目前还有会计利润
- D.因为垄断企业必然有垄断利润,所以银行可以考虑提供贷款

22.随着现代信息技术的发展,大数据时代悄然来临,大数据的建设和运用,对经济、科技、军事、社会管理等方方面面将带来深刻影响。大数据时代的到来,需要企业 ()。

- A.及时掌握数据,降低生产技术,杜绝盲目经营
- B.有效监督市场,提升管理水平,增强竞争优势
- C.准确分析信息,明确市场需求,寻求营销对策
- D.把握市场动向,合理配置资源,调节生产规模

23.以下业务属于直接融资的是 ()。

- A.债券
- B.银行贷款
- C.股票

D. 银行票据

24. 王某在一家销售公司工作, 经过几年打拼, 终于晋升为公司市场调研部的总经理。然而, 与他同一年入职的李某却已坐到了公司副总经理的位子, 王某开始反思自己工作上的不足, 发现自己在日常管理中缺乏总揽全局的意识, 便主动向李某讨教经验。如果你是李某, 你会在激励员工方面给予下列哪些建议? ()

- A. 奖励为主, 惩罚为辅, 奖励要及时
- B. 你可以让个别人有意见和怨言, 但务必做到公平公正
- C. 物质有时候也是一个关键的因素
- D. 一定要区别化对待员工的需求, 尤其是各部门直接负责人的需求

25. 第五次全国金融工作会议后, 权威媒体多次提到, 防范和化解金融风险, 既要防“黑天鹅”, 也要防“灰犀牛”, 建设银行田国立董事长也曾在会议上提出, 要关注“灰犀牛”事件, 大行往往会忽视“灰犀牛”风险, 以下对于“黑天鹅”和“灰犀牛”的认识, 正确的有 ()。

- A. “灰犀牛”这一概念最早由美国学者米歇尔·沃克提出, 用来指代大概率、事发前有迹可循却未引起足够重视、最终引发严重后果的重大危机事件
- B. 当前, 我国在企业杠杆率、房地产市场、影子银行、地方政府债务以及人民币汇率这五个领域, 触发“灰犀牛”事件的可能性相对较高
- C. 美国次贷危机是典型的“灰犀牛”事件
- D. “黑天鹅”事件发生概率低、极其罕见且不可预测, 但后果与“灰犀牛”事件相比, 不是很严重

第二单元 (题量 80)

综合能力测试-职业行为测试-单项选择题 (共 10 个小题)

1. 某青年在国庆假期与朋友一起自驾出行, 他自恃车技高超, 经验丰富, 在某路段无视友人劝阻而超速行驶。最终导致重大交通事故发生。在此次事故中, 该青年的罪过形式为 ()。

- A. 疏忽大意的过失
- B. 间接故意

C.过于自信的过失

D 直接故意

2.近年来,一系列“让座纠纷”引起舆论热议。因为不让座,就挨打、遭骂,甚至上演“今天谁也别想走”这样的拦车闹剧。让不让座,本身属于道德层面、道德问题。但是不让座却遭遇拦车、辱骂以及动手打人等行为。却使让座纠纷上升到了侵权和违法层面。其中,动手打人侵犯的公民权利是()。

A.人格尊严权

B.社会保障权

C.人身自由权

D.生命健康权

3.我国古代著名的思想家孟子说过“爱人者,人恒爱之;敬人者,人恒敬之。”这句话带给我们的启示是()。

A.要想得到别人的爱戴,就要首先让自己的各方面变得强大起来

B.良好的人际关系是建立在相互尊重基础之上的,只有尊重他人,才会赢得他人尊重

C.对他们我们要敬而远之

D.将心比心,要为他们奉献自己的一切

4.《公民道德建设实施纲要》不仅在公民基本道德规范中提出“诚信”。而且在职业道德要求中,再次强调“诚实守信”的重要性。以下关于“诚实守信”的说法中不正确的是()。

A.诚实守信是中华民族的传统美德

B.诚实守信既是道德规范,又是法律原则

C.诚实守信是市场经济应有的法则

D.在职业生涯中,从业人员是否践行诚实守信要视对方是否诚信而定

5.道德修养是一个循序渐进的过程。古人云:“积土成山,风雨兴焉;积水成渊,蛟龙生焉;积善成德,而神明自得,圣心备焉。故不积跬步,无以至千里,;不积小流,无以成江海。”下列名言中与这段话在含义上近似的是()。

A.君子求诸己,小人求诸人

B.勿以善小而不为,勿以恶小而为之

C.有能一日用其力于仁矣乎?我未见力不足者

D.仁远乎哉?我欲仁,斯仁至矣

6.在新的历史条件下,发扬爱国主义传统要把弘扬民族精神与弘扬时代精神有机统一起来,坚持解放思想、实事求是,与时俱进、勇于创新,知难而进、一往无前,艰苦奋斗、务求实效,淡泊名利、无私奉献,大力弘扬以()为核心的时代精神。

- A.勤劳勇敢
- B.爱国主义
- C.改革创新
- D.自强不息

7.2017年5月3日国务院总理李克强主持召开国务院常务会议,部署推动大中型商业银行设立(),聚焦小微企业和“三农”等提升服务能力。

- A.P2P 金融事业部
- B.PPP 金融事业部
- C.B2B 金融事业部
- D.普惠金融事业部

8.2017年我国决定设立(),这是以习近平同志为核心的党中央作出的一项重大的历史性战略选择,是继深圳经济特区和上海浦东新区之后又一具有全国意义的新区,是千年大计、国家大事。

- A.河北雄安新区
- B.京津冀经济开放区
- C.厦门经济特区
- D.海南经济特区

9.党的十九大报告指出,我国经济已由()阶段转向()阶段,正处在转变经济发展方式、优化经济结构、转换增长动力的攻关期,建设现代化经济体系是跨越关口的迫切要求和我国发展的战略目标。

- A.高速发展;高水平发展
- B.高速增长;高质量发展
- C.高速增长;高水平发展
- D.高速发展;高质量发展

10.我国2018年政府工作报告指出,目前我国经济增长实现了主要依靠投资、出口拉动转向依靠()协调拉动。

- A.投资、消费、进口
- B.消费、投资、出口
- C.消费、进口、出口
- D.投资、出口、进口

综合能力测试-职业行为测试-多项选择题（共 5 个小题）

1.公民既有权利追求自由，又有义务担负责任，只讲自由，不讲责任，和只讲责任不讲自由一样。都因为权利与义务的不对等，而使社会迷失于个人和集体两个极端。使社会最终失去前途，而身处其中的任何个人也因此难以获得真正的安全与幸福。这段话强调的是（ ）。

- A.尊重他人权利，往往会丧失自己的权利
- B.法律权利与法律义务要平等
- C.权利和义务是相互依存的
- D.没有无义务的权利，也没有无权利的义务

2.在下列银行从业人员的行为中，哪些违反了“诚实待客”的要求？（ ）

- A.向客户推荐产品或服务时，对涉及的有关法律、政策、市场风险进行充分提示
- B.使客户能够做出合理判断和决策
- C.诱导客户购买与其风险认知和承受力不符的产品
- D.向客户做出不符合有关法律或银行规章制度的承诺或保证为达成交易而隐瞒风险或进行虚假、诱导性陈述

3.做事先做人，这是自古不变的道理，如何做人，不仅体现了一个人的智慧，也体现了一个人的修养。我国先人早就强调“做人为先”的重要性，体现在以下名句中的有（ ）。

- A.“德若水之源，才若水之波”
- B.“子欲为事，先为人圣”
- C.“穷理以致其知，反躬以践其实”
- D.功以才成，业由才广

4.党的十八大以来，我国初步建立了适应经济发展新常态的经济政策框架，包括（ ）。

- A.做出经济发展进入新常态的重大判断
- B.贯彻稳中求进工作总基调
- C.形成以新发展理念为指导，以供给侧结构性改革为主线的政策体系

D.推进精准扶贫重要战略思想,深入实施精准识贫、精准扶贫、精准脱贫

5.在 2017 年 7 月召开的全国金融工作会议中,习近平总书记发表重要讲话,他指出做好金融工作要把握好以下哪些重要原则? ()

- A.回归本源,服从服务于经济社会发展
- B.优化结构,完善金融市场,金融机构、金融产品体系
- C.强化监管、提高防范金融风险能力
- D.市场导向,发挥市场在金融资源配置中的决定性作用

综合能力测试-逻辑判断(共 16 个小题)

1.聚合效应是指企业和其产品成了名牌,不仅可获得较高的利益和较好的经济效益,而且还可以利用品牌资本使企业不断发展壮大。名牌企业或产品在资源方面会获得社会的认可,社会的资本、人才、管理经验甚至政策都会倾向名牌企业或产品。名牌企业或产品会稳固自己的实力,并通过加强与供应商、后续企业的关系,通过资本营运聚合社会资源使企业更进一步扩大,形成规模,进而产生规模效益。

根据上述定义,下列属于聚合效应的是 ()。

- A.某知名奢侈品牌因发明一项新专利而获得海量社会资本
- B.某知名品牌因质量问题导致经济效益锐减
- C.某国际知名品牌因其极高的知名度而收拢了一大批优秀设计师
- D.某新兴品牌因符合国家扶持政策而获得大量的社会资金

2.在一项实验中,让 100 名焦虑程度不同的女性完成同样的字母识别任务,同时在她们头上放置电极,观察大脑活动。结果表明,焦虑程度高的女性完成任务时脑电活动更复杂,更容易出错,实验者由此得出结论:女性焦虑影响完成任务的质量。

以下哪项如果为真,最能反驳上述结论? ()

- A.女性焦虑容易引起强迫症、广泛性焦虑等心理问题
- B.女性焦虑时,大脑会受到各种思绪的干扰而无法专注
- C.有研究显示,焦虑和大脑反应错误率是正相关的
- D.焦虑程度高的女性与其他女性相比在实验前对任务不熟悉

3.甲、乙、丙、丁四人参加学校的 4×100 米接力赛,为了赢得比赛,必须对四人的出场顺序有一个合理的安排,综合考虑各种因素,确定了如下安排:

- (1) 甲如果跑第 1 棒,乙就必须跑第 4 棒;

- (2) 丁如果跑第 2 棒，丙就不能跑第 3 棒；
- (3) 丁不能跑第 1 棒。

最终确定丙跑第 3 棒。由此可以推出跑出第 2 棒的是 ()。

- A. 甲或乙
- B. 丁
- C. 乙
- D. 甲

4. 转型，是指事物的结构形态、运转模型和人们观念的根本性转变过程。不同转型主体的状态及其与客观环境的适应程度，决定了转型内容和方向的多样性。转型是主动求新求变的过程，是一个创新的过程。

根据上述定义，下列各项属于转型的是 ()。

- A. 某企业大力革新生产设备，主动购买了世界先进的生产线
- B. 某高校实施新的选课办法，经过一学期试用，受到学生反对，新办法最终被废止
- C. 为了适应市场竞争的需要，某公司主动更新经营理念打造企业文化
- D. 清政府迫于西方列强的压力，决定变法求新

5. 在网络交往中，显现的是虚拟的数字符号，虽然这些抽象的数字能表达丰富的内容，但是内容背后活生生的主体却是无法看到的。网络交流主体思维发挥了极大自由，表达了主体的需求，达到了一定的精神满足。但是，这种满足是以身体的不在场来实现的，身心二者处于不同步的分割状态。这种二者长期割裂的态势必将分裂瓦解同一的自我人格，造成身心的不和谐。

如果以下各项为真，不能支持上述论证的是：()。

- A. 在现实社会交往中，语言对情景意义的表达不到 35%，而剩下的 65% 都是以非语言的方式来表达的
- B. 非语言方式的交流是健康的人际交往的必要条件
- C. 网络人际交往更易让人产生不信任感和怀疑感
- D. 网络交往中产生的人格瓦解问题远比现实交往多

6. 某银行年终晚会上，主持人在 3 个小箱中各放了一个奖品，让小王、小张、小杨、小李四人猜一下各个箱子中放了几等奖的奖品。

小王说：“1 号箱是三等奖，2 号箱是特等奖，3 号箱是一等奖”

小张说：“1 号箱是二等奖，2 号箱是特等奖，3 号箱是四等奖”

小杨说：“1 号箱是安慰奖，2 号箱是三等奖，3 号箱是五等奖”

小李说：“1 号箱是二等奖，2 号箱是四等奖，3 号箱是安慰奖”

如果有一个人恰好猜对了两个，其余三人都只猜对了一个，则第二个箱子中放的是（ ）。

- A. 安慰奖
- B. 五等奖
- C. 二等奖
- D. 特等奖

7. 碎片化时代人们的注意力很难持久，让用户在邮件页面停留更长时间已经成为了营销者不断努力的方向，随着富媒体化的逐步流行，邮件逐步从单一静态向动态转变，个性化邮件的特性也逐步凸显，GIF 制作简单，兼容性强，在邮件中可以增加冲击力，因此在邮件中插入 GIF 动态图片，更能吸引用户的目光，增加用户的点击率。

以下哪项如果为真，最能支持上述结论？（ ）

- A. 如果针对特定用户群而制定个性化营销邮件，那么销售机会会增加 20%
- B. 过去没有插入 GIF 动态图片的个性化营销邮件，也为很多企业带来了成功
- C. 上世纪 70 年代出生的人习惯于电子邮件的静态界面，不喜欢花里胡哨的东西
- D. 插入 GIF 动态图片的个性化营销邮件，比普通发送的邮件给企业带来的收入多 18 倍

8. 某单位招聘了甲、乙、丙、丁、戊五名新员工，每位员工被分配到不同的部门，并且满足以下条件：

- (1) 如果甲去销售部，那么乙不去设计部；
- (2) 或者丙去生产部，或者甲去销售部；
- (3) 或者丁去后勤部，或者戊不去财务部；
- (4) 如果乙不去设计部，那么丁也不去后勤部；

以下哪项为真，可以推出“丙去生产部”？（ ）

- A. 戊去财务部
- B. 甲去销售部
- C. 乙不去设计部
- D. 丁不去后勤部

9. 在一些特定领域，比如说国际象棋、围棋、股市交易以及人机对话等，我们已经发明出与人脑匹敌或超越人脑的计算机，并且电脑和驱动他们的运算法则只会变得更好。因此，有人认为，电脑精通几乎任何人类能力只是时间问题。

以下哪项如果为真，最能支持上述观点？（ ）

A. 人类的大脑是生物学意义的机器，具有可复性，超级电脑已具备某些人类独有的特殊能力

B. 电脑所控制的机器人将在未来的几十年取代数以百万计的岗位职工

C. 随着编程工作的日益完善，电脑也在趋于完全的智能化

D. 生物脑在本质上是具有独特之处的，这是科技无法超越的

10. 从下列所给的选项中，选择最合适的一个填入问号处，使之呈现一定的规律性（ ）。

大	行	易	?	须
---	---	---	---	---

仄	香	笑	篆
---	---	---	---

A B C D

11. 以往，境内企业进出口只能以美元或第三方货币结算，在合同签订至合同执行完毕期间汇率的变化会使企业的实际盈收出现波动，现在银行推出了人民币结算业务。由于人民币是境内企业的本币，合同计价和企业运营的主要货币相一致，境内企业在合同签订前就能够切实了解交易的成本和收入，从而防范了汇率风险。因此，使用跨境贸易人民币结算业务的企业必定会增多。

以下哪项如果为真，最能作为上述论证的前提条件？（ ）

A. 有了跨境贸易人民币结算业务，开展对外贸易的企业数量会越来越多

B. 有了跨境贸易人民币结算业务，国内企业可以更方便地将跨境贸易开展到世界各地

C. 由于国内巨大的市场空间，越来越多的境外企业愿意与国内企业开展贸易往来

D. 在与国内企业开展贸易时，由于人民币币值保持稳定，境外企业愿意使用人民币作为结算货币

12. 以下是一则广告：本网络文学培训班有着其他同类培训班所没有的特点，除了传授高超的写作技巧、帮助学员打开认识世界的多维视角和宏观视野、丰富学员的文化知识和艺术涵养外，还负责向毕业班学员提供切实有效的就业咨询。去年进行咨询的毕业班学员，100%都找到了工作。为了在网络文学创作事业上开创一片天地，欢迎加入我们的行列。

为了确定该广告的可信性，以下相关问题必须询问清楚的是（ ）。

I. 去年共举办了多少期这类培训班，共有多少学员毕业？

II. 去年有多少毕业班学员进行了就业咨询？

III. 对于找到工作的学员，就业咨询究竟起到了多少作用？

IV. 咨询者找到的是否都是网络文学创作工作？

A. I、II 和 III

B. II、III 和 IV

C. I、II、III 和 IV

D. II 和 IV

13. 矩阵对策是指处于利益竞争的两个关系主体，各自可选的策略有限，且在一局对策中双方得失和为零的现象，即要不成功、要不失败。对策中，一方真正成功的措施应该是，针对对方所采取的行动相应地制定有利于自己的应对策略，各方选择的策略必定是自己对对方策略预测的最佳反应。

根据上述定义，下列属于矩阵对策的是（ ）。


A. 丈夫要去踢球，妻子要去看电影，儿子要去游乐园，最后三人去郊游

B. 劳资双方进行薪资谈判，经过反复的讨价还价，最终双方都作出让步

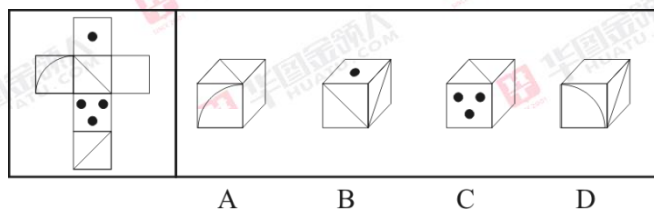
C. 齐王和田忌按原条件重新赛马，并约定每局比赛须用同等级的马参赛

D. 在进入奥运女子排球决赛后，某国家队重新安排队员阵容和出场顺序

14. 请从所给的四个选项中，选择最合适的一个填入问号处，使之呈现一定的规律性（ ）。



15. 下面给定的是纸盒的外表面，下列哪一项能由它折叠而成？（ ）



16.现代边缘派诗歌代表作《奇怪的接近》中写道：“咖啡的颜色接近于黑啤，黑啤的颜色接近于咖啡……我必须要放弃其中之一。我留下了黑啤，尽管它似乎不如咖啡高贵……”如果我们把诗歌中的语句看做表达了一种判断形式的话，以下选项中判断形式与之不同的是（ ）。

A.《孟子·公孙丑下》曰：“陈臻问曰：‘前日於齐，王馈兼金一百而不受；於宋，馈七十镒而受；於薛，馈五十镒而受。前日之不受是，则今日之受非也。今日之受是，则前日之不受非也。夫子必居一於此矣。’”

B.毛泽东曾说：“不是东风压倒西风，就是西风压倒东风。”

C.宋代卢梅坡在《雪梅》中写道：“有雪无梅不精神，有雪无诗俗了人。日暮诗成天又雪，与梅并作十分春。”

D.当代诗人顾城在《初春》中写道：“阴沉的天空还在犹豫：是雪花？还是雨滴？混浊的河流在疾走：是追求？还是逃避？远处的情侣在分别：是序幕？还是结局？”

综合能力测试-言语理解（共 17 个小题）

1.诺贝尔文学奖得主埃利亚斯·卡内提的杰作《群众与权力》是一部分析不同族群特征的最具影响力的著作。该著作从不同角度解剖群众的形象，首先是按国别、地缘、族群来展开，并去分析每个国家特殊的文化背景。由于作者没有从经济层面展开分析，在国别分析中范围仅限于欧洲，因此，本文尝试_____。

填入划线部分最恰当的一句是（ ）。

A.从经济层面来谈谈中国和日本的族群特征及其启示

B.从文化层面来谈谈欧洲文化背景对日本族群的影响

C.从文化层面来谈谈特殊文化背景对欧洲族群的影响

D.从经济层面来谈谈欧洲族群特征研究对我国的启示

2.由泥沙为致灾因子形成的灾害命其为泥沙的直接灾害；由泥沙诱发其他载体引发的灾害命其为泥沙的间接灾害。前者指如因滑坡、泥石流及崩塌形成的泥沙物质给人类、社会和环境造成的危害。后者指因土壤侵蚀形成的泥沙在河道或水库年复一年又一年的淤积使河床抬高，泄洪能力降低，由不太大的洪水引发的浸堤、溃决的灾害。因滑坡、泥石流和崩塌形成的泥沙灾害相当严重，据不完全统计，每年发生的滑坡数以万计，有 70 多座城市和 460 多个县城受到威胁。这些还使我国的铁路、水库和电站受到严重威胁。

下列说法与原文相符的是（ ）。

- A. 滑坡等灾害严重威胁我国部分地区的生产生活
- B. 由泥沙淤积使河床抬高后引发的灾害是直接灾害
- C. 滑坡形成的泥沙灾害比洪水引发的浸堤灾害严重
- D. 泥沙灾害成为我国首要自然灾害

3. 有相当一部分的企业对其成本控制的对象主要局限于企业内部生产加工制造的过程中所发生的各项成本费用支出, 而往往忽略企业的采购与销售过程对成本核算控制的影响, 忽视了对其他相关企业及相关领域成本行为的管理, 缺乏战略管理的思维, 使企业未能获得全面的发展竞争战略, 不能形成系统的成本控制方法体系。

这段文字意在说明 ()。

- A. 部分企业成本控制存在的问题
- B. 部分企业成本控制的对象是加工制造过程中的费用
- C. 部分企业在成本控制方面缺乏战略管理思维
- D. 部分企业成本控制的内容相对片面

4. 随着智能手机、平板电脑、电子阅读器等在家庭中的普及, 少年儿童的“微阅读”渐成趋势。“微阅读”是伴随手机短消息、网文、博文出现而兴起的一种阅读方式。尽管关于“微阅读”价值的认定还处于争论阶段, 但碎片化的信息导致碎片化思维这一结论显然是成立的, 而且已经有了不少的例证。如果过沉溺于“微阅读”, 其实用性和消遣性会在无形中消解少年儿童阅读时的沉潜心态, 从而影响到少年儿童对知识的吸收。

这段文字意在 ()。

- A. 说明“微阅读”在少年儿童中渐成趋势
- B. 提醒少年儿童不要被“微阅读”所掌控
- C. 揭示促使“微阅读”兴起的前提条件
- D. 剖析“微阅读”对社会知识传承的影响

5. 我国并不缺乏好的设计, 人才也不少。但如何与生活、市场结合, 让设计成为产业, 其间还有不少障碍。一是设计师与生产厂家缺少交流的渠道, 二是设计师闭门造车的不少。三是厂家对设计缺乏兴趣。许多专家认为, 对设计的现代认知应该推广到所有企业, 让企业舍得投资, 只有明白了设计是未来竞争的主要资本, 是国际社会衡量产品的主要标准, 是消费者购买天平中的主要砝码, 企业才能拥有重视设计的战略眼光。

从这段文字可以推出 ()。

- A.国内企业对设计水平的评价与国际标准存在差异
- B.设计者与企业沟通不畅制约着设计的市场化进程
- C.企业不愿在设计环节投资造成大批设计人才流失
- D.企业对设计的漠视阻碍了我国设计的产业化发展

6.正因为网红的一举一动和无数互联网用户的“体验”息息相关,决定了人们不能仅仅将其作为一种商业模式,还应作为需要引导和规范的社会文化现象。移动互联时代,影响力越大,社会责任越大。尤其是考虑到那些关注网红且深受影响的青少年,网红经济更应有益于世道人心。从公众的角度,网红就是那些通过网络走红的人。既有能在自身的专长领域发挥到极致的草根达人,比如通过写作成名的当年明月、南派三叔等人,也有凭借爆料隐私、行为出格、装萌邀宠走红的各色人等。甄别良莠、择其善者而从之,应该成为社会公众的自觉意识。

这段文字旨在说明 ()。

- A.网红从一开始就有着草根化、粉丝化的特点
- B.社会公众应能够甄别网红世界中的优劣信息
- C.网红经济时代网红与公众须各担负社会责任
- D.网红经济应作为社会文化现象被引导和规范

7.出境旅游越来越多,国人在国外疯狂购物;而国内许多景点还停留在“门票经济”上,期待改变的呼声高涨。经济新常态下,国家在大力提倡发展第三产业、提升消费能力。面对诸多背景,国内景区不能甘愿成为节假日在媒体上被吐槽的对象,应该痛定思痛,努力改变自身形象,不断提高硬件和软件水平,吸引国内外游客。

根据这段文字,可以知道作者想说的是 ()。

- A.国人对国内景区的形象及水平有诸多不满
- B.我国经济水平提高,出境旅游购物人数骤增
- C.国内景区应提高自身来吸引国内外游客
- D.我国景区经济结构落后成为国人吐槽对象

8.医院里床位时常面临紧缺之势,房间设计格局不合理,患者不能及时得到检验结果,易引起病人及家属的焦躁与暴怒。部分实验室布局不符合安全防护要求,缺乏长远计划。检验硬件设备跟不上技术发展的脚步,仪器设备长时间得不到更新和添置而有趋于老化之势。

文段中谈及的主要问题是 ()。

- A.医院设备落后且得不到更新添置

- B.医院检验条件与技术配备不合理
- C.医院布局设计不合理及检验设备落后
- D.医院布局不合理且缺乏长远考虑

9.与历史热相伴的“娱乐化”倾向,需要引起高度关注。有人称孔子是“怀抱理想,在现实世界找不到精神家园”的“丧家狗”;有人把梁山泊义士比喻成危害社会稳定的恐怖分子;有人笔下岳飞成了大宋奸臣,秦桧反成了忠相;又有解梦派从《红楼梦》中“考证”出:“雍正皇帝是被曹雪芹毒杀的。”他们迎合某些猎奇的文化消费需求,打着学术的旗号,凭空脑想出一些阴暗、无稽、荒诞甚至情色的“历史”故事,用哗众取宠的惊人之语亵渎先贤,推翻历史定论,颠覆传统价值观念。

文段所列各种现象,不属于“颠覆传统价值观念”的一项是()。

- A.孔子是现实世界找不到精神家园的“丧家狗”
- B.有人把梁山泊义士比喻成危害社会稳定的恐怖分子
- C.有人笔下岳飞成了大宋奸臣,秦桧成了忠相
- D.解梦派考证的“雍正皇帝是被曹雪芹毒杀的”

10.工匠精神,是一种工匠对产品_____的理念,其内涵在于精益求精、注重细节、严谨专注。改革开放以来,中国制造业高速增长、雄冠全球,但高能耗、低技术、低创新、低附加值让“中国制造”难以真正_____。

依次填入划横线部分最恰当的一项是()。

- A.细致入微 眉飞色舞
- B.一丝不苟 视远步高
- C.分毫不差 趾高气扬
- D.精雕细琢 扬眉吐气

11.蒲县的基层干部,面对的就是这样一个棘手的难题。封山禁牧之下,羊群不减反增,破坏生态、祸害庄稼、引发山火,但同时不管圈养还是非圈养,甚至偷牧、乱牧的羊,也都是群众的利益,甚至是最直接的脱贫手段。绿色发展是重要理念,脱贫攻坚也是当务之急,哪一样都对接着复杂的治理情况,如果再加上简单粗暴的“一刀切”要求,一线工作的人就难以做出太好的选择,更顾不上思考更科学的决策。

下列哪句话最能概括这段文字?()

- A.蒲县政府需常抓禁牧,以防止生态破坏

B.绿色还是脱贫,绝对不能“一刀切”

C.两难问题倒逼政府科学决策

D.绿色发展与脱贫攻坚难两全

12. (1) 那时, 学校与家庭的心理距离也非常近, 二者一结合, 孩子就在保护网之内了

(2) 后来, 先是学校因其专业功能日益增强, 而与家庭的距离越来越大

(3) 以前, 家庭及其环境是与孩子的成长单一而直接相关的因素

(4) 这些孩子自发地走向社会, 实有促成其事的现实条件

(5) 继之以留守儿童的出现, 导致家庭呵护儿童这一格局破裂

(6) 那时, 就算一个叛逆的孩子, 要离家出走, 也有可能因为来自家庭与社会的重重阻力而作罢

将以上 6 个句子重新排列, 语序正确的是 ()。

A. (4) (3) (2) (6) (1) (5)

B. (3) (2) (5) (4) (6) (1)

C. (4) (3) (6) (1) (2) (5)

D. (3) (6) (1) (2) (5) (4)

13. 纵观各国货币发展历史, 货币国际化虽然给所在国带来一定风险, 但却远远低于带来的好处。从老百姓的角度看, 本国货币的国际化程度高, 就意味着在出国旅游、消费、留学的过程中, 可以较为便利地用本币支付, 不必经过繁琐的汇兑程序。从政府的角度看, 国际货币发行国可通过发行本国货币为国际赤字融资, 相当于对别的国家征收了“铸币税”, 其中的好处不言而喻。因此, 许多国家的货币都“争先恐后”地走向国际化。

这段文字意在说明 ()。

A. 揭示出使货币国际化的原因

B. 说明实现货币国际化的结果

C. 提醒货币国际化潜藏的危险

D. 剖析货币国际化的现实途径

14. 微博、微信上时常流行“是中国人就转”的口号, 这是用一面澎湃激昂的民族情怀大旗, 迎风一展, 遮住大众的眼睛, 眼花缭乱间, 既剥夺民众独立思考的能力, 又_____他人自由的意志。爱国主义是其廉价外衣, 使人跟风盲从是其内在属性, 看似强大逻辑的背后, 实则是批判的缺失与思想的_____。

依次填入划横线部分最恰当的一项是 ()。

- A.挟持 苦闷
- B.裹挟 贫瘠
- C.要挟 浅薄
- D.胁迫 单薄

15.由于煤炭价格滑落谷底,火电相对于风电要便宜很多,缺电省份宁愿自己兴建煤电项目解决缺电问题,也不愿接受外来风电。而在这些煤电项目背后,还有发展地方经济、解决当地就业等宏观考量。由此,就出现了甘肃等地风电有价无市,而湖北、江西等地仍在大量上煤电项目的现象。

这段文字意在说明 ()。

- A.风电基地停摆现象的原因
- B.甘肃等地产能严重过剩
- C.缺电省份自建煤电项目的原因
- D.火电对于风电存在的优势

16.目前,产业园区在发展过程中,管理机构在前期的招商引资及后期的管理服务过程中,更加注重企业的规模、税收等经济效益,相比而言,对企业的知识产权产出、运用、保护等方面重视程度不足。除少数如中关村自主示范区之类的先进园区外,大多数园区管理机构在园区企业知识产权工作的领导、统筹、协调、管理等方面存在缺失,缺乏园区知识产权战略发展规划及年度计划,未形成有效的知识产权管理工作体系。

对这段文字的主旨概括最准确的是 ()。

- A.产业园区管理机构重经济指标,轻知识产权
- B.知识产权管理服务多头分散,缺乏有效整合
- C.产业园区管理机构在知识产权服务工作方面的状况
- D.强化园区企业知识产权意识迫在眉睫

17.解决科技与经济结合的问题始终是科技体制改革的核心,以往的改革从技术商品化、科技运行机制、组织结构、人事制度等方面采取了一系列措施,主要着力在微观组织层面。改革进程发展到今天,需要更多地从宏观管理层面思考问题。换句话说,改革已经改到了推动科技体制改革的政府管理者自己头上。政府科技资源配置的理念需不需要转变?对科技活动营理的模式需不需要改变?管理科技活动的组织机构需不需要调整?回答了这三个问题,才有

可能解决科技、经济“两张皮”的问题。

这段文字意在说明 ()。

- A.明确政府职责是科技体制改革的重要前提
- B.科技与经济相脱节是我国科技体制的弊端
- C.进行国家科技体制的深层次改革迫在眉睫
- D.应从政府管理角度思考科技体制改革问题

综合能力测试-数量关系 (共 17 个小题)

1.某公司原有数十名员工,其中有 14 名女性。当两名女员工调出该公司后,女员工的比重下降了 3 个百分点。现在该公司需要随机选派两名员工参加培训,则选派的两人都是女员工的概率在一下哪个范围内? ()

- A.小于 1%
- B.1%-4%
- C.4%-7%
- D.7%-10%

2.某银行组织员工参加周末公益活动,有 80%的员工报名参加。其中报名参加周六活动的人数与报名参加周日活动的人数之比是 2:1,两天的活动都报名参加的为只报名参加周日活动人数的 50%,则未报名参加活动的人数是只报名参加周六活动的人数的 ()。

- A.50%
- B.40%
- C.30%
- D.20%

3.某单位组建兴趣小组,每人选择一项参加,羽毛球组人数是乒乓球组人数的 2 倍,足球组人数是篮球组人数的 3 倍,乒乓球组人数的 4 倍与其他 3 组人数的和相等,则羽毛球组的人数等于 ()。

- A.足球组人数的 1.5 倍
- B.足球组与篮球组人数之和
- C.乒乓球组和篮球组人数之和
- D.篮球组人数的 3 倍

4.共有 100 个人参加某银行的招聘考试,考试内容共有 5 道题,1-5 题分别有 80 人、92

人、86 人、78 人和 74 人答对，答对了 3 道和 3 道以上的人员能通过考试，则至少有 () 人能通过考试。

- A.30
- B.55
- C.70
- D.74

5.某人才专场招聘会有 300 名求职者参加，其中软件设计类、市场营销类、财务管理类和人力资源管理类分别有 100、80、70 和 50 人，则至少有 () 人找到工作，才能保证一定有 70 名找到工作的人专业相同。

- A.71
- B.119
- C.258
- D.277

6.某金融公司销售部有 4 名区域销售经理，每人负责的区域数相同，每个区域都正好有两名销售经理负责，而任意两名销售经理负责的区域只有一个相同。则这 4 名销售经理总共负责 () 个区域的业务。

- A.6
- B.8
- C.4
- D.12

7.325, 118, 721, 604, ()

- A.541
- B.431
- C.911
- D.242

8.网络管理员小王负责甲、乙、丙三个机房的巡检工作，甲、乙和丙机房分别需要每隔 2 天、4 天和 7 天巡检依次，3 月 1 日，小王巡检了 3 个机房，则他在整个 3 月有 () 天不用做机房的巡检工作。

- A.15

B.14

C.13

D.12

9.某集团有 X 和 Y 两个公司, X 公司全年的销售任务是 Y 公司的 1.2 倍, 前三季度 Y 公司的销售业绩是 X 公司的 1.2 倍, 如果照前三季度的平均销售业绩, Y 公司到年底正好能完成销售任务, 则如果 X 公司希望完成全年的销售任务, 第四季度的销售业绩需要达到前三季度平均销售业绩的 () 倍。

A.1.44

B.2.4

C.2.76

D.3.88

10.1, 7, 17, 31, 49, ()

A.69

B.67

C.71

D.65

11.在某次关于获取信息渠道的调查中, 问卷回收率是 90%。有 179 名调查对象使用搜索引擎获取信息, 146 名调查对象从官方网站获取信息, 246 名调查对象从社交网站获取信息, 同时使用这三种方式的有 115 名调查对象, 使用其中两种的有 24 名调查对象, 另有 52 名调查对象这三种方式都不使用, 则这次调查共发出了 () 份问卷。

A.310

B.360

C.390

D.410

12.8, 8, (), 24, 60, 180

A.14

B.16

C.12

D.10

13.某公司实行师徒制，师徒两人合作完成一项工程，由于配合的好，师傅的工作效率比单独做时要提高 $\frac{1}{10}$ 。徒弟的工作效率比单独做时提高 $\frac{1}{5}$ 。两人合作六天，完成全部工程的 $\frac{2}{5}$ ，接着徒弟又单独做 6 天，这时这项工程还有 $\frac{13}{30}$ 未完成。如果这项工程由师傅一人做，则需 () 天完成。

A.36

B.33

C.42

D.30

14.0, 9, 26, 65, 124, ()

A.215

B.216

C.186

D.217

15.2, 3, 6, 36, ()

A.72

B.54

C.1296

D.48

16.某机构原有 45 名员工，从下级机构调入 5 名党员员工后，该机构的党员人数占总人数的比重上升了 6 个百分点，如果该机构又有 2 名员工入党，则该机构现在的党员人数占总人数的比重为 ()。

A.40%

B.70%

C.50%

D.60%

17.某银行机构 20 人参加百分制的岗位资格考试，及格线为 60 分，20 人的平均成绩为 88 分，及格率为 95%。所有人的份均为正数，且彼此得分不同。则成绩排名第十的人最低考了 () 分。

A.91

- B.90
- C.89
- D.88

综合能力测试-资料分析（共 15 个小题）

根据下列资料，回答问题。

2016 年，A 省完成港口货物吞吐量 13.3 亿吨，同比增长 14.2%，其中外贸货物吞吐量 2.0 亿吨，增长 24.5%。港口货物吞吐量中，集装箱吞吐量达 878.0 万标准集装箱，增长 3.1%。

2016 年末，全省公路里程 14.2 万公里，新增 1071.1 公里。年末高速公路里程 3755 公里。铁路营业里程 1642.1 公里，铁路正线延展长度 2381.8 公里。

2016 年末，全省民用汽车保有量 458.1 万辆，净增 84.9 万辆，分别增长 22.8%和 97.5%。年末私人汽车保有量 338.2 万辆，净增 74.9 万辆，分别增长 28.5%和 106%。其中私人轿车保有量 216.5 万辆，净增 56.4 万辆，分别增长 35.2%和 59.3%。

各种运输方式完成运输量

	货物周转量		货运量		旅客周转量		客运量	
	绝对数 (亿 吨公里)	比上年增长 (%)	绝对数 (万吨)	比上年增长%	绝对数 (亿人公里)	比上年增长 (%)	绝对数 (万人次)	比上年增长 (%)
总计	5154.5	8.5	160966.8	9.2	1423.3	8.1	201262.9	9.5
铁路	323.9	-6.2	6137.4	19.1	311.3	-2.4	9167.2	3.6
公路	971.1	9.7	104002	8.8	1058	11.2	191001	9.8
水路	3372.1	10.1	42016	9.1	1.4	85.6	686.5	9.7
民航	0.6	-3.6	4.4	-5.1	52.7	15.4	408.2	16.3
管道	486.8	6.4	8807	8.8				

1.2015 年，A 省完成港口货物吞吐量约为（ ）吨。

- A.11.6
- B.13.3
- C.10.8
- D.15.5

2.2015 年末，该省除私人轿车之外的私人汽车保有量为（ ）辆。

- A.109.9
- B.121.7
- C.103.2
- D.140.2

3.2016 年，A 省下列各项同比增长最快的是（ ）。

- A.公路货物周转量

B.水路货运量

C.铁路货运量

D.民航货物周转量

4.表中四种客运方式中,2016年平均每人次运输距离高于2015年水平的有()种

A.2

B.3

C.1

D.4

5.关于该省交通运输状况,能够从上述资料中推出的是()。

A.2016年该省客运平均每人次运输距离超过100公里

B.2016年管道货物周转量超过货物周转总量的一成

C.2016年末,高速公路里程占全省公路总里程比重超过3%

D.2015年末,全省民用汽车保有量超过300万辆

根据下列资料,回答问题。

2017年1-5月份,全国规模以上工业企业实现利润总额23816.4亿元,同比增长6.4%,增速比1-4月份回落0.1个百分点。

1-5月份,在规模以上工业企业中,国有控股企业实现利润总额4290.2亿元,同比下降7.3%;集体企业实现利润总额177.8亿元,下降2%;股份制企业实现利润总额15992.9亿元,增长7.6%,外商及港澳台商投资企业实现利润总额6082.9亿元,增长6%,私营企业实现利润总额8488.9亿元,增长9.4%。

1-5月份,采矿业实现利润总额66.6亿元,同比下降93.8%,制造业实现利润总额21632.6亿元,增长12.5%;电力、热力、燃气及水生产和供应业实现利润总额2117.2亿元,增长1.3%。

1-5月份,在41个工业大类行业中,32个行业利润总额同比增加,1个行业持平,8个行业减少。主要行业利润情况如下:农副食品加工业利润总额同比增长11.7%,纺织业增长6.9%,石油加工、炼焦和核燃料加工业增长3倍,化学原料和化学制品制造业增长14.7%,非金属矿物制品业增长4.1%,黑色金属冶炼和压延加工业增长74.8%,有色金属冶炼和压延加工业增长13.4%,通用设备制造业增长2%,专用设备制造业增长2.3%,汽车制造业增长8.9%,电气机械和器材制造业增长18.4%,计算机、通信和其他电子设备制造业增长13.5%,

煤炭开采和洗选业下降 73.4%，电力、热力生产和供应业下降 0.1%，石油和天然气开采业由同期盈和转为亏损。

6.2016 年 1-5 月份，全国规模以上工业企业实现利润总额约为（ ）亿元。

- A.25469
- B.23500
- C.22384
- D.21612

7.2017 年 1-5 月份，外商及港澳台商投资企业实现利润总额占规模以上工业企业实现利润总额的比重约为（ ）。

- A.32%
- B.26%
- C.17%
- D.12%

8.2017 年 1-5 月份，以下哪个行业利润总额同比增速最快？（ ）

- A.电气机械和器材制造业
- B.有色金属冶炼和压延加工业
- C.化学原料和化学制品制造业
- D.农副食品加工业

9.2016 年 1-5 月，制造业实现利润总额约是私营企业实现利润总额的（ ）倍。

- A.3.3
- B.2.4
- C.2.1
- D.1.4

10.能够从上述资料中退出的是（ ）。

- A.2017 年 1-5 月份工业主要行业利润同比增长超过 10%的有 7 个
- B.2017 年 1-5 月份在 41 个工业大类行业中，同比减少的行业所占比例大于 20%
- C.2017 年 1-4 月份全国规模以上工业企业实现利润总额同比增长 6.3%
- D.2016 年 1-5 月份采矿业实现利润总额小于 100 亿元

根据下列资料，回答问题。

2017 年上半年,我国服务业增加值 184290 亿元,增长 7.5%,占 GDP 比重 54.1%,比第二产业高出 14.7 个百分点,比上年同期提高 1.8 个百分点。服务业对国民经济增长的贡献率为 59.7%,比第二产业高出 22.3 个百分点。

2017 年上半年,服务业完成固定资产投资 149198 亿元,同比增长 11.7%,增速高于第二产业 7.3 个百分点;占全部固定资产投资比重 57.7%,比上年同期提高 1.4 个百分点,高于第二产业 18.3 个百分点。其中,基础设施投资(不含电力、热力、燃气及水生产和供应业)49085 亿元,增长 20.9%。从到位资金情况看,上半年全国到位资金 282443 亿元,同比增长 8.0%。其中国家预算资金增长 21.8%,国内贷款增长 12.4%,自筹资金增长 1.4%,利用外资下降 7.2%。上半年,新开工项目计划总投资 240202 亿元,同比增长 25.1%。

2017 年上半年全社会用电量同比增长 2.7%,增速比上年同期加快 1.4 个百分点。其中,服务业用电量同比增长 9.2%,增速超过第二产业 8.7 个百分点,加快 1.1 个百分点,占全社会用电量的比重为 13.4%,比上年同期提高 0.6 个百分点。

11.2017 年上半年我国第二产业增加值最接近以下那个数值? ()

- A.134250 亿元
- B.142210 亿元
- C.128090 亿元
- D.151860 亿元

12.2017 年上半年,以下各项中按同比增速从高到低排序正确的是 ()。

- A.服务业完成固定资产投资>国内贷款>服务业用电量>全国到位资金
- B.服务业用电量>服务业增加值>第二产业用电量>全社会用电量
- C.服务业增加值>利用外资>全社会用电量>自筹资金
- D.国家预算资金>基础设施投资>第二产业完成固定资产投资>第二产业用电量

13.2017 年上半年,新开工项目计划总投资比上年同期约增加了 () 亿元。

- A.47856
- B.46679
- C.48194
- D.45928

14.与 2015 年上半年相比,2017 年上半年全社会用电量的增速约为 ()。

- A.4%

B.8.1%

C.3.5%

D.17.3%

15.根据上述资料, 下列说法正确的是 ()。

A.2017 年上半年全部固定资产投资超过 26 万亿元

B.2016 年上半年服务业完成固定资产投资在全部固定资产投资中的占比超过一半

C.2016 年上半年服务业用电量占全社会用电量的比重为 14%

D.2017 年上半年第二产业对国民经济增长的贡献最小

第三单元 (题量 15)

英语 (共 15 个小题)

In the United States of America, banks are categorized into the federally-chartered bank which receives their charter from the Office of the Comptroller of the Currency (OCC); these are referred to as “National Banks”; and also the states-chartered banks which receive their charter from the superintendent to as “State Banks” Banks are allowed to register either with the federal or the state authority. Let us now look at the organizational structure of Commercial Banks, which include unit banking, group banking and branch banking.

The main characteristic of unit banking is that it can operate only a single full service bank from a single location. Unit banking institutions are not allowed to have branch networks. However, unit banking does not necessarily have to be small. In fact, many unit banks are quite large.

Group banking refers to banking operations conducted by a corporation owning more than one bank. The group banking system usually exists in the states where branch banking is prohibited.

As for branching, it is sometimes referred to “limited branching” or “stateside branching”, Limited branching allows bank to operate branches within geographic territories authorized by the state law. Stateside branching implies that bank branches are allowed to operate anywhere within the state. New York State, California, Florida and some others are stateside branch banking areas while Minnesota, Arkansas, Iowa and others are limited branching areas.

In the United States, there are also specialized banks including the Edge Act Banks, the international Banking Facility, the bankers' banks, the savings banks, the savings and loans associations, the credit unions and government owned and the Real Estate Investment Trust (REIT).

There are also non-bank financial institutions in the USA, including the securities firms, the leasing and commercial finance companies, the mortgage bankers and the Real Estate Investment Trust (REIT).

Let us now look at the Federal System. Commonly known as the Federal Reserve Bank or the "Fed", this is the Central Bank of the United States founded in 1913. It determines the reserve requirement within limits set by the US Congress. The function of the Fed is economic stabilization through the management of the nation's money supply. The Federal Reserve System comprises a board of governors with 7 members stationed in Washington D.C. Reserve Banks, including Boston, New York City, Dallas and San Francisco.

The Federal Reserve Act (FRA) 1913 set out the powers of the Fed which, on top of the regular central bank's objectives, emphasize the following:

- i. Managing the monetary system and money supply of the USA;
- ii. Providing funds as the lender of last resort;
- iii. Providing for an efficient clearing system;
- iv. Providing a rigorous banking supervision system.

1. Which of the following is NOT true? ()

- A. National Banks in the USA refers to "State Banks"
- B. The group banking system usually exists in the states where branch banking is prohibited.
- C. Stateside branching implies that bank branches are allowed to operate anywhere the state.
- D. Limited branching allows bank to operated branches within geographic territories authorized by the state law.

2. Which of the following is TRUE? ()

- A. The Fed undertakes banking supervision over banking system in the USA.
- B. The savings banks in the USA are authorized to do real estate business by some states' law
- C. Specialized banks in the USA provide funds as the lender of last resort.

D. Specialized banks in the USA are the same to those in China.

3. What is the charting authority of the USA for banks? ()

A. FRA

B. Laws of states

C. Fed

D. OCC

4. What is included in the commercial banking system of the USA? ()

A. The Fed banks, the State banking and group banking.

B. The Fed banking, the state banking and region banking.

C. Unit banking, group banking and branch banking.

D. Sepcialized banks, group banking and unit banking.

5. Which of the following title best suits the passage? ()

A. Banking and Non-banking in the USA.

B. Banks in the USA.

C. Bankers in the USA.

D. Banking in the USA.

Seeking to end a stalemate in negotiations over her country's withdrawal from the European Union. Prime Minister Theresa May of Britain offered Friday substantial payments to the bloc during a two-year transition period immediately after the country's exit.

Mrs. May's long-awaited intervention, during a speech in Florence, Italy, was being watched closely in capitals on the Continent and in London, where members of her cabinet have been fiercely divided over Britain's tortuous divorce from the bloc. The speech aimed to open the way to serious negotiations on what is commonly known as Brexit, and to a broader and more productive discussion about Britain's relationship with the bloc.

However, while offering some concessions designed to do that, Mrs. May did not give any fresh insight into the type of ties she ultimately wants Britain to have to the bloc a question that divides her cabinet and her Conservative, or Tory, Party.

The European Union's chief negotiator, Michel Barnier issued a cautious response, saying in a statement that, "We look forward to the United Kingdom's negotiators explaining the concrete

implications of Prime Minister Theresa May's speech. Our ambition is to find a rapid agreement on the conditions of the United Kingdom's orderly withdrawal, as well as on a possible transition period."

Although Britain is scheduled to exit the European Union in 2019, there has been little progress in talks since March, when London formally announced its intention to leave. Brussels is insisting that Britain agree to the terms of the divorce before discussing future trade ties, while the British would like to do both simultaneously.

In light of the continuing standoff, many businesses worry about a "cliff edge" scenario, in which Britain would crash out without a deal, so Mrs. May is under pressure to find a way out of the impasse. Speaking in Florence on Friday, Mrs. May did not say precisely how much money Britain would continue to contribute to the European Union. But she made a significant promise that the British who are big net contributors to the bloc would not leave a hole in the union's budget in 2019 and 2020.

"I do not want our partners to fear that they will need to pay more or receive less over the remainder of the current budget plan as a result of our decision to leave," Mrs. May said. That would probably mean payments of around 20 billion euros, or about \$24 billion, after Britain's departure. It would also effectively maintain the status quo for the duration of a two-year transition period, meaning that Britain would allow the free movement of European workers and accept rulings from the European Court of Justice. This alone is unlikely to be enough to satisfy the 27 other member nations, but Mrs. May hinted that she would be willing to go further and "honor commitments we have made during the period of our membership."

In addition, Mrs. May proposed a security partnership with the European Union, stressing Britain's importance as a defense power, and also offered new legal safeguards to guarantee the rights of European Union citizens in Britain after Brexit.

Over all, Mrs. May sought to stress the common interest London shares with continental European capitals in reaching an agreement and avoiding disruption to trade, wrapping here offer in dialogue that was more positive, and less antagonistic, than that of some previous interventions.

European Union negotiators have refused to talk about post-Brexit ties until they judge that there is "sufficient progress" on the issues they consider a priority: the status of European Union

citizens in Britain after it leaves, the border between Ireland and Northern Ireland(which is a part of the United Kingdom) and Britain's financial commitments to the bloc.

There is little sign yet that the other 27 nations are prepared to grant Britain a bespoke agreement, and officials have warned London on numerous occasions that there would be no "cherry picking" of the parts of European Union membership it likes.

6. What's the purpose of May's speech? ()
- A. To demonstrate here resolve to divorce Britain from EU.
 - B. To pave the way for dialogues and negotiations with EU on Brexit.
 - C. To comfort the sentiment of British people.
 - D. To end the division between her cabinet and the Conservative Party.
7. Theresa May's speech mentioned the following things except ().
- A. The rights of EU's citizens will be protected in Britain after the divorce.
 - B. Britain would be willing to continue to fulfill the commitment they have during the period of membership.
 - C. A good trade relation between Britain and the EU is in line with the interests of both sides.
 - D. Britain will provide 20 billion euros to EU during the transition period.
8. There's a stalemate between EU and Britain after Brexit because ().
- A. The two sides have not reached an agreement on conditions of Britain's orderly exit.
 - B. Britain refuses to fill the financial hole of the EU.
 - C. British People are divided on the issue of Brexit.
 - D. EU does not want Britain to exit from it.
9. According to the passage, which of the following statement is true? ()
- A. Britain has agreed to discuss the conditions of the exit before discussing the future trade ties.
 - B. Theresa May has mapped out the blue print of the relations between Britain and EU.
 - C. EU might not be satisfied with May's Speech.
 - D. Britain is fully prepared to withdraw from EU in an orderly way.
10. What's the main idea of this passage? ()
- A. Theresa May makes financial commitment to EU for the transition period.

- B. Britain insists on leaving EU without any agreement.
- C. EU won't talk to Britain unless Britain makes concession.
- D. Theresa May seeks to unlock Brexit talks in her speech.

Our rates on certificate of deposits are among the best in the industry. The rate may vary on day-to-day basis. For CD's of above \$250,000.00, the interest is simple i.e. not compound; therefore, annual percentage yield is same as annual interest rate. The interest is payable on the day of maturity of deposit. Interest paid during the year is reported to Internal Revenue Services. For today's rates please refer to Current Rates of Interest on STAR CDs.

Maturity Period: Flexible to your needs.

You may choose any maturity date with a minimum period of 7 days to a maximum period of 1 year to suit your needs. Your CD is automatically renewed for the same period in absence of any other instruction, at the ruling rate of interest on the date of renewal. There is no grace period for automatic renewal of deposits on maturity. For deposits issued for 1 year or more, we send maturity notices to the depositors 2 to 4 weeks before the due date.

Minimum Amount: Easy to Start

The minimum amount accepted is USD 2000

Other Features:

- 1.FDIC Insurance Up to \$100,000
- 2.Facility to Open Joint & Corporate Accounts

Additional Deposits:

Additional amounts deposited into an account will be treated as fresh deposits & separate certificate of deposits will be issued for such deposits

Early Withdrawal:

Withdrawal of deposit before its date of maturity may be allowed at bank's discretion. In that event, interest will be paid at the rate applicable for the period for which the deposit remained with the bank or the contracted rate, whichever is lower, as prevailing on the date of deposit, less one percent. However, no interest shall be paid on the deposit which runs for less than 30 days. There is on other penalty or charge on early withdrawal.

11. Bank of India CDs are safe because ().

A. CD is a safe instrument.

B. Bank of India is safe.

C. CD is insured.

D. All of the above.

12. The CDs' annual percentage yield is () annual interest rate.

A. more than

B. less than

C. the same as

D. not comparable with

13. Which of the following statements is true?()

A. CD is automatically renewed for the same period unless having other instruction.

B. CD isn't automatically renewed for the same period at the ruling rate of interest on the date of renewal.

C. CD is automatically renewed for the same period without any other instruction.

D. CD is automatically renewed for the same period with permission of the bank manager.

14. For deposit running for more than 30 days, early withdrawal may be (), () penalty or charge.

A. allowed, without

B. banned, with

C. allowed, with

D. banned, without

15. According to the passage, which of the following is NOT true about Star CD?()

A. The minimum amount to invest is USD 2000.

B. You may choose any maturity date as you wish.

C. The rates on certificate of deposits may vary day to day.

D. Separate certificates of deposits will be issued for additional deposits.



【扫码进群获取更多笔试指导】