

## 金融习题

### 单项选择题

1.金融机构属于个人性质的保证金存款，比照（ ）利率执行结息、计息。

- A.对公存款
- B.储蓄存款
- C.单位协定存款
- D.协议存款

2.同业存放和存放同业分别属于商业银行的（ ）。

- A.负债业务；资产业务
- B.资产业务；负债业务
- C.中间业务；负债业务
- D.表外业务；中间业务

3.“想要高收益又害怕钱打了水漂，大额存单应该是个不错的选择。”所谓大额存单，是指由银行业存款类金融机构面向非金融机构投资人发行的、以人民币计价的记账式大额存款凭证。它不同于不保本的银行理财产品，大额存单在性质上是存款，不过利息比定期存款高，灵活性相对定期存款也更好。由此可见，大额存单（ ）。

- ①存款门槛要比银行理财产品低，更适合广大城乡居民个人理财
- ②收益情况一般高于银行定期存款，低于不保本的银行理财产品
- ③适合有闲置资金又对资金流动性要求较高的非金融机构投资人购买
- ④可以由商业银行、信用合作社及保险公司等各类金融机构发行。

- A.①②
- B.①④
- C.②③
- D.③④

4.（ ）不属于新型负债业务。

- A.结构性存款
- B.大额可转让定期存单
- C.出售商业票据

D.同业存放

5.大额存单的期限品种不包括（ ）。

A.7天

B.3个月

C.6个月

D.5年

6.（ ）承受的操作风险和流动性风险较为集中，易发生金融犯罪案件。

A.对公存款

B.个人存款

C.储蓄存款

D.保证金存款

7.（ ）是指商业银行拒绝或退出某一业务或市场，以避免承担该业务或市场风险的策略性选择。

A.非保险转移

B.保险转移

C.风险规避

D.风险对冲

8.下列业务中不属于商业银行开展的负债业务的是（ ）。

A.代销理财

B.大额可转让定期存单

C.同业存放

D.结构性存款

9.在我国货币政策间接传导过程中,运用货币政策工具首先影响到的是货币政策的（ ）。

A.中介目标

B.操作目标

C.增长目标

D.最终目标

10.我国公布的外汇牌价为100美元等于695.50元人民币,这种标价方法属于（ ）。

- A.直接标价法
- B.间接标价法
- C.应收标价法
- D.人民币标价法

11.如果其他情况不变,中央银行提高商业银行法定存款准备金率会导致( )。

- A.货币供应量增加
- B.货币供应量减少
- C.外汇储备增加
- D.外汇储备减少

12.中央银行在金融市场上买卖证券的目的是( )。

- A.调节货币供应量和利率
- B.获取利润
- C.投资商业银行
- D.增加储备

13.我国外汇管理实行的是( )。

- A.固定汇率制度
- B.浮动汇率制度
- C.有管理的浮动汇率制度
- D.市场调节汇率制度

14.中央银行在公开市场上买卖有价证券,将直接影响( ),从而影响货币供应量。

- A.商业银行法定准备金
- B.商业银行超额准备金
- C.中央银行再贴现
- D.中央银行再贷款

15.商业银行承诺在未来某一日期按照事先约定的条件向客户提供约定的信用业务是( )。

- A.代理业务
- B.承诺业务
- C.担保业务

D.支付结算业务

16.根据贷款“五级分类法”的划分，不良贷款是指（ ）。

A.关注类贷款、次级类贷款、可疑类贷款

B.关注类贷款、可疑类贷款、损失类贷款

C.次级类贷款、可疑类贷款、损失类贷款

D.正常类贷款、可疑类贷款、损失类贷款

17.由两家或两家以上银行基于相同贷款条件，依据同一贷款协议，按约定时间和比例，通过代理行向借款人提供的本外币贷款或授信业务的是（ ）

A.流动资金贷款

B.固定资产贷款

C.房地产贷款

D.银团贷款

18.并购贷款的对象是（ ）。

A.境外企事业法人及自然人

B.境内企事业法人及自然人

C.境外企事业法人

D.境内企事业法人

19.下列不属于我国个人的贷款业务的是（ ）。

A.个人住房贷款

B.个人房地产开发贷款

C.个人信用卡透支

D.个人经营贷款

20.我国银行规定信用卡的最低还款额一般是应还金额的（ ）。

A.5%

B.10%

C.50%

D.80%

21.（ ）是信用卡最主要的功能。

A.购物消费功能

B.转账结算功能

C.储蓄功能

D.小额信贷功能

22.A 银行代理销售 B 公司某开放式基金，下列关于该笔业务的说法中，正确的是（ ）。

A.销售基金收入属于 B 公司

B.销售基金收入属于 A 银行

C.此代理属于法定代理

D.投资者认购基金合同当事人是 A 银行与投资者

23.甲公司向乙银行交付 N 万元，申请签发银行汇票向丙公司付款。这份汇票的当事人为（ ）。

A.出票人乙银行，付款人甲公司，收款人丙公司

B.出票人甲公司，付款人乙银行，收款人丙公司

C.出票人甲公司，付款人甲公司，收款人丙公司

D.出票人乙银行，付款人乙银行，收款人丙公司

24.（ ）是对经过识别和计量的风险采取分散、对冲、转移、规避、补偿等策略和措施，进行有效管理和控制的过程。

A.风险识别

B.风险计量

C.风险监测

D.风险控制

25.商业银行面临的主要风险是（ ）。

A.信用风险

B.市场风险

C.操作风险

D.流动性风险

26.（ ）是指商业银行在不影响日常经营或财务状况的情况下，无法及时有效满足资金需求的风险。

A.市场流动性风险

B.融资流动性风险

C.操作风险

D.市场风险

27.下列（ ）属于银保监会监管的非银行金融机构。

①股份制商业银行；②基金管理公司；③农村信用社；④企业集团财务公司；⑤汽车金融公司；⑥城市信用合作社；⑦金融租赁公司；⑧期货经纪公司

A.④⑤⑦

B.①③⑥

C.②⑧

D.④⑤⑥⑦

28.下列不属于农村中小金融机构的是（ ）。

A.农村商业银行

B.邮政储蓄银行

C.村镇银行

D.农村信用社

29.在我国负责制定和实施货币政策的机构是（ ）。

A.财政部

B.国家发展与改革委员会

C.中国人民银行

D.银保监会

30.承担为农业和农村经济发展服务的政策性银行是（ ）。

A.国家开发银行

B.中国进出口银行

C.中国农业发展银行

D.中国农业银行

31.我国债券回购市场上交易的证券主要是（ ）。

A.股票

B.国债

C.中央银行票据

D.可转换债券

32.金融市场按交割时间划分可分为（ ）。

A.货币市场和资本市场

- B.有形市场和无形市场
- C.发行市场和流通市场
- D.现货市场和期货市场

33. ( ) 是以人民币标明面值、以人民币认购和进行交易、供国内投资者买卖的股票。

- A.A 股
- B.B 股
- C.H 股
- D.N 股

34.某公司发行某种债券，该债券面额为 100 元，发行价格为 97 元，这种发行方式属于 ( ) 发行。

- A.折价
- B.等价
- C.平价
- D.溢价

35.金融工具 ( ) 是指信用工具迅速变现而不致遭受损失的能力。

- A.流动性
- B.收益性
- C.风险性
- D.安全性
- E.跨期性

36.一国的货币供给如果持续大于货币需求，将会出现物价 ( )，从而出现 ( ) 现象。

- A 上涨，通货紧缩
- B 上涨，通货膨胀
- C 下降，通货紧缩
- D 下降，通货膨胀

37.目前，还不能够充当外汇储备的货币是 ( )

- A.美元
- B.日元

C.欧元

D.韩元

38.中国某公司在美国发行以美元标价的债券属于（ ）。

A.欧洲债券

B.离岸债券

C.跨国债券

D.外国债券

39.当今国际储备的主体是（ ）

A.黄金储备

B.储备头寸

C.外汇储备

D.特别提款权

40.凯恩斯学派主张货币政策传导过程中的主要环节是（ ）。

A.汇率

B.货币供应量

C.基础货币

D.利率

41.窗口指导属于中央银行的（ ）

A.一般性政策工具

B.选择性政策工具

C.直接信用管理工具

D.间接信用指导

42.在社会有效需求严重不足，或社会总需求严重落后于总供给的经济情况下所采取的是（ ）。

A.紧缩性货币政策

B.扩张性货币政策

C.均衡性货币政策

D.中性货币政策

43.关于货币形态演变过程的说法，正确的是（ ）。

A.实物货币—纸币—代用货币—电子货币



- B.实物货币—代用货币—信用货币  
C.实物货币—代用货币—电子货币  
D.实物货币—信用货币—电子货币
- 44.我国的人民币制度属于（ ）。
- A.银本位制  
B.金银复本位制  
C.金本位制  
D.不兑现的纸币本位制
- 45.被称为“第三代货币”的货币形态是（ ）。
- A.可兑现信用货币  
B.不可兑现信用货币  
C.电子货币  
D.代用货币
- 46.无论是金属本位币还是纸币本位币，各国货币制度都有（ ）的规定。
- A.无限法偿  
B.限制铸造  
C.有限法偿  
D.禁止铸造
- 47.关于不兑现的纸币本位制的说法，错误的是（ ）。
- A.这种制度下，流通货币一般是中央银行发行的钞票和硬币  
B.这种制度下，黄金仍然是重要的流通和支付手段  
C.不兑现的纸币本位制的出现晚于银本位制  
D.不兑现的纸币本位制是一种信用货币制度
- 48.货币乘数等于（ ）。
- A.存款准备金率的倒数  
B.货币结构比率的倒数  
C.存款准备金率与货币结构比率之差的倒数  
D.存款准备金率与货币结构比率之和的倒数
- 49.关于辅币的说法，正确的是（ ）。
- A.在金属货币流通条件下，辅币为足值货币

- B.在纸币流通条件下，辅币必须是无限法偿的
- C.在金属货币流通条件下，辅币只能由国家铸造，不准公民铸造
- D.在金属货币流通条件下，辅币用贵金属铸造

50.关于货币制度的说法，错误的是（ ）。

- A.规定货币材料是货币制度最基本的内容
- B.货币制度要规定本位币的名称
- C.我国人民币制度属于金本位制
- D.本位币是一个国家的基本通货和法定的计价结算货币

51.在金属货币流通的条件下，单位货币的法定含金量被作为（ ）。

- A.货币材料
- B.货币单位
- C.货币名称
- D.货币的价格标准

52.甲企业向乙企业提供价值 3000 万元商品，乙企业承诺分 12 个月偿付货款。甲、乙两企业之间的这种信用形式为（ ）。

- A.银行信用
- B.消费信用
- C.商业信用
- D.间接信用

53.投资银行是专门为工商企业提供融资中介服务的（ ）。

- A.银行类中介机构
- B.专业性非银行机构
- C.储蓄银行
- D.商业银行

54.在金融活动中，关于信用本质的说法，正确的是（ ）。

- A.信用是无偿的借贷行为
- B.信用是双向的价值运动
- C.信用的存在与商品经济无关
- D.信用是一种债权债务关系

55.关于商业保险的说法，错误的是（ ）。

- A.商业保险的资金主要来源于保险公司收取的保险费
- B.投融资是商业保险的基本职能
- C.商业保险业务主要包括人身保险业务和财产保险业务
- D.再保险公司可同时经营人身保险和财产保险的再保险业务
56. ( ) 具有资金实力雄厚、资信度高和灵活多样等方面的优越性。
- A.国家信用
- B.商业信用
- C.消费信用
- D.银行信用
- 57.处于金融中介体系的中心环节，具有特殊地位的金融机构是 ( )。
- A.商业银行
- B.投资银行
- C.中央银行
- D.政策性银行
- 58.某国政府向本国居民借债，以解决临时性需要，这种信用形式为 ( )。
- A.商业信用
- B.国家信用
- C.银行信用
- D.消费信用
- 59.关于中央银行性质的说法，错误的是 ( )。
- A.中央银行是发行的银行
- B.中央银行是银行的银行
- C.中央银行是企业的银行
- D.中央银行是政府的银行
- 60.下列金融工具中，属于短期金融工具的是 ( )。
- A.公司债券
- B.股票
- C.大额可转让定期存单
- D.银行债券
- 61.在利率体系中，起主导作用的利率是 ( )。

- A.固定利率
- B.浮动利率
- C.实际利率
- D.基准利率

62.在金融市场上，最大的买方和卖方通常都是（ ）。

- A.政府
- B.个人
- C.金融机构
- D.企业

63.风险性与期限性呈（ ）关系

- A.正相关
- B.负相关
- C.不相关
- D.高度相关

64.若实际利率为 7%，同期通货膨胀率为 8%，则名义利率应为（ ）。

- A.15%
- B.1%
- C.-1%
- D.8%

65.金融体系的基本构成要素不包括（ ）。

- A.货币流通
- B.商品经济
- C.金融中介
- D.金融市场

66.甲向乙借得 20 万元钱，双方约定年利率为 5%，以复利方式 2 年后归还，则届时本金、利息之和为（ ）万元。

- A.21
- B.22
- C.22.05
- D.22.5

67.因利率上升而使金融工具持有者受损的风险属于（ ）。

- A.国家风险
- B.违约风险
- C.市场风险
- D.操作风险

68.在说到利率变动时，通常一个“基点”是指（ ）。

- A.0.001 个百分点
- B.0.01 个百分点
- C.0.1 个百分点
- D.1 个百分点

69.关于上海银行间同业拆放利率的说法，正确的是（ ）。

- A.上海银行间同业拆放利率属于无担保利率
- B.上海银行间同业拆放利率以复利方法计算
- C.上海银行间同业拆放利率品种只有 1 年期利率
- D.上海银行间同业拆放利率是国内所有银行报价的算术平均利率

70.下列金融市场中，属于资本市场的是（ ）。

- A.票据市场
- B.股票市场
- C.同业拆借市场
- D.短期债券市场

71.甲银行与乙银行签订合同，合约规定：甲银行交付 3 万元给乙银行，6 个月后可以按约定价格卖出 300 万份指定的货币市场基金给乙银行。这种交易是（ ）交易。

- A.现货
- B.期货
- C.期权
- D.资本

72.金融工具的票面收益与本金的比率称为（ ）。

- A.当期收益率
- B.名义收益率
- C.实际收益率

D.平均收益率

73.本国居民在国外工作（一年以下）而得到并汇回的收入，应计入国际收支平衡表经常账户中的（ ）。

A.收益

B.经常转移

C.直接投资

D.资本转移

74.我国人民币汇率采取的标价方法是（ ）。

A.美元标价法

B.双向报价法

C.直接标价法

D.间接标价法

75.在间接标价法下，如果汇率值变大，则本币即期汇率（ ）。

A.升值

B.贬值

C.升水

D.贴水

76.下列不属于储备资产的是（ ）。

A.外汇

B.贷款

C.货币黄金

D.特别提款权

77.根据购买力平价理论，两国货币购买力之比的变化决定了（ ）的变动。

A.汇率

B.物价

C.利率

D.总供给

78.买入、卖出汇率的判断依据是（ ）。

A.银行贱买贱卖

B.银行贱买贵卖

C.银行贵买贱卖

D.银行贵买贵卖

79.国际收支所反映的是经济交易，并且必须是经济中（ ）。

A.非居民之间发生的经济交易

B.居民之间发生的经济交易

C.居民与非居民之间发生的经济交易

D.居民之间或非居民之间发生的经济交易

80.狭义的外汇主要是指（ ）。

A.特别提款权

B.外币股票

C.外币债券

D.外币存款和外币票据

81.可用于衡量一国官方储备压力的国际收支差额是（ ）。

A.贸易差额

B.综合差额

C.经常差额

D.资本与金融账户差额

82.在不兑现信用货币制度下，信用制造货币的功能通常由（ ）掌握。

A.中央银行

B.财政部门

C.政策性银行

D.商业银行

83.剑桥学派的现金余额数量说提出，假设其他因素不变，则（ ）。

A.物价水平和货币量成反比，货币价值与货币量成正比

B.物价水平和货币量成正比，货币价值与货币量成正比

C.物价水平和货币量成反比，货币价值与货币量成反比

D.物价水平和货币量成正比，货币价值与货币量成反比

84.传统货币数量说中，代表的是费雪的现金交易数量说和剑桥学派的现金余额数量说，

两者得到结论是：假设其他因素不变，则（ ）。

A.物价水平和货币量成反比，货币价值与货币量成正比

- B.物价水平和货币量成正比，货币价值与货币量成正比
- C.物价水平和货币量成反比，货币价值与货币量成反比
- D.物价水平和货币量成正比，货币价值与货币量成反比

85.流动性偏好理论认为，人们的货币需求行为不取决于（ ）。

- A.投机动机
- B.投资动机
- C.预防动机
- D.交易动机

86.我国目前对不同口径的货币供应量的划分依据是（ ）。

- A.货币的名义购买力
- B.货币的实际购买力
- C.资产的流动性
- D.资产的安全性

87.根据我国货币层次的划分标准，既属于狭义货币供应量  $M_1$ ，又属于广义货币供应量  $M_2$  的是（ ）。

- A.单位活期存款
- B.单位定期存款
- C.个人存款
- D.财政存款

88.下列不属于支付结算业务的是（ ）。

- A.汇款
- B.托收
- C.承兑
- D.信用证

89.股票实质上代表了股东对股份公司的（ ）。

- A.产权
- B.债券
- C.物权
- D.所有权



90.某国在3年中，货币增长速度为80%，而实际国民收入增长速度为100%，货币流通速度不变，这3年期间价格水平（ ）。

- A.上升
- B.下降
- C.不变
- D.上下波动

91.对于2018年中国房地产市场出现的房价下跌，楼市寒冬问题，从经济学角度来讲，属于（ ）事件。

- A.灰犀牛
- B.黑天鹅
- C.黑骑士
- D.白护卫

92.按美元计值，我国2018年二季度，货物贸易顺差1042亿美元，服务贸易逆差737亿美元，初次收入逆差208亿美元，二次收入逆差39亿美元。资本和金融账户逆差58亿美元，其中，资本账户逆差1亿美元，非储备性质的金融账户顺差182亿美元，储备资产增加239亿美元。我国二季度经常账户顺差（ ）亿美元。

- A.58
- B.1042
- C.1016
- D.305

93.中国人民银行决定，从2018年7月5日起，下调国有大型商业银行、股份制商业银行、邮政储蓄银行等金融机构的存款准备金率0.5个百分点。对这一政策影响说法正确的是（ ）。

- A.货币供给量减少
- B.国内需求减少
- C.迫使商业银行提高贷款利率
- D.使企业得到成本更低的贷款

94.信贷客户的感性动机产生的原因不包括（ ）。

- A.获得影响力
- B.得到银行的赏识、承认

C.被感动

D.得到长期金融支持

95.一般来讲，下列不属于商业银行短期借款业务的是（ ）。

A.发行金融债券

B.债券回购

C.向中央银行借款

D.同业拆借

96.李丽以 1000 元的期权费购买了某公司股票的欧式看跌期权，协议价格为每股 15 元，合约期限为 6 个月。若该公司股票市场价格在到期为每股 16 元，则李丽会（ ）。

A.不行使期权，没有亏损

B.不行使期权，亏损等于期权费

C.行使期权，获得盈利

D.行使期权，亏损小于期权费

97.2018 年中央经济工作会议明确，稳健的货币政策要松紧适度，保持流动性合理充裕，改善货币政策传导机制。下列货币政策中属于新型货币政策工具的是（ ）。

A.不动产信用控制

B.道义劝告

C.公开市场业务

D.中期借贷便利

98.在我国多层的资本市场红，（ ）能够促进中小微企业股票交易和融资，鼓励科技创新并激活民间资本，有效对实体经济薄弱环节加以支持。

A.主板市场

B.三板市场

C.四板市场

D.创业板市场

99.商业银行不得将同业拆入资金用于（ ）。

A.发放固定资产贷款或投资

B.弥补票据结算不足

C.解决临时性周转资金的需要

D.弥补联行汇差头寸的不足

100.假设某商业银行的五级贷款分类情况为：正常类贷款 210 亿元，关注类贷款 60 亿元，次级类贷款 15 亿元，可疑类贷款 9 亿元，损失类贷款 6 亿元，则该商业银行的不良贷款率为（ ）。

- A.5%
- B.10%
- C.2%
- D.30%

### 多项选择题

1.通知存款是指客户在存入款项时不约定存期，支取时需提前通知商业银行的存款。目前，银行提供（ ）天通知存款。

- A.1
- B.3
- C.5
- D.7
- E.10

2.下列关于大额存单说法正确的是（ ）。

- A.个人投资人认购大额存单起点金额不低于 20 万元
- B.到期兑付之前可以自由转让
- C.属于商业银行的表外业务
- D.记在流动比率的分母项，增强了银行主动负债能力
- E.机构投资人认购大额存单起点金额不低于 500 万元

3.商业银行负债业务的基本特征包括（ ）。

- A.是由以往或目前已经完成的交易而形成的
- B.具有潜在效益性
- C.能用货币准确计量和估价
- D.具有清算优先权
- E.具有偿还性

4.下列各项中属于不约定存期的存款类型的有（ ）。

- A.单位通知存款

B.单位协定存款

C.协议存款

D.定活两便储蓄

E.个人通知存款

5.货币执行流通手段的特点有（ ）。

A.必须是现实的货币

B.可以是观念形态的货币

C.不能是价值符号

D.不需要具有十足价值

E.需要具有十足价值

6.根据我国目前的有关规定，属于外汇范畴的有（ ）。

A.外国纸币

B.外币银行存款凭证

C.外币邮政储蓄凭证

D.外国铸币

E.外国动产与不动产

7.下列中央银行的信贷调控手段中，属于减少流通中货币的有（ ）。

A.提高法定存款准备金率

B.降低法定存款准备金率

C.买入有价证券

D.卖出有价证券

E.提高再贴现率

8.被称为货币政策的“三大法宝”是（ ）。

A.公开市场业务

B.存款准备金

C.再贴现

D.利率政策

E.汇率政策

9.推进利率市场化改革的作用有（ ）。

A.有利于优化资源配置

- B.促进经济结构调整和转型升级
  - C.有利于提升金融机构可持续发展能力
  - D.有利于推动金融市场深化发展
  - E.有利于促进相关改革协调推进
- 10.现代信用制度下,商业银行信用创造能力的决定因素有( )
- A.商品交易量
  - B.货币价值
  - C.商品价格
  - D.基础货币
  - E.货币乘数
- 11.按发行对象划分,银行卡可以分为( )。
- A.个人卡
  - B.单位卡
  - C.国际卡
  - D.地区卡
  - E.附属卡
- 12.中间业务的特点包括( )。
- A.不运用或不直接运用银行的自有资金。
  - B.不承担或不直接承担市场风险
  - C.以获得传统的存贷利差收入方式获得收益
  - D.种类多、范围广
  - E.产生的收入在商业银行营业收入中所占的比重日益上升
- 13.下列关于支票使用的表述,正确的有( )。
- A.可用于单位结算
  - B.支票签发金额不受限制
  - C.转账支票可以支取现金
  - D.支票付款可以附条件
  - E.用于个人结算
- 14.金本位制的主要形式包括( )。
- A.金币本位制

- B.金块本位制
  - C.金银本位制
  - D.金汇兑本位制
  - E.银本位制
- 15.货币的主要职能有（ ）。
- A.价值尺度
  - B.流通手段
  - C.支付手段
  - D.贮藏手段
  - E.世界货币
- 16.（ ）是影响货币需求的主要经济指标。
- A.收入
  - B.价格
  - C.利率
  - D.货币流通速度
- 17.货币制度的构成要素包括（ ）。
- A.法律规定货币种类
  - B.确定辅币材料
  - C.纸币的发行与流通
  - D.纸制纸币
  - E.确定本位货币
- 18.纸币制度下，汇率变化的因素有（ ）
- A.国际收支差额
  - B.利率水平
  - C.财政政策
  - D.货币政策
  - E.经济实力
- 19.防范外汇风险的主要市场工具有（ ）。
- A.远期合同
  - B.货币期货合同

- C.掉期合同
- D.即期合同
- E.货币期权合同
- 20.非银行类金融机构主要包括（ ）。
- A.农村信用社
- B.投资银行
- C.证券交易所
- D.财务公司
- E.中央银行
- 21.现代金融市场的参与者包括（ ）。
- A.企业
- B.个人
- C.商业银行
- D.保险公司
- E.证券公司
- 22.金融衍生工具包括（ ）。
- A.远期合约
- B.期权合约
- C.期货合约
- D.互换协议
- E.外汇合约
- 23.国际货币基金组织的资金来源有（ ）。
- A.成员国缴纳的份额
- B.借款
- C.信托基金
- D.发行股票
- E.发行债券
- 24.下列关于国际收支平衡表的表述，正确的有（ ）。
- A.它是一定时期内的交易记录
- B.它只能是一个流量而不是一个存量

- C.它是一个存量而不是一个流量  
D.它是采用复式记账原理编制的  
E.它是一国全部交易的综合记录
- 25.属于国际收支经常项目的是（ ）。
- A.货物与服务  
B.收益  
C.证券投资  
D.经常转移  
E.储备资产
- 26.国际信贷的主要方式有（ ）。
- A.国际银行信贷  
B.出口信贷  
C.国际债券  
D.政府贷款  
E.国际金融机构贷款
- 27.商业银行资产业务包括（ ）。
- A.同业拆借  
B.库存现金  
C.银行贷款  
D.证券投资  
E.结算业务
- 28.商业银行的经营原则有（ ）。
- A.安全性  
B.效益性  
C.非盈利性  
D.流动性  
E.政策性
- 29.政策性金融机构特有的职能是（ ）。
- A.倡导性职能  
B.金融中介职能



- C.补充性职能
  - D.选择性职能
- 30.以下属于中央银行负债业务的是（ ）。
- A.货币发行业务
  - B.证券买卖业务
  - C.集中存款准备金业务
  - D.再贴现业务
  - E.买卖外汇业务

## 经济习题

### 单项选择题

- 1.在一般情况下，厂商得到的价格若低于以下哪种成本就停止营业？（ ）
- A.平均成本
  - B.平均可变成本
  - C.边际成本
  - D.平均固定成本
- 2.在下列商品中，不可以采用“薄利多销”，通过降价来增加收益的商品是（ ）。
- A.大米
  - B.补药
  - C.旅游服务
  - D.时装
- 3.下列各种成本中，哪个成本的变动规律是向右下方倾斜？（ ）
- A.平均固定成本
  - B.平均可变成本
  - C.短期边际成本
  - D.短期总成本
- 4.垄断竞争市场的特点是（ ）。
- A.较多的卖者和买者

B.存在产品差别

C.同时具有 A 和 B

D.以上都不对

5.寡头市场最主要的特征是（ ）。

A.各厂商生产的是无差别的同种产品

B.各厂商生产的是有差别的同种产品

C.各厂商之间存在明显的相互依赖性

D.各厂商之间不存在明显的相互依赖性

6.在用支出法计算国内生产总值 GDP 时，本国国民购买私人住宅的支出属于（ ）。

A.消费

B.投资

C.政府购买

D.净出口

7.生产函数表示（ ）。

A.生产过程中厂商的收益与成本之间的关系

B.生产过程中产品的销售总收益与其价格之间的关系

C.生产过程中产品的销售量与其价格之间的关系

D.生产过程中产品的产出量与生产要素的投入量之间的关系

8.在两种可变生产要素的几何分析中，厂商实现最大利润的最优生产要素组合点为（ ）。

A.无差异曲线与预算线的相交之点

B.等产量曲线与等成本线的相交之点

C.无差异曲线与预算线的相切之点

D.等产量曲线与等成本线的相切之点

9.下列关于效用的说法中，唯一正确的是（ ）。

A.效用的大小没有客观标准

B.效用的大小有客观标准

C.效用就是指物品的用途

D.效用就是指物品的使用价值

10.如果两种商品 x 和 y 的需求交叉价格弹性系数是-1.7，那么可以判断出（ ）。

- A.x 和 y 是互补品
- B.x 和 y 是替代品
- C.x 和 y 是抵挡品
- D.x 和 y 是高档品

11.CPI 指数通常作为观察通货膨胀水平的重要指标，CPI 指数具体是指（ ）。

- A.生产者价格指数
- B.消费物价指数
- C.通货膨胀平减指数
- D.零售物价指数

12.关于决定需求的基本因素，以下表述错误的是（ ）。

- A.价格和需求的变动呈反方向发展
- B.价格是影响需求的最重要的因素
- C.如果预期价格将下跌，许多消费者会提前购买
- D.互补商品中，一种商品价格上升，会引起另一种商品需求随之降低

13.据统计，自去年 9 月份以来，纯碱价格已经从 1400 元/吨左右上涨至 2200 元/吨左右，涨幅约 60%。假设纯碱与甲商品是替代品，与乙商品是互补品。那么在其他条件不变的情况下，以下说法正确的是（ ）。

- A.甲商品需求量会增加，乙商品需求量会增加
- B.甲商品需求量会减少，乙商品需求量会减少
- C.甲商品需求量会增加，乙商品需求量会减少
- D.甲商品需求量会减少，乙商品需求量会增加

14.下列关于完全垄断市场特征的说法，错误的是（ ）。

- A.只有一个生产者，因而生产者是价格的决定者，而不是价格的接受者
- B.完全垄断者的产品是没有合适替代品的独特性产品
- C.完全垄断者对价格有较程度的控制
- D.其他企业进入这一市场非常困难

15.城市出租车的起步价上涨后，居民对公交服务的（ ）。

- A.需求量下降
- B.需求量增加

C.需求下降

D.需求增加

16.边际成本的曲线与平均成本的相交点是（ ）。

A.边际成本曲线的最低点

B.平均成本曲线下降阶段的任何一点

C.平均成本曲线的最低点

D.边际成本曲线的最高点

17.人们在经济资源的配置和利用中要进行选择的根本原因在于（ ）。

A.产品效用的不同

B.人们的主观偏好不同

C.经济资源的稀缺性

D.经济资源用途的不同

18.给消费者带来相同满足程度的商品组合集中在（ ）。

A.生产可能性曲线上

B.无差异曲线上

C.预算约束曲线上

D.需求曲线上

19.当某种生活必需品价格（例如粮食）的市场价格上涨幅度过大，有可能影响城镇居民的生活水平时，政府一般可以采取的干预方式是（ ）。

A.限制进口

B.实施最高限价

C.实施保护价格

D.增加政府库存

20.下列说法中错误的是（ ）。

A.总产量减少，边际产量小于零

B.边际产量减少，总产量也减少

C.随着某种生产要素投入量的增加，边际产量和平均产量增加到一定程度将趋于下降，边际产量的下降要先于平均产量

D.边际产量曲线一定在平均产量曲线的最高点处与之相交

21.在下列因素变动时，不会导致商品 A 的需求曲线移动的因素是（ ）。

- A.消费者收入
- B.相关商品价格
- C.消费者偏好
- D.商品本身的价格

22.劳动供给对工资变动的反映或者说劳动供给曲线的形状取决于（ ）。

- A.工资率变动的边际效应
- B.工资率变动的替代效应
- C.工资率变动的收入效应
- D.B 和 C

23.以下哪项不是划分市场结构的主要依据？（ ）

- A.本行业内部的生产者数目或者企业数目
- B.本行业内各企业生产者的产品的差别程度
- C.进入障碍的大小
- D.生产技术差别程度

24.中国农产品的价格常常在不同年份间出现巨大波动，出现了“苹什么”和“蒜你狠”等词。2018 年大蒜行情已经烂市，今年游资很可能转战到苹果上，若今年“苹什么”再次出现，价格上涨，将出现（ ）。

- A.苹果需求数量会增加，梨需求数量会增加
- B.苹果需求数量会增加，梨需求数量会减少
- C.苹果需求数量会减少，梨需求数量会增加
- D.苹果需求数量会减少，梨需求数量会减少

25.如果一个市场上，一种商品相对社会最优产量来说，处于供给不足状态，这说明存在（ ）。

- A.正外部经济效果
- B.信息不完全
- C.负外部经济效果
- D.逆向选择

26.经济学研究的基本问题包括（ ）。

- A.生产什么、生产多少
- B.怎样生产

C.为谁生产

D.以上问题均正确

27.考虑有可能会被包含在 GDP 里的两个行为：（1）自有住宅的估计租金；（2）购买新建住宅，下面正确的是（ ）。

A.（1）和（2）都会作为消费被包含在 GDP 里面

B.（1）作为消费，而（2）作为投资被包含在 GDP 里面

C.（2）作为消费，而（1）作为投资被包含在 GDP 里面

D.只有（2）作为投资被包含在 GDP 里面

28.由于卖方和买方之间信息不对称，市场机制会导致某些商品或服务的需求曲线向左下方弯曲，最终结果是劣质商品或服务驱逐优质商品或服务，以致市场萎缩甚至消失的现象，称为（ ）。

A.道德风险

B.优胜劣汰

C.逆向选择

D.外部性

29.2018 年以来，国内成品油调价呈现“七涨二跌一搁浅”的格局，截至第七次调价，汽油价格累计每吨上调 795 元，柴油价格累计每吨上调 765 元。那么不考虑其他条件，随着汽油价格上调，汽车的需求数量将如何变化？（ ）

A.增加

B.减少

C.不变

D.不确定

30.2013—2017 年，我国国内生产总值年均增长 7.1%，高于同期世界 2.8%左右的平均增长水平。关于国内生产总值说法正确的是（ ）。

A.只有进入市场流通活动的产品与劳务才能计入

B.外国居民在我国创造的价值不计入我国 GDP

C.GDP 是指一国（或地区）所有公民在一定时期内生产活动的最终成果

D.GDP 是一个存量

31.通货膨胀是指在一段时间内，一般物价水平或价格水平持续，显著上涨的经济现象。下列关于通货膨胀的说法错误的是（ ）。

- A.通货膨胀有利于靠变动收入维持生活的人
- B.通货膨胀有利于靠固定的货币收入维持生活的人
- C.通货膨胀可以在债务人和债权人之间发生收入再分配的作用
- D.通货膨胀对储蓄者不利

32.关于衡量通货膨胀的指标，下列描述正确的是（ ）。

A.CPI 是一个反映居民家庭一般所购买的消费商品和服务价格水平变动情况的宏观经济指标

- B.衡量通货膨胀最常用的指标是 PPI
- C.GDP 平减指数是实际 GDP 与名义 GDP 之比
- D.CPI 的上升将会增加人们的实际收入

33.自动稳定器的功能是（ ）。

- A.稳定居民收入
- B.缓解周期性波动
- C.稳定物价水平
- D.稳定利率

34.假定政府要减少人们对于香烟的消费，而对香烟收税，那么，当需求弹性值（绝对值）为哪个情形时，人们抽烟量下降最多？（ ）

- A.2
- B.1
- C.0.5
- D.0.1

35.当社会发生通胀但并不严重时，应该采取的财政政策和货币政策组合是（ ）。

- A.紧缩的财政政策、宽松的货币政策
- B.宽松的财政政策、紧缩的货币政策
- C.宽松的财政政策、宽松的货币政策
- D.紧缩的财政政策、紧缩的货币政策

36.准租金与总利润相比（ ）。

- A.相等
- B.前者大
- C.后者大

D.均有可能

37.商品 A 价格上升导致商品 B 需求曲线右移，则商品 A 和 B ( )。

A.互为替代品

B.互为互补品

C.既不是替代品又不是互补品

D.可能是替代品或者互补品

38.搭便车现象是对下列 ( ) 的一种形象的比喻。

A.社会福利问题

B.市场失灵问题

C.公共物品问题

D.边际成本保持不变

39.完全竞争厂商利润最大化的条件是“价格等于边际成本”，这表示企业将 ( )。

A.扩大产出直到价格上升到等于边际成本

B.扩大产出直到价格下降到等于边际成本

C.扩大产出直到边际成本下降到等于价格

D.扩大产出直到边际成本上升到等于价格

40.基尼系数是国际上用来综合考虑居民收入分配差异状况的一个重要分析指标。下列对基尼系数的评价，不正确的是 ( )。

A.基尼系数描述的一定地区人们生活水平的指标

B.国际间，并没有制定具有一致性的基尼系数准则

C.基尼系数给出了反映居民之间贫富差异程度的数量界线

D.基尼系数的缺点是没有显示出来在哪里存在分配不公

41.国内生产净值也被称为国内净产值，指一定时期内一个国家或地区之内所生产出来的新增价值量。下列关于国内生产净值计算公式的表示中，正确的是 ( )。

A. $NDP=GDP-$ 折旧

B. $NDP=GDP-$ 企业间接税

C. $NDP=GDP-$ 个人所得税

D. $NDP=GDP-$ 储蓄

42.在劳动力供给曲线中，在工资水平较低时，闲暇的收入效应 ( ) 替代效应。



- A.小于
- B.大于
- C.等于
- D.不确定

43.下述四种情况中，投资乘数最大的是（ ）。

- A.边际消费倾向为 0.6
- B.边际储蓄倾向为 0.1
- C.边际消费倾向为 0.4
- D.边际储蓄倾向为 0.3

44.生产一种商品 A 时，在其他条件不变的情况下，由于生产技术的进步，会使得（ ）。

- A.商品 A 的供给量增加
- B.商品 A 的供给减少
- C.商品 A 的供给增加
- D.商品 A 的供给量减少

45.处在不同的无差异曲线上的各种商品组合（ ）。

- A.效用是不可能相等的
- B.一般情况下，效用是不可能相等的，但在个别场合，有可能相等
- C.效用是否相等或不相等要视情况而定
- D.效用是可能相等的

46.在完全竞争市场上，厂商长期均衡的条件是（ ）。

- A. $MR=MC$
- B. $AR=AC$
- C. $MR=MC=AR=AC$
- D. $MR=MC=P$

47.商品 X、Y 价格与消费者收入按相同比例下降。预算线（ ）。

- A.向左下方平动
- B.向右上方平动
- C.不变动
- D.转动

- 48.如果完全垄断厂商在两个分割的市场中具有相同的需求曲线，那么垄断厂商（ ）。
- A.可以施行差别价格
  - B.不能施行差别价格
  - C.既能也不能实行差别价格
  - D.上述都不对
- 49.如果某商品富有需求价格弹性，则该商品价格上升（ ）。
- A.会使销售收入增加
  - B.该商品销售收入不变
  - C.会使该商品销售收入下降
  - D.销售收入可能增加也可能下降
- 50.青年大学生刚刚入职收入较低的时候会选择购买 A 商品，当他们工作越久，收入提升之后会减少对 A 商品的购买转而选择 B 商品，那么 A 商品的类型是（ ）。
- A.奢侈品
  - B.正常商品
  - C.低档品
  - D.互补品
- 51.股东把企业交给经理管理，支付经理较高的年薪并赋予经营管理权，但股东不能完全观察到经理的行为，经理可能做出一些为自己谋利而不符合企业利润最大化的决策或行为。股东面临（ ）。
- A.道德风险
  - B.逆向选择
  - C.利润最大
  - D.利润最小
- 52.按菲利普斯曲线的基本含义，下列描述正确的是（ ）
- A.失业率与通货膨胀率同时上升
  - B.失业率与通货膨胀率同时下降
  - C.失业率上升，通货膨胀率下降
  - D.失业率的变动与通货膨胀率的变动无关

53.电力部门对一定用电量如 1-100 度实行低价，对增加的电力如 101-200 度实行高价，厂商在确定价格时实行的价格歧视是（ ）。

- A.一级价格歧视
- B.二级价格歧视
- C.三级价格歧视
- D.垄断价格

54.劳动的供给决策包括（ ）之间的选择。

- A.工作和睡眠
- B.收入和消费
- C.消费和睡眠
- D.收入和闲暇

55.结构性失业是（ ）。

- A.劳动力供给与需求在技术、工种、年龄等方面互不满足引起的
- B.由于工资刚性引起的
- C.技术进步引起的
- D.经济中劳动力的正常流动引起的

56.总供给曲线向左上方移动的原因是（ ）。

- A.需求萎缩
- B.需求扩大
- C.原材料成本价格上移
- D.生产技术改进

57.下列各项中哪一项会导致一国生产可能性曲线向外移动（ ）。

- A.失业
- B.通货膨胀
- C.有用性资源增加或者技术进步
- D.消费品生产增加，资本物品生产下降

58.在家庭消费—收入图中，消费函数同 45 度线的交点所确定的收入均衡点是（ ）。

- A.储蓄等于消费
- B.消费等于投资

C.收入等于消费

D.储蓄等于投资

59.下列属于垄断竞争市场的特征的是（ ）。

A.没有很多生产者和消费者

B.产品具有同质性

C.进入或者退出市场比较难

D.进入或者退出市场比较容易

60.以下关于货币政策的说法不正确的是（ ）。

A.在 LM 曲线不变时，IS 曲线越平坦，则货币政策效果越大

B.在 LM 曲线不变时，IS 曲线越陡峭，则货币政策效果越小

C.当 IS 曲线不变时，LM 曲线越平坦，则货币政策效果越小

D.当 IS 曲线不变时，LM 曲线越平坦，则货币政策效果越大

61.完全竞争市场上，单个企业的需求曲线的是（ ）。

A.与整个行业的需求曲线一致

B.是向右下方倾斜的

C.是与横轴平行的

D.不影响市场价格

62.如果甲商品与乙商品是替代品，那么（ ）。

A.甲与乙之间的需求交叉弹性为零

B.甲与乙之间的需求交叉弹性为正值

C.甲与乙之间的需求交叉弹性为负值

D.它们的需求收入弹性都是负值

63.以下不属于衡量通货膨胀的指标是（ ）。

A.国内生产总值物价平减指数

B.GDP

C.生产者物价指数

D.消费者物价指数

64.经济处于（ ）阶段时，商业银行的资产规模和利润量处于最低水平。

A.繁荣

B.衰退

C.萧条

D.复苏

65.某人拥有一门面的产权，门面出租的年收入是2万美元。而他帮别人打工的年收入为1.5万美元，则他自己亲自经营该门面的机会成本是：（ ）

A.2万美元

B.1.5万美元

C.3.5万美元

D.0.5万美元

66.政府为了扶持农业，对农产品规定了高于其均衡价格的支持价格，政府为了维持支持价格，应该采取的应对措施是（ ）。

A.收购过剩的农产品

B.实行农产品配价制

C.对农产品生产者予以补贴

D.增加农产品的税收

67.下列商品中，需求价格弹性最大的是（ ）。

A.服装

B.化妆品

C.金银首饰

D.食盐

68.在经济中存在大量失业时，应该采取的财政政策措施是（ ）。

A.减少政府支出

B.增加政府支出

C.提高个人所得税税率

D.减少转移支付

69.经济周期理论研究的关键是（ ）。

A.物价水平波动的原因及规律

B.国民收入水平波动的原因及规律

C.工资水平波动的原因及规律

D.利率水平波动的原因及规律

70.垂直于横轴的总供给曲线表明了（ ）。

- A.经济中的资源还没有得到充分利用
- B.在价格不变条件下，总供给仍可以大量增加
- C.经济中的资源基本实现了充分利用
- D.如果总需求增加，不仅能提高价格，也能使供给增加

71.在下列情形中，应该计入当年 GDP 的是（ ）

- A.用于服装厂生产衣服的布匹
- B.用于居民户消费的面粉
- C.炼钢厂炼钢用的煤炭
- D.汽车制造厂用于组装汽车的轮胎

72.假设某消费者花费一定的收入消费两种商品甲与乙，当甲商品的价格下跌时，该消费者对甲商品消费的替代效应的绝对值大于收入效应的绝对值，同时增加对乙商品的消费，则下列说法中正确的是（ ）。

- A.甲商品不是吉芬商品
- B.甲商品是低档商品
- C.乙商品是正常商品
- D.乙商品是低档商品

73.治理通货紧缩的一般措施中，不正确的方法是（ ）。

- A.增加政府公共支出
- B.提高中央银行的再贴现率
- C.降低法定存款准备金率
- D.增加农民的收入水平

74.按照科斯的交易费用理论，交易成本不包括（ ）。

- A.谈判的成本
- B.商品运输的成本
- C.获取市场信息的成本
- D.讨价还价的成本

75.成员一般不能在贸易伙伴之间实行歧视，给予一个成员的优惠也应同样给予其他成员，这就是（ ）。

- A.最惠国待遇
- B.国民待遇

C.促进公平竞争

D.增强透明度

76.乘数效应的类型有三种类型，其中不包括（ ）。

A.税收乘数效应

B.预算平衡乘数效应

C.挤出效应

D.投资或公共支出乘数效应

77.企业的生产函数为 $Q = K^{0.7}L^{0.6}$ ，则以下说法中正确的是（ ）。

A.生产是规模报酬递减的

B.生产要素边际报酬是递增的

C.生产是规模报酬递增的

D.生产是规模报酬不变的

78.某企业发现，在现有的技术条件下，劳动与资本的边际产量之比高于劳动和资本的价格之比，则说明（ ）。

A.该企业只要愿意多投入成本就可能取得更多的产量

B.只要资本的价格下降，以同样的成本就可以取得更多的产量

C.以同样的成本增加劳动的投入，减少资本的投入，就可以取得更多的产量

D.以同样的成本减少劳动的投入，增加资本的投入，就可以取得更多的产量

79.根据 IS-LM 模型，税收降低会导致（ ）。

A.产出下降

B.通货膨胀率升高

C.利率升高

D.失业升高

80.博弈论中，局中人从一个博弈中得到的结果常被称为（ ）。

A.效用

B.支付

C.决策

D.利润

81.以下几种情况中，属于需求规律例外的是（ ）。

A.某商品价格上升，另一商品需求量也上升

- B.某商品价格上升，需求量也上升
- C.消费者收入增加，对某商品的需求也增加
- D.消费者偏好改变，对某商品的需求量减少

82.市场均衡是指在市场上，市场供求达到平衡时候的状态。在研究需求变动和供给变动对市场均衡影响中，以下表述正确的是（ ）。

- A.需求增加引起均衡价格下降，需求减少引起均衡价格减少
- B.供给增加引起均衡价格上升，供给减少引起均衡价格下降
- C.需求增加引起均衡产量减少，需求减少引起均衡产量增加
- D.供给增加引起均衡产量增加，供给减少引起均衡产量减少

83.以下选项中，不是重要的宏观经济目标的是（ ）。

- A.价格稳定
- B.充分就业
- C.完全竞争
- D.经济增长

84.商品 X 和 Y 的价格按相同的比率上升，而收入不变，此时预算线（ ）。

- A.不确定
- B.向右上方平行移动
- C.向左下方平行移动
- D.不移动

85.实时价格歧视的基本条件不包括（ ）。

- A.卖方具有垄断地位
- B.企业生产的商品或服务具有耐用品性质
- C.消费者之间存在不同的需求价格弹性
- D.不同消费者所在的市场能被隔离开

86.宏观经济目标中，不存在矛盾的是（ ）。

- A.经济增长与充分就业
- B.经济增长与物价稳定
- B.物价稳定与充分就业
- D.国际收支平衡与经济增长

87.（ ）是国家取得财政收入的基本形式。



- A.公债
- B.规费
- C.税收
- D.国家预算

88.关于经济常识，下列表述正确的是（ ）。

- A.房地产开发投资属于第三产业投资
- B.与完全竞争市场相对立的极端形式的市场类型是垄断竞争市场
- C.国家税务管理部门调整消费税税率属于国家宏观调控中的行政手段
- D.增加投资支出属于政府转移支付

89.用收入法计算的 GDP 等于（ ）。

- A.消费+投资+政府支出+净出口
- B.工资+利息+租金+利润+间接税
- C.工资+利息+租金+利润+间接税+折旧
- D.工资+利息+中间产品+间接税+利润

90.下列（ ）情况使总收益增加。

- A.价格上升，需求缺乏弹性
- B.价格下降，需求缺乏弹性
- C.价格上升，需求富有弹性
- D.价格下降，需求单位弹性

### 多项选择题

91.如果仅劳动是变动投入，以边际产量等于平均产量作为划分生产三阶段的标志，则（ ）是第Ⅱ阶段的特点。

- A.边际报酬递减
- B.平均产量达到最高点后不断下降
- C.总产量不断提高
- D.边际产量递增

92.边际报酬递减规律发生作用的前提是（ ）。

- A.存在技术进步
- B.生产技术水平不变

C.具有两种以上可变要素的生产

D.只有一种可变要素的生产

93.导致总需求曲线向右移动的因素有（ ）。

A.名义货币供给量增加

B.一般价格水平上升

C.政府购买支出增加

D.税收增加

E.税收减少

94.“外部影响”是造成市场机制低效率的一个重要原因。对付外部影响通常有三个办法（ ）。

A.税收和补贴

B.企业合并

C.明确财产权

D.限制垄断价格

95.需求价格弹性的种类有（ ）。

A.  $E_d > 1$

B.  $E_d = 1$

C.  $E_d = 0$

D.  $E_d < 1$

E.  $E_d < 0$

96.下面论述中正确的是（ ）。

A.低档物品的需求曲线总是向右上方倾斜的

B.吉芬物品总是低档物品，低档物品不一定是吉芬物品

C.如果商品的替代效应和收入效应变动方向相反，那么这种物品是低档物品

D.如果商品的替代效应和收入效应变动方向相反，那么这种物品是吉芬物品

97.在经济萧条时，财政可以通过（ ）来扩大需求，刺激经济发展。

A.减少福利补贴支出

B.降低税率

C.增加政府支出

D.提高财政补贴

98.下列关于菲利普斯曲线的内容,说法正确的是( )。

- A.通货膨胀率高时,失业率低
- B.通货膨胀率低时,失业率低
- C.当失业率上升时,货币工资变化率下降
- D.当失业率下降时,货币工资变化率下降

99.为了研究国民收入在国民之间的分配,美国统计学家 M.O.洛伦兹提出了著名的洛伦兹曲线。一般来说,它反映了收入分配的不平等程度。弯曲程度( ),收入分配程度( );反之亦然。

- A.越大,越不平等
- B.越大,越平等
- C.越小,越不平等
- D.越小,越平等

100.当经济发生通货膨胀但不严重,应该采取的货币政策是( )。

- A.提高再贴现率
- B.公开市场上买进有价证券
- C.提高税负
- D.增加政府购买

101.需求曲线之所以向右下方倾斜,是因为价格的变化具有( )效应。

- A.收入
- B.替代
- C.递减
- D.规模经济
- E.导向

102.从宏观角度来理解为什么总需求曲线向右下方倾斜,以下属于原因的有( )。

- A.利率效应
- B.替代效应
- C.财富效应
- D.汇率效应

103.在经济周期的复苏和繁荣阶段,不可能出现的是( )。

- A.通货膨胀
- B.失业率高
- C.投资活动萎缩
- D.生产发展缓慢

104.通货膨胀的再分配效应表现在（ ）。

- A.通货膨胀不利于固定收入者，有利于变动收入者
- B.通货膨胀不利于储蓄者，有利于实际资产持有者
- C.通货膨胀不利于债权人，有利于债务人
- D.通货膨胀不利于公众，有利于政府

105.如果有一种生产要素可以变动，那么，该要素合理投入量应处于（ ）。

- A.生产要素投入的第二区域
- B.平均产量和边际产量都递增的阶段
- C.平均产量和边际产量都递减并且大于零的阶段
- D.平均产量递增，而边际产量递减的阶段

106.小梁从美国代购的衣服包装上标明“中国制造”，那么该商品的价值应计入（ ）。

- A.美国的 GDP
- B.中国的 GDP
- C.美国的 GNP
- D.中国的 GNP

107.凯恩斯关于货币需求的动机包括（ ）。

- A.交易动机
- B.财富动机
- C.投机动机
- D.谨慎动机

108.下列关于乘数的说法中，正确的是（ ）。

- A.所谓乘数，是指在一定时期中，一单位国民收入的变动所导致的数倍总需求的变动
- B.在其他条件不变的情况下，边际储蓄倾向越低，投资乘数就越小
- C.政府购买的乘数是正值
- D.税收的乘数是负值

- 109.在下列曲线中，向右下方倾斜的是（ ）。
- A.完全竞争行业的需求曲线
  - B.完全竞争厂商的需求曲线
  - C.完全竞争厂商的边际收益曲线
  - D.垄断竞争厂商的需求曲线
  - E.垄断竞争厂商的边际收益曲线
- 110.现代西方经济学所说的四大生产要素的价格是指（ ）。
- A.工资
  - B.地租
  - C.利息
  - D.股息
  - E.利润

## 会计习题

### 单项选择题

- 1.下列有关会计方面的表述中，不正确的是（ ）。
- A.经济越发展，会计越重要
  - B.会计按其报告对象不同，分为财务会计与管理会计
  - C.会计就是记账、算账和报账
  - D.会计是以货币为主要计量单位，反映和监督一个单位经济活动的一种经济管理活动
- 2.下列经济业务中，会引起企业的资产和所有者权益总额变化的是（ ）。
- A.企业以银行存款购买存货（不考虑增值税）
  - B.企业以银行存款支付现金股利
  - C.投资者以银行存款对企业进行投资
  - D.企业将资本公积转增资本
- 3.下列关于试算平衡法的表述中，不正确的是（ ）。
- A.包括发生额试算平衡法和余额试算平衡法
  - B.试算不平衡，表明账户记录肯定有错误
  - C.试算平衡，说明账户记录一定正确

D.发生额试算平衡法的理论依据是“有借必有贷、借贷必相等”

4.下列关于会计要素的表述中，正确的是（ ）。

A.负债是企业承担的潜在义务

B.资产一定是企业拥有的

C.净利润是企业利润总额减去所得税之后的数字

D.收入和利得的唯一区别就在于收入是日常活动形成的，而利得是非日常活动形成的。

5.主要提供企业利润信息的会计报表是（ ）。

A.资产负债表

B.利润表

C.现金流量表

D.统计报表

6.“应收账款”账户的期初借方余额为 8000 元，本期贷方发生额为 6000 元，本期借方发生额为 10000 元，则期末余额为（ ）。

A.借方 4000 元

B.借方 120000 元

C.贷方 4000 元

D.贷方 12000 元

7.企业为取得银行汇票，按规定存入银行的款项是（ ）。

A.外埠存款

B.信用证存款

C.银行本票存款

D.银行汇票存款

8.某企业原材料采用实际成本核算。2011 年 6 月 29 日该企业对存货进行全面清查。发现短缺原材料一批，账面成本 12000 元。已计提存货跌价准备 2000 元，经确认，应由保险公司赔款 4000 元，由过失人员赔款 3000 元，假定不考虑其他因素，该项存货清查业务应确认的净损失为（ ）元。

A.3000

B.5000

C.6000

D.8000

9.下列关于中期财务报告的说法错误的是（ ）。

A.企业取得的季节性收入，可以在中期财务报表中预计或递延

B.企业中期财务报告至少应当包括资产负债表、利润表、现金流量表和附注，且其格式与内容应当与上年度报表一致

C.中期财务报告应当被视为一个独立的会计期间，与年度财务报告采用一致的会计政策

D.月度、季度、半年度财务报告均可称为中期财务报告

10.利润表的基本要素不包括（ ）。

A.负债

B.利润

C.收入

D.费用

11.下列各项中，应计入管理费用的是（ ）。

A.预计产品质量保证损失

B.聘请中介机构年报审计费

C.专设售后服务网点的职工薪酬

D.企业负担的生产职工养老保险费

12.企业采用月末一次加权平均法计算发出材料成本。2010年3月1日结存甲材料200件，单位成本40元；3月15日购入甲材料400件，单位成本35元；3月20日购入甲材料400件，单位成本38元；当月共发出甲材料500件。3月发出甲材料的成本为（ ）元。

A.18500

B.18600

C.19000

D.20000

13.下列各项中，会导致企业资产负债率下降的是（ ）。

A.收回应收款项

B.计提资产减值准备

C.盈余公积转增资本

D.接受股东追加投资

14.固定资产根据每期期初固定资产账面净值和双倍的直线法,求得每年的折旧费用的方法是( )。

A.平均年限法

B.年数总和法

C.双倍余额递减法

D.工作量法

15.原材料可分为:原材料及主要材料、辅助材料等,原材料按其存放地点可分三类,一般不包括( )。

A.库外材料

B.在途物资

C.委托加工物资

D.库存材料

16.下列各项中,不属于留存收益的是( )。

A.资本溢价

B.任意盈余公积

C.未分配利润

D.法定盈余公积

17.2009年12月31日,甲公司购入一台设备并投入使用,其成本为25万元,预计使用年限5年,预计净残值1万元,采用双倍余额递减法计提折旧。假定不考虑其他因素,2010年度该设备应计提的折旧为( )万元。

A.4.8

B.8

C.9.6

D.10

18.甲、乙公司均为增值税一般纳税人,使用的增值税税率为17%,甲公司接受乙公司投资转入的原材料一批,账面价值100000元,投资协议约定价值120000元,假定投资协议约定的价值与公允价值相符,该项投资没有产生资本溢价。甲公司实收资本应增加( )元。

A.100000



B.117000

C.120000

D.140400

19.甲企业计提财务人员福利费 1500 元，应编制的分录为（ ）。

A.借：财务费用 1500

贷：银行存款 1500

B.借：管理费用 1500

贷：银行存款 1500

C.借：管理费用 1500

贷：应付职工薪酬—职工福利 1500

D.借：财务费用 1500

贷：应付职工薪酬—职工福利 1500

20.2011 年 12 月初某企业“应收账款”科目借方余额为 300 万元，相应的“坏账准备”科目贷方余额为 20 万元，本月实际发生坏账损失 6 万元。2011 年 12 月 31 日经减值测试，该企业应补提坏账准备 11 万元。假定不考虑其他因素，2011 年 12 月 31 日该企业资产负债表“应收账款”项目的金额为（ ）万元。

A.269

B.274

C.275

D.280

21.下列情况下，（ ）企业应当采用局部财产清查。

A.年终决算前

B.企业清产核资时

C.企业更换财产保管人员时

D.企业改组为股份制试点企业时

22.下列资产负债表项目中，可以直接根据有关总账科目余额填列的是（ ）。

A.货币资金

B.短期借款

C.长期借款

D.应收账款

23.下列各项中,属于让渡资产使用权收入的是( )。

- A.出租包装物收取的租金
- B.出售原材料取得的收入
- C.出售无形资产收取的价款
- D.出借包装物收取的押金

24.下列各项中,应计入企业管理费用的是( )。

- A.给予客户的现金折扣
- B.生产车间机器设备的折旧费
- C.处置无形资产净损失
- D.行政管理人员工资

25.在清查中发现库存现金短缺时,应贷记( )科目。

- A.待处理财产损益
- B.库存现金
- C.其他应收款
- D.管理费用

26.某企业在现金清查中发现库存现金较账面余额多出200元。经反复核查,长款原因仍然不明,经批准应转入( )科目。

- A.“现金”
- B.“营业外收入”
- C.“待处理财产损益”
- D.“其他应付款”

27.对于大量成堆难以清点的财产物资,应采用的清查方法为( )。

- A.实地盘点法
- B.抽样盘点法
- C.查询核对法
- D.技术推算法

28.在记账正确无误下,银行存款日记账与银行对账单余额不符原因是( )。

- A.漏账
- B.坏账损失
- C.未达账项

D.记账方式不一致

29.企业在进行现金清查中,发现现金溢余,在未经批准前,应借记库存现金科目,贷记( )。

A.营业外收入

B.待处理财产损益

C.管理费用

D.其他应付款

30.下列各项中,通过“其他货币资金”科目核算的是( )。

A.银行支票存款

B.备用金

C.银行承兑汇票

D.银行本票存款

31.根据《票据法》的规定,支票的提示付款期限为( )。

A.自出票日起10日内

B.自出票日起1个月内

C.自出票日起2个月内

D.自出票日起6个月内

32.按照现金内部控制制度的要求,下列说法不正确的是( )。

A.现金要实现日清月结

B.各种现金开支要进行审批

C.单位的库存现金可以以个人名义存入银行

D.出纳不得兼管稽核、会计档案保管

33.企业在现金清查中发现有待查明原因的现金短缺或溢余,已按管理权限批准,下列各项中,有关会计处理不正确的是( )。

A.属于无法查明原因的现金溢余,应借记“待处理财产损益”科目,贷记“营业外收入”科目

B.属于应由保险公司赔偿的现金短缺,应借记“其他应收款”科目,贷记“待处理财产损益”科目

C.属于应支付给有关单位的现金溢余,应借记“待处理财产损益”科目,贷记“其他应付款”科目

D.属于无法查明原因的现金短缺，应借记“营业外支出”科目，贷记“待处理财产损益”科目

34.库存现金清查过程中，无法查明原因的现金短款，经批准应该记入（ ）科目。

- A.管理费用
- B.财务费用
- C.其他应收款
- D.营业外支出

35.用于办理各项专用资金的收付的账户是（ ）。

- A.基本存款
- B.一般存款
- C.临时存款
- D.专用存款

36.根据内部控制制度的要求，出纳人员不可以（ ）。

- A.登记现金和银行存款日记账
- B.保管库存现金和各种有价证券
- C.保管会计档案
- D.保管空白收据、空白支票以及有关印章

37.远离银行机构或交通不便的企业的库存现金限额为最高不超过（ ）天的开支需要量。

- A.5
- B.10
- C.15
- D.20

38.下列不属于现金结算范围的是（ ）。

- A.职工工资、各种工资性津贴
- B.根据国家规定颁发给个人的科学技术、文化艺术、体育等各种奖金
- C.出差人员必须随身携带的差旅费
- D.结算起点 1000 元以上的大额支出

39.下列记录可以作为调整账面数字的原始凭证的是（ ）。

- A.盘存单

B.实存账存对比表

C.银行存款余额调节表

D.往来款项对账单

40.下列不通过“其他货币资金”核算的是（ ）。

A.存出投资款

B.信用证存款

C.信用卡存款

D.备用金

41.下列经济业务产生的现金流量中，应列入“经营活动产生的现金流量”项目的是（ ）。

A.变卖固定资产收回的现金

B.支付经营租赁费用付出的现金

C.取得投资收益收到的现金

D.取得银行借款收到的现金

42.某公司2012年12月31日“应收账款”科目借方余额为6000元，“预收账款—A公司”借方余额为3000元，“坏账准备”科目贷方余额为1500元，则年末资产负债表中“应收账款”项目的金额是（ ）。

A.4500元

B.6000元

C.7500元

D.9000元

43.下列各项中，不属于筹资活动产生的现金流量的是（ ）。

A.支付的现金股利

B.取得短期借款

C.增发股票收到的现金

D.购买固定资产支付的现金

44.下列资产负债表项目中，应直接根据总账余额填列的是（ ）。

A.应收账款

B.交易性金融资产

C.存货

D.预收账款

45.下列各项中,属于现金流量表中投资活动产生的现金流量的是( )。

A.支付管理人员工资

B.购置固定资产支付的现金

C.收到的出口退税

D.出差人员携带的差旅费

46.能够反映商业银行一定日期财务状况的会计报表是( )。

A.资产负债表

B.利润表

C.现金流量表

D.利润分配表

47.利润表中没有反映的是下列( )。

A.主营业务利润

B.营业利润

C.利润总额

D.净利润

48.下列说法中不正确的是( )。

A.融资租入的固定资产视为企业自有资产体现了实质重于形式

B.企业设置秘密准备体现了谨慎性的要求

C.可靠性要求财务报告中的会计信息是中立无偏的

D.重要性应该从项目的性质和金额大小两方面加以判断

49.影响速动比率可信性的最主要因素是( )。

A.存货的变现能力

B.短期证券的变现能力

C.产品的变现能力

D.应收账款的变现能力

50.“待处理财产损溢”账户未转销的借方余额表示( )。

A.尚待处理的盘盈数

B.尚待处理的盘亏和毁损数

C.已处理的盘盈数

D.已处理的盘亏和毁损数

## 多项选择题

1.下列各项中减少应收账款账面价值的有（ ）。

- A.计提坏账准备
- B.收回转销的应收账款
- C.收回应收账款
- D.转销无法收回的采用备抵法的应收账款

2.与计算营业利润有关的项目有（ ）。

- A.管理费用
- B.所得税费用
- C.资产减值损失
- D.营业外收入

3.下列各项中，属于其他货币资金的是（ ）。

- A.银行本票存款
- B.银行汇票存款
- C.信用卡存款
- D.存出投资款

4.所有者权益由（ ）构成。

- A.实收资本
- B.资本公积
- C.盈余公积
- D.未分配利润

5.A 有限公司收到 B 企业作为资本投入的不需要安装的机器设备一台，该设备的原价为 100 万元，已提折旧 60 万元，投资合同约定该设备价值为 50 万元（假定该价值是公允的且不考虑增值税），占注册资本 40 万元，则下列关于 A 公司会计处理的表述正确的有（ ）。

- A.A 公司固定资产的入账价值为 40 万元
- B.A 公司固定资产的入账价值为 50 万元
- C.A 公司应当确认的资本公积为 10 万元

D.A 公司应当确认的资本公积为 20 万元

6.下列关于“实收资本”账户的说法正确的有（ ）。

- A.实收资本属于所有者权益类账户
- B.该账户的贷方登记投资者对企业投资的增加额
- C.期末借方余额表示投资者对企业投资的实有数
- D.该账户应该按照投资者设明细

7.投资者投入企业的财产可为（ ）。

- A.货币资金
- B.机器设备
- C.长期借款
- D.专利技术

8.下列与存货相关会计处理的表述中，正确的有（ ）。

- A.应收保险公司存货损失赔偿款计入其他应收款
- B.资产负债表日存货应按成本与可变现净值孰低计量
- C.按管理权限报经批准的盘盈存货价值冲减管理费用
- D.结转商品销售成本同时转销其已计提的存货跌价准备

9.下列各项固定资产中，应当计提折旧的有（ ）。

- A.闲置的固定资产
- B.单独计价入账的土地
- C.经营租出的固定资产
- D.已提足折旧仍继续使用的固定资产

10.下列固定资产中，应计提折旧的有（ ）。

- A.经营租入的设备
- B.融资租入的办公楼
- C.经营租出的设备
- D.融资租出的办公楼

11.企业进行库存现金清查时发现库存现金短缺 100 元，应由出纳员赔偿。按照企业会计制度，账务处理正确的是（ ）。

- A.借：待处理财产损溢 100  
    贷：库存现金           100



B.借：其他应收款 100

    贷：库存现金 100

C.借：营业外支出 100

    贷：库存现金 100

D.借：其他应收款 100

    贷：待处理财产损益 100

12.库存现金盘盈的账务处理中，可能贷记的科目有（ ）。

A.管理费用

B.营业外收入

C.销售费用

D.其他应付款

13.采购员报销差旅费涉及的账户有（ ）。

A.其他应收款

B.库存现金

C.其他应付款

D.管理费用

14.下列符合库存现金保管制度的是（ ）。

A.超过库存限额的现金应在当日下班前送存银行

B.超过库存限额的现金应在次日下班前送存银行

C.限额内的库存现金下班后可以自由存放在出纳员的抽屉内过夜

D.限额内的库存现金下班后必须存放在保险柜内

15.下列符合库存现金收支规定的是（ ）。

A.企业的库存现金收入当日必须送存银行

B.一般不允许坐支

C.提现时开具库存现金支票

D.各单位购买国家规定的专控商品一律采用转账的方式支付

16.下列说法不正确的是（ ）。

A.结算起点为 10000 元

B.库存现金限额一般为企业 4—5 天的正常开支需要量

C.企业绝对不可以坐支库存现金

D.各单位购买国家规定的专控商品一律不得以库存现金的方式支付

17.下列项目中（ ）属于库存现金的使用范围。

- A.工资性津贴
- B.抚恤金
- C.个人劳务报酬
- D.大额购货款

18.银行会计中，属于银行收入的是（ ）。

- A.实收资本
- B.佣金收入
- C.租赁收入
- D.利息收入

19.会计账户的各项金额的关系可用（ ）表示。

- A.本期期末余额=本期期初余额+本期增加发生额-本期减少发生额
- B.本期期末余额-本期期初余额=本期增加发生额-本期减少发生额
- C.本期期末余额-本期期初余额-本期增加发生额=本期减少发生额
- D.本期期末余额+本期减少发生额=本期期初余额+本期增加发生额

20.下列项目中通过“其他货币资金”核算的有（ ）。

- A.外埠存款
- B.银行本票存款
- C.银行汇票存款
- D.商业汇票

21.下列选项中属于速动资产的是（ ）。

- A.存货
- B.应收票据
- C.应收账款
- D.货币资金

22.下列指标能反映企业长期偿债能力的财务比率是（ ）。

- A.资产负债率
- B.产权比率
- C.销售净利率

D.利息保障倍数

23.下列各项中，可用于计算营运资金的算式是（ ）。

A.资产总额-负债总额

B.流动资产总额-负债总额

C.流动资产总额-流动负债总额

D.长期资本-长期资产

24.下列财务比率不能反映营运能力的是（ ）。

A.应收账款周转率

B.市盈率

C.利息保障倍数

D.成本费用净利率

25.商品销售收入确认的条件包括（ ）。

A.企业已将商品控制权转移给买方

B.企业既没有保留通常与所有权相联系的继续管理权，也没有对已售出的商品实施控制

C.与交易相关的经济利益很可能流入企业

D.相关的收入和成本能可靠计量

26.下列可以通过固定资产清理科目核算的有（ ）。

A.大修理的固定资产

B.改扩建的固定资产

C.出售的固定资产

D.报废的固定资产

27.下列各项中，仅引起资产项目一增一减的经济业务有（ ）。

A.从银行借款 10 万元

B.将现金 500 元存入银行

C.以现金 10 万元支付职工工资

D.以银行存款 2000 元免税购入固定资产

28.企业的生产经营活动通常包括供应、生产和销售三个阶段，下列各项中，属于供应过程的有（ ）。

A.建造厂房

- B.购买设备
- C.购买原材料
- D.购买生产线

29.下列经济业务中，能引起资产和负债总额发生变化的有（ ）。

- A.取得银行贷款
- B.偿还到期借款
- C.购进商品，货款未付
- D.支付所欠税款

30.英明公司于2×16年1月1日购入一项无形资产，初始入账价值为300万元。该无形资产预计使用年限为10年，采用直线法摊销，无残值。2×16年12月31日该无形资产出现减值迹象，预计可收回金额为261万元；2×17年12月31日预计可收回金额为224万元。计提减值准备后该无形资产原预计使用年限、预计净残值及摊销方法不变。下列说法正确的有（ ）。

- A.2×16年12月31日无形资产应计提的减值准备为9万
- B.2×16年12月31日无形资产应计提的减值准备为39万元
- C.2×17年12月31日无形资产的账面价值为224万元
- D.该无形资产在2×18年6月30日的账面价值为210万元

## 管理习题

### 单项选择题

1.具有系统的全面管理的技能是指管理者的（ ）。

- A.技术技能
- B.人际技能
- C.概念技能
- D.学习技能

2.张伟是一大型商场的CEO，近期经过调查发现：商场基层员工近期工作效率下滑，缺勤率上升，工作积极性下降，基层员工与客户的争吵事件也在呈上升趋势，员工普遍反映：工作枯燥乏味，没有挑战性与职业生涯规划，无法有效施展自己的才华；沟通机会较少，缺少集体活动，没有有效的沟通平台，大龄未婚职工人数日渐上升。员工的这些情况

反映出在高层次需要没有得到满足时，对低层次的需要就会显得更加渴望。这符合（  
）的观点。

- A. 奥尔德弗 ERG 理论
- B. 赫茨伯格双因素理论
- C. 马斯洛需求层次理论
- D. 麦克利兰三重需求理论

3. 下列属于反馈控制的是（ ）。

- A. 强化
- B. 市场调研
- C. 可行性分析
- D. 预算

4. 下列说法错误的是（ ）。

- A. 计划是控制的前提和依据，没有计划就没有控制。
- B. 确立标准是控制过程的第一个步骤
- C. 控制过程中的纠正偏差有可能针对具体活动，也有可能针对计划或衡量活动的标准
- D. 衡量绩效是控制活动的最基本目的

5. 管理幅度是管理者直接领导的下属数量。任何组织都需要解决主管人员直接指挥与监督的下属数量问题，但在同样获得成功的组织中，每位主管直接管辖的下属数量却往往是不同的。确定有效的管理幅度，不需要考虑以下哪个因素的影响？（ ）

- A. 主管和下属的工作能力
- B. 工作的内容和性质
- C. 工作环境
- D. 工作热情

6. 曹雪芹虽食不果腹，仍然坚持《红楼梦》的创作，是出于其（ ）。

- A. 自尊需要
- B. 情感需要
- C. 自我实现的需要
- D. 安全需要

7.哈罗德·孔茨说：“计划工作是一座桥梁，他把我们所处的这岸和我们要去的对岸连接起来，以克服这一天堑”。计划是在行动之前制定的，它以实现今后的目标，完成下一步工作和学习任务为目的。上述内容中体现了计划的哪一个特点？（ ）

- A.目的性
- B.前瞻性
- C.主导性
- D.普遍性

8.实现目标有许多途径，我们必须从中选择尽可能好的办法，以最低的费用取得预期的成果，避免不必要的损失，强调在计划工作中要经过经济和技术的可行性分析。这体现了计划工作哪一性质（ ）。

- A.实现组织目标服务
- B.管理活动的基础
- C.具有普遍性和秩序性
- D.追求效率

9.管理层次产生的主要原因是（ ）。

- A.职能分工的要求
- B.部门划分的需要
- C.权责明确的需求
- D.管理宽度的限制

10.某企业总经理近来发现信息从基层传递到自己这里所花的时间很长，而且传递到自己这里的信息出现了很大程度的失真，对于整个企业计划的控制过程变得复杂了。许多下属管理人员抱怨自己在企业中的地位渺小。由此可推断，该企业出现这种情况的组织方面的主要原因最可能在于（ ）。

- A.管理幅度较小，管理层次较多
- B.总经理的管理幅度太宽，以至于无法对企业进行有效管理
- C.总经理对企业的管理花费的精力太少
- D.企业员工不听从领导，工作不努力

11.公司为员工提供的免费工作午餐属于（ ）。

- A.直接薪酬
- B.补偿薪酬

C.间接薪酬

D.激励薪酬

12.下列决策中哪一选项属于程序化决策? ( )

A.突发洪水, 确定抢险救灾方案

B.企业组织结构调整

C.开发新产品

D.物料订购

13.根据马斯洛需要层次理论, 下列哪一类人员的主导需要是安全需要? ( )

A.总经理

B.失业人员

C.刚刚参加工作的大学生

D.工厂的一线操作工人

14.在现代管理理论学派中, 认为企业管理没有什么一成不变、普遍适用的“最佳的”管理理论和方法的学派是 ( )。

A.管理过程学派

B.行为科学学派

C.系统管理学派

D.权变理论学派

15.1961年12月, ( ) 发表了《管理理论丛林》, 成为西方现代管理理论形成的标志。

A.巴纳德

B.西蒙

C.孔茨

D.德鲁克

16.在下列对许诺原理的表述中正确的是 ( )。

A.许诺大, 所需的时间长, 实现目标的可能性大

B.许诺大, 所需的时间长, 实现目标的可能性小

C.许诺小, 所需的时间长, 实现目标的可能性小

D.许诺小, 所需的时间长, 实现目标的可能性大

17.我国著名的海尔集团提出了“三只眼”理论，即一只眼盯住顾客；一只眼盯住员工；还有一只眼盯住国家政策，这说明了（ ）。

- A.国家政治环境直接影响企业的经营状况
- B.地理环境对企业的影响
- C.组织文化对企业的影响
- D.法律环境对企业的影响

18.在群体决策中，由于群体内部成员心理相互作用影响，易受少数人的统治，常屈从于压力。为提高决策质量，管理学家提出了（ ），可以改善群体决策。

- A.德尔菲法
- B.名义小组技术
- C.头脑风暴法
- D.快速决策分析法

19.确定合理的管理宽度是组织设计的重要内容，下列说法正确的是（ ）。

- A.管理宽度越窄，越易控制，管理的费用越低
- B.管理宽度越宽，组织层次越少，管理的费用越高
- C.不同的管理者、下属素质、工作性质等因素将决定管理宽度
- D.管理宽度的确定仅取决于管理者的管理能力

20.某公司在创办之初，提出战略展望和组织使命，建立了公司的目标体系。按计划的范围和影响程度，可以把公司的这些工作划分为下列哪一种计划（ ）。

- A.战术计划
- B.作业计划
- C.综合性计划
- D.战略计划

21.以作业排序为目的，将活动与时间联系起来，帮助企业描述工作中心、超时工作等资源使用的计划方法被称为（ ）。

- A.网络技术法
- B.滚动计划法
- C.甘特图法
- D.线性规划法

22.梅奥的人际关系组织理论认为，提高组织效率的手段是（ ）。



A.增加工作时间

B.制定严格的规章制度

C.提高组织成员的满足度

D.扩大组织规模

23.下列哪一选项属于组织变革方法中爆破式的变革（ ）。

A.局部调整某两个科室的职能

B.全面规划改革方案，有计划、分阶段实施

C.因公司发展需要，新设立一个部门

D.与另一家企业合并

24.学习型组织是通过五选项修炼建立的。“透过资讯搜集，掌握事件的全貌，以避免见树不见林，培养综观全局的思考能力，看清楚问题的本质，有助于清楚了解因果关系。

”这一观点符合下列哪一选项修炼？（ ）

A.进行系统思考

B.不断超越自我

C.建立共同愿景

D.开展团队学习

25.按（ ）分类，控制工作可分为现场控制、反馈控制、前馈控制。

A.按纠正措施的环节分类

B.按控制原因或结果

C.根据控制活动的性质

D.根据控制信息的来源

26.商鞅在秦国推行改革，他在城门外立了一根木棍，声称有将木棍从南门移到北门的，奖励 500 金，但没有人去尝试，根据期望理论，这是由于（ ）。

A.500 金的效价太低

B.居民对完成要求的期望很低

C.居民对得到报酬的期望很低

D.枪打出头鸟，大家都不敢尝

27.重视满足职工生理及安全的需要，同时也很重视惩罚，认为惩罚是最有效的管理工具的理论是（ ）。

A.X 理论

B.Y 理论

C.Z 理论

D.超 Y 理论

28.下列哪个观点是以必须某种权力作为基础，才能实现目标（ ）。

A.泰勒的科学管理

B.巴纳德的社会合作理论

C.韦伯的行政组织理论

D.西蒙的决策理论

29.梅奥等人通过霍桑实验得出结论：人们的生产效率不仅受到物理的、生理的因素影响，而且还受到社会环境、社会心理因素的影响。由此创立了（ ）。

A.行为科学学说

B.人文关系学说

C.人际关系学说

D.需求层次学说

30.早期行为科学理论把人看作（ ）。

A.经济人

B.社会人

C.复杂人

D.特殊人

31.员工根据自己所做的工作，如果是他自己喜欢的，适合（ ）理论。

A.Z 理论

B.超 Y 理论

C.Y 理论

D.X 理论

32.预先控制强调防止错误的发生，预先控制又称（ ）。

A.前馈控制

B.反馈控制

C.同期控制

D.事后控制

33.某厂领导者杨某，在工作中经常事先无布置，事后无检查。喜欢把权力完全给予个人，给下属以高度独立性，并且在组织内部未形成规章制度，完全凭借个人的自觉性。杨某的领导方式属于下列哪一种？（ ）

- A.专制式
- B.放任式
- C.民主式
- D.告知式

34.下列表述中不符合因事设职和因人设职相结合原则的是（ ）。

- A.任何组织首先是人的集合，而非是事和物的集合
- B.组织中的工作最终要靠人完成，不能完全招聘社会上的人员来满足企业的所有需要
- C.即一个上级直接领导与指挥下属的人数应该有一定的限制，并且应该是有效的
- D.组织设计往往不是全新的,进行再度调整时,要考虑“事事有人做”而非“人人有事做”

35.在一个企业中，技术设备复杂，科技人员比重大，操作人员的素质比较高，使用劳动力和消耗原材料较少。属于下列哪一种企业类型？（ ）

- A.知识密集型企业
- B.劳动密集型企业
- C.技术密集型企业
- D.资金密集型企业

36.（ ）是指组织规模已定、管理幅度较大、管理层次较少的一种组织结构形态。其优点是：由于层次少、信息的传递速度快，从而使高层尽快地发现信息所反映的问题，并及时采取相应的纠偏措施。

- A.锥形结构
- B.扁平结构
- C.直线制结构
- D.职能制结构

37.关于有限理性模型的说法，错误的是（ ）。

- A.在选择备选方案时，决策者试图使自己满意
- B.决策者所认知的世界是真实世界的简化模型
- C.有限理性模型中的理性受到了一定的限制

D.有限理性模型与理性模型存在质的差异

38.下列哪种控制是与事后控制的含义相同？（ ）

A.同步控制

B.预防控制

C.反馈控制

D.实时控制

39.在实现组织目标的过程中，领导者通过协调人们的关系和活动，使组织成员步调一致向着共同目标前进的活动，被称为（ ）。

A.领导的决策判断作用

B.领导的指挥引导作用

C.领导的激励鼓舞作用

D.领导的沟通协调作用

40.下列指标中，用于衡量组织整体绩效的是（ ）。

A.生产率

B.利润

C.员工士气

D.上述 ABC 都是

41.方案的实施需要利用一定的资源。缺乏必要的人力、物力、财力，理论上十分完善的方案也只能是空中楼阁。这体现了决策的哪一特点？（ ）

A.目标性

B.过程性

C.选择性

D.可行性

42.某控股集团新建一工厂，对新购设备和产品开发方面格外重视，因此在快速成长中，集团对资金投入量格外高。这体现的是波士顿矩阵法中的哪一种业务类型？（ ）

A.“幼童”业务

B.“明星”业务

C.“瘦狗”业务

D.“金牛”业务

43.下列哪一选项不属于决策的特征？（ ）

- A.目标性
- B.满意性
- C.选择性
- D.静态性

44.某民营企业一位姓姚的老板手下有几十个员工，他对自己“独有”的领导方式感到颇为自豪。他对手下人常说的一句口头禅就是：“不好好干回家去，干好了月底多拿奖金。”可以认为，老板把他手下的工人都看作是（ ）。

- A.只有生理需要和安全需要的人
- B.只有生理需要和归属需要的人
- C.只有归属需要和安全需要的人
- D.只有安全需要和尊重需要的人

45.下列选项中，哪一选项不属于传统战略决策模型？（ ）

- A.SWOT 分析法
- B.波士顿矩阵
- C.GE 矩阵
- D.网络技术法

46.前景理论，是通过修正最大主观期望效用理论发展而来的。其中“二鸟在林，不如一鸟在手”，意味着在确定的收益和“赌一把”之间，多数人会选择确定的好处。在管理学中把这种效应称之为（ ）。

- A.反射效应
- B.参照依赖
- C.损失效应
- D.确定效应

47.“如果经理人员发出的一个指令性的沟通交往信息为被通知人所接受，那么对他来说，这个权力就是被遵从或成立了。于是，它就被作为行动的依据。按照这种说法，一选项命令是否具有权威，决定于命令的接受者，而不在于命令的发布者。”这体现的是哪一理论？（ ）

- A.领导生命周期理论
- B.权威接受论
- C.决策理论学派

D.行政组织理论

48.某家公司的总经理在制定规划过程中，通过环境分析，预计市场需求会增加，原材料价格将下跌。他认为前者是一种机遇，后者是一种挑战。他所做的工作是（ ）。

A.制定公司战略目标

B.摸清公司的规划范围

C.衡量公司的一般环境

D.探究公司的内部条件

49.矩阵制组织形式的采用容易破坏管理的（ ）。

A.统一指挥原则

B.权责一致原则

C.跳板原则

D.分工原则

50.企业在一定社会经济文化环境和长期生产经营活动中自觉形成的具有企业特征的为绝大多数职工信守的价值观念、群体信仰、经营和道德行为准则，称其为（ ）。

A.企业精神

B.企业文化

C.企业价值观

D.企业形象

## 多项选择题

1.期望价值理论认为，要调动职工积极性，必须处理好的关系是（ ）。

A.奖励与满足个人需要的关系

B.绩效与奖励的关系

C.个人努力与绩效的关系

D.个人目标与整体目标的关系

2.企业决策者在制定决策时，要通过诊断问题、识别机会和目标、拟定和评估备选方案、作出决定后选择实施战略，最后进行监督和评估。在选择实施战略阶段，需要注意哪些问题（ ）。

A.制定相应具体措施，保证方案正确实施

B.确保与方案有关的各种指令能被有关人员充分接受

- C.应用目标管理法把决策目标层层分解
- D.建立重要的工作报告制度
- 3.解决控制的时滞现象可采取（ ）。
- A.预先控制
- B.现场控制
- C.反馈控制
- D.事后控制
- 4.管理的基本特征有（ ）。
- A.管理是一种文化现象和社会现象
- B.管理的主体是被管理者
- C.管理的核心是处理好人际关系
- D.管理的任务是让工作的人们用尽可能少的支出，实现既定的目标
- E.各层次管理者的基本职能是不同的
- 5.从决策在管理中的地位和作用看（ ）。
- A.决策是计划工作的核心
- B.决策是主管人员的首要工作
- C.决策是管理的基础
- D.决策只是最高层领导的事情
- E.决策是行为的选择
- 6.在计划的任务中，决定组织能否“做正确的事”的内容有（ ）。
- A.“做什么”
- B.“为什么做”
- C.“何时做”
- D.“何地做”
- 7.管理者之所以要编制计划，是因为（ ）。
- A.计划为控制提供了标准和依据
- B.计划能使组织更加完善
- C.通过计划可以促使管理者展望未来
- D.计划是一种协调过程
- 8.变革中抵制或反对的原因主要包括（ ）。

- A.对于不确定性的恐惧
  - B.对于可能失去了个人利益的恐惧
  - C.不认为变革符合组织的最佳利益
  - D.力场分析
  - E.对变革的怀疑
- 9.菲德勒的随机制宜的领导理论的结论包括（ ）。
- A.在最有利的情况下，采取以任务为中心的领导方式，效果要好
  - B.在最有利的情况下，采取以人为中心的领导方式，效果要好
  - C.在中间状态下，采取以任务为中心的领导方式，效果要好
  - D.在最不利的情况下，采取以任务为中心的领导方式，效果要好
  - E.处于中间状态的环境采用“以人为中心”的宽容型领导方式，效果较好。
- 10.企业管理者 70%的时间用在沟通上，使沟通更顺畅的方法包括（ ）。
- A.意识到沟通的重要性
  - B.建立良性的沟通机制
  - C.良好的心态与人沟通
  - D.从“头”开始抓沟通

## 公基习题

### 单项选择题

- 1.甲与乙订立了合同，约定由丙向甲履行债务，现丙履行的行为不符合合同的约定，甲有权请求（ ）。
- A.丙承担违约责任
  - B.乙承担违约责任
  - C.乙和丙承担违约责任
  - D.乙或者丙承担违约责任
- 2.甲与乙于 2003 年 3 月 1 日签订一份书面的房屋买卖合同，但是并未办理房屋过户登记手续。后来因为房价上涨，丙愿意出更高的价钱买下甲所有的房屋，甲于 2003 年 4 月 1 日又和丙签订了房屋买卖合同，并且随即办理了房屋过户登记手续。对该房屋享有所有权的是（ ）。



A.甲

B.乙

C.丙

D.乙和丙

3.除法律另有规定外，因下列哪种原因不履行合同时，违约方不向对方承担民事责任？

( )

A.上级机关的决定

B.不可抗力

C.第三人侵权

D.第三人违约

4.甲公司经常派业务员乙与丙公司订立合同。乙调离后，又持盖有甲公司公章的合同书与尚不知其已调离的丙公司订立一份合同，并按照通常做法提走货款，后逃匿。对此甲公司并不知情。丙公司要求甲公司履行合同，甲公司认为该合同与己无关，予以拒绝。下列选项哪一个是正确的？( )

A.甲公司不承担责任

B.甲公司应与丙公司分担损失

C.甲公司应负主要责任

D.甲公司应当承担签约后果

5.甲在首饰店购买钻石戒指两枚，标签标明该钻石为天然钻石，甲买回后即被人告知实为人造钻石。甲遂多次与首饰店交涉，历时一年零六个月，未果。现甲欲以欺诈为由诉请法院撤销该买卖关系，其主张能否得到支持？( )

A.不可以，因已超过行使撤销权的一年除斥期间

B.可以，因首饰店主观上存在欺诈故意

C.可以，因未过两年诉讼时效

D.可以，因双方系因重大误解订立合同

6.当事人既约定违约金，又约定定金的，一方违约时，非违约方( )。

A.必须选择定金

B.必须选择违约金

C.可以选择其中的一种

D.必须同时选择两者

7.甲向乙借款 20 万元做生意，由丙提供价值 15 万元的房屋抵押，并订立了抵押合同。甲因办理登记手续费用过高，经乙同意未办理登记手续。甲又以自己的一辆价值 6 万元的“夏利”车质押给乙，双方订立了质押合同，乙认为将车放在自家附近不安全，决定仍放在甲处。一年后，甲因亏损无力还债，乙诉至法院要求行使抵押权、质权。本案中抵押和质押的效力如何？（ ）

- A.抵押、质押均有效
- B.抵押、质押均无效
- C.抵押有效、质押无效
- D.质押有效、抵押无效

8.国画大师李某欲将自己的传奇人生记录下来，遂请作家王某执笔，其助手张某整理素材。王某以李某的人生经历为素材完成了自传体小说《我的艺术人生》。李某向王某支付了 5 万元，但未约定著作权的归属。该小说的著作权应当归谁所有？（ ）

- A.归王某所有
- B.归李某所有
- C.归王某和张某共同所有
- D.归王某、张某和李某三人共同所有

9.下列各项中不属于合同担保权的是（ ）。

- A.抵押权
- B.质权
- C.留置权
- D.违约金

10.甲在某网站上传播其自拍的生活照，乙公司擅自下载这些生活照并配上文字说明后出版成书。丙书店购进该书销售。下列哪一说法是不正确的？（ ）

- A.乙公司侵犯了甲的发表权
- B.乙公司侵犯了甲的复制权
- C.乙公司侵犯了甲的肖像权
- D.丙书店应当承担侵权责任

11.张某和李某分别出资 3000 元和 6000 元开设发廊，后因经营不善欠债 15000 元，张和李对该项债务应当承担（ ）。

- A.无限连带责任

B.有限按份责任

C.无限责任

D.按份责任

12.某电视演员因一儿童电视剧而出名，某公司未经该演员许可将印有其表演形象的宣传海报大量用于玩具、书包、文具等儿童产品的包装和装潢上。对该公司的行为应如何定性？（ ）

A.侵犯了制片者的发表权

B.侵犯了该演员的表演者权

C.侵犯了该演员的肖像权

D.侵犯了该演员的复制权

13.红旗中学为了迎接建校 50 周年庆典，特委托某工艺美术院设计校徽，双方约定校徽著作权归红旗中学所有，工艺美术院在接受委托后组织实施中，因自己的设计人员设计稿不尽如人意，遂又委托在某广告公司工作的李某设计校徽，但对著作权的归属未约定。后工艺美术院将李某的作品交给红旗中学，红旗中学十分满意，将其确定为校徽。但是各方对著作权的归属发生了争议。本案中著作权应归属于何人？（ ）

A.红旗中学

B.工艺美术院

C.李某

D.三方共有

14.下列哪一行为属于侵犯著作权的行为？（ ）

A.某电视台为了报道油画展览的盛况，在电视新闻中播放了展览的油画

B.某教授在世纪论坛上的演讲词被电台全文报道

C.法院为了查证将张某发表的文章复制了 3 篇

D.出版社将蒙文发表的作品翻译成汉文在国内出版发行

15.某外资企业拥有“雨露”商标，使用的商品为啤酒。该商标未在中国注册，但被我国有关部门认定为驰名商标。该外资企业的下列哪一请求不能得到支持？（ ）

A.请求禁止甲公司将“雨露”商标在葡萄酒上注册

B.请求禁止乙公司将“雨露”商标在葡萄酒上使用

C.请求禁止丙公司将“雨露”商标在啤酒上使用

D.请求已将“雨露”商标在啤酒上使用的丁公司赔偿损失

16.依据《专利法》的有关规定，下列哪一情况可授予专利权？（ ）

- A.甲发明了仿真伪钞机
- B.乙发明了对糖尿病特有的治疗方法
- C.丙发现了某植物新品种
- D.丁发明了某植物新品种的生产方法

17.根据公司法的规定，下列有关股份有限公司股份转让限制的表述中，错误的是（ ）。

- A.公司发起人持有的本公司股份自公司成立之日起 1 年内不得转让
- B.公司高级管理人员离职后 1 年内不得转让其所持有的本公司股份
- C.公司监事所持本公司股份自公司股票上市交易之日起 1 年内不得转让
- D.公司董事在任职期间每年转让的股份不得超过其所持有本公司股份总额的 25%

18.甲公司决定将销售部门和设备运输部门分离出去，组建 M 设备销售公司和 N 设备运输公司，并且决定：甲公司以前所负的全部债务由新组建的 M 公司承担。甲公司原来欠乙公司货款 10 万元，现在乙公司要求偿还该笔到期货款，经查，公司在分立前未与乙公司达成债务清偿的书面协议。根据《公司法》的规定，该 10 万元货款的偿还办法是（ ）。

- A.由甲公司单独偿还
- B.由 M 公司单独偿还
- C.由甲公司、M 公司、N 公司按照一定的比例偿还
- D.由甲公司、M 公司、N 公司按照承担连带责任的方式偿还

19.某股份有限公司共发行股份 3000 万股，公司拟召开股东大会对另一公司分立的事项作出决议。在股东大会表决时可能出现的下列情形中，能使决议得以通过的是（ ）。

- A.出席大会的股东共持有 2700 万股，其中持有 1900 万股的股东同意
- B.出席大会的股东共持有 2400 万股，其中持有 1200 万股的股东同意
- C.出席大会的股东共持有 1800 万股，其中持有 1100 万股的股东同意
- D.出席大会的股东共持有 1500 万股，其中持有 800 万股的股东同意

20.根据公司法律制度的规定，下列有关有限责任公司监事会的表述中，不正确的是（ ）。

- A.监事会会议由监事会主席召集和主持

- B.监事会每年度至少召开 2 次会议
- C.监事会决议应当经半数以上监事通过
- D.监事任期为 3 年，连选可以连任

21.关于合同解除的表述，下列哪一选项是正确的？（ ）

- A.赠与合同的赠与人享有任意解除权
- B.承揽合同的承揽人享有任意解除权
- C.没有约定保管期间保管合同的保管人享有任意解除权
- D.居间合同的居间人享有任意解除权

22.甲以某商铺作抵押向乙银行借款，抵押权已登记，借款到期后甲未偿还。甲提前得知乙银行将起诉自己，在乙银行起诉前将该商铺出租给不知情的丙，预收了 1 年租金。半年后经乙银行请求，该商铺被法院委托拍卖，由丁竞买取得。下列哪一选项是正确的？（ ）

- A.甲与丙之间的租赁合同无效
- B.丁有权请求丙腾退商铺，丙有权要求丁退还剩余租金
- C.丁有权请求丙腾退商铺，丙无权要求丁退还剩余租金
- D.丙有权要求丁继续履行租赁合同

23.甲乙为夫妻，共有一套房屋登记在甲名下。乙瞒着甲向丙借款 100 万元供个人使用，并将房屋抵押给丙。在签订抵押合同和办理抵押登记时乙冒用甲的名字签字。现甲主张借款和抵押均无效。下列哪一表述是正确的？

- A.抵押合同无效
- B.借款合同无效
- C.甲对 100 万元借款应负连带还款义务
- D.甲可请求撤销丙的抵押权

24.乙欠甲货款，二人商定由乙将一块红木出质并签订质权合同。甲与丙签订委托合同授权丙代自己占有红木。乙将红木交付与丙。下列哪一说法是正确的？（ ）

- A.甲乙之间的担保合同无效
- B.红木已交付，丙取得质权
- C.丙经甲的授权而占有，甲取得质权
- D.丙不能代理甲占有红木，因而甲未取得质权

25.甲借用乙的山地自行车，刚出门就因莽撞骑行造成自行车链条断裂，甲将自行车交给丙修理，约定修理费 100 元。乙得知后立刻通知甲解除借用关系并告知丙，同时要求丙不得将自行车交给甲。丙向甲核实，甲承认。自行车修好后，甲、乙均请求丙返还。对此，下列哪一选项是正确的？（ ）

- A.甲有权请求丙返还自行车
- B.丙如将自行车返还给乙，必须经过甲当场同意
- C.乙有权要求丙返还自行车，但在修理费未支付前，丙就自行车享有留置权
- D.如乙要求丙返还自行车，即使修理费未付，丙也不得对乙主张留置权

26.1847 年，曾到过中国的杜麦斯出版了《中国札记》，以近乎狂热的态度呼吁建立起向全体英国臣民开放的竞争性考试制度，从而提高英国行政官员的水平，并促进大英帝国的团结。从此相关的中国考试制度开始于（ ）。

- A.隋朝
- B.清朝
- C.元朝
- D.宋朝

27.经济中心南移是我国古代经济发展格局的历史趋势，使南方经济发展水平完全超过北方、经济重心南移完成的时间是（ ）

- A.秦朝
- B.东汉
- C.五代十国
- D.南宋

28.“今天下之言变者，曰铁路，曰矿务，曰学堂，曰商务，非不然也，然若是者，变事而已，非变法也”指的是近代中国的（ ）

- A.洋务运动
- B.辛亥革命
- C.五四运动
- D.太平天国运动

29.陶渊明《桃花源记》中有诗句描述“黄发垂髫并怡然自乐”。下列词语代表的年龄大于“垂髫”的是（ ）。

- A.耳顺

B.孩提

C.始龀

D.襁褓

30.下列选项描述错误的是（ ）。

A.华佗首创用全身麻醉法施行外科手术

B.司南是世界上最早的指南针

C.《九章算术》记载了直角三角形“勾三股四玄五”的关系

D.战国时期石申所著的《天文》中载有 121 颗恒星的位置，这是世界上最古老的星表

31.“岂能无意酬乌鹊，惟与蜘蛛乞巧丝”描写的是我国传统节日（ ）。

A.春节

B.七夕

C.重阳

D.中秋

32.世界上最早采用麻醉的方法的医生是（ ）。

A.华佗

B.孙思邈

C.张仲景

D.扁鹊

33.世界上称为“教育王国”的是（ ）。

A.德国

B.美国

C.以色列

D.日本

34.最具有讽刺幽默性绘画是（ ）。

A.漫画

B.连环画

C.卡通画

D.宣传画

35.下列故事情节不属于《西游记》的是（ ）。

A.《三调芭蕉扇》

B.《三打白骨精》

C.《大闹天宫》

D.《哪吒闹海》

36.《梦溪笔谈》曾被英国著名学者李约瑟誉为“中国科技史上的坐标”，它的作者是（ ）。

A.徐光启

B.沈括

C.袁枚

D.僧一行

37.提出“白话文学之为中国文学之正宗”说的是（ ）。

A.毛泽东

B.胡适

C.鲁迅

D.李大钊

38.“三言”指《喻世明言》、《警世通言》、《醒世恒言》。它的作者是（ ）。

A.冯梦龙

B.吴晗

C.兰陵笑笑生

D.吴敬梓

39.“谈笑有鸿儒，往来无白丁”中的“鸿儒”是指（ ）。

A.年长的人

B.有身份的人

C.博学的人

D.富裕的人

40.古人的座次有严格的尊卑之分，《鸿门宴》中“项王、项伯东向坐，亚父南向坐，沛公北向坐，张良西向侍，”其中座次最卑的是（ ）。

A.项王，项伯

B.亚父

C.沛公

D.张良



41.关于我国的出土文物，下列说法正确的是（ ）。

- A.湖南马王堆汉墓出土了素纱禅衣
- B.西安附近出土了大量殷商时期的刻有文字的龟甲和兽骨
- C.越王勾践是战国时期兵器冶炼技术的杰出成果
- D.洛阳出土的唐三彩以红、蓝、白三种颜色为主

42.秦始皇灭六国后，统一了全国文字。这种文字被称为（ ）。

- A.隶书
- B.楷书
- C.小篆
- D.行书

43.被称之为“书圣”的我国著名书法家王羲之的代表作《兰亭序》的书体是（ ）。

- A.隶书
- B.楷书
- C.行书
- D.草书

44.汉字源远流长，下列字体按出现时间先后顺序排列正确的是（ ）。

①小篆 ②金文 ③楷书 ④隶书

- A.②①④③
- B.①②④③
- C.②①③④
- D.①③④②

45.中国古代记载文字的器物曾经有：①竹简，②青铜器，③帛书，④甲骨，⑤纸张，它们在历史上出现的先后顺序是（ ）。

- A.①③④②⑤
- B.④②①③⑤
- C.①②④③⑤
- D.④②③①⑤

46.下列有关书法艺术的表述，正确的是（ ）。

- A.东汉著名书法家张芝被称为“书圣”

- B.唐代书法家颜真卿是楷书四大家之一
- C.《真书千字文》是唐代著名书法家怀素的代表作
- D.“苏、黄、米、蔡”中的“黄”指的是黄公望

47.关于京剧艺术，下列说法错误的是（ ）。

- A.《红灯记》和《智取威虎山》是现代京剧
- B.京剧表演的艺术手段主要有唱、念、做、打
- C.京剧的主要题材是才子佳人的故事
- D.京剧的脸谱一般用于净、丑两个角色

48.京剧作为我国著名剧种，和中医、国画并称为中国三大国粹，下列关于京剧的表述正确的是（ ）。

- A.人们习惯上称戏班、剧团为“杏园”
- B.京剧行当中的“净”是指女性角色
- C.“梅派”唱腔创始人是京剧艺术大师梅兰芳先生
- D.《梁山伯与祝英台》是京剧经典曲目之一

49.“四书五经”中的“四书”指的是（ ）。

- A.《诗经》《孟子》《孝经》《尔雅》
- B.《周易》《尚书》《礼记》《春秋》
- C.《大学》《中庸》《论语》《孟子》
- D.《尚书》《周易》《论语》《孝经》

50.下列名言与作者的对应关系不正确的一项是（ ）。

- A.“朝闻道，夕死可矣”——孔子
- B.“生于忧患，死于安乐”——孟子
- C.“天行有常，不以尧存，不以桀亡”——荀子
- D.“兼相爱，交相利”——老子

51.关于人体所含矿物质的作用，下列说法不正确的是（ ）。

- A.锌能加速人体的生长发育
- B.人体贫血主要是因为缺铁
- C.碘通过甲状腺素发挥生理作用
- D.氟的主要功能是参与造血过程

52.关于文学常识，下列说法不正确的是（ ）。

- A. “楚辞”是以屈原的诗歌为主
- B. 《琵琶行》是杜甫的作品
- C. 《红楼梦》原名《石头记》
- D. 《儒林外史》反映的是当时的科举制度

53.关于唐代诗人及诗歌，下列说法不正确的是（ ）。

- A. “小李杜”指的是李商隐、杜牧
- B. 王维和孟浩然是边塞诗的代表作家
- C. 杜甫的诗因为反映了安史之乱时的社会现实而被称为“诗史”
- D. “海内存知己，天涯若比邻”是王勃的名句

54.《三国演义》《水浒传》《西游记》《红楼梦》被称为我国古代四大名著。下列对这四部著作中人物的描述错误的是（ ）。

- A. 《水浒传》中倒拔垂杨柳的人物是鲁智深
- B. 《三国演义》中因失了荆州而被斩的是马谡
- C. 《西游记》中铁扇公主的儿子是红孩儿
- D. 《红楼梦》中“机关算尽太聪明，反误了卿卿性命”指的是王熙凤

55.下面关于中国传统文化的说法，有误的一项是（ ）。

- A. 陆游诗云：“水复山重客到稀，文房四士独相依”，文房四士指纸、墨、笔、砚
- B. “风、雅、颂”是按音乐的不同对《诗经》的分类，赋、比、兴是《诗经》的表现手法

- C. 国画“四君子”是梅、兰、菊、竹，用来标榜君子的清高品德
- D. 二十四史中的“前四史”是指《史记》、《汉书》、《后汉书》和《资治通鉴》

56.下列诗文、作者、朝代对应不正确的是（ ）。

- A. 两岸猿声啼不住，轻舟已过万重山——李白——唐代
- B. 春山暖日和风，阑干楼阁帘栊——白朴——元代
- C. 想当年，金戈铁马，气吞万里如虎——辛弃疾——宋代
- D. 流水落花春去也，天上人间——李煜——唐代

57.《说文解字》解释说：“宗，尊祖庙也”，也就是说，宗法的“宗”本意是宗庙，这说明我国的宗法制纽带是（ ）。

- A 财产
- B 地域

C 信仰

D 血缘

58.下列属于有毒而且易燃的是（ ）。

A.氮气

B.氰化钾

C.甲醇

D.乙酸

59.推翻了中国 2000 多年的君主专制制度的是（ ）。

A.辛亥革命

B.义和团运动

C.太平天国运动

D.戊戌变法

60. 清政府被迫将台湾割让给日本的不平等条约的是（ ）。

A.《南京条约》

B.《二十一条》

C.《马关条约》

D.《辛丑条约》

61.太阳能是（ ）。

A.二次能源

B.有污染

C.一次能源

D.新能源

62.下列选项中，属于新能源技术的是（ ）。

A.生物质能技术

B.细胞工程技术

C.无机非金属材料技术

D.发酵工程技术

63.目前环境污染在世界范围内很大部分原因是能源的利用引起的，这主要是（ ）。

A.化石资源利用

B.煤炭资源利用

C.电磁能利用

D.核裂变能利用

64.维生素对人体健康具有重要作用，是维持细胞正常功能所必需的。下列关于维生素的表述不正确的是（ ）。

A.机体内不能合成维生素 C

B.维生素根据其溶解性质分为水溶性和脂溶性两种

C.是构成机体组织的主要原料物质

D.主要功能是调节物质代谢和维持生理功能

65.工业机器人是最典型的机电一体化设备，技术附加值高，应用范围广，是先进制造业支撑技术和信息化社会的新兴产业。下列不属于工业机器人发展的关键技术是（ ）。

A.高强度复合材料

B.传感器

C.人工智能

D.自控技术

66.通常我们所说的“GPS”是指（ ）。

A.全球定位系统

B.汽车导航系统

C.卫星导航系统

D.移动智能车载终端

67.19 世纪末至 20 世纪 20 年代，科学技术的发展密切了人们的交往。当时人们可以享用的交通工具和信息工具有（ ）。

①飞机      ②电子计算机      ③有线电话      ④汽车      ⑤火车

A.①③④⑤

B.②③④⑤

C.①②③④

D.①③④

68.突发公共事件按照性质、严重程度、可控性和影响范围等因素分为特别重大、重大、较大、一般四个等级;预警级别分为四级，依次（ ）。

- A.用红色、橙色、黄色、蓝色表示
- B.用黄色、蓝色、橙色、红色表示
- C.用黄色、橙色、蓝色、红色表示
- D.用蓝色、橙色、红色、黄色表示

69.下列按主导产业演进顺序排列正确的是（ ）。

- ①石化产业                      ②旅游服务业                      ③服装业
- ④信息产业                      ⑤农产品加工业

- A.⑤④①③②
- B.⑤①③②④
- C.⑤③①②④
- D.③①⑤④②

70.下列有关自然现象的说法错误的是（ ）。

- A.霾通常呈黄色或橙灰色，吸入后有害
- B.露水会对农作物的生长造成危害
- C.雾和云是由于温度下降造成的
- D.彩虹有时会同时出现两条

71.关于目前的国际体育赛事，下列说法正确的是（ ）。

- A.世界一级方程式锦标赛所有赛车的发动机排量没有限制
- B.进入世界杯和欧洲杯足球赛决赛圈的球队数量相同
- C.斯诺克台球属于奥运会的比赛项目之一
- D.法国网球公开赛属于大满贯赛事

72.下列说法正确的是（ ）。

- A.雨后想看到彩虹必须面对太阳
- B.光的三原色和颜料的三原色都是红绿蓝
- C.光在空气中的传播速度慢于在水中的传播速度
- D.警告类表示一般用于红色是因为红色波长最长、传播最远

73.如果发现有人在室内触电，首先要触电者尽快脱离电源。然后根据具体情况进行相应的救治。脱离电源有误的方法有（ ）。

- A.用手拉开或用脚踢开触电者，使之脱离电源

B.如距离闸刀较远，应迅速用绝缘良好的电工钳或有干燥木柄的利器(刀、斧、锹等)砍断电线

C.如开关箱在附近，可立即拉下闸刀或拔掉插头、断开电源

D.用干燥的木棒、竹竿、硬塑料管等物迅速将电线拔离触电者

74.“春雨惊春清谷天，夏满芒夏暑相连，秋处露秋寒霜降，冬雪雪冬小大寒。”节气对于指导农业生产具有很强的科学性。下列反映阳历六月初节气的农谚是（ ）。

A.立夏桑果象樱桃

B.小满养蚕又种田

C.芒种玉秧放庭前

D.夏至稻花如白练

75.戊戌变法的政治基础是（ ）。

A.维新变法得到了一部分官僚和光绪帝的支持

B.民族资本主义经济得到了初步的发展

C.康有为、梁启超提出了维新思想

D.甲午中日战争中国战败

76.通常使用的毛笔有狼毫和羊毫之分。其中的“狼毫”是指（ ）。

A.狼狗的尾毛

B.黄鼠狼的尾毛

C.野狼的尾毛

D.狗的尾毛

77.最早提出“振兴中华”口号的代表人物是（ ）。

A.康有为

B.梁启超

C.严复

D.孙中山

78.辛亥革命是资产阶级领导的以反对君主专制制度，建立资产阶级共和国为目的的革命，是一次比较完全意义上的（ ）。

A.反对封建主义的革命

B.资产阶级民主革命

C.反对帝国主义的革命

D.民族资产阶级革命

79.下列不属于端午节民俗的是（ ）。

A.吃粽子

B.赛龙舟

C.挂菖蒲、艾叶

D.登高

80.中国古话中常说的古稀之年是指（ ）。

A.50岁

B.60岁

C.70岁

D.80岁

81.公元前二十一世纪，废除“禅让制”，实施世袭制建立我国历史上第一个奴隶制的王朝夏朝的是（ ）。

A.禹

B.启

C.桀

D.汤

82.下列哪次古代著名战役确立了三国鼎立局面（ ）。

A.官渡之战

B.赤壁之战

C.巨鹿之战

D.长平之战

83.第二次世界大战期间，敦促日本无条件投降的文件是（ ）。

A.《德黑兰宣言》

B.《大西洋宪章》

C.《雅尔塔决议》

D.《波茨坦公告》

84.《论语》记载着（ ）和他的学生的言语行事。

A.孔子

B.孟子



C.老子

D.庄子

85.五四运动的直接导火线是（ ）。

A.帝国主义对中国的侵略

B.北洋军阀政府的对外卖国

C.中国在“巴黎和会”上的外交失败

D.清政府的反动统治

86.1935年12月17日至25日，中共中央在（ ）召开的政治局会议，讨论军事战略问题、全国的政治形势和党的策略路线问题，制定出抗日民主统一战线的新策略。

A.遵义

B.瓦窑堡

C.洛川

D.延安

87.下列哪一机构是管理少数民族事务的？（ ）

A.总税务司

B.澎湖巡检司

C.理藩院

D.军机处

88.结束了国家长期分裂，确立了三省六部制，创建了科举制度，实行了均田制以增加财政收入，兴修了举世闻名的大运河，这个中国历史上的朝代是（ ）。

A.秦朝

B.隋朝

C.唐朝

D.元朝

89.1945年8月14日，日本政府决定接受（ ），向同盟国投降，9月2日，日本政府和大本营代表在投降书上签字。中国人民抗日战争和世界反法西斯战争胜利结束。

A.联合国宣言

B.德黑兰会议公告

C.雅尔塔会议公告

D.波茨坦公告

90.第一个承认新中国、建立外交并互派大使的国家是（ ）。

- A.保加利亚
- B.罗马利亚
- C.前苏联
- D.朝鲜

91.下列关于人文常识的表述错误的一项是（ ）。

- A.古代“三纲五常”中的“三纲”是指：父为子纲、君为臣纲、夫为妻纲
- B.《史记》是第一纪传体通史，分本纪、世家、列传、书、表五个部分
- C.“三教九流”中的“三教”是指儒教、道教、伊斯兰教
- D.我国新文学史上第一篇短篇小说是《狂人日记》

92.“冷战”是二战后美国针对苏联为首的社会主义国家所采取的除战争以外的一切敌对行动，以“遏制”共产主义，“冷战”开始的标志是（ ）。

- A.丘吉尔发表“铁幕”演说
- B.杜鲁门主义提出
- C.北大西洋公约组织建立
- D.华沙条约组织建立

93.下列数据结构中，按“先进后出”原则组织数据的是（ ）。

- A.队列
- B.线性表
- C.栈
- D.循环链表

94.算法分析的目的是（ ）。

- A.研究数据结构的合理性
- B.研究算法的输入和输出的关系
- C.分析算法的效率以求改进
- D.分析算法的易懂性

95.在 Internet 上查询信息最有效的方式是（ ）。

- A.搜索引擎
- B.新闻组
- C.邮件管理器

D.浏览器

96.演示文稿中超链接中所链接的目标可以是（ ）。

A.计算机硬盘中的可执行文件

B.其他幻灯片文件

C.同一演示文稿的某一张幻灯片

D.以上都可以

97.计算机中访问速度最快的存储器是（ ）。

A.RAM

B.Cache

C.光盘

D.硬盘

98.SQL 语句中删除表的命令是（ ）。

A.DROP

B.DELETE

C.DROP FROM

D.DELETE FROM

99.信息安全的四大隐患是：计算机犯罪、计算机病毒、（ ）和计算机设备的物理性破坏。

A.自然灾害

B.网络盗窃

C.误操作

D.软件盗版

100.下列类型的文件不可在 Windows 中用记事本直接查看或者编辑的是（ ）。

A.bat

B.dit

C.vbs

D.reg

101.与网络计算机对比，云计算的特征不包括（ ）。

A.资源高度共享

B.适合紧耦合科学计算

C.支持虚拟机

D.适用于商业领域

102.以下说法正确的是（ ）。

A.计算机病毒只在可执行文件中传播，不执行的文件不传染

B.计算机病毒主要通过读/写移动存储器或 Internet 网络进行传播

C.只要删除所有感染了病毒的文件就可以彻底消除病毒

D.计算机杀病毒软件可以查出和清除任意已知的和未知的计算机病毒

103.掌上电脑又称为 PDA，是辅助个人工作的数字工具。以下关于掌上电脑说法错误的是（ ）。

A.掌上电脑的处理器的主要由控制器和运算器组成

B.目前市场上的掌上电脑均采用 Linux 操作系统

C.掌上电脑有 CPU、存储器、显示芯片以及操作系统

D.掌上电脑有记事、通讯录、名片交换及行程安排等功能

104.操作系统为用户提供的使用接口类型不包括（ ）。

A.文件存储

B.命令方式

C.系统调用

D.图形用户界面

105.二维表由行和列组成，每一行表示关系的一个（ ）。

A.元组

B.字段

C.属性

D.元素

106.CMOS 是（ ）。

A.保存计算机基本启动信息的芯片

B.计算机启动设置程序

C.计算机基本输入输出系统

D.设置硬件的电脑程序

107.局域网不提供（ ）服务。

A.资源共享

- B.设备共享
- C.多媒体通信
- D.分布式计算

108.下列叙述正确的是（ ）。

- A.计算机中所存储处理的信息是模拟信号
- B.数字信息易受外界条件的影响而造成失真
- C.光盘中所存储的信息是数字信息
- D.模拟信息将逐步取代数字信息

109.进程与程序之间有密切联系，但又是不同的概念。二者的一个本质区别是（ ）。

- A.程序是静态概念，进程是动态概念
- B.程序是动态概念，进程是静态概念
- C.程序保存在文件中，进程存放在内存中
- D.程序顺序执行，进程并发执行

110.Web 服务的网络结构形式是（ ）。

- A.B/S
- B.C/S
- C.B/S 或者 C/S
- D.B/S 和 C/S

111.广域网提供两种服务模式，对应于这两种服务模式，广域网的组网方式有（ ）。

- A.虚电路方式和总线型方式
- B.总线型方式和星型方式
- C.虚电路方式和数据报方式
- D.数据报方式和总线型方式

112.通信信道的每一端可以是发送端，也可以是接受端，信息可由这一端传输到另一端，也可以从那一端传输到这一端，在同一时刻，信息可以每一端进行收发的通信方式为（ ）。

- A.单工通信
- B.半双工

C.全双工

D.模拟

113.在下列字符中，其 ASCII 码值最小的一个是（ ）。

A.控制符

B.9

C.A

D.a

114.下列设备中，可以作为微机输入设备的是（ ）。

A.打印机

B.显示器

C.鼠标器

D.绘图仪

115.当前流行的移动硬盘或优盘进行读/写利用的计算机接口是（ ）。

A.平行接口

B.串行接口

C.USB

D.UBS

116.下列选项中，不属于显示器主要技术指标的是（ ）。

A.分辨率

B.重量

C.像素的点距

D.显示器的尺寸

117.下列度量单位中，用来度量计算机运算速度的是（ ）。

A.Mb/s

B.MIPS

C.GHz

D.MB

118.下列说法中，正确的是（ ）。

A.只要将高级程序语言编写的源程序文件（如 `try.c`）的扩展名更改为 `.exe`，则它就成为可执行文件了

- B.当代高级的计算机可以直接执行用高级程序语言编写的程序
- C.用高级程序语言编写的源程序经过编译和连接后成为可执行程序
- D.用高级程序语言编写的程序可移植性和可读性都很差

119.当前流行的 Pentium 4 CPU 的字长是（ ）。

- A.8 bits
- B.16 bits
- C.32 bits
- D.64 bits

120.在因特网上，一台计算机可以作为另一台主机的远程终端，使用该主机的资源，该项服务称为（ ）。

- A.Telnet
- B.BBS
- C.FTP
- D.WWW

## 多项选择题

1. 张某为给病危的父亲治病急需用款 10 万元，王某表示愿意借给张某，但 1 年后须加倍偿还，否则须以张某三居室住房代偿，张某表示同意。此行为属于（ ）。

- A.无效的民事行为
- B.可撤销的民事行为
- C.乘人之危的民事行为
- D.有效的民事行为

2. 下列法律行为中属于单方行为的是（ ）。

- A.李某订立遗嘱，将全部遗产都分给长子继承
- B.王某为购买轿车提供定金
- C.费某为于某代理购买化肥
- D.张某自动放弃了对其父亲财产的继承

3. 下列行为中，哪些构成无因管理？（ ）

- A.甲错把他人的牛当成自家的而饲养
- B.乙见邻居家中失火，恐殃及自己家，遂用自备的灭火器救火

- C.丙(15岁)租车将在体育课上昏倒的同学送往医院救治
- D.丁见门前马路下水道井盖被盗致路人跌伤,遂自购一井盖铺上
- 4.甲委托乙前往南方采购干果,乙觉得南方的香蕉更好,便自作主张以甲的名义向丙农场订购。丙农场未问乙的代理权限,便与之订立了买卖合同。对此,下列说法正确的有( )。
- A.甲有追认权
- B.丙有催告权
- C.丙有撤销权
- D.构成表见代理
- 5.甲厂与乙厂签订一份购销合同,总价款为20万元,甲厂向乙厂支付定金3万元,一方违约需支付总价款3%违约金。后因乙厂超越经营范围,该合同被宣告无效,则下列表述正确的是( )。
- A.乙厂应返还甲厂定金6万元
- B.乙厂应返还甲厂定金3万元
- C.乙厂应支付甲厂违约金6000元
- D.甲厂无权要求乙厂支付违约金6000元
- 6.发生地震后,很多个人或单位向灾区捐款捐物。依照有关法律,下列说法正确的有( )。
- A.捐赠个人或单位捐款捐物可以指定受赠对象
- B.捐赠个人或单位在捐赠款物交付之前可以撤销捐赠
- C.捐赠个人或单位如不交付捐赠款物,受赠者可以要求交付
- D.捐赠个人或单位不得附加任何义务
- 7.甲、乙、丙准备注册成立一家股份有限公司,拟定的注册资本为5000万元,下列情形中,符合法律规定的有( )。
- A.采取发起设立方式,首次出资1000万元
- B.采取发起设立方式,首次出资1500万元
- C.采取募集方式设立,发起人出资1000万元
- D.采取募集方式设立,发起人出资1750万元
- 8.下列各项中,根据《公司法》规定,不得担任公司董事的有( )。



A.因犯有贪污、贿赂、侵占财产、挪用财产罪或者破坏社会主义市场经济秩序罪，被判处有期徒刑，执行期满未逾5年的人

B.担任因经营不善破产清算的公司、企业的董事或者厂长、经理，自该公司、企业破产清算完结之日起未逾3年的人

C.担任因违法被停业整顿或被吊销营业执照的公司、企业的法定代表人，自该公司、企业被停业整顿或被吊销营业执照之日起未逾3年的人

D.个人负债达30万元且到期仍未清偿的人

9.甲、乙、丙、丁四人为钟山有限公司的股东，钟山有限公司章程未就股权转让问题作出规定。在哪些情况下，丁不享有同等条件下的优先购买权？（ ）

A.甲将其部分股权转让给丙

B.甲将其部分股权转让给甲之子小甲

C.乙将其全部股权作价40万元转让给戊，丁拟出价20万元购买其中的一半

D.乙死亡后，庚因为遗赠取得股权

10.根据《公司法》，关于股份公司的股东大会，下列哪些说法是正确的？（ ）

A.单独或合计持有公司10%以上股份的股东请求时，应在两个月内召开临时股东大会

B.单独或者合计持有公司3%以上股份的股东，有权向董事会提出临时提案

C.股东大会作出决议，必须经全体股东所持表决权过半数通过

D.股东大会选举董事、监事，依法应当实行累积投票制

11.甲乙约定卖方甲负责将所卖货物运送至买方乙指定的仓库。甲如约交货，乙验收收货，但甲未将产品合格证和原产地证明文件交给乙。乙已经支付80%的货款。交货当晚，因山洪暴发，乙仓库内的货物全部毁损。下列哪些表述是正确的？（ ）

A.乙应当支付剩余20%的货款

B.甲未交付产品合格证与原产地证明，构成违约，但货物损失由乙承担

C.乙有权要求解除合同，并要求甲返还已支付的80%货款

D.甲有权要求乙支付剩余的20%货款，但应补交已经毁损的货物

12.甲以自有房屋向乙银行抵押借款，办理了抵押登记。丙因甲欠钱不还，强行进入该房屋居住。借款到期后，甲无力偿还债务。该房屋由于丙的非法居住，难以拍卖，甲怠于行使对丙的返还请求权。乙银行可以行使下列哪些权利？（ ）

A.请求甲行使对丙的返还请求权，防止抵押财产价值的减少

B.请求甲将对丙的返还请求权转让给自己

- C.可以代位行使对丙的返还请求权
- D.可以依据抵押权直接对丙行使返还请求权

13.2016年3月3日,甲向乙借款10万元,约定还款日期为2017年3月3日。借款当日,甲将自己饲养的市值5万元的名贵宠物鹦鹉质押交付给乙,作为债务到期不履行的担保;另外,第三人丙提供了连带责任保证。关于乙的质权,下列哪些说法是正确的?( )

- A.2016年5月5日,鹦鹉产蛋一枚,市值2000元,应交由甲处置
- B.因乙照管不善,2016年10月1日鹦鹉死亡,乙需承担赔偿责任
- C.2017年4月4日,甲未偿还借款,乙未实现质权,则甲可请求乙及时行使质权
- D.乙可放弃该质权,丙可在乙丧失质权的范围内免除相应的保证责任

14.甲向乙借款,欲以轿车作担保。关于担保,下列哪些选项是正确的?( )

- A.甲可就该轿车设立质权
- B.甲可就该轿车设立抵押权
- C.就该轿车的质权自登记时设立
- D.就该轿车的抵押权自登记时设立

15.我国古代表示第一的词语有( )。

- A.桂冠
- B.榜首
- C.探花
- D.鳌头

16.下列宋词作品中,作者为苏轼的有( )。

- A.《水调歌头·明月几时有》
- B.《念奴娇·赤壁怀古》
- C.《醉花阴·薄雾浓云愁永昼》
- D.《破阵子·醉里挑灯看剑》

17.下列各种烟气均对大气有严重的污染,其中经净化处理后,可用作气体燃料的是( )。

- A.硫酸工业尾气
- B.燃烧石灰石产生的气体
- C.炼钢炉中产生的棕色烟气

D.焦炉煤气

18.下列属于世界四大科学难题的是（ ）。

A.人体基因结构

B.宇宙中的黑暗物质

C.受控核聚变

D.纳米技术

19.下列选项中说法不正确的是（ ）。

A.碳材料的应用将不利于低碳经济的发展

B.火星被认为是太阳系中最有可能存在外生命的行星

C.两弹一星是原子弹，氢弹和人造卫星

D.碳纤维及其复合材料应用于疫苗药物

20.基因工程的目的是定向改造生物的遗传性状和创造新物种，下列属于基因工程的应用的有（ ）。

A.杂交水稻

B.抗虫棉

C.蛋白酶

D.克隆技术

## 英语习题

### 选词填空

1. Charity work carries a (an) ( ) number of positive attributes for volunteers.

A. productive

B. impressive

C. conclusive

D. effective

2. Noted art historian Clara Byers will present a four-lecture series entitled Amazing Art of the Renaissance, beginning on June 25. I am pleased to announce that all employees are eligible to ( ) this series, which will culminate in a guided tour to see several master places in the McKellar Gallery.

- A. attend
- B. lead
- C. offer
- D. apply

3. Questions about the exhibit should be directed to Mr. Stanley, the museum's leading ( ) on eighteenth-century art.

- A. authority
- B. station
- C. advantage
- D. Example

4. You do not need to ( ) your payment at this time.

- A. bill
- B. resume
- C. rent
- D. enclose

5. Construction will begin on the new water park ( ) all city permits are authorized.

- A. during
- B. up to
- C. due to
- D. as soon as

6. We can provide you with regular electronic updates, please make sure we have ( ) e-mail address.

- A. your
- B. yours
- C. you
- D. yourself

7. Today, Wichner Industries announced that it ( ) opening an office in Kuala Lumpur to coordinate its overseas.

- A. been
- B. is being

- C. will be
- D. be
8. We would like to inform you that Valmont blue silk-rayon blend you ordered is ( ) out of stock.
- A. permanently
- B. previously
- C. currently
- D. eventually
9. The Estes Museum explores the life and work of the Estes and is located just ( ) of Valparaiso Chile.
- A. next
- B. beyond
- C. through
- D. outside
10. Any equipment that does not arrive in perfect ( ) may be returned to MQZ Electronics free of charge.
- A. development
- B. situation
- C. problem
- D. condition
11. You're sweating heavily. You look tired ( ) running.
- A. of
- B. at
- C. by
- D. With
12. We will get ( ) our partners to determine the best.
- A. in touch with
- B. head of
- C. back to
- D. along with

13. My mother, Jane, was 18 when her father died and was already in an ( ) marriage.
- A. arranging
  - B. planed
  - C. planning
  - D. arranged
14. ( ), she would do almost anything to get away from here.
- A. Winter come
  - B. Winter came
  - C. Coming winter
  - D. Winter coming
15. I hold that ( ) an insider can easily mean accepting the presumptions of your province.
- A. become
  - B. being
  - C. been
  - D. Be
16. The restaurant offers ample buffet breakfasts and ( ) evening meats.
- A. elaborate
  - B. complicated
  - C. sophisticated
  - D. complex
17. Because the fact is, if any member of your ( ) family were disabled, it could put a severe strains on you.
- A. direct
  - B. straight
  - C. right
  - D. immediate
18. The Rio Blue jacket comes with a special shaped pocket that prevents loose coins from ( ) out.
- A. drop
  - B. drops

C. dropped

D. dropping

19. Presidential candidate Christine Witherby spoke ( ) yesterday about her proposals for budget reform.

A. expensively

B. numerously

C. previously

D. Publicly

20. Researchers at Gasnite Company have developed an improved method of ( ) fuel industrial waste materials.

A. extraction

B. extracts

C. extracted

D. extracting

21. Since its repair, the central heating system in the Rayburn Building is now in ( ) order.

A. working

B. practical

C. realistic

D. useful

22. The staff of the document storage facility followed the auditor's suggestions for corrective action in ( ) detail.

A. other

B. every

C. either

D. any

23. It is a widely agreed point of view that the ( ) of policies to conserve energy nationwide will inevitably involve personal sacrifice.

A. implementation

B. manifestation

C. demonstration

D. expedition

24. The credibility gap is the result of a deliberate policy of artificial ( ) of official news, from a wider range of publications and an expansion of newspapers.

A. manipulation

B. reproduction

C. circulation

D. penetration

25. There is a ( ) difference in meaning between the words surroundings and environment.

A. sensible

B. subtle

C. feeble

D. humble

26. Darkness has now ( ) and the moon and stars shine hazily in the clear sky in the late autumn.

A. decay

B. descend

C. deduct

D. defense

27. According to our records, your membership ( ) at the end of December.

A. will expire

B. expiring

C. to expire

D. expired

28. ( ) analysts' predictions, McKnight Electronic engineers were able to create a battery capable of lasting twice as long as previous models.

A. Nevertheless

B. Contrary to

C. Except

D. Provided that



29. The company last week just ( ) its plans for the coming year, including the opening of new offices in Paris.

- A. revealed
- B. rewrote
- C. revised
- D. reversed

30. ( ) that some services available on the premises including telephone and fax are charged separately from the room fee.

- A. For
- B. After
- C. Unlike
- D. Without

31. ( ) reviews are 600-800 words, but some may be 1000 words or longer.

- A. Most
- B. All
- C. Very
- D. More

32. Additionally, their names and professional affiliations will ( ) in print alongside their reviews.

- A. appeared
- B. appearing
- C. appears
- D. appear

33. In June, Mr. Sudarmaji broke the record ( ) the most sales generated in a single month.

- A. above
- B. within
- C. for
- D. at

34. "Increasingly, readers are seeking a sense of wanted so well by science fiction," said Bryce, "Light speed was created to address this ( )".

- A. invitation
- B. demand
- C. award
- D. question

35. You should make choice based on your ( ) and long-term needs.

- A. primary
- B. fundamental
- C. superficial
- D. immediate

36. The teacher reminded me that I was ( ) age as she had been when she came to Australia.

- A. the same
- B. similar
- C. the similar
- D. same

37. It was in the office ( ) she quarreled with her colleague yesterday afternoon.

- A. that
- B. which
- C. what
- D. Where

38. Only a litter over ( ) of the area farmed was owned by the farmers.

- A. one three
- B. ones threes
- C. one third
- D. one thirds

39. It contributes through its very vagueness and richness of interpretation that ( ) achieved otherwise.

- A. would not have been

- B. could have been
- C. should have been
- D. would not be

40. There was a ( ) rush to get everything ready for the unexpected inspection from the superiors.

- A. calm
- B. mad
- C. frantic
- D. wild

41. We'll give every employee ( ) for development.

- A. room
- B. house
- C. employment
- D. place

42. The French pianist who had been praised very highly ( ) to be a great disappointment.

- A. turned out
- B. turned in
- C. turned down
- D. turned up

43. The Americans would have to ( ) with their allies about any military action in Europe.

- A. contend
- B. constrain
- C. consume
- D. Consult

44. He taught me ( ) speak English.

- A. how can I
- B. how
- C. how to
- D. how should I

45. ( ) you return after the rental counter closes for the evening, place your vehicle's keys in the night return slot.

- A. Because of
- B. As a consequence
- C. In the event that
- D. Prior to

46. As ( ), I think business English is more practical than other courses.

- A. an International Business student major
- B. an International Business major
- C. a International Business student major
- D. an International Business student

47. While the preliminary research is favorable, it may take years for Bogor Pharmaceuticals to develop ( ) evidence of the drug's effectiveness.

- A. conclusion
- B. conclude
- C. conclusive
- D. Concludes

48. Akira Nakayama ( ) delay the filming of his documentary in the rainforest when his equipment did not arrive on schedule.

- A. has to
- B. had to
- C. having to
- D. will have to

49. Thank you for your recent order. Although most of your items have ( ) shipped, the Full-Spectrum Desk Lamp (model B07) is temporarily out of stock.

- A. ever
- B. often
- C. lastly
- D. already

50. Protein is one of the indispensable substances that ( ) the human body and maintain its life activities.

- A. constitute
- B. compensate
- C. conjure
- D. console

## 完型填空

From childhood to old age, we all use language as a means of broadening our knowledge of ourselves and the world about us. When humans first \_\_\_1\_\_\_, they were like newborn children, unable to use this \_\_\_2\_\_\_ tool. Yet once language developed, the possibilities for human kinds future \_\_\_3\_\_\_ and cultural growth increased.

Many linguists believe that evolution is \_\_\_4\_\_\_ for our ability to produce and use language. They \_\_\_5\_\_\_ that our highly evolved brain provides us \_\_\_6\_\_\_ an innate language ability not found in lower \_\_\_7\_\_\_. Proponents of this innateness theory say that our \_\_\_8\_\_\_ for language is inborn, but that language itself develops gradually, \_\_\_9\_\_\_ a function of the growth of the brain during childhood. Therefore there are critical \_\_\_10\_\_\_ times for language development.

Current \_\_\_11\_\_\_ of innateness theory are mixed, however, evidence supporting the existence of some innate abilities is undeniable. \_\_\_12\_\_\_, more and more schools are discovering that foreign languages are best taught in \_\_\_13\_\_\_ grades. Young children often can learn several languages by being \_\_\_14\_\_\_ to them, while adults have a much harder time learning another language once the \_\_\_15\_\_\_ of their first language have become firmly fixed.

\_\_\_16\_\_\_ some aspects of language are undeniably innate, language does not develop automatically in a vacuum. Children who have been \_\_\_17\_\_\_ from other human beings do not possess language. This demonstrates that \_\_\_18\_\_\_ with other human beings is necessary for proper language development. Some linguists believe that this is even more basic to human language \_\_\_19\_\_\_ than any innate capacities. These theorists view language as imitative, learned behavior. \_\_\_20\_\_\_, children learn language from their parents by imitating them. Parents gradually shape their child's language skills by positively reinforcing precise imitations and negatively reinforcing imprecise ones.

1. A. generated                      B. evolved                      C. born                      D. originated
2. A. valuable                      B. appropriate                      C. convenient                      D. favorite
3. A. attainments                      B. feasibility                      C. entertainments                      D. evolution
4. A. essential                      B. available                      C. reliable                      D. responsible
5. A. confirm                      B. inform                      C. claim                      D. convince
6. A. for                      B. from                      C. of                      D. with
7. A. organizations                      B. organisms                      C. humans                      D. children
8. A. potential                      B. performance                      C. preference                      D. passion
9. A. as                      B. just as                      C. like                      D. unlike
10. A. ideological                      B. biological                      C. social                      D. psychological
11. A. reviews                      B. reference                      C. reaction                      D. recommendation
12. A. In a word                      B. In a sense                      C. Indeed                      D. In other words
13. A. various                      B. different                      C. the higher                      D. the lower
14. A. revealed                      B. exposed                      C. engaged                      D. involved
15. A. regulations                      B. formations                      C. rules                      D. constitutions
16. A. Although                      B. Whether                      C. Since                      D. When
17. A. distinguished                      B. different                      C. protected                      D. isolated
18. A. exposition                      B. comparison                      C. contrast                      D. interaction
19. A. acquisition                      B. appreciation                      C. requirement                      D. alternative
20. A. As a result                      B. After all                      C. In other words                      D. Above all

## 阅读理解

### Passage 1

Renewed concerns over the stability of European banks sent gold prices up on Thursday.

News that one European financial firm missed a debt payment hit stock markets in Europe, raising worries about the region's banks. Traders shifted money into U.S. Treasuries and gold in search of safe hiding spots.

Gold for August delivery rose \$14.90, or 1.1 percent, so settle at \$1339.20 an ounce Thursday. Silver for September jumped 44 cent, or 2.1 percent, to \$21.51.

Phil Streible, senior commodity broker, said traders often move into gold in anticipation of a crisis. "People move out of the markets they perceive could get hit the most," he said, "they park their cash in Treasury or in gold until they get their bearings straight."

Industrial metals ended higher Thursday. Copper for September delivery added 2 cents to \$3.27 a pound. Platinum for October rose \$10.10 to \$1517 an ounce, while palladium for September gained 90 cents to \$873.60.

In other commodity trading, wheat dropped 3 cents to \$5.49 a bushel. Corn fell 5 cents to \$3.93 a bushel, while soybeans slipped 11 cents to \$10.93.

Elsewhere, benchmark crude oil rose 64 cents to settle at \$102.93 a barrel on the New York Mercantile Exchange.

1. Why did the price of gold rise according to the passage? ( )
  - A. a European financial firm went bankrupt
  - B. European stock markets got hit by the huge unpaid debt
  - C. traders became more interested in treasuries and gold
  - D. people got worried about the stability of European banks.
2. Which of the following is true about gold? ( )
  - A. gold for September delivery declined a little bit.
  - B. gold is a better choice for traders anticipating more returns.
  - C. many traders would shift money into gold when they sense a crisis
  - D. the value of U.S. Treasuries equals that of gold
3. Which of the following is true about the prices of industrial metals? ( )
  - A. platinum for September delivery rose \$10.10
  - B. platinum for September delivery rose \$873.60
  - C. platinum for October delivery rose \$1517 an ounce
  - D. copper for September delivery rose 2 cents a pound
4. In other trading, ( ).
  - A. benchmark crude oil rose 64 cents a barrel
  - B. wheat rose 3 cents a bushel
  - C. corn rose to \$3.93 a bushel
  - D. soybeans rose to \$10.93 a bushel

### Passage 2

A high-precision NASA radar instrument left a NASA airport in Southern California for Iceland on January 28 to create detailed maps of how glaciers move in the dead of winter. This will help scientists around the world better understand some of the most basic processes involved in melting glaciers, which are major contributors to rising sea levels.

NASA used the same airborne instrument in June 2012 to map the summer flows of two Icelandic ice caps. The ice caps - large areas of permanent snow and ice cover - encompass multiple glaciers flowing in different directions and at different speeds. By mapping the same ice caps now, in winter, when the surface remains frozen all day, and then comparing the winter and summer velocities, the researchers will be able to isolate the effects of melt water.

Above is a view of a small part of the Hofsjökull ice cap, which encompasses several glaciers. The fan at upper left is part of a glacier called Múlajökull.

For more on the research, see this NASA press release.

5. What is the mission of the NASA radar instrument? ( )

- A. To investigate the climate change.
- B. To make maps about moving glaciers.
- C. To measure the rising sea levels.
- D. To slow the melting process of glaciers.

6. What does the underlined word permanent (paragraph 2) mean? ( )

- A. Freeze easily
- B. Move quickly
- C. Long-lasting
- D. Extremely cold

7. How can the scientists figure out the effects of melting water? ( )

- A. By melting the frozen iceberg in winter.
- B. By observing the snow's moving directions.
- C. By isolating ice from water in sunlines.
- D. By comparing the glaciers moving speeds.

### Passage 3



Word of mouth (WOM) promotion is based on the principle of pull marketing. It relies on the transmission of a positive marketing message from person to person through conversation or a personal communication such as email or text message. Pull marketing gets consumers to bring other consumers to the product. In contrast, push marketing uses above-the-line promotional techniques to put products in front of consumers in order to generate sales.

Red Bull extensively uses pull marketing. This approach involves getting consumers excited about the product and conveying this excitement to their family and friends. It is also about trying to get coverage of Red Bull events in the press. This coverage can encourage consumers to find out more about the product. It helps to generate momentum, through creating interesting stories for people to talk about, which in turn help to create brand awareness and grow sales.

The founder of Red Bull used pull marketing to promote his original product in the 1980s. He hired a Red Bull Wings Team to go out and talk to people one-to-one about the product. This helps to create consumer interest in the product. As people experience the drink and appreciate its qualities, they become advocates for the brand. They share their opinions with other consumers when they talk with friends. The promotion therefore creates a ripple effect.

8. What is not true of pull marketing according to the passage? ( )
- A. Word of Mouth promotion is based on the principle of pull marketing.
  - B. It uses above the line promotional techniques.
  - C. It gets consumers to bring other countries to the product.
  - D. It relies on the transmission of positive message.
9. Why does the company try to get coverage of RB events in the press? ( )
- A. Because it helps to generate momentum.
  - B. Because the events are funny enough to be transmitted.
  - C. Because it helps to create brand awareness and grow sales.
  - D. Both A and C.
10. What may discourage the consumers to introduce the product to others? ( )
- A. That the customers don't enjoy the drink.
  - B. That the campaign is made regularly.
  - C. That the customers always see the coverage of the company in magazines.
  - D. All above.

Passage 4

Business, academic and civic leaders in Cambridge have warned that one of Britain's major economic growth cities is under threat unless the government acts quickly to restore trust post-Brexit. Company executives and educationalists report some highly skilled foreign nationals quitting or refusing to commit to new jobs in Britain because of uncertainty over their future legal status here. It has in the past boasted of creating employment faster than China, amid a boom in the technology and bioscience sectors, which led to the city being labeled "Silicon fen", but now there are fears of a big slowdown.

"This is a unique economic asset for Europe," said Lord Lansley, the former Conservation MP for South Cambridge shire, after a specially convened meeting to discuss the problems with local politicians and others. "There is a political vacuum out there and there does not seem to be a post Brexit plan. There are things we need and if we get them we can continue to prosper and be more successful", Lansley added.

He has drawn up a Cambridge declaration with his colleagues meant to reassure existing academic and business staff from abroad that their presence will be protected. "We are committed to international collaboration in research, science and the Exploitation of innovative, knowledge-intensive enterprises," says the document.

Lansley says he will be pushing the British government to give acquired rights to the 9,000 European citizens living in the East Anglian city out of a total population of 124,000. He also wants to see a continuation of free labor movement to allow Europeans to come to work and study in Cambridge and says "We need free movement for them to come to work and to study here."

11. According to the article, what is the threat that Britain's major economic growth cities are faced with ( ).

- A. serious unemployment
- B. wars
- C. foreign talents drain
- D. social instability

12. Why do these skilled foreign nationals choose not to work in Britain? ( )

- A. Because of the uncertainty.
- B. Because the economic slowdown after Britain leaving the EU.

C. Because the increasing difficulty of finding a job in Britain.

D. Because they may lose legal status after Brexit.

13. The word “boom” in paragraph 1 is closest in meaning to ( ).

A. prosperity

B. increase

C. decrease

D. Bleakness

14. What is the purpose of the Cambridge declaration in paragraph 3? ( )

A. To create more job positions for foreign talents.

B. To comfort existing foreign talents.

C. To attract new talents.

D. To stimulate local economy.

15. Which of the following is NOT a situation Lord Lansley expects to see? ( )

A. The immediate action of the British government.

B. A continuation of free labor movements from EU countries.

C. An increase in the foreign talents' wages.

D. New policies that protects foreign talents' rights.

### Passage 5

In 1901, H. G. Wells, an English writer, wrote a book describing a trip to the moon. When the explorers landed on the moon, they discovered that the moon was full of underground cities. They expressed their surprise to the “moon people” they met. In turn, the “moon people” expressed their surprise. “Why,” they asked, “are you traveling to outer space when you don't even use your inner space?”

H. G. Wells could only imagine travel to the moon. In 1969, human beings really did land on the moon. People today know that there are no underground cities on the moon. However, the question that the “moon people” asked is still an interesting one. A growing number of scientists are seriously thinking about it.

Underground systems are already in place. Many cities have underground car parks. In some cities, such as Tokyo, Seoul and Montreal, there are large underground shopping areas. The “Chunnel”, a tunnel connecting England and France, is now complete.

But what about underground cities? Japan's Taisei Corporation is designing a network of underground systems, called "Alice Cities." The designers imagine using surface space for public parks and using underground space for flats, offices, shopping, and so on. A solar dome (太阳能穹顶) would cover the whole city.

Supporters of underground development say that building down rather than building up is a good way to use the earth's space. The surface, they say, can be used for farms, parks, gardens, and wilderness. H. G. Wells' "moon people" would agree. Would you?

16. The explorers in H. G. Wells' story were surprised to find that the "moon people" ( ).

- A. lived in so many underground cities
- B. knew so much about the earth
- C. understood their language
- D. were ahead of them in space technology

17. What does the underlined word "it" refer to? ( )

- A. Discovering the moon's inner space.
- B. Traveling to outer space.
- C. Meeting the "moon people" again.
- D. Using the earth's inner space.

18. What sort of underground systems are already here with us? ( )

- A. Tunnels, car parks, shopping areas.
- B. Offices, shopping areas, power stations.
- C. Gardens, car parks, power stations.
- D. Tunnels, gardens, offices.

19. What would be the best title for the text? ( )

- A. Alice Cities—cities of the future.
- B. Space travel with H. G. Wells.
- C. Building down, not up.
- D. Enjoy living underground.

### Passage 6

The World Bank is committed to fighting poverty and helping developing countries invest in their education systems. In light of this, it has embraced the achievement of the Millennium

Development Goals as its main priority and, particularly, “Eliminating gender disparity primary and secondary education”. The World Bank has recognized that there is no investment more effective for achieving development goals than educating girls. World Bank activities focus on assisting countries own efforts to advance gender equality. Through its lending and non-lending activities, the Bank has helped to improve lives of girls in client countries. Since the World Conference on Education for all in joint in 1990, the Bank’s emphasis in the area of girls’ education has increased and gender equality has been integrated as an important component of the Bank’s poverty reduction mission.

Compared with two decades ago, more young people are entering school, completing the primary level, and pursuing secondary and tertiary education. In low-income countries alone, average enrollment rates in primary education have surged upwards of 80 percent, and primary completion rates are now above 60 percent. Remarkable accomplishments have been made towards achieving gender equality at all levels of education. Since 1990 the ratio of girls to boy enrolled in school has risen at all levels of education. The most significant increase in girls’ education enrollment in Sub-Saharan Africa and South Asia has been at the primary education level. In East Asia, Latin America and the Caribbean, the increase in girl’s education has been at the secondary education level while In Europe and Central Asia; girls’ enrollment has raised most at the higher education level.

Although most developing countries have made considerable progress in reducing the gender gap in school enrollment, significant gender gaps remain. Estimates show that many countries will not meet the education Millennium Development Goals by 2016. Almost 30% of low and middle income countries are off-track or seriously off-track from meeting the education Millennium Development Goal of universal primary education.

The inter-linkages between gender inequalities economic growth and poverty are the main reasons why girls’ education is a smart investment for developing countries to reap these benefits fully. Educating all their people, not just half of them, makes the most sense of future economic growth.

Systematic exclusion of women from access to schooling and the labor force translates into a less educated workforce, inefficient allocation of labor, lost productivity, and consequently

diminished progress of economic development. Evidence across countries suggests that countries with better gender equality are more likely to have higher economic growth.

The benefits of women's education go beyond higher productivity for 50 percent of the population. More educated women also tend to be healthier, participate more in the formal labor market, earn more income, have fewer children, and provide better health care and education to their children, all of which eventually improve the well-being of all individuals and lift households out of poverty. These benefits also transmit across generations, as well as to their communities at large.

20. The World Bank has admitted that ( ) is the most effective investment for achieving development goals.

- A. helping developing countries
- B. elimination gender disparity
- C. educating girls
- D. fighting poverty

21. The World Bank has taken ( ) as an important of its poverty reduction commitment.

- A. girls' education
- B. girls' enrollment
- C. enrollment rates in primary education
- D. gender equality

22. According to this passage, which of the following is TRUE? ( )

- A. World Bank activities focus on eliminating gender inequalities.
- B. Girls' enrollment has raised most at the higher education level in Europe.
- C. Primary completion rates have surged towards of 80 percent in low-income.
- D. Its importance to bridge the significant gender gaps.

23. All of the following are the benefits of women's education EXCEPT ( ).

- A. more educated women tend to participate more in the formal labor market.
- B. all of the benefits will eventually lift households out poverty.
- C. these benefits will eventually eliminate gender inequalities.
- D. more educated women will provide better education to their children.

**Passage 7**

For the development of Crunchy Nut (a product), K company has used various methods of primary data collection. Primary market data may involve qualitative research or quantitative research. Qualitative data is connected more about opinions, feelings and attitudes. Quantitative data is in numerical form and is usually gathered from a large sample of respondents.

Qualitative research establishes a conversation with consumers. It prompts consumer reaction to, for example, a new product idea and helps researchers understand what they think of it, how it makes them feel, why they find it interesting or not.

Qualitative research may be obtained through focus groups, where a moderator captures feedback from a group of six or seven consumers to the ideas shown to them. Those ideas may take the format of drawings or having new food prototypes to taste. Quantitative research may use questionnaires administered to large numbers of respondents. This allows statistical analysis. It may involve the use of scales, so numbers get associated with a particular meaning-for example, on an evaluation scale of 1 to 7, where 1 means very poor and 7 means excellent. Crucially those numbers need to be interpreted to enable the business to understand the consumers' overall response.

24. What is the passage about? ( )

- A. The development of Crunchy Nut.
- B. K Company's production line.
- C. Qualitative data collection.
- D. Two approaches to data collection.

25. How to get quantitative data of a food product? ( )

- A. By asking people to taste the product.
- B. By having meeting with the food makers.
- C. By sending questionnaires to a large of people.
- D. By analyzing the ingredients of the product.

### Passage 8

The original Olympic Games started in Greece more than 2,000 years ago. There games were a religious festival, and at their height, lasted for five days. Only men could compete, and the sports included running, wrestling, and chariot racing.

Today's Olympic Games are quite a bit different. First, there are two varieties: Winter Olympics and Summer Gymnastics. They are each held every four years, but not during the same year. They alternate so that there are Olympic Games every two years. The Olympics are no longer held only in one country, they are hosted by different cities around the world. The opening ceremony is a spectacular display, usually incorporating the traditional dances and culture of the host city.

The highlight of the opening ceremony is the lighting of the Olympic flame. Teams of runners carry the torch from Olympic the site of the ancient Greek games. Although the games have changed greatly throughout the centuries, the spirit of competition is still alive. The flame represents that spirit.

26. The passage is primarily concerned with ( ).
- A. justifying the existence of the Olympic Games
  - B. explaining all about the games in Ancient Greece
  - C. discussing the differences between Winter Olympics and Summer Olympics
  - D. comparing the modern Olympic Games to those in Ancient Greece
27. The author mentions "traditional dances and culture of the host city" in order to ( ).
- A. give an example of how the opening ceremony is so spectacular
  - B. explain the differences among the different host cities
  - C. show that Ancient Greek games were quite boring by contrast
  - D. make an analogy to the life of the Ancient Greeks
28. The author's tone in the passage can best be described as ( ).
- A. disinterested
  - B. upbeat
  - C. gloating
  - D. Depressing
29. The lighting of the torch is meant to symbolize ( ).
- A. the destruction caused in Ancient Greece
  - B. the spirit of Ancient Greek competition
  - C. the rousing nature of the games
  - D. the heat generated in competition



30. Which of the following is the author most likely to discuss next? ( )

- A. The origin of the Ancient Greek games
- B. The future of the Winter Olympics
- C. Discussing of the types of sports that are played at the Olympics
- D. The reasons that the Ancient Greek games ended

### Passage 9

Above the line promotion uses mass media such as the press, radio, television, cinema or poster sites. This type of promotion is usually paid for. Each of the possible media methods can be used to target audiences in different market segment. There are both strengths and drawbacks to these forms of media:

UNISON embarked on a wave of television, internet and newspaper adverts for the million voices campaign. They wanted that the vital services provided by public sector workers could disappear if the funding cuts sent ahead. The adverts featured a lot of vital public service jobs fading out of sight and featured the tagline. Don't wait until they're gone to defend them. A powerful campaign film was also released that illustrated how local communities would be affected by cuts. A version of this film aimed at recruiting members to UNISON was shown on television using DRTV. The online and newspaper adverts linked back to the campaign website where people can register their support and add a comment.

31. ( ) are mentioned in the passage as parts of mass media.

- A. The press, radio and television
- B. The press, radio, internet, television, cinema and post sites
- C. The press, radio, internet
- D. The press, radio, television, cinema and poster sites

32. Which of the following is true about these forms of media? ( )

- A. It is hard to evaluate the effectiveness of a campaign.
- B. The media are often expensive.
- C. It aims at specific audiences.
- D. It may have an immediate impact.

33. How can people support the UNISON? ( )

- A. By registering their support on the Internet.

- B. By applying for a job in UNISON.
- C. By distributing newspaper adverts to people in the community.
- D. All above.

**Passage 10**

Dear Mr. Roger Ricafort,

I noticed an advertisement in Today's ABC paper. In the paper you said you were looking for people to join your expedition team. It sounded as if it might be fun so I'm writing to say I'd like to come along.

About myself: I left school at 17 because I wanted to earn a bit of money. After that I got a few part-time jobs as a waiter, etc. But I didn't stick to any of them for long. Recently I've been doing a bit of hitch-hiking round Europe so I've had some experience of traveling the hard way which should come in handy on the expedition you're planning. By the way, I'm a great guitarist so I can keep you all amused round the campfire at night.

I would greatly appreciate it if you would contact me to meet you at the time favorable to you. I'm looking forward to hearing from you soon.

Respectfully yours,

J.K. Simons

34. Why did the writer write this mail? ( )

- A. To apply for team membership.
- B. To make a complaint.
- C. To promote products.
- D. To ask for help.

35. What do we know about Simons? ( )

- A. He used to have a full-time job.
- B. He is well-educated.
- C. He is good at music.
- D. He is good at foreign languages.

36. What position does Mr. Roger Ricafort probably hold? ( )

- A. Team Head.
- B. Advisement agent.

- C. Human resource manager.
- D. A profession hunter.

### Passage 11

Because of the biochemical reactions in your body that occur with every type of food you eat on a daily bases, some foods age you faster than your real age, while other foods help to fight aging.

Three of the processes that go on inside your body that have a major impact on your rate of aging are called “glycation”, “inflammation” and “oxidation”.

When we talk about aging, we’re not just talking about wrinkles on your skin or how thick your hair is, we’re also talking about factors that you can’t see, such as how well your organs function, and whether your joints are degrading.

37. What may make you feel 10 years older than your real age? (     )
- A. Eating food on a daily basis.
  - B. Often eating the improper foods.
  - C. Biochemical reactions in your body.
  - D. Starting to eat the right foods.
38. According to the passage, aging is about all the following except (     ).
- A. the degrading joints
  - B. the thinning of your hair
  - C. the good condition of your organs
  - D. the wrinkles around your eyes
39. The passage is probably (     ).
- A. the preface of a book
  - B. an excerpt from a paper on health
  - C. a book review
  - D. promotional materials for a book

### Passage 12

Singapore Airlines plans to introduce in-flight mobile phone and Internet access in May this year, beginning with its flagship Airbus A380 fleet.

Several pricing models are believed to be under consideration, beginning with a low-cost package suitable for WE—service such as Google Gmail, Yahoo and Hotmail as well as a 30MB allowance for around SGD\$25 (that's \$20 Russia and US, and £ 20 and £ 14).

The airline is polling selected members of its Kris Flyer frequent flyer loyalty program to participate in an online survey about your attitudes towards in-flight mobile and Internet services, which we are planning to introduce from May 2011 according to the email invitation.

The survey asks travelers for their opinions on pricing packages such as SGD\$25 for 30MB, as well as if mobile phone calls and SMS messages should be permitted.

Should passengers be allowed to make and take calls at 30000 feet they'll pay plenty for the privilege, with calls being charged at international roaming rates?

As it's up to each country to decide what those rates are-and with Singapore Airlines effectively being its own country in terms of providing a fully controlled and self-contained telecoms system on board each plane-those rates could literally be sky high.

SQ's in-flight Internet and mobile service, which may carry the Kris Net brand in keeping with the Kris World in-flight entertainment system, is expected to debut on the Airbus A380 before being installed onto the airline's A340-500 and Boeing 777-300ER aircraft.

Passengers will be able to access the Internet on any device from a smart phone to a tablet or laptop, as Singapore Airlines will support connections through both Wi-Fi wireless networking (using a series of low-hotspots located throughout the plane) and 3G(via tiny pico-cell stations).

It will employ the popular On Air technology, jointly developed by IT company SITA and Airbus, and currently used by over 20 airlines (including Air New Zealand's current trial of in-flight Internet) which feeds the Wi-Fi and 3G signals through to Inmarsat's Swift Broadband satellite network.

40. Which of the following is not the purpose of Singapore Airlines' online survey? ( )

- A. To find out whether short message service should be allowed.
- B. To find out whether mobile calls should be permitted.
- C. To ask for opinions on its pricing models for in-flight mobile and Internet services.
- D. To understand frequent flyers' special needs.

41. According to the author, the fees for making and taking calls on planes of Singapore Airlines will be sky high, because ( ).

A. the telecoms system employed by Singapore Airlines on board each plane is the best of the breed

B. Singapore Airlines has a self-contained telecoms system which enables it to set high international roaming rates

C. the calls will be charged at international roaming rates which are normally high

D. it will be a privilege to a small

42. From the passage, we know that ( ).

A. Singapore Airlines' online survey is to be carried out among its registered members.

B. Airbus A380 will be the first aircraft to be equipped with in-flight Internet and mobile service.

C. Singapore Airlines' in-flight Internet access will be limited to some specific devices.

D. Singapore Airlines' will be the first to introduce in-flight mobile phone and Internet access.

43. Which of the following may be the best title for the passage? ( )

A. Singapore Airlines to charge high international roaming rates.

B. Singapore Airlines to offer different pricing models for in-flight mobile and Internet services.

C. Singapore Airlines to unveil sky high net.

D. Singapore Airlines to conduct online survey.

### Passage 13

HS ensures there is a clear career path for any employee, from any background. Three key levels: sales employees, department managers and senior managers. At each level, employees can benefit from the development programs in order to build a career.

James is a sale Associate and one of HS first Sales Degree students. When an injury prevented him from following his previously chosen career in contemporary dance, he applied to HS. He has never looked back. HS training has given him transferable skills. He has been able to work within more than one department, providing the same high levels of experience.

44. What are the three key levels in HS? ( )

A. The sales employees, department managers and senior managers.

B. The sales employees, sales assistants and department managers.

C. The senior managers, department managers and sales employees.

D. Not mentioned.

45. Why did James give up his previous career? ( )

A. Because he wanted to make a change of his life.

B. Because he got hurt and couldn't dance any more.

C. Because he wanted to take the courses.

D. None above.

#### Passage 14

The police fired tear gas and arrested more than 5,000 passively resisting protestors Friday in an attempt to break up the largest antinuclear demonstration ever staged in the United States. More than 135,000 demonstrators confronted the police on the construction site of a 1,000-megawatt nuclear power plant scheduled to provide power to most of Southern New Hampshire. Organizers of the huge demonstration said that the protest was continuing despite the police actions.

More demonstrators were arriving to keep up the pressure on state authorities to cancel the project. The demonstrator had charged that the project was unsafe in the densely populated area, would create thermal pollution in the bay, and had no acceptable means for disposing of its radioactive wasters. The demonstrations would go on until the jails and the courts were so overloaded that the state judicial system would collapse.

Governor Stanforth Thumper insisted that there would be no reconsideration of the power project and no delay in its construction set for completion in three years. "This project will begin on time and the people of this state will begin to receive its benefits on schedule. Those who break the law in misguided attempts to sabotage the project will be dealt with according to the law," he said. And the police called in reinforcements from all over the state to handle the disturbances.

The protests began before dawn Friday when several thousand demonstrators broke through the police lines around the cordoned-off construction site. They carried placards that read "No Nukes is Good Nukes," "Sunpower, Not Nuclear Power," and "Stop Private Profits from Public Peril." They defied police order to move from the area. Tear gas canisters fired by the police failed to dislodge the protestors who had been prepared with their own gas masks or facecloths.

Finally, the gas-masked and helmeted police charged into the crowd to drag off the demonstrators one by one. The protestors did not resist the police, but refused to walk away under

their own power. Those arrested would be charged with unlawful assembly, trespassing, and disturbing the peace.

46. What were the demonstrators protesting about? ( )
- A. Private profits
  - B. The nuclear power station
  - C. The project of nuclear power construction
  - D. Public peril
47. Who had gas masks? ( )
- A. Everybody
  - B. A part of the protestors
  - C. The policemen
  - D. Both B and C
48. Which of the following was NOT mentioned as a reason for the demonstration? ( )
- A. Public transportation
  - B. Public peril
  - C. Pollution
  - D. Disposal of wastes
49. With whom were the jails and courts overloaded? ( )
- A. Prisoners
  - B. Arrested demonstrators
  - C. Criminals
  - D. Protestors
50. What is the attitude of Governor Stanforth Thumper toward the power project and the demonstration? ( )
- A. Stubborn
  - B. Insistent
  - C. Insolvable
  - D. Remissible

## 言语习题

1. 无论西方政治精英们多么不情愿，全民公投最后以微弱优势确定英国退出欧盟。这一事件直接导致政治海啸瞬间生成；英镑暴跌、美元和黄金大涨；亚洲股市剧烈震荡；英国首相卡梅尔隆重宣布辞职；脱欧事件引起了许多英国人民的强烈不满等。此次脱欧，英国的世界大国地位和文化影响力，既是聚变，也是裂变，使世界在不同层面都陷入阶段性的迷茫，前途叵测，安知非福。

这段文字意在强调（ ）。

- A. 世界政治海啸瞬间生成
- B. 世界经济态势剧烈震荡
- C. 英国的世界大国地位和文化影响力将被削弱
- D. 英国脱欧对世界局势将产生诸多影响

2. 南海仲裁案仲裁结果否定了中国在南海的主权。为此，全体中国人都为这一非法裁定感到愤慨，这个仲裁结果比之前很多人预测的更加极端、无耻，堪称是人们可以想象的“最坏版本”，这是对中国领土主权和海洋权益的悍然否决。仲裁庭通过对这些争端的再定义，对中菲领土和海洋划界争端强行裁决，这是无耻的越权和滥权。中国政府和中国人民都绝不可能接受这一种仲裁结果，我们对仲裁“不接受、不参与”的态度坚定不移，谁都休想撼动我们。

这段文字意在表明（ ）。

- A. 仲裁结果就是废纸一张，中国人民必须支持政府予以针锋相对地回击
- B. 对仲裁“不接受、不参与”的态度坚定不移
- C. 中国人都为这一非法裁定感到愤慨
- D. 仲裁结果是对海洋法公约以及整个国际法体系的粗暴践踏

3. 拖延是病吗？有人认为拖延跟抑郁症、强迫症、多动症、药物成瘾等诸多疾病有关，它应该是病；而另一些人则认为，拖延只是上述疾病所引起的症状。关于拖延症与大脑中负责动机和情绪区域的研究正在进行，但好像并没有清晰的结论出现。这些研究结论显示，目前，以及可期的将来，尚不会出现针对拖延的特效药物。研究者更倾向于把拖延叫做“典型的自律障碍”。

对于“拖延是否是病”这一问题，作者的观点是（ ）。

- A. 作者认为拖延是病



- B. 作者认为拖延不是病
- C. 作者对于这一问题未发表意见
- D. 作者认为应视情况而定

4. 在学习压倒一切评价体系下，孩子们面临着严重的伙伴关系缺失和游戏缺失。中国青少年心理成长基地的专家表示，现实给不了的东西在网络中可以轻松获得，然而孩子一旦接触到网络，便会被其深深吸引。如果缺乏自制力和正确引导，孩子就可能沉迷进去而无法自拔。

文中的“现实给不了的东西”指的是（ ）。

- A. 自我认可
- B. 学习压力下的放松
- C. 自制力和正确的引导
- D. 伙伴关系和游戏

5. 20世纪30年代，一个英国学者曾根据自己的研究结果预测，世界范围内将发生严重的铜资源短缺。现在的情况是，美国地质调查局在地质勘探后推算，地球地表的铜资源储量至少可达30亿吨，可供人类使用18.5万年。随着人类勘探技术的提高，这个数字在未来还有可能继续攀升。

这段文字最适合的标题是（ ）。

- A. 不断改正错误科技才能进步
- B. 地球铜资源远未枯竭
- C. 铜资源短缺问题已经得到解决
- D. 权威学者也会犯大错误

6. 中国是一个具有深厚的尊师重教传统的国家。在古代，孔子被推崇为“大成至圣先师”，被誉为“万世师表”；寻常百姓家甚至供奉着“天地君亲师位”，“师”的地位仅次于祖先亲人；民间也有“一日为师，终身为父”的说法；甚至认为尊师重教关系到国家兴衰和法度存废，正所谓“国将兴，必贵师而重傅；贵师而重傅，则法度存”。新中国成立后，继承和发扬尊师重教的传统，邓小平同志深刻指出：“一个学校能不能为社会主义建设培养合格的人才，培养德智体全面发展、有社会主义觉悟的有文化的劳动者，关键在教师。”

下列说法与这段文字不相符的是（ ）。

- A. 我国有尊师重教的传统

- B.尊师重教会促进国家兴旺发达
- C.在古代，教师的地位比现代社会高
- D.教师很大程度上关系到人才的培养

7. 对自己的过度欣赏是自恋的主要内容，其特点是用一种过于积极的、近乎膨胀的态度来看待自我。这样的人认为自己无论在外貌、智力、财富、创造性和社会地位等诸方面都比别人强，尽管事实完全不是这样。另一个与其相关的特点则是对他人的漠视，这一点构成了自恋与自尊的重要区别。自尊者重视他人的看法，重视人际关系，而自恋者却不会，他们缺乏对他人的关心和爱，与人相处时冷漠、浮夸，缺少与人的深层联系。

对这段文字概括最恰当的是（ ）。

- A.自恋与自尊的区别
- B.自恋者的特点
- C.自恋者的表现
- D.自恋的主要内容

8. 对于一个小镇来说，其能够容纳的投资毕竟是有限度的，如果不加控制，特色小镇建设就会演变为一场大兴土木的“扩镇”活动，原有的特色反而会被湮没。历史上曾经成为要地的一些小城镇、小集市，如今却由于历史的演变而成为贫困地区，如果盲目扩大投资，就会给地方经济带来压力。实际上，这种情况在一些地区已经出现，一些由地方政府主打的所谓小镇空有漂亮的楼宇却无人光顾，造成了令人痛心的浪费。

通过这段文字，作者想要表达的主要观点是（ ）。

- A.特色小镇的投资建设应该量力而行
- B.政府要控制特色小镇建设规模
- C.特色小镇的建设不能忽视本身特色
- D.特色小镇的发展并非一帆风顺

9. 中国传统节日，往往有着博大的内涵，七夕也是如此。七夕节原名为乞巧节，又被称作“女儿节”，是过去女性们最为看重的节日。喜蛛应巧、穿针比巧、种生、拜织女、拜魁星、吃巧果花瓜……从这些传统七夕习俗中可以看出，七夕节的意义远远不止爱情。但是，一种传统文化得以传承，往往并不是其最本来的面貌，而是其最被人们需要的面貌。一种传统节日之所以式微，也往往是因其脱离了生活，失去了传承与发展的沃土。

以下说法不符合文意的一项是（ ）。

- A.七夕节可以传承是因为贴切人们生活

- B.中国传统节日很多都已经没落
- C.七夕节有非常丰富的文化内涵
- D.人们会根据生活需要选择性传承传统节日

10. 历史里的中国，向来是作家们比较感兴趣的话题，这是所有文明古国的作家们最擅长的方式。但当许多作家一旦叙述起那些过往时，便只有历史，没有中国。作家们过多关注的是王朝更迭，英雄生死，或是美人艳劫，宫闱争斗，即使有一些不错的散文随笔，无非也是吊古人、哀名士、感时伤怀，仅此而已。当代文学里，几乎没有哪一部作品，真的认真思考过历史长河里中国如何与世界相处。

作者认为当代文学未曾深入涉及的一项是（ ）。

- A.伤春悲秋
- B.乱世英豪
- C.外交思考
- D.名人趣事

11. 爱别离虽然无常，却也使我们体会到自然之心，知道无常有它的美丽，想一想，这世上的人为什么大部分都喜欢真花，不爱塑胶花呢？因为真花会萎落，令人感到亲切。在生死轮转的海岸，我们惜别，但不能不别，这是人最大的困局，然而生命就是时间，两者都不能逆转，与其跌跤而怨恨石头，还不如从今天走路就看脚下，与其被昨日无可换回的爱别离所折磨，还不如回到现在。

这段文字主要说明的是（ ）。

- A.人生无常
- B.珍惜当下
- C.无常之美
- D.爱别离痛

12. 两票制即指药品生产企业到流通企业开一次销购发票，流通企业到医疗机构开一次销购发票。国家有关部门推出“两票制”的一个主要目的，是希望通过“两票制”压缩目前药品流通环节普遍存在的多级经销体系，避免因流通环节层层加价而导致药价虚高。据统计，截至2017年8月，全国已有25个省、自治区、直辖市正式发布了关于开展药品采购两票制的实施方案。

国家推出“两票制”的主要原因是（ ）。

- A.压缩经销流程

- B.统一购药流程
- C.控制药价
- D.记录药品流通环节

13. 在以时间为横轴、知识为纵轴的成长坐标系上，学前突击教育的效果确实立竿见影。今天，鲜有家长能在与自己孩子相同的年纪，熟练掌握上千汉字和一百以内的加减法，甚至说一口流利的外语。但是，当越来越多的标签成为“茁壮成长”的代名词，当形形色色的培训机构占据了日常生活，孩子的“开学典礼”可谓来得太早，缩短了无忧无虑的童年。难怪有孩子感慨：“我喜欢寒假，不喜欢暑假，因为老师过年会回家。”令人心酸的话语，折射出孩子苦涩的心境，更值得成年人省思。

作者对“学前教育”的态度是（ ）。

- A.肯定
- B.否定
- C.未置可否
- D.有肯定有否定

14. 阅读是一件关系民族未来的大事，许多国家都把推动阅读作为提升国民素质的基础性工程。推动全民阅读，教师是关键。因为教师加强阅读不仅可以提高自身素质，而且能带动学生阅读、调动家长阅读，从而推动全民阅读。唐代韩愈说：“师者，所以传道授业解惑也。”“传道”“授业”“解惑”，都要以阅读为基础。只有不断通过阅读吸取新知识、获得新感悟，教师才能给学生以新知识、新启示。与其他职业人员相比，教师阅读有着特别重要的意义，因为他们不仅是为了自己，也是为受教育者而阅读。国外有教育家说过：“为了使学生获得一点知识的亮光，教师应吸进整个光的海洋。”

这段文字意在强调（ ）。

- A.教师比其他行业更需要阅读
- B.教师应为学生的发展增加阅读
- C.教师应在全民阅读中做表率
- D.全民阅读的重要意义

15. 在我国教育史上，私塾的确扮演了重要角色。在古代，私塾是孩童受启蒙的场所。义塾的出现，更是满足了平民子弟有学可上的愿望。基于这种历史背景，国人对私塾抱有一些想象乃至向往，也在情理之中。但是，不少人将它看作学校教育的必要补充。这种观

点值得商榷。当下我国义务教育不断完善、均衡发展，美化私塾教育甚至非私塾不上，恰是对孩子不负责任。

这段文字想表达的是（ ）。

- A.私塾被推崇情有可原
- B.私塾在我国有非常重要的意义
- C.私塾已不适应我国目前教育境况
- D.私塾不能取代义务教育，需被制止

16. 虽然现在用户对于不明来历的电子邮件普遍存有戒心，但是黑客\_\_\_\_\_。如今，诱人产生好奇心的诱饵已经出现在网络、社交软件、移动设备上，而且诱饵已经不限于色情、惊奇的信息，而是包括诸如“工资单”“对账单”等。

填入划横线部分最恰当的一句是（ ）。

- A.已经把重点放在其他媒介上
- B.正在不断地开辟新的战场
- C.更善于抓住人们的兴趣点
- D.绝对不会就此偃旗息鼓

17. ①最早的单质碘便是法国人从海藻中发现的，海藻也是最早的碘生产原料

②我国大部分地区都缺碘，碘不足可能会引起甲状腺肿病和地方性克汀病

③近年来，随着人们对食品纯天然的追求，海藻碘盐越来越受欢迎

④碘在自然界中比较稀少，但是海洋中的藻类却有较高的含碘量

⑤碘是人体必需的微量元素之一，有“智力元素”之称

⑥因此从1995年起，我国开始实施食盐强制加碘

将以上六个句子重新排列，语序正确的是（ ）。

- A.②⑤⑥③①④
- B.③①④⑤②⑥
- C.④③①⑤⑥②
- D.⑤②⑥④①③

18. ①未开采的煤炭只是一种能源储备，只有开采出来，价值才能得到发挥

②充分挖掘并应用大数据这座巨大而未知的宝藏，将成为企业转型升级的关键

③有人把大数据比喻为蕴藏能量的煤矿

④数据作为一种资源，在“沉睡”的时候是很难创造价值的，需要进行数据挖掘

⑤大数据是一种在获取、存储、管理、分析方面规模大大超出传统数据库软件工具能力范围的数据集合

⑥与此类似，大数据并不在于“大”，而在于“用”

将以上 6 个句子重新排列，语序正确的是（ ）。

A.③①②⑤④⑥

B.⑤④③①⑥②

C.③⑤②①④⑥

D.⑤③④⑥①②

18. 数十年以来，科学家认为发现外星生命的最重要信息是这颗行星与主恒星的距离。在太阳系中，金星距离太阳最近，火星距离太阳较远，液态水无法存在。地球处于合适位置，存在着液态水和各种生命形式。然而，目前最新一项研究表明，仅凭借距离很难断定该行星是否具备生命存在的条件，宜居行星还必须具备适当的内部温度。

接下来最可能说的是（ ）。

A.外星生命和行星内部适宜温度的关系

B.科学家关于行星适宜距离的最新研究

C.什么样的行星能具备适当的内部温度

D.人们对行星的宜居条件存在认识误区

19. 诗歌绝不能仅仅停留在纸质媒体上，要充分利用舞台、影视等多种平台，这样才能为人民群众接受并保持长久的生命力。很多优秀诗歌作品本身具有较高的艺术性，在走向舞台、影视的过程中又融入了表演者的理解和感受，对诗歌进行了“第二次艺术创作”，辅以声光电等多种现代艺术表现形式，极大地提升了诗歌的欣赏性和观赏性。

对这段话理解正确的是（ ）。

A.借助当代技术手段，人民群众对诗歌的理解远胜古人

B.借助舞台、影视等艺术形式，诗歌可以保持长久生命力

C.表演者对诗歌进行“第二次艺术创作”延长了诗歌的生命力

D.普及诗歌需要借助舞台、影视等人民群众喜闻乐见的艺术形式

20. 关于演员认证，大家最为熟悉的莫过于“一级演员”这个称谓，而“一级演员”的评选，有一个主要考量标准是，“为繁荣中国的文艺事业做出了突出贡献”，这样的考量标准本身也是含糊的。另据相关资料显示，把“一级演员”称为“国家一级演员”只是

习惯使然，在职称前面冠以“国家”二字，更多是出于对荣耀的显示。也可以这么理解，一个演员的知名度和受欢迎程度，主要来自他的作品，和他的职称并无关系。

这段文字主要强调（ ）。

- A.评价演员的标准应明确、可行
- B.演员认证不是衡量能力的标尺
- C.评价演员应看重作品而非职称
- D.当前演员认证存在的现实问题

21. 文字概率相对于数字概率具有模糊性、非概率运算性和语义特性等特征。数字概率是一种更精确的风险表达方式，在风险沟通时人们对其能比较客观地传递、解释和利用。文字概率和数字概率在进化历史上出现时间不同，隶属的发展领域（语言和数学）也不同，所以其特征上的差异可能不止于以上所述。例如文字概率的非概率运算性表明，人们传达或接受文字概率表征的信息时不会按照概率规则进行审慎地运算，文字概率更多地引发直觉式思考，数字概率更多地引发分析式思考。

对这段文字概括最恰当的一项是（ ）。

- A.文字概率与数字概率不同
- B.数字概率其实优于文字概率
- C.文字概率与数字概率分属不同领域
- D.数字概率与文字概率的思考方式不同

22. 我国各地的雾霾，从总的方面来说是各种来源污染排放物经过一系列的化学和物理过程的产物，这里既有一次排放，还有二次化学转化和物理过程。从南到北情况十分复杂，当下的普遍情况既不同于当年伦敦的情况，也不同于洛杉矶的情况，曾听得有学者讲北京的情况属于“伦敦型”和“洛杉矶型”的复合型，在下窃以为事情绝非是一个“复合型”可以概括。还让人担心的是：眼下从上到下、各省各地，从官员到普通老百姓都认为燃煤是问题的根子，似乎解决了城市燃气化以后，问题就可以大大解决了，其实我们的一次排放物或者说二次过程的出发物质决不只是一个二氧化硫，或者说再加上一个氮氧化合物那么简单。

对这段文字概括最恰当的是（ ）。

- A.雾霾形成的原因复杂
- B.雾霾形成的主要特点
- C.雾霾类型具有多样性

D.雾霾危害具有普遍性

23. 植物或许被低估了。它们不仅记得何时被人触碰过，而且有研究表明，它们不必借助大脑或复杂的神经系统，就能进行复杂程度与人类不相上下的风险决策。面对两个花盆——其中一个营养含量恒定，另一个营养含量变化不定——如果营养条件足够差，植物会偏好神秘莫测的那个花盆。也许，这可以更好地解释为什么赌博输钱的人会继续赌下去，为什么在寒冷夜晚里，鸟儿即便不知能找到什么也要四处觅食，而不是守着数量确定却不够吃的食物。

以上文字意在说明（ ）。

- A.植物懂得在危机中铤而走险，竭力求生
- B.植物能进行任何复杂程度与人类不相上下的风险决策
- C.恶劣条件下放手一搏，希冀求得生机或许是一切有机体的本能选择
- D.放弃已知的、确定的，选择未知的、神秘莫测的，是有机体的普遍选择

24. 一般说来，创业的第一桶金来自天使投资。富有的个人出资协助专门技术或独特概念的原创项目，进行一次性的前期投资。天使投资是风险投资的一种，但往往数额不大，从几万到几百万居多，使投资人面临的风险大大降低，有了第一桶金，创业项目就启动了。如果项目发展得好，创业公司会源源不断得到融资，将业务扩展，公司规模也不断扩大。

根据这段文字，下列关于天使投资的说法不正确的是（ ）。

- A.天使投资常常是新公司的启动资金来源
- B.天使投资的数额差异较大
- C.天使投资属于低风险投资
- D.天使投资是指个人投资

25. 从政治经济到日常生活，从全球化到地区的复兴，从实用技术到话语表达所面对的诸多难题乃至危机，都与空间这一因素密切相关。这是以地震海啸灾难、边界武装冲突、房地产业的崩盘、道路拥堵以及空间竞争日趋激烈等多种形式表现出来的。

这段文字意在说明（ ）。

- A.经济全球化带来很多空间危机
- B.自然和人为空间危机日趋突出
- C.如今空间变得越来越重要
- D.人口增多带来很多空间问题



26. 当下，电视节目主打媒体融合和多终端传播的概念并不新鲜，只要在不同终端进行内容投放的节目都自称是媒体融合。技术拓展了媒体类型和渠道，真正的媒体融合要借鉴互联网的用户思维，要以不同渠道用户的多层次的“真实需求”为导向定制内容，与用户之间形成相互分享信息关系，形成媒体融合关键点。

这段文字意在强调（ ）。

- A. 在不同终端进行相同内容投放成为当下电视节目进行媒体融合的普遍做法
- B. 媒体融合本身不能提升节目的内容品质，但能让节目得到更好的传播与吸收
- C. 要做到媒体融合，就要把各种终端、渠道整合成一个有机体，形成信息传播的“生态圈”
- D. 以用户需求为出发点，内容生产者与用户之间形成相互分享信息关系，是媒体融合的关键

27. 实践中发现，一种植物通常只能忍耐或吸收一种或两种重金属元素，对土壤中其它浓度较高的重金属则表现出某些中毒症状，这种现象限制了植物修复技术在重金属复合污染土壤治理中的应用。而且植物是活的有机体，需要有适宜的生长条件，对土壤肥力、气候、水分、盐度、排水与灌溉系统等自然条件有一定的要求，植物受病虫害袭击时会影响其修复能力。另外，植物根系一般较浅，对浅层土壤污染的修复最为有效，对深层土壤污染修复能力较差。

关于植物修复技术，这段文字没有提及（ ）。

- A. 可以修复的污染种类
- B. 影响修复效果的因素
- C. 适用的土壤范围
- D. 未来的应用前景

28. 自然界产生的电磁辐射，又称为环境电磁波的本底辐射。本底辐射对人类生存环境，无不良影响。“阳光也是一种电磁辐射，亿万年来我们正是依靠阳光的照射才生存到现在。”但是，另外一类电磁辐射源所发射的电磁波，会对环境产生不良影响，对人类健康造成危害。资料显示，环境中的电磁波辐射污染源包括人类发明、制造和使用的能够产生和辐射电磁波的一切电子仪器、装置和设备。这一类电磁辐射源，被称为电磁波辐射污染源。

下列说法与原文不符的是（ ）。

- A. 阳光属于本底辐射中的一种

B.雷达属于电磁波辐射污染源

C.电磁波不会对人类造成危害

D.本底辐射对环境无不良影响

29. 研究发现，长期吃核桃等坚果能改善一些与大脑功能相关的指标，和人们所期待的核桃“补脑”功能并不是一回事。到现在为止，并没有直接的研究证据表明，吃了核桃之后，就能短期内提高人的智商，或者提高考试成绩。而且，多数人的智力会在 20~30 岁左右达到顶峰，之后则很难提升。正确的饮食包括日常摄入少量核桃等坚果，确实有利延缓大脑的衰老过程，减少包括中风在内的疾病风险。但那种吃了马上就“反应快了，记忆好了，智力蹭蹭往上跑了”之类的效果，只是我们的一种美好想象。

根据这段文字，下列说法正确的是（ ）。

A.长期吃核桃不能改善与大脑功能相关的指标

B.吃核桃短期内能提高人的智商或考试成绩

C.吃核桃使多数人的智力在 20~30 岁达到顶峰

D.日常摄入适量核桃有利于延缓大脑衰老过程

30. 中国经济进入了一个快速发展的时期，能源需求日益增长，供应瓶颈将成为一个长期的问题，除了利用价格机制调节能源的供应与需求外，我们还应该对各种能源的长处和短处有一个清醒的认识。

此段的中心意思是（ ）。

A.中国经济进入了一个快速发展的时期，能源需求日益增长

B.应该利用价格机制调节能源的供应与需求

C.在解决目前能源需求瓶颈的问题上，认识到各种能源的长短处很重要

D.能源需求日益增长，能源供应瓶颈出现

31. 手机垃圾短信有“骚扰型”、“黄段子”、小道消息；有“陷阱型”、多是骗取用户钱财，有广告短信。短信业务的确给运营商们带来了丰厚的利润，但有些短信正成为一种“信息公害”，让人不堪其忧。现在应尽快完善相关监管法制，先管住短信服务提供者，垃圾短信这颗毒瘤，我们也相信它迟早是会被根除的。

最适合做这段文字标题的是（ ）。

A.垃圾短信成为信息公害

B.垃圾短信为何屡禁不止

C.法律监管垃圾短信尚未到位

D.切实治理垃圾短信

32. ①据此，洪堡提出了青藏高原“热岛效应”理论

②这不符合常理

③早在 18 世纪末，德国科学家洪堡就发现，赤道附近的高山雪线，比中纬度的青藏高原许多高山的雪线低 200 米左右

④故其热量较同纬度、同海拔高度的其他地区高得多，甚至比赤道附近的同海拔地区也要高得多

⑤对流层大气的主要直接热源是地面，青藏高原由于下垫面大面积提升，相当于把“火炉”升高了

⑥由于赤道地区热量较高，高山雪线通常应该从赤道向两极递降，到极地附近降至海平面

将以上 6 个句子重新排列，语序正确的是（ ）。

A.③②⑥①⑤④

B.③①⑤④②⑥

C.⑥②③①⑤④

D.⑥②③⑤④①

33. 将以下 6 个句子的顺序重新排列，语序正确的是（ ）。

①将会造成时间上的错位，舍近求远

②靠单纯大力发展新能源，远水解不了近渴

③如果忽视了这点，而盲目发展可再生能源的“装机容量”

④目前而言，最需要重点对待的是传统能源的改进和合理利用

⑤但是可再生能源（含水能）产量只相当于 6 亿吨标准煤，约占全部能耗的 13%

⑥根据目前的能源消耗水平进行测试，到 2020 年，我国总耗能约达 45 亿吨标准煤

A.⑥②①③④⑤

B.⑥⑤②④③①

C.④⑥①⑤②③

D.④③①⑥②⑤

34. 极光是来自大气外的高能粒子与高层大气中的原子相互作用的结果，这种相互作用常发生在地球磁极周围区域。据现在所知，作为太阳风的一部分，高能粒子到达地球附

近时，被地球磁场俘获，朝向磁极下落。它们与氧和氮的原子碰撞，击走电子使其成为激发态的离子，这些离子发射不同波长的辐射，产生红、绿或蓝等色的极光特征色彩。

根据这段文字，以下说法错误的是（ ）。

- A. 太阳风在高层大气自放电产生极光
- B. 地球磁场强度影响极光的发生概率
- C. 激发态的离子可以发出不同的色彩
- D. 上文中的“其”指的是氧和氮的原子

35. 80岁的工程院院士沈国舫申请退休，不料所在学校以“你是我们学校的旗帜”为由婉拒。这件事再次引发了舆论对“院士退休制”的争议。一方面，作为工作者，理应享受正常的退休政策，批准他们退休更显人性化；另一方面，他们退休，当然会有年轻人才补充，这会让院士队伍充满活力。当然，建立科学合理的“院士退休制”并不是强制院士退休，那些已到退休年龄的院士，仍为社会做着贡献，我们没有理由抱怨他们“为什么不退休”，应该尊重他们的意愿。

这段文字意在说明（ ）。

- A. 院士退休制度现实中遭遇尴尬
- B. 院士的个人意愿可以决定是否退休
- C. 院士退休制度合理化建设应照顾个人意愿
- D. 院士队伍的人才流动是院士制度建设的前提

37. 市政管线,每一根管每一根线的背后,都代表着一个相关单位和主管部门。它们都有自己的小算盘,而且都想搭便车,在没有任何约束的情况下,自然不愿参与共同沟建设,缺少进入共同沟的意愿。这就是为什么国内试点的共同沟建设,会异化为建设者自掏腰包、自负盈亏、商业运作式“个体沟”,背后原因之所在。国务院要求改造地下管网,不妨站在“一改到位”的高度全盘规划,从立法层面对共同沟统一建设和管理做出明确规范。

这段文字意在强调（ ）。

- A. 共同沟建设存在未知性
- B. 共同沟建设需要法律跟进
- C. 公共产品的特性使得共同沟建设异化走形
- D. 共同沟建设,立法比执法更重要

38. 网络游戏除了具有一般游戏的休闲娱乐功能外,还具有满足参与者“社交”需求和“虚拟成就感”的特点。正是因为能够把这些特点体现的淋漓尽致,《王者荣耀》才成

为在线战术竞技游戏的爆款，很多孩子沉迷其中，欲罢不能。为了引导网络游戏的发展，文化部、国家新闻出版总局等相关部门相继出台了多项政策法规，但行之有效的网游治理是长期之功，不可能一朝一夕完成，在互联网跨界融合的新环境下，我们应该探索符合时代特点的新治理模式，并使治理能力升到更高段位，引导更多网络游戏经营者投身优秀网络游戏创作，让广大青少年乐享网游，快乐健康成长。

这段文字意在说明（ ）。

- A.相关文化部门应该合理引导网络游戏的发展
- B.网络游戏让孩子沉迷其中，欲罢不能
- C.应结合时代特点更新网游治理模式助其健康发展
- D.网游治理任重道远

39. “无冕之王”克鲁伊夫，“烟斗教练”贝阿尔佐特，“球王”马拉多纳，“金色轰炸机”克林斯曼，“盘球大师”齐达内……一个个耳熟能详的名字，不仅拉近了球迷之间的距离，更拉近了中国与世界的距离。对国人来说，认识生活在别处的人们，感受另一片天空下的文化，不只是通过五光十色的商品，也可以通过赛场上身披五彩战袍的球员，他们的脚法战术、他们的喜怒哀乐、他们的人生轨迹，何尝不是极为动人的风景？

这段文字的主要表达的意思是（ ）。

- A.球员是感受异域文化的有效方式
- B.各国应加强文化交流
- C.通过球星的人生轨迹可以识别他国文化
- D.人们会被异域文化所吸引

40. 一所好的大学，一定是一所有灵魂的大学。有时候，卓越和有灵魂不一定是一回事。一所卓越的大学并不一定意味着它就是有灵魂的大学——在市场经济的驱动下，结论很可能恰好相反。曾在哈佛大学任教长达 30 多年的哈佛学院院长哈瑞·刘易斯写过一本发人深省的著作——《失去灵魂的卓越》，深刻分析了哈佛大学是如何在从一个教育机构蜕变成一个商业机构的过程中逐渐忘记了自己的教育宗旨的。在我看来，刘易斯所谈的“灵魂”，其实指的就是大学引领社会的思想。今天，当中国的大学越来越醉心于发表了多少篇 SCI 论文，获得了多少个奖项，引进了多少各种各样的计划中的人才时，却常常忘记了，当取得这些成就的同时，大学为人类社会，特别是为这个国家和民族贡献了多少有价值的思想？

这段文字意在（ ）。

- A.说明当今中国大学普遍思想性欠佳
- B.阐述卓越与有灵魂的非对称性
- C.强调有思想，有灵魂方为中国大学之道
- D.说明对于中国大学来说，思想比成就更重要

41. 感官上的经验主义，无疑是造成空间迷向的重要原因。其实，一个人自出生起，经验的累积与影响就伴随一生。在面临具体问题时，一些人越是经验丰富，往往越笃信自己的判断。战国时期音乐家公明仪因弹琴赢得倾慕，自认为谁都爱听他的曲子，便对着吃草的牛演奏古雅的乐曲，却无法让牛“动容”。对牛弹琴的故事说明，经验既能提供有益的参考，同时也可能令人盲目。

这段文字意在说明（ ）。

- A.经验会影响人们的判断
- B.要注意积累人生经验
- C.经验的作用需具体问题具体分析
- D.需以警惕的目光审视经验，避免坠入陷阱

42. 我国的知识产权法早在 1991 年就开始施行，但很长一段时期里，版权问题并未引起国人的足够重视。莫言就曾公开表示，看到自己的作品被大量盗版虽心有不满，却又不不好意思开口要版税。时至今日，版权问题仍然是我国文化事业发展的软肋之一。创作费时费力，但作品却被侵权者零成本地随意使用甚至厚了投机者的腰包。若不能有效打击侵权行为，就会导致“劣币驱逐良币”，严重打击创作者的积极性，并最终破坏健康的创作生态和市场环境。

这段文字意在说明（ ）。

- A.版权问题未得到足够重视
- B.忽视版权问题会打击创作者积极性
- C.知识产权法亟待完善
- D.莫言作品被大量盗版

43. ①传统医托在医院或车站行骗，范围尚且可控，行踪也好追寻  
②即使患者足不出户，网络医托也能找上门来  
③且网络容易隐匿身份，便于冒充专家，更让患者防不胜防  
④但网络医托立足网络，面向全国，受害面要大得多  
⑤可见，网络医托的危害，要比传统医托大得多

⑥行骗的触角能伸到任何一个角落

将以上 6 个句子重新排列，语序正确的是（ ）。

- A.③⑤④②①⑥
- B.①④③②⑥⑤
- C.①④⑥⑤③②
- D.③⑤①④②⑥

44. 进入 9 月后，很多购房者开始担心，供需仍存较大缺口的一线城市房价会再掀波澜。对此，张波认为，从 1~8 月全国楼市数据来看，一线城市和二线热点城市的房价增速已经得到明显控制，非理性投机被有效控制。展望“金九银十”，楼市调控政策整体不会放松，央行坚定抑制泡沫、防范风险的步调不会停，楼市整体重回“高温”的几率几乎为零。严跃进则将量、价分开来看，“由于一线楼市调控依然严厉，交易最后的阀门没有打开，房价上涨可能性并不大”。

这段文字意在强调（ ）。

- A.一线城市房价会再涨价
- B.房价过高，政府调控不能放松
- C.一线城市房价料难掀波澜
- D.政府给予炒房者致命打击

45. 按常理来说，对于一般戏剧文本的翻译，照真实的字面意思翻译就可以了，重点是如何做到严复先生所提出的“信、达、雅”——“信为准确、达为通顺、雅为有美感”。“信、达、雅”三者翻译时应视为一体，力求圆满，如能“形、音、义”三美具备，则是翻译的至美境界。但是对音乐戏剧的翻译来说，当音乐介入之后，新问题就来了。因为音乐剧的翻译必然要照顾到歌唱，由于歌唱的限制，我们往往又难以准确地按照外文的字面意思来翻译。有时，信了则不达，雅了则不信，当信达雅都有了，又无法演唱，很矛盾。为此，我们不得不在翻译时有所调整，有所取舍，也不得不在写意与写实之间寻求平衡。

这段文字主要说明（ ）。

- A.音乐剧翻译要在写意与写实之间寻求平衡
- B.翻译要做到“信为准确、达为通顺、雅为有美感”
- C.解释严复先生提出的“信、达、雅”
- D.如何做到翻译的至美境界

46. 海归并不是贬值了，而是迎来了价值回归。一个人到国外留学并不意味着能力水平的提升，要在职场上胜人一筹，还要看自己的实力如何。这对纠正国内家长的理念偏差是很有好处的，留学本身就应该是一种求知途径，而不单纯是提高就业机会和工作薪酬的方式。只有更多从这个角度去看待问题，送孩子出国留学才更有意义。

这段文字意在说明（ ）。

- A.以后少让孩子出国
- B.个人实力比留学经历更重要
- C.留学生可以获得更高的工作薪酬
- D.职场上不是很看好海归派

47. 没有全民健康，就没有全面小康。习近平总书记提出“要把人民健康放在优先发展的战略地位”，把全民健康上升到了国家战略的高度。对百姓的健康问题，习近平总书记十分关注，针对不同人群的健康问题提出合理建议并做出精密部署。

这段文字想告诉我们的是（ ）。

- A.全民健康是全面小康的必要条件
- B.只要全民健康，就会全面小康
- C.全民健康为实现国家战略奠定基础
- D.不同群体，健康问题要对症下药

48. 中国摩拜单车公司 22 日在日本北海道札幌市举行了投放仪式，这标志着摩拜单车正式登陆日本。投放仪式上的单车具备不少技术亮点，吸引不少日本民众前来体验。

这段文字意在（ ）。

- A.摩拜单车登陆日本，技术优势吸引人
- B.摩拜单车在世界上都很受欢迎
- C.摩拜单车技术非常先进，日本人很喜欢
- D.摩拜单车是日本人出行必备的交通工具

49. 据报道，9月8日晚上，全国青少年井冈山革命传统教育基地全体教职工齐聚一堂，隆重举行 2017 年度“最美教工”表彰大会。受基地管理中心党委书记、主任王学坤委托，基地管理中心党委副书记、纪委书记、副主任刘文兰出席会议并讲话。基地管理中心副主任黄鹤宣读《关于表彰基地管理中心 2017 年度“最美教工”的决定》。

最适合做该文段标题的是（ ）。

- A.井冈山教育基地 2017 年度“最美教工”表彰大会举行



B.井冈山表彰大会上，各位领导发表重要讲话

C.井冈山举行表彰大会

D.“最美教工”表彰大会意义深远

50. \_\_\_\_\_。一方面，要尽快出台相关网络法律和行业标准，保障公民的隐私安全和账户安全，有效减少隐私泄露和经济损失；另一方面，要建立起专业的“网络金融警察”队伍，对涉及侵犯隐私、妨碍支付安全的不法行为实时侦办、精准打击；同时，要依法严惩利用网上支付通道实施的违法犯罪行为，切实维护“无现金社会”的国家金融秩序和安全。

填入划横线部分最恰当的一句是（ ）。

A.法律可以有效保障公民的隐私安全和账户安全

B.依法治国危害公民上网安全更加精准有力

C.建立起专业的“网络金融警察”队伍

D.依法严惩利用网上支付通道实施的违法犯罪行为

51. 一句谚语说得好，多建一所学校，就少建一所监狱——说的是学校的教育功能，如果不把钱投到学校上，青少年受不到教育就更容易走上犯罪道路，政府就不得不花钱去建监狱。作为文化产品，电影有着类似“学校”的功能。穷人之穷，不仅仅表现在物质上的贫困，还表现在精神文化上的贫困：看不起电影、买不起书、进不起剧院等。高票价把穷人挡在了电影院外，冯小刚、张艺谋、尹力等代表委员一直在两会上呼吁降低电影票价。

作者对电影所持的看法是（ ）。

A.电影是人们根除贫困的有效手段

B.电影与学校具有相同的功能

C.电影应该降低票价，满足穷人精神上的贫困

D.电影导演委员们呼吁降低票价是正义之举

52. 目前美国牛肉已经进入国内各大电商平台和零售商超，单品的价格每斤在 58 至 158 元之间。这样的价格，虽然离普通民众的生活有一点距离，但是，美国牛肉不会一直是这个价格。目前价格高，主要是因为高端牛肉走空运进来。正如业内人士预计，后期美国牛肉从海运进来之后，价格预计会比现在便宜 50%。也正因此，一些人担心美国牛肉再次卷土重来，大有“狼来了”的趋势。其实，即便美国牛肉价格大幅下降，哪怕降到此前有人预测的 10 元一斤，也不是一件值得担心的事，而是对国内市场非常有利的事。

这段文字中的“狼来了”指的是（ ）。

- A.美国牛肉离普通民众的生活尚有距离
- B.美国牛肉价格大幅下降
- C.美国牛肉低价进入中国市场
- D.美国牛肉将会颠覆中国国内市场

53. 让我们爱恨交织的技术太多了，从世人完全陌生到人人耳熟能详，它们大部分只花了几十年的时间，势头快得让人不敢掉以轻心。这里面就包括机器人。但近几年，人工智能前行的步伐把机器人研发带到了一个崭新的领域，它们不但眼耳口鼻、连所思所行都越来越像我们人类。不过，这种改变却是渐进式的，这让人类似乎很难真的意识到正在发生改变的机器人意味着什么，或者说，未必做好了应对这一改变的准备。于是近日，美国《国家地理》以《我们，与他们》为题撰写了一篇文章，试图\_\_\_\_\_。

填入划横线部分最恰当的一句是（ ）。

- A.揭开人工智能技术的神秘面纱
- B.探索机器人和人类当前的关系及未来发展
- C.说明目前机器人并不会达到人类的思维水平
- D.反思当前人工智能技术对人类伦理道德观的冲击

54. 一个时代的主导文化，对这个时代的社会进步、思想发展会产生重要的作用，这是一个普遍的社会现象。而经历几千载岁月磨砺，经过几十个朝代演变的中华传统文化，对中华文明的形成和发展，对中华民族和合一体的形成和巩固，对中华儿女维护民族独立、反抗外来侵略的激励，对中国社会发展进步的推动，对中国社会利益和社会关系平衡的促进，始终发挥十分重要的作用，这在世界上是一个非常独特的社会现象。之所以会这样，其重要的原因是中华传统文化的时代化。

最适合做上段文字标题的一项是（ ）。

- A.紧抓时代的主导文化
- B.中华传统文化的重要意义
- C.时代化，使中华传统文化作用不减
- D.中华传统文化的时代化

55. 自明清以来，大众对于国史最熟悉的段落，大概是“三国”，这主要得力于罗贯中所写的史传文学《三国演义》。《三国演义》“据实指陈，非属臆造”，但题材取舍、人物描写，故事演绎则广纳传说和野史素材，并借助艺术虚构。在受众那里，《三国演义》

经常被当作三国信史，故清代史家章学诚称其“七分实事，三分虚构，以至观者往往为之惑乱”。这种“惑乱”，就是信史与史传文学两者间的矛盾性给读者带来的困惑。“文”与“史”固然不可分家，但又不能混淆，也不能相互取代。一旦以“文”代“史”，便会导致“惑乱”。

这段文字主要说的是（ ）。

- A.人们应避免落入以“文”代“史”的窠臼
- B.“文史分家”是评价史传文学的重要标准
- C.史传文学的生命力在于适度的史学真实性
- D.史传文学是文学性与史学价值的对立统一

56. 随着全球气候变暖、冰层融化，南北极所蕴含的巨大能源资源，航道优势等被充分发掘出来，其战略意义愈发凸显。据估算，仅北极地区的煤炭、石油、天然气储量就分别占到全世界潜在储量的25%、13%、30%。同时，极地的战略位置也尤为重要。如今，为赢得竞争优势，不仅美国、俄罗斯、加拿大等极地国家纷纷根据各自的国家利益制定极地战略，而且一些非极地国家和集团也积极参与极地事务，使得极地地区形势骤然变化。作为新兴战略热点，围绕极地尤其是北极地区的国际斗争将日趋复杂和激烈。

这段文字意在强调（ ）。

- A.围绕北极地区的国际斗争即将拉开帷幕
- B.极地成为世界各国战略博弈的热点地区
- C.大国的积极参与使得极地地区形势复杂化
- D.各国应从全球战略高度看待极地地区问题

57. 许多度假胜地，例如鼎鼎大名的夏威夷，完全是由火山喷出的熔岩堆积形成的，直到今天，夏威夷火山群的面积还在不断扩大。岩浆中含有大量微量元素，风化之后形成的土壤异常肥沃，造福了当地的百姓。火山岩干净且透水，火山区的水质一流，是众多天然矿泉水基地。此外，火山区还蕴藏着大量矿产，比如黄金、钻石等。在科学上，火山还是研究板块构造很好的载体，它是板块漂移学说最有力的证据之一。

这段文字主要介绍（ ）。

- A.夏威夷成为旅游胜地的原因
- B.火山的经济、生活与科学价值
- C.板块漂移学说的研究思路
- D.火山岩与土壤、水质的关系

58. 在古代，对未知世界的恐惧感不只属于儿童。中世纪的绘图师们在绘制地图时，并不把未知地带留为空白，而是画上海蛇和想象中的怪兽，并标记“此处有龙”几个世纪以来，探险家们穿越大洋，攀登高山，逐渐在地图上把这些想象替换成了真实的标记。现如今，我们可以从外太空拍摄照片，感叹地球之美。通信网络造就了“地球村”，世界变得越来越小了。

这段文字的核心观点是（ ）。

- A.科技让世界更美好
- B.吾生也有涯，而知也无涯
- C.知识是治疗恐惧的良药
- D.读万卷书，行万里路

59. 在城镇化初、中期，美国奉行自由经济理论，市场机制起主要作用，联邦政府调控手段薄弱，导致过度郊区化，造成城镇发展规划结构性失衡、城市无序扩张蔓延、土地资源浪费严重，生态环境破坏等一系列问题。对此在城镇化后期，美国政府逐步加大调控力度，通过立法和行政干预，加强了城市规划和产业规划布局，逐步重视环境保护，特别是上世纪90年代美国政府提出的“精明增长”运动，对城镇化建设产生了深刻影响。

这段文字给我们启示是（ ）。

- A.政府应该对城镇化发展施行规划与干预
- B.政府要重视推进城镇化与农村的均衡发展
- C.生态环境是城镇化进程中首要考虑的问题
- D.城镇化建设与经济协调发展方能取得成效

60. 继指纹识别、虹膜识别等身份认证技术出现之后，科学家们正在研究耳道识别技术，这种识别技术以微型入耳式耳塞为载体，耳机发出的声波进入外耳道的鼓膜，到中耳、内耳，再反射回鼓膜，形成的声学共振频谱在人与人之间具有个体差异，可以通过样本匹配并判断使用者的身份。这种识别技术是基于耳道孔构造的唯一性，识别时间仅需1秒，准确率达到99%。

关于耳道识别技术，这段文字没有涉及（ ）。

- A.生理基础
- B.声学原理
- C.工作方式
- D.适用范围

61. 新型城镇化最大的障碍是旧的体制和旧的利益格局，突破旧体制的束缚，打破旧利益格局的掣肘，就需要政府淡化经济运营角色，从全能政府转变为有限政府，改变公共权力运行方式。诚然，在重视市场机制的同时，对于城镇化的进程、城市人口、城市布局、城市规模，政府要实行必要的宏观调控，但与此同时，政府也应该从以行政手段为主管理城镇发展，转变为采用经济和法律手段为主管理城镇发展。

下列说法不符合文意的一项是（ ）。

- A.推动新型城镇化工作的关键是转变政府职能
- B.新型城镇化发展的总体规划应该交由市场进行调控
- C.推动新型城镇化稳步发展必须坚持并强化依法行政
- D.新型城镇化过程中政府对人口等问题仍需实施管控

62. 国际金融经济危机与主权债务危机相继爆发，使西方标榜的资本主义制度优越性黯然失色，迫使国际社会反思其弊端。目前无论是欧洲推崇的高福利“莱茵模式”，还是美英推崇的完全自由“盎格鲁-撒克逊模式”，均因其固有的缺陷而陷入困境。过度放纵的西方经济社会制度导致的种种弊端暴露无遗，引发全球范围内反思。

这段文字意在说明（ ）。

- A.全球应反思西方发展模式的失败
- B.西方发展模式的弊端是过度放纵
- C.西方发展模式开始走下“神坛”
- D.西方两种主流发展模式都已过时

63. 想一想肥沃土地的来历，你会不由得涌起一种遥接万代的感情。我们居住的这个星球在最古老时代原是一个寂寞的大石球，没有一层土壤。经过了多少亿万年，太阳风雨的力量，原始生物的尸骸，才给地球造成了一层层层的土壤，每经历千年万年，土壤才增加薄薄的一层。想一想我们那土壤厚达五十米的华北黄土高原吧！那该是大自然在多长时间里的杰作！

下列选项，对原文理解有误的一项是（ ）。

- A.肥沃土地的形成历时久远不得不让人惊叹
- B.华北黄土高原的土壤厚达五十米真是大自然的杰作
- C.凭借太阳风雨的力量再加上原始生物的尸骸，经过了多少亿万年才给地球造成了一层层的土壤

D.我们居住的这个星球在最古老时代原是一个罕有生命迹象的寂寞的大石球

64. ①我们相信要对成千上万的项目说不，这样我们才能真正专注于那些对我们来说确实重要和有意义的少数项目

②我们相信，我们在地球上存在的目的就是创造伟大的产品

③我们崇尚简约而不是复杂

④这一点不会改变

⑤我们相信团队间的深度合作和相互启发，这让我们用别人没有的方式进行创新

⑥我们一直专注于创新

将以上六个句子重新排列，语序正确的是（ ）。

A.⑥④②③⑤①

B.③④①⑥②⑤

C.②④⑥③①⑤

D.①③⑥④⑤②

65. ①人类睡眠和觉醒周期的调节，是由内源性昼夜节律和睡眠内稳态过程的复杂相互作用所产生的

②说到这里，就可以解释许多人在持续失眠后诱发高血压病的原因了

③研究表明，睡眠质量的好坏直接影响着人体系统的正常运转，对内环境稳态的维持至关重要

④当然，个体差异是存在的，有的人睡眠时间稍短，但睡眠质量却高

⑤而且，睡眠也是决定个体工作效率的关键因素，几乎每个人都有过失眠，次日工作效率降低的体验

⑥同时大脑内多个神经环路的协调作用、神经递质和神经调质等精确调控也起到一定的作用

将以上 6 个句子重新排列，语序正确的是（ ）。

A.①②③④⑤⑥

B.③⑤①②④⑥

C.①⑥③②⑤④

D.③④⑥①②⑤

66. 五世纪初，日本出现被称为“假名”的借用汉字的标音文字。八世纪时，以汉字标记日本语音的用法已较固定。日本文字的最终创制是由吉备真备和弘法大师来完成的。

他们两人均曾长期留居中国唐朝，对汉字有很深的研究。前者根据标音汉字楷体偏旁造成日文“片假名”，后者采用汉字草体创造日文“平假名”。时至今日，已在世界占据重要地位的日本文字仍保留有一千多个简体汉字。

这段文字意在说明的是（ ）。

- A. 日本文字产生的历史过程
- B. 汉字在日本的影响和地位
- C. 汉字对日本文字的影响
- D. 日本文字与汉字的联系

67. 20 世纪初普朗克，波尔等物理学家共同创造的量子力学，它与相对论一起被认为是现代物理学的两大基本支柱。量子力学的发展，革命性地改变了人们对物质的结果及其相互作用的认识。借助量子力学，许多现象才得以真正地被解释，新的、无法凭直觉想象出来的现象被预言，接着又被验证。量子力学等理论的诞生，对于推动世界文明进步具有十分深远的意义。这些耗时多年的基础研究成果，其科学价值是无可估量的，绝不是用“有没有用”这样的简单标准就能衡量的。

这段文字意在强调（ ）。

- A. 科学研究需要长期积累
- B. 量子力学对现代物理学意义重大
- C. 基础研究不应急功近利
- D. 科学价值无法用量化指标来衡量

68. 沙尘暴是一种风与沙相互作用的灾害性天气现象，它的形成与地球温室效应、厄尔尼诺现象、森林锐减、植被破坏、物种灭绝、气候异常等因素有着不可分割的关系。其中人口膨胀导致的过度开发自然资源、过量砍伐树木、过度开垦土地是沙尘暴发生的主要原因。沙尘暴作为一种高强度风沙灾害，并不是所有有风的地方都能发生，只有那些气候干旱、植被稀疏的地区，才有可能发生沙尘暴，裸露的土地表层浮土很容易被大风暴卷起形成沙尘暴甚至强沙尘暴。沙尘暴对人畜和建筑的危害绝不亚于台风和龙卷风。近年来，我国西北乃至东北地区都有沙尘暴的出现，尤以西北地区最为厉害，目前已遭沙尘暴肆虐逾 20 次。

下列几种说法，与原文意思不一致的一项是（ ）。

- A. 沙尘暴的形成与多种自然和人为因素密不可分
- B. 人类的过度砍伐树木是沙尘暴发生的主要原因之一

C.沙尘暴是高强度风沙灾害，对人畜和建筑的伤害已高于台风和龙卷风

D.近年来，西北地区多次遭遇沙尘暴，饱受荼毒

69. 植物的光合作用，是地球上最为有效的固定太阳光能的过程，人类消耗的石油、天然气等，其实都是远古时期植物光合作用的直接或间接产物。地球每年经光合作用产生的物质有 1730 亿至 2200 亿吨，其中蕴含的能量相当于全世界能源消耗总量的 10 到 20 倍，但目前的利用率不到 3%。光合作用是高效利用太阳能的最好榜样，破解光合作用的神秘机制，将为建立“人工光合作用系统”，继而开发清洁高效的新能源奠定基础。

这段文字主要说的是（ ）。

- A.植物光合作用的神秘机制
- B.提高光合作用利用率的途径
- C.太阳能与植物光合作用的关系
- D.破解光合作用机制的重要意义

70. 当下，我国各类真人秀综艺栏目的发展呈现出井喷状态。然而，由于栏目扎堆，风格雷同，一部分作品缺乏质感、灵性和情怀，格调低下，大有走向“愚乐”之途的不良趋势。甚至个别栏目重形式而轻内容，重经济效益而轻社会效益，这种创作观念上的误区严重制约了栏目文化认知功能、教育功能和审美功能的发挥。在这种“泛娱乐化”的背景下，《中国汉字听写大会》《中国诗词大会》《朗读者》《见字如面》等文化类栏目异军突起，实现了口碑和收视率的双赢。

这段文字意在说明（ ）。

- A.综艺栏目要强调寓教于乐
- B.电视媒体人负有文化传承的使命担当
- C.以传统文化扭转“泛娱乐化”现状
- D.综艺栏目应制作成更高层次的带有娱乐属性的文化产品

71. 纵观世界流行音乐史，你会发现它基本上就是黑、白两种不同文化的融合史，而且总是由黑人提供原始素材，然后白人把它“偷”过来，并加以完善，最终作为一种崭新的商品推向全球。牙买加由于其特殊的地理位置，成为这一融合的最大受益者。这种模式也被顺理成章地推广到田径领域，终于成就了牙买加田径运动的辉煌。

这段文字主要谈论（ ）。

- A.世界流行音乐史的发展模式
- B.文化融合给牙买加带来的好处



C.地理位置在文化交流中的特殊意义

D.黑人和白人对音乐、体育的不同贡献

72. 下列句子中加点词语使用正确的一项是（ ）。

A.他心胸狭窄，经常在不值一提的微不足道的小事上斤斤计较。

B.富有创造性的人总是孜孜不倦地汲取知识，使自己学识渊博。

C.一连下了好几天雨，操场上拖泥带水的。

D.部门领导在检查防水工作中，认真负责，吹毛求疵，受到群众好评。

73. 下列各句中，加点的成语使用正确的一项是（ ）。

A.北京男篮的外援马布里既是球队组织进攻的核心，又是头号得分手，对球员的影响力非常大，在北京队中有着举重若轻的地位。

B.平江县教育局相关负责人介绍。由于目前存在教师编制紧张、减员人数多、招不到人等方面的问题，教师补充入不敷出的情况日趋严重。

C.近几年，欧盟和中国之间的经济往来越来越频繁，当欧盟各国出现金融危机、经济开始衰退时，千里之外的中国也不能偏安一隅。

D.著名节目主持人柴静自费拍摄了聚焦雾霾问题的纪录片《穹顶之下》，片中出现的种种触目惊心的污染场景引发了人们对环保问题的高度关注。

74. 很多农贸市场，对超薄塑料袋的使用几乎是不闻不问。执法部门对于超薄塑料袋往往采用突击的方法，但商贩却玩起了“猫捉老鼠”的游戏。检查时，超薄塑料袋就被藏了起来，不见踪迹；检查一结束，却仍是老样子。处罚力度小也是“限塑令”难以彻底执行的原因之一。小商贩一天的营业额三五百元，执法人员对其处罚时，金额多在数十元至百余元间，这样的处罚力度显然很难起到警示作用。同时，整个限塑工作事关工商、质监、城市执法、环保等多个行政部门，多部门管理容易造成推诿扯皮，最终导致无人管理。

这段文字没有告诉我们的是（ ）。

A.塑料袋泛滥在于监管缺位

B.执法部门的限塑检查应有常态机制

C.三个和尚没水吃

D.农贸市场是最大的塑料袋流出地

75. ①我国一箭多星发射实现“天女散花”的关键，就是如何解决“星箭分离”瞬间大量卫星释放时的碰撞问题

②这就必须为每一颗卫星量身定做最佳的飞行路线和最佳分离时刻，才能真正实现多颗卫星的“各行其道”

③尤其是在火箭飞行的最后阶段，卫星如何按照预定设计程序从卫星“座舱”中顺利“出舱”且不能相互擦碰

④因此，每一颗卫星出舱瞬间如何保证火箭飞行稳定，避免卫星内部电子设备产生无线电干扰都是摆在技术人员面前的重要问题

⑤更何况，一枚火箭同时装载多颗卫星，会对火箭的结构角度和重心分布带来改变

⑥从技术角度上讲，一枚火箭发射多种不同轨道的卫星难度更高、技术更复杂

将以上 6 个句子重新排列，语序正确的是（ ）。

A.①②⑤⑥④③

B.①③②⑤④⑥

C.⑥①⑤③②④

D.⑥③②④⑤①

76. Argo 计划是 1998 年推出的全球海洋观测试验项目，十余年来，30 多个沿海国家通力合作，在全球各大洋布放近万个 Argo 浮标，组成了全球海洋监测网，首次实现了真正意义上的对全球海洋上层温度、盐度和环流的实时观测。通过共享数据，各国海洋和气象科学工作者利用大数据技术处理海量数据，研究海洋气候对极端天气和全球气候的影响，收获了新的成果。Argo 计划改变了人类对海洋内部的监测手段和方式，填补了海洋气象的空白，并为其他全球性科研合作项目起到了示范作用。

根据文字，以下说法正确的是（ ）。

A.只有沿海国家能从 Argo 计划中受益

B.1998 年前尚无系统的全球海洋实时观测项目

C.大数据技术是全球性科研合作项目的必备技术

D.以往的检测手段难以实现对全球海洋的实时观测

77. 下列句子组成语意连贯的语段，排序最恰当的一项是（ ）。

①“常形”是指现实生活中客观物象的正常自然形态

②艺术美学所研究的，是正常的自然形态在艺术变形中的变化及美学意义

③“变形”是指客观物象反应在艺术中的形态的改变

④所谓“变形”是相对“常形”而言

⑤例如两头蛇、三脚鸡等，这种“变形”虽然怪异，但不是艺术美学研究的对象

⑥在现实生活中，由于种种原因，物象的形态有时会出现变异

A.④①③⑥②⑤

B.⑥⑤②④①③

C.④③①⑥⑤②

D.④③①②⑥⑤

78. 据估算，目前我国农村生活垃圾每年产生量已在 1.5 亿吨左右，其中有一半以上未作任何处理。乡村的土壤、河湖正面临着污染危机，污水污染土地，土地污染粮食……形成恶性循环，久而久之，形成不小隐患，如果不加以遏止，将对整个生态环境造成无法挽回的损失。\_\_\_\_\_。

填入划横线部分最恰当的一句是（ ）。

A.因此，改进垃圾处理技术刻不容缓

B.因此，农村生活垃圾污染危害最大

C.因此，破解“垃圾围村”的困境，势在必行

D.由此可见，农村生活垃圾污染问题极其严重

79. 2016 来了，我国城镇化率已经达到 57.35%，城镇常住人口 79298 万人，比上年末增加 2182 万人。在城镇化过程中，农民身份的转变是重要内容，城镇化在一定程度上也就是农民市民化的过程。农民向市民的角色转变，是失地农民面临的主要问题。在我国失地农民市民化的过程中，也面临着一些社会排斥。

根据文意，接下来最可能讲的是（ ）。

A.失地农民公共服务权利受到排斥

B.社会排斥对失地农民融入城市的制约

C.失地农民基本社会保障权利受到排斥

D.失地农民向市民转变受到的社会排斥

80. 传统节日有了法定假期，未必就不会渐行渐远，一个古老节日之所以沿袭不衰真正原因不在于它有多热闹能带来多少商机，而在于它承载着中国人代代累积下来的那份感情，流淌着中华民族赖以生存的精神血脉和文化基因。如今社会进步经济发展，人们对传统节日有了更高期待和要求，期待回归。

这段文字旨在说明（ ）。

A.过度商业化会削弱传统节日的精神内涵

B.传统节日的生命力在于其精神内涵的继承与发扬

C.人们期待历史价值与现实意义相统一的传统节日

D.传统节日可以为人们提供情感归宿和精神家园

81. 通过遥感探测发现，每年 10 月到次年的 3 月期间，每 2~3 天在 2 公里以上的高空就有一股从西风带吹来的浮尘，当它抵达华北平原上空后，由于地势降低，风速下降以后浮尘便会往下与污染物相混合，遭遇水汽后细粒子个体便迅速增大，造成大范围高强度的污染现象。如果遇上南边气流比较强，会形成华北地区持续多天的重污染天气。

这段文字意在说明华北地区空气污染现象的（ ）。

A.形成过程

B.发生时间

C.形成原因

D.覆盖范围

82. 对于中国的独生子女，“父母的就是我的”这种观念也许很难改变，或许本来就是事实，但问题可能出在“富二代”和“贫二代”这两个词本身，人们按先天不同被贴上了标签，就不容易看清楚一些内在的东西。其实可以靠继承得来的不只是一个光荣的姓氏，更有父辈走过荆棘之路的坚韧和勇气，这一点对穷人和富人的孩子都是一样的。

这段文字表述的观点是（ ）。

A.对坚韧和勇气的继承比财富更有价值

B.中国人更关注家庭出身和背景

C.穷人和富人的孩子其实是平等的

D.“富二代”和“贫二代”有本质的差别

83. 目前在火电领域诞生的新技术很多，联合循环技术就是其中之一。简单来说，联合循环技术就是“一气两用”；将燃气轮机排出的高温废气，通过余热锅炉回收转换为蒸汽，进入蒸汽轮机后驱动其运转，两台轮机都将动能输送至发电机进行发电；废气再次进入锅炉，进一步将其中蕴含的热能转化为动能，降低最终排出气体的温度。这样不仅环保，还能节省燃料。启动速度快也是一大优点，其工作原理是在开机之初关闭运转较慢的蒸汽轮机，只启动燃气轮机，产生足够的热能后，再切换到联合循环模式。这一特点对于电力应急事件频发的大都市十分实用。

关于联合循环技术，下列说法与上述文字不相符的是（ ）。

A.明显提高了发电效率

B.高温废气得以循环利用

C.停电时可在短时间内迅速启动

D.蒸汽轮机早于燃气轮机启

84. 艺术博物馆经过近 200 年的发展，已经从最初的“艺术家的机构”演变为今天“公众的艺术机构”。艺术博物馆的馆长、总监、策展人发现，他们现在面临的最大问题不是和捐赠人、收藏家、同行打交道，而是如何把没有受过艺术教育、缺乏相关的艺术体验的普通人吸引到艺术博物馆里来。潜在的观众群不进博物馆是因为他们不懂艺术史，缺乏相关的艺术体验，一直认为博物馆不欢迎他们，里面没有让他们感兴趣的东西。消除这种“不舒服感”首先需要淡化艺术博物馆的精英色彩。艺术并不只关乎大人物，更关乎普通人。从社会学角度讲，后者更重要。

这段文字主要说明（ ）。

A. 艺术教育的普及将大众引向博物馆

B. 去精英化是当下艺术发展的方向

C. 艺术博物馆应主动贴近普通大众

D. 公众的艺术欣赏水平和层次不断提高

85. 在西方，足球曾经是卑贱、粗野的代名词。那时的足球活动没有什么规则，更谈不上什么礼仪，和打群架没什么区别，弄出人命是常有的事。但这种游戏特别血腥，特别刺激，特别有吸引力，虽屡屡遭禁，却每每“春风吹又生”。为了使得这个人们又爱又恨的游戏益于身心，也为了改变“下贱的踢球人”的形象，人们创造了足球规则，增加了足球礼仪。

这段文字意在强调（ ）。

A. 足球运动曾有遭人唾弃的历史

B. 足球在西方一直颇受大众欢迎

C. 规则和礼仪对足球运动很重要

D. 足球运动面貌经历了巨大变化

86. 音乐是真正的世界语，是感情的语言。当两个国家愿意通过音乐交流，其中或许就含有某种政治善意，即双方想以彼此都能了解、都可以接受的音乐语言进行对话。并且，“乐与情通”，音乐往往可以给人带来精神愉悦，从而为人际交往创造良好的气氛。

这段文字强调音乐是（ ）。

A. 化解文化冲突的有效方法

B. 各国普遍采用的一种外交手段

C.人际交往的一种手段

D.国家之间进行政治沟通与人际交流的一种工具

87. ①经过理论与实践的积累，再生建筑学也逐步成为了一门独立而完整的技术科学

②到第一次世界大战爆发时，欧洲众多城市已经完成改造，向现代生活方式过渡

③在保持原有建筑基本架构的基础上，通过改变局部结构和装修，大幅改变建筑的使用功能，这就是“再生建筑”

④以阿姆斯特丹等港口为发端，欧洲各主要城市先后开始漫长的建筑再生运动

⑤它起源于19世纪40年代的欧洲，当时西欧各国逐步完成工业革命对产业和城市的升级改造

⑥城市中传统的以居住为主的封闭社区和街区，开始让位于交流、娱乐、购物等现代商业的空间需求

将以上6个句子重新排列，语序正确的是：（ ）。

A.③⑤⑥④②①

B.①③②④⑤⑥

C.⑥①⑤③④②

D.④③⑤⑥①②

88. ①学者们进一步推测，基克拉底群岛上可能已经出现了早期的国家

②由于地理位置有利，基克拉底群岛一度控制着爱琴海贸易的海上霸权

③遗址发掘发现，当时已经出现了冶炼和制作青铜器的作坊

④从大量墓葬群的分布情况分析，该文明已经出现了比较成熟的早期城市居住区

⑤活跃的商贸活动为该地区居民带来巨大财富，进而为该文明发展提供了必要的物质基础

⑥考古发掘和古物研究证实，基克拉底文明是爱琴海上最古老的文明

将以上6个句子重新排列，语序正确的是（ ）。

A.②⑥③④①⑤

B.⑥②⑤③④①

C.②⑤⑥③①④

D.⑥④②③⑤①

89. 解决科技与经济结合的问题始终是科技体制改革的核心。以往的改革从技术商品化、科技运行机制、组织结构、人事制度等方面采取了一系列措施，主要着力在微观组织

层面。改革进程发展到今天，需要更多地从宏观管理层面思考问题。换句话说，改革已经改到了推动科技体制改革的政府管理者自己头上。政府科技资源配置的理念需不需要转变？对科技活动管理的模式需不需要改变？管理科技活动的组织机构需不需要调整？回答了这三个问题，才有可能解决科技、经济“两张皮”的问题。

这段文字意在说明（ ）。

- A. 应从政府管理角度思考科技体制改革问题
- B. 进行国家科技体制的深层次改革迫在眉睫
- C. 明确政府职责是科技体制改革的重要前提
- D. 科技与经济相脱节是我国科技体制的弊端

90. 在漫长的传统农业社会，人类一直无法摆脱生产的不足和基础物资的匮乏，而且社会总财富相对比较恒定，财富主要依靠有限的自然资源来供给。这就意味着，国际关系更多地围绕获取有限的自然资源展开的。然而，现代工商业的发展、科学技术的进步使得社会财富总量得到了爆炸式的增长，世界各国越来越认识到，共同建立一个公正合理的世界秩序是实现大家利益的最佳途径。

这段文字意在说明（ ）。

- A. 社会财富获取方式的变化对国际关系产生深刻影响
- B. 社会总财富的增长主要依赖对自然资源的利用
- C. 国际关系与自然资源之间存在紧密的联系
- D. 人类正逐渐摆脱自然资源供给的束缚

91. 传统的纯文学杂志正在悄然地进行一场“时尚革命”。最近一段时间，陆续有著名纯文学杂志宣布“触网”，这些杂志都有几十年历史，从来都是“几十页纸走天下”，所以此番赶时髦引发了众多围观。不过本报记者在调查中了解到，这些文学期刊大多面临传统读者减少、年轻读者难寻的窘境。因此“触网”对它们而言固然是时尚，也是一种顺应时代的自我救赎。

这段文字没有论及的是（ ）。

- A. 传统文学期刊面临着如何吸引年轻一代读者的问题
- B. 纯文学杂志走向数字化是摆脱目前困境的唯一救赎
- C. 传统文学期刊“触网”是顺应时代潮流，大势所趋
- D. 过去的几十年，纯文学杂志保持着纸质媒介的传统

92. 当人们需要作出可靠判断，以决定在复杂情势中应如何行动时，理性是最可信赖的工具。非理性工具，诸如预感与习惯，虽亦常被使用，但是当事关重大之时，或者当成败取决于所下判断的关头，诉诸理性无疑最易获得成功。我们已经拥有一些经受了长期检验的合理方法，能够用来判定究竟何者为宜，何者为真；也已拥有一系列业已得到确立的原理，可以指导我们从已知的东西引申出推论。

这段文字所表达的主要意思是（ ）。

- A. 理性是人们做出判断最可信赖的工具
- B. 理性已经存在了一套可以帮助人们做出可靠判断的方法
- C. 非理性工具在人们需要做出可靠判断时不可信赖
- D. 依理性做出的对复杂情势的判断不会出错

93. 一个普遍的说法是，人类能辨别 1 万种不同的气味，一只猎犬的鼻膜上有 2.2 亿个气味受体细胞，而人类只有 2000 万个，但我们的嗅觉系统也是相当复杂而专业的，气味分子随气流进入鼻子，通过鼻腔顶端上皮和它的气味受体细胞，这些细胞表面覆盖着能捕捉气味分子的蛋白。气味受体蛋白共 300 多种，分别负责不同的气味分子，可以产生大量组合，形成大量的气味模式，\_\_\_\_\_。而且我们的嗅觉很容易训练，短期内可见惊人成效，在实验中，如果暴露在单一的花香中，人只要 3 分半钟，就能极大提高对这种花香的辨别能力。

填入划横线部分最恰当的一句是（ ）。

- A. 这也就是人类能够辨别 1 万种不同气味的原因
- B. 这些气味信息直接进入嗅觉皮层还会影响人的情感反应
- C. 因此对人类来讲嗅觉仍是第一大感官知觉
- D. 但是不同的人对这些气味模式的敏感程序有所不同

94. 英国著名学术刊物《自然》6 日发布声明，就其网站刊载的一篇将中国游泳运动员叶诗文和兴奋剂联系在一起的文章道歉，这篇文章认为叶诗文夺得伦敦奥运会女子 400 米个人混合泳金牌的卓越表现是“异常”的，即使当前的药检结果清白，也不能完全排除服用兴奋剂的可能，道歉声明中提到：“我们注意到相关讨论中指出的一些错误，以及相关统计中缺乏更多的细节，造成了我们支持指责叶诗文的印象，而需要强调的\_\_\_\_\_。”

填入横线的语句与上文衔接最顺畅的一句是（ ）。

- A. 我们对此表示遗憾



B.这不是我们的意图

C.我们向叶诗文道歉

D.这确实是一个问题

95. 人的一生是一个不断接受自己与不断完善自己的过程。\_\_\_\_\_。完全接受自己的人心中踏实，有信心，知道自己有价值，懂得珍重自己、爱惜自己、保护自己，也能做到体谅别人、关心别人、宽恕别人。

填入划横线部分最恰当的一项是（ ）。

A.每个人都非常需要被别人接受和重视

B.只有完全地接受自己，才能不断去完善和提高自己

C.接受和重视他人，他人也会接受和重视自己

D.接受他人，不刻意地张扬和炫耀自己的长处，不刻意注意别人的短处

96. 当我们不再以功利的态度来考虑问题时，当我们不再以职业的观点来面对生活时，当我们把业余的游戏精神引入办公室和教室时，美学便松动了刻板重复的日常生活。我们便可以在其中发现更多的美感愉悦，感悟到更加深刻的生活真谛。老子提出了道家美学的一个经典命题“涤除玄鉴”，“涤除”就是使心灵空明虚静，抛弃那些欲念和偏见，这样便可以“玄鉴”，就是看到深邃的东西。这个命题后来演变成中国美学的一系列重要范畴和命题，诸如庄子的“心斋”、“坐忘”，宗炳的“澄怀观道”等等。

这段文字提到老子和庄子等人的思想是为了说明（ ）。

A.美学与日常生活的关系

B.中国美学的独特之处

C.无功利美学对日常生活的升华作用

D.中国美学的发展历史

97. 将以下 5 个句子重新排列组合：

①是一个金融要素对实体经济的影响力和渗透力显著增强的过程。

②当今世界，金融的核心作用以经济金融化的形式表现得更加明显。

③金融是现代经济的核心。

④从世界经济运行来说，金融化是一个全球资源、利益和风险不断进行再分配的过程。

⑤金融是一个以金融创新为依托，以新金融模式、新金融工具和新金融产业不断涌现为金融市场体系不断丰富、完善的过程。

排列组合最连贯的是（ ）。

- A. ②③⑤①④
- B. ③②⑤①④
- C. ③②④⑤①
- D. ②③④⑤①

98. 尽管社会主流观点往往宣扬“做人要乐观”的信念，有些科学家还是对此持有不同观点：负面情绪也是我们与生俱来的特征，是平衡精神健康的重要一环。针对目前抗抑郁药物的使用量与日俱增的情况，很多精神病学专家提出了质疑，他们认为这些药物的滥用不但带来后果严重的副作用，还打破了人类情绪的平衡。

这段文字表达的主要观点是（ ）。

- A. 应该质疑“做人要乐观”的信念
- B. 负面情绪对精神健康并非无益
- C. 使用抗抑郁药物不要过多过滥
- D. 平衡精神健康就不能一味乐观

99. 四年前，中国经济受金融危机冲击的时刻，消费券作为刺激内需的政策建议曾被广泛讨论，杭州、成都等地的实践也收到了一定效果。但大规模发行消费券有一定要求，其产生的影响也非常复杂，杭州、成都等局部试点城市取得的效果并不具有普遍的代表意义。

以上文段意在说明：（ ）。

- A. 杭州和成都试点推行消费券取得成效只是偶然事件
- B. 消费券对刺激内需有明显作用
- C. 我国还不能大规模推行消费券
- D. 在其他城市推行消费券不可能取得像杭州、成都一样的成效

100. 下列各句中，没有语病的是（ ）。

- A. 通过考察美国几所中学，使这些中国校长们的教育教学理念悄然地发生着变化。
- B. 机关考勤制度改革后，“一杯茶，一支烟，一张报纸看半天”的现象不见了，全勤的人数骤然增多，出勤率较前三个月有很大增加。
- C. 这个峡谷至今仍是谜，听老人们说，那里从来就没有人能进去过，进去的人从来就没有能活着回来的。

D.市井百姓的生活变化实实在在。他们的欲求原本就简单，只是盼望着生活就这样一步一个脚印地往前走。然而，这看似简单、实则难得的进步，离不开中国稳扎稳打的“内功修炼”。

101. 在中国历史上，官和诗的关系一直就很密切。尽管诗歌最早来自于民间，然而从把《诗》列入“五经”之后，它就成了上层社会官宦子弟的必修课，成为官场应对交流的基本功。孔子曰：“不学诗，无以言。”魏晋以下，唐宋元明清，我们知道的大诗人基本都是各级官吏，作诗填词是他们从政为官必须具备的能力，更是他们智慧、素养和文化品位的体现。就拿诗的鼎盛时期唐朝来讲，科举考生为了求得赏识，考前要呈献自己的作品，叫做“行卷”，行卷的内容就包括古诗、律诗、词赋、骈文等。白居易的“野火烧不尽，春风吹又生”就是行卷中的诗句。

这段文字主要说明了（ ）。

- A.古代的诗人大多同时也是一方官吏
- B.作诗是古代的官员必备的素质和能力
- C.历史上诗文化与官文化是息息相关的
- D.古代诗歌的兴起、发展都离不开官吏

102. 给红十字会抹黑的不是某个人，而是不够透明的运行机制，任何一个公益组织都需要建立在信任的基础上，失去了公众的信任，还有何公益可言？对爱心的亵渎，是对公信的最大的贬损。完善中国公益慈善机构的制度建设和规范管理，进一步加强资金的透明度，还有很长一段路要走，而质疑的种子一旦播下，很快就会生根，看来中国红十字会要重塑公信力，不是走个过场的调查审计所能办到的。

通过这段文字可以看出作者的意图是（ ）。

- A.指出红十字会正面临着严重的信任危机
- B.呼吁人们重新树立对红十字会的信心
- C.解释红十字会出现信任危机的原因
- D.呼吁红十字会等公益慈善机构规范管理

103. 不要过分地依赖语言。不要总是企图在语言上占上风。语言解不开的，事实可以解开。语言解开了而事实没有解开的话，语言会失去价值，甚至只能添乱。让事实说话的人比起动不动就想说倒一大片的人更安详。

这段话的主要观点是（ ）。

- A.语言是不重要的，而事实才重要

- B.语言是不可靠的
- C.事实解不开的话，语言也解不开
- D.事实比动听的语言更有力量

104. 一块木料，能不能用，怎样使用，舍弃什么，不是用嘴说，也不是用眼看，更不是凭“老经验”去推断下结论——权威只有一个，就是用尺子量一量，用墨线校一校。这就是“匠人规则”。匠人们之所以令人肃然起敬，源于他们对工作一丝不苟，始终遵循“尺子最有发言权”这一准则。

这段文字中的“匠人规则”启示我们（ ）。

- A.规则是有标准有角、非常清楚的，丁就是丁，卯就是卯
- B.尊重规则、遵守规则，是做好一切事情的前提和根本
- C.规则可惩罚违反它的人，又可保护和赏赐遵守它的人
- D.规则作为尺度和准绳，为人们做事提供了一个客观的标准

105. 真正的开拓型人才，不但工作时间内基本满负荷，而且业余时间内的工作效率更高，并且在紧张阶段还要占去一定的正常休息时间，而淘汰型人才不但不利用业余时间学习研究问题，而且正常工作时间也利用得少，不能产生对社会有益的价值效应。区别之大，何其明显。

这段话主要说明了（ ）。

- A.勤奋是成功之母
- B.各类人才对时间的利用率不一样
- C.开拓型人才善于利用时间
- D.淘汰型人才不善于利用时间

106. 维特根斯坦是剑桥大学著名哲学家穆尔的学生。有一天，哲学家罗素问穆尔：“你最好的学生是谁？”穆尔毫不犹豫地回答：“维特根斯坦。”“为什么？”“因为在所有的学生中，只有他听课时总是露出一副茫然的神色，而且总有问不完的问题。”后来，维特根斯坦的名气超过了罗素。有人问：“罗素为什么会落伍？”维特根斯坦说：“他没有问题了。”

这段文字意在说明（ ）。

- A.怀疑和提问是成功的秘诀
- B.好奇心是研究的内在动力
- C.得到赏识是成才的重要因素

D.发现问题是不断进步的前提

107. 在清代京师的城市格局中，紫禁城是绝对的中心。但紫禁城居于城中央隔断了北京城区的东西往来。北京城里主干道多是南北向，南北交通便利，东西交通不便。新中国成立以来，北京城发生了翻天覆地的变化。城市中心由紫禁城变成了天安门广场，城市的东西道路建设促进了城市的融合和新城区的生成，但不容置疑的是，上千年的文化传承和上百年的城区格局使得北京城区南北畅通的文化脉络始终存在并影响至今。

这段文字的主旨是（ ）。

- A.城市格局影响着文化，也被文化所影响
- B.城市发展要遵循地缘的便利条件和文化传统
- C.清代的京师格局一直影响着北京的城区发展
- D.北京城在变迁中始终保持着东西两翼的城区格局

108. 将以下 5 个句子重新排列组合：

- ①而地球正在经历一场环境剧变；火山活动频繁，海平面发生变化；气温也出现骤变
- ②当时，一颗宽 10 公里的流星落在了墨西哥尤卡坦半岛
- ③这些环境条件变化导致食草恐龙食物链断裂
- ④在已经变得很弱的生态环境中，恐龙无法再招架小行星撞击地球带来的影响
- ⑤行星的撞击同时引发了海啸、地震、山林大火，并加剧了气温的变化

最合理的组合方式是（ ）。

- A.①④⑤③②
- B.①⑤②④③
- C.②①⑤④③
- D.②①③⑤④

109. 英国有着高福利的传统，1601 年英国引入世界首部《济贫法》，1948 年依据《贝弗里奇计划》，宣布建成世界上第一个福利国家，承诺提供“从摇篮到坟墓”全天候福利保障制度服务。但随着经济不景气、尤其是老龄化的日趋严重，英国 65 岁以上老年人口目前已达 16%，养老金严重入不敷出，目前养老金缺口已达 GDP 的 26%。养老金改革合情合理，但这无疑触动了国民养老费用的奶酪，遭至强烈反抗也在情理之中。显然，福利制度的刚性特征使得由简入奢易，由奢入简难。

对这段文字概括最准确的是（ ）。

- A.描述英国养老金改革计划举步维艰的状况

- B.揭示人口老龄化对英国政府提出的新要求
- C.反思英国实行全天候福利保障制度的弊端
- D.讲述英国高福利制度的由来

110. 促使生产要素合理流动和优化配置，实现区域优势互补，提高经济整体发展质量和效益，离不开健全的市场机制。实施区域发展总体战略，促进区域经济协调发展，需要在完善市场机制上下功夫，目前应强调两个方面。一方面，要纠正要素价格扭曲现象，用价格杠杆引导各类生产要素合理流动，优化要素资源配置，提高经济效益，另一方面，要正确应对生产要素供需的结构性变化。

对上述文字的中心意思概括最恰当的一项是（ ）。

- A.要推进区域经济协调发展，需要完善市场机制，促进生产要素合理流动
- B.价格机制是调整资源配置的有效手段
- C.健全的市场机制是经济发展的充分条件
- D.促进生产要素的合理流动和优化资源配置

111. 古人写诗“二句三年得，一吟双泪流”；写小说，动辄“闭门谢客，披阅十载”。现在许多作家每年出好几部长篇，几十万字，个把月就写成了。没有对生活的日积月累，没有对人生的深思熟虑，没有对写作的精心布局，没有对文字的字斟句酌，反复修改，怎么会有精品？又怎能抵抗时间的淘汰？“创作”如果说不同于别的工作，就在于一个“创”字；如果说有难度，也在于一个“创”字，既不同于前人，又不同于自己。

这段文字主要表明（ ）。

- A.生活是创作的源泉
- B.时间是艺术作品的试金石
- C.今人的创作态度不如古人严肃
- D.长期潜心创作，才会出高质量的作品

112. 公元1616年，莎士比亚与汤显祖同年逝世。二人都可算作16、17世纪之交的伟大剧作家。二人都爱写剧本，不过写法却不大一样。比如《罗密欧与朱丽叶》故事临近结尾，一双恋人殉情身亡，惨烈的悲剧以双方家族的和解收尾。和解的意愿的确美妙，只可惜，莎翁用于和解的笔墨太过不经意，仿佛仅仅为了“和解”的概念草草应付收场。《牡丹亭》里的杜丽娘，因梦中的相遇而思，而哀，而死，又因此而还生，而圆满。汤显祖将笔墨挥洒于爱而不耗损于恨，推敲于柔美而不沉醉于暴力，他笔下的爱，期待、给予、容纳、无嗔。

这段文字的主旨是（ ）。

- A. 阐述莎士比亚和汤显祖的伟大之处
- B. 分析《牡丹亭》独特的写作手法
- C. 比较莎士比亚和汤显祖的艺术风格
- D. 总结中外古典戏曲的共同点

113. 随着老年人口的日益增加，退休费、医疗费、福利费的支出自然呈上升趋势，客观上要求有坚强的经济后盾，而目前全省的人口老龄化与经济发展不同步，经济水平滞后，大大削弱了社会对老龄人口的承受能力。因此，家庭养老的作用不可忽视，家庭养老在保证老年人物质生活需要的同时，也有利于老年人的心理健康。

对这段文字理解准确的一项是（ ）。

- A. 老年人口的增加，影响了经济发展
- B. 强调家庭养老的重要性
- C. 人口老龄化，造成经济水平滞后
- D. 增强社会对老龄人口承受能力

114. 政府当然应该接受批评，但批评的基础应该是事实，而不是谣言。如城管，你可以批评授权过度，也可以批评一些地区没有将城管纳入体制编制带来的执法倾向的不当。但在网上整天发一些没有时间、没有地点、没有准确事实描述的图片故事，就不是一种正常的批评。

这段文字意在说明（ ）。

- A. 政府应该接受人民的合理批评
- B. 只有走正规的渠道，批评政府才能奏效
- C. 批评政府应该有理有据，遵循事实
- D. 批评政府不能靠煽动民众情绪

115. 文明和文化是不同的。文明使所有的地方所有的民族越来越相似，按照德国人埃利亚斯《文明的进程》的说法，文明是一个群体社会中大家按照同一规则生活，就好像按照一个节拍跳舞，不至于踩到脚一样；而文化使一个民族与别的民族不同，它是与生俱来的，不是规则而是习惯。其实城市化也可以这样看：城市迅速发展，摩天大楼变成城市象征，这其实是现代文明在世界各个角落强势发展的结果。但是，我们又希望文明不要压倒文化，“同一”不要消灭“差异”。

这段文字意在（ ）。

- A. 质疑现代文明忽略民族个性的趋势
- B. 探究城市化进程与文明发展的关系
- C. 强调城市化进程中保存文化的必要性
- D. 比较文明与文化对人类发展的不同影响

116. 有项购物实验，先让购物者看一些他们喜爱的物品，或是厌恶的物品，以改变他们的情绪。然后再展示一些普通物品的图片，让购物者在其中进行选择。结果发现，受积极情绪控制的受试者，能够很快做出购买决定，且他们的决定更不容易被其他原因所改变。

这段文字意在说明（ ）。

- A. 心情愉快能让购物者做出快而不易变更的决定
- B. 提示售货员切不可让顾客购物时产生厌恶情绪
- C. 购物者看他们喜爱的物品会很快做出购买决定
- D. 情绪不好的购物者会很快改变他们的购买决定

117. 每个人的德行都与公共生活紧密相关。现代国家中的公民，是构成社会的基本分子，离不开公共生活。公共生活的重要部分之一，就是完全超越利己动机的公益慈善。事实上，追问人的本性，每个社会成员都有向善、为善的一面。与其说这是完成他的社会责任，不如说这会给他带来助人的喜悦和欢愉。这既是本性，也是权利。那种片面地将公益慈善视为社会精英特权或某些组织禁脔的思想，是无视人之本性的陋见，不利于公共伦理和公共道德的形成，是阻碍现代公民意识生成的绊脚石。

这段文字意在强调（ ）。

- A. 德性与公共生活紧密相关
- B. 行善给人带来喜悦和欢愉
- C. 做善事是社会成员的权利
- D. 不正确的慈善观危害甚大

118. 网络影评在传统影评集体失语的生态环境下迅速兴起并蓬勃发展，借助互联网这个载体，网络影评因突破时空界限而体现出开放、互动、便捷的特征，因回归到大众而使内容形式趋向多元，因摆脱了现实的身份制约和利益牵挂而得以真实表露和独立发声。相较于传统影评，网络影评的优势体现在篇幅、格式、风格和传播上具有更多的自由。

作者通过这段文字意在强调（ ）。

- A. 网络影评兴起并蓬勃发展的趋势



- B.网络影评兴起并蓬勃发展的条件
- C.网络影评兴起并蓬勃发展的前景
- D.网络影评兴起并蓬勃发展的原因

119. 城市文化与企业文化，作为文化分层意义上的中观文化和微观文化形态，无时无刻不发生着相互作用，乃至对二者的形成和发展产生深远的积极影响。城市文化作为中观环境，为所在企业文化的影响和发展提供了背景和源头。企业文化群体形成后，又与城市文化相互交叉、渗透，为其带来新的理念和发展动力，形成二者互相交融、取长补短、共同繁荣的局面。就青岛 100 多年的发展历史而言，企业文化在城市文化体系中占据了举足轻重的主导地位，优秀企业群体所彰显出的企业界精神构成了青岛“诚信、博大、和谐、卓越”城市精神的思想内核。可以说，青岛的企业文化建设工作面临着创世界品牌、立百年基业的艰巨任务，担负着塑造青岛城市精神、弘扬城市文化的历史使命。

这段话支持了这样一种观点，即（ ）。

- A.企业文化是城市文化中的一部分
- B.城市文化对企业文化的形成和发展产生深远的积极影响
- C.企业文化群体为城市文化的形成提供背景和理念
- D.青岛企业文化有待继续发展，任务艰巨

120. 将以下 6 个句子重新排列组合：

①目前，全世界共有 4 万余架直升机，其中民用直升机约为 2.4 万架，平均每百万人拥有近 4 架。

②而航空救援具有快速、高效、受地理空间限制较少等优势，是世界上许多国家普遍采用的有效方式。

③我国是世界上灾害最严重的国家之一，自然灾害、各类事故灾害、公共卫生、社会安全等突发事件时有发生，这些都成为了影响我国经济发展和稳定的重要因素。

④而我国截至到 2007 年底注册的民用直升机只有 124 架，仅为世界平均水平的 1/57。

⑤完整的减灾救灾体系，应当是水、陆、空立体化的救援体系。

⑥航空应急救援能力严重不足，与灾害和事故频发的国情以及经济社会发展状况不相适应。

排列组合最连贯的是（ ）。

- A.③⑤②①④⑥

B.③⑥⑤②④①

C.②④⑥③⑤①

D.⑤①⑥③②④

### 判断习题

1.把下面的六个图形分为两类，使每一类图形都有各自的共同特征或规律，分类正确的一项是：（ ）。



A.①②⑥, ③④⑤

B.①③⑤, ②④⑥

C.①④⑥, ②③⑤

D.①③⑥, ②④⑤

2.把下面的六个图形分为两类，使每一类图形都有各自的共同特征或规律，分类正确的一项是：（ ）。



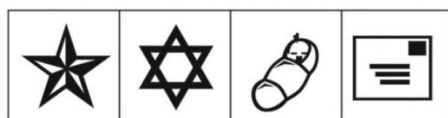
A.①②④, ③⑤⑥

B.①③⑤, ②④⑥

C.①④⑥, ②③⑤

D.①③⑥, ②④⑤

3.从所给的四个选项中，选择最合适的一个填入问号处，使之呈现一定的规律性：（ ）。



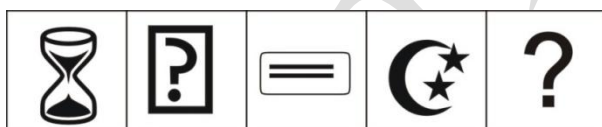
A B C D

4.从所给的四个选项中, 选择最合适的一个填入问号处, 使之呈现一定的规律性: ( )。



A B C D

5.从所给的四个选项中, 选择最合适的一个填入问号处, 使之呈现一定的规律性: ( )。



A B C D

6.从所给的四个选项中, 选择最合适的一个填入问号处, 使之呈现一定的规律性: ( )。



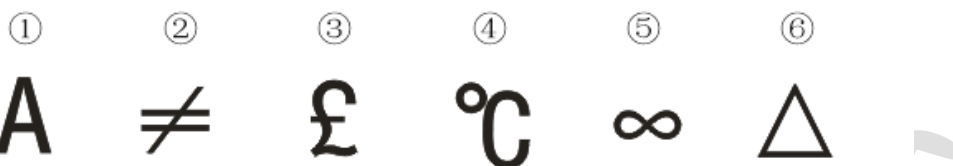
A B C D

7.从所给的四个选项中, 选择最合适的一个填入问号处, 使之呈现一定的规律性: ( )。



A B C D

8.把下面的六个图形分为两类，使每一类图形都有各自的共同特征或规律，分类正确的一项是：（ ）。



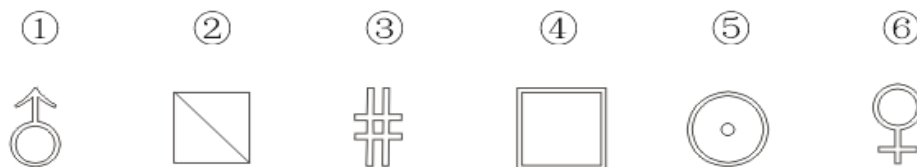
A.①②⑥, ③④⑤

B.①③⑤, ②④⑥

C.①④⑥, ②③⑤

D.①③⑥, ②④⑤

9.把下面的六个图形分为两类，使每一类图形都有各自的共同特征或规律，分类正确的一项是：（ ）。



A.①②⑥, ③④⑤

B.①③⑤, ②④⑥

C.①⑤⑥, ②③④

D.①③⑥, ②④⑤

10.把下面的六个图形分为两类，使每一类图形都有各自的共同特征或规律，分类正确的一项是：（ ）。



A.①②④, ③⑤⑥

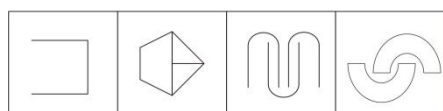

B.①③⑤, ②④⑥

C.①④⑥, ②③⑤

D.①③⑥, ②④⑤

11.请从所给的四个选项中, 选择最合适的一个填入问号处, 使之呈现一定的规律性:

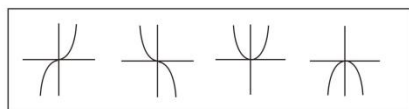
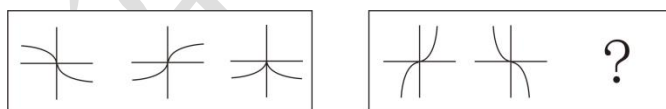
( )。



A B C D

12.请从所给的四个选项中, 选择最合适的一个填入问号处, 使之呈现一定的规律性:

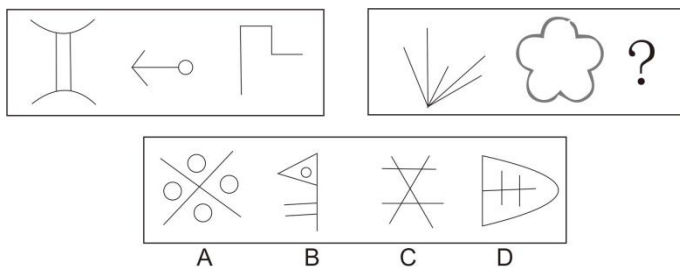
( )。



A B C D

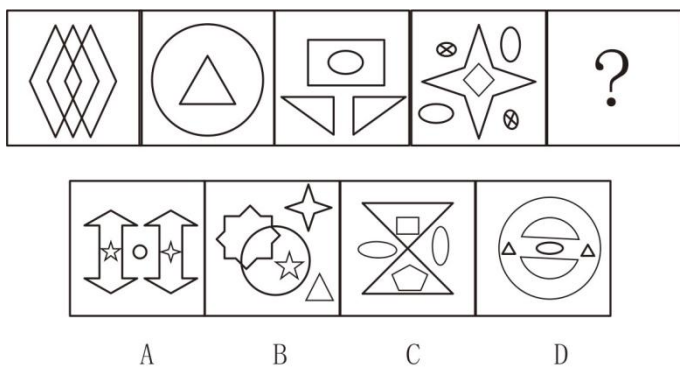
13.请从所给的四个选项中, 选择最合适的一个填入问号处, 使之呈现一定的规律性:

( )。



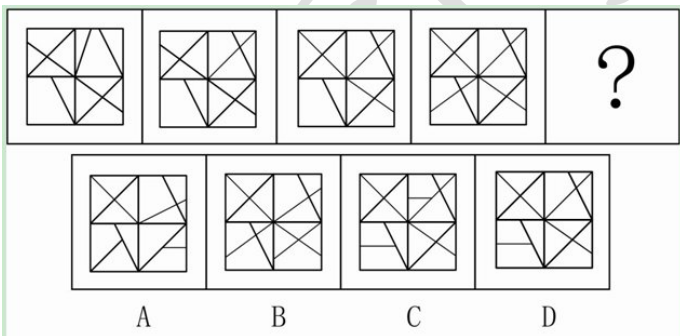
14.请从所给的四个选项中，选择最合适的一个填入问号处，使之呈现一定的规律性：

( )。



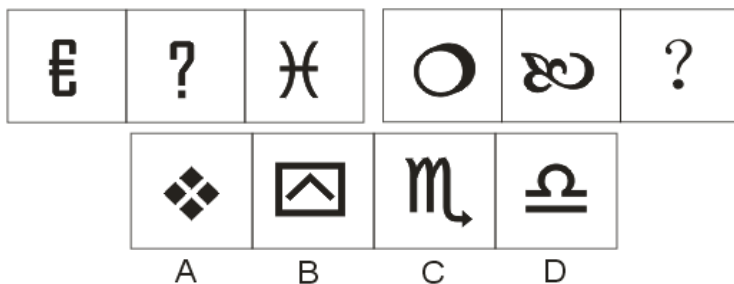
15.请从所给的四个选项中，选择最合适的一个填入问号处，使之呈现一定的规律性：

( )。

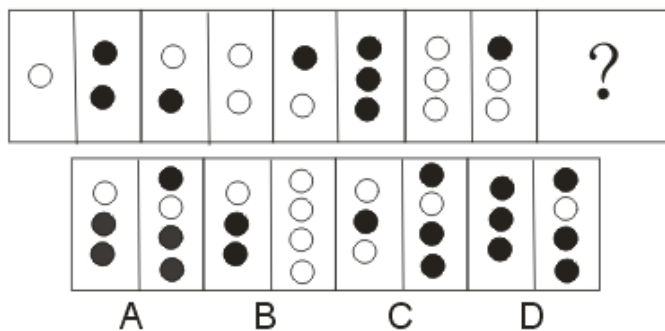


16.从所给的四个选项中，选择最合适的一个填入问号处，使之呈现一定的规律性： (

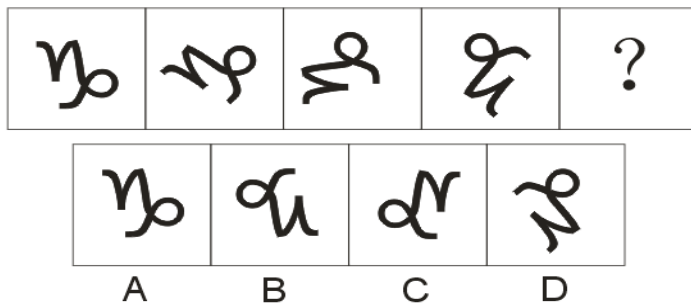
)。



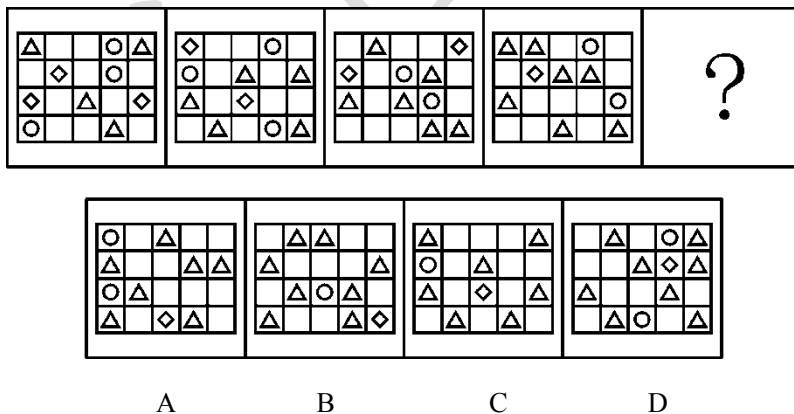
17.从所给的四个选项中，选择最合适的一个填入问号处，使之呈现一定的规律性：（ ）。



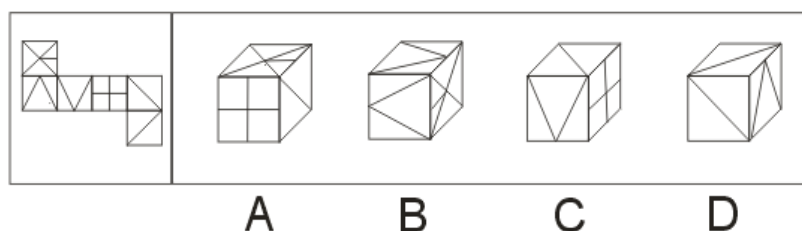
18.从所给的四个选项中，选择最合适的一个填入问号处，使之呈现一定的规律性：（ ）。



19.从所给的四个选项中，选择最合适的一个填入问号处，使之呈现一定的规律性：（ ）。



20.下面四个所给的选项中，哪一选项的盒子能由左边给定的图形做成？（ ）



21.如果我有一千万，我就能够买一套房子，我有一千万吗？没有，所以我没有买房子。

下列选项中最能揭示题干错误的是（ ）。

- A. 如果我有翅膀，我就能够飞，我有翅膀吗？有，所以我会飞
- B. 如果今天下雨，小明就跳楼。今天下雨了吗？没有，所以小明没有跳楼
- C. 只有努力，才能成功。你不努力，当然不成功。
- D. 若是晴天，小明就去划船。今天是小明划船了吗？是的，因此今天是晴天

22.杰出的商业总裁在美国的总统竞选活动中通常扮演活跃的角色，他们往往充当竞选经费的筹募者或幕后的策划者，但是实际上他们中几乎没有人真正尝试过自己去做总统，整个历史上，绝大多数寻求成为总统的人都是律师、军方领导或全职的政客，这可以理解，因为在商业上取得成功的个性与技巧并不能在政治上取得成功。因为商业大体上都是等级体制，而政治上的体制却是互相协调的。因此，商业总裁在妥协以及分享权力时会感到非常的不自在，而这些是政治家活动中所固有的。

以下哪项如果为真，能最严重地削弱上述对商业总裁为什么不竞选总统的解释？（ ）

- A. 许多最活跃的总统竞选经费的筹募者和幕后策划者本身就是政客
- B. 军方领导在作出妥协或分析的时候，与商业总裁们一样的感到不自在
- C. 成为一个成功的律师所需的某些技巧与成为一个成功的军方领导所需的某些技巧是不一样的
- D. 有些前总统在离职后，从事风险商业投资

23.王明、李强、刘月三位股民对股票 A 和股票 B 分别做了如下预测：

王明：只有股票 A 不上涨，股票 B 才不上涨。

李强：股票 A 和股票 B 至少有一个不上涨。

刘月：股票 A 上涨当且仅当股票 B 上涨。

若三人的预测都为真，则以下哪项符合他们的预测？（ ）



A.股票 A 上涨，股票 B 才不上涨。

B.股票 A 不上涨，股票 B 上涨。

C.股票 A 和股票 B 均上涨。

D.股票 A 和股票 B 均不上涨。

24.友谊是指发生在两个个体之间具有亲密感情的一种特殊类型的同伴关系，是个体一对一的相互作用过程。科学家研究发现，良好的友谊质量能够促进青少年健康人格的形成与发展，影响青少年短期和长期的社会适应。

以下哪项为真时，最能支持科学家观点？（ ）。

A.友谊质量低的青少年，容易出现学校适应困难，品行不良乃至犯罪等问题

B.友谊质量是描述人际关系状况的重要指标

C.社会适应出现问题的青少年很难与其他人形成亲密感情

D.同伴关系在青少年的发展和社会适应过程中起着重要作用

25.动机，在心理学上一般被认为涉及行为的发端、方向、强度和持续性。研究者认为动机的类型和水平不仅决定了个体是否进行活动，还会影响反应的新颖性。如果内在动机水平很低，即使个体具备创造性能力，但为了达到外在目标，往往运用陈旧的、熟悉的反应方式进行活动，创造性的成绩也不会提高。

以下哪项最能反驳研究者的说法？（ ）。

A.外在动机水平也是影响个体创造力的重要因素

B.创造力的提高和发展既取决于创造性能力，还与创造性个性倾向有关

C.内在动机水平低的个体，也常常运用新颖的方式进行反应

D.除了动机水平，动机类型也影响创造性成绩的提高

26.莎士比亚、但丁、达芬奇，被称为“文艺复兴三巨人”。他们开始使用自己的方言而非拉丁语进行文学创作，带动了大众文学，替各种语言注入大量文学作品，包括小说、诗、散文、民谣和戏剧等。这说明，在文艺复兴时代，人类的自由意识已经开始萌动。

以下哪项为真时，最能削弱上述判断？（ ）。

A.使用自己的方言进行创作主要反映了人们的人文主义精神

B.文艺复兴是 16 世纪在欧洲盛行的一场思想文化运动

C.文艺复兴带来了一段科学与艺术革命时期

D.生产力的发展，资本主义萌芽的出现促进了文艺复兴的发展

27.目前的大学生普遍缺乏一个明晰的职业规划。最近出炉的一项大学毕业生跳槽调查显示，大学毕业生半年内的离职率分别为：“211”院校 22%，非“211”本科院校 33%，高职高专院校 45%。

以下哪项为真时，最能削弱上述观点？（ ）。

- A.80 后、90 后大学生习惯于“浅尝辄止”，缺乏坚持
- B.大学生在求职过程中就业信息不对称，入职后理想与现实差异大
- C.大学生出现职业困惑或不适应，很难寻求专业机构协助
- D.半年内离职率高与明晰的职业规划不是一回事，不能够以偏概全

28.某足球队主教练向经理申请购买一名球员，以增加球队的板凳深度，提高竞技水平。该经理驳回了这项申请。因为在年初的球队战略规划中指出，球队的规模应当与球队比赛的实际需要和赛季目标相匹配。根据球队目前“保六争三”的目标，现在的球员已经足够了。

下面哪项为真时，最能支持经理的决定？（ ）。

- A.球队目前所拥有的球员，在短期内不会有比较大的伤病发生
- B.球队现在的资金相对短缺，想要购买球员必须先卖掉实力相当的另一名球员
- C.球队目前的球员配置已经能够击败任何对手了
- D.购买一名球员的成本和收益并不匹配

29.某高校学术管理委员会表示，和去年相比，今年我校的学术成果有了明显的提高。该委员会主任认为，这是由于我校要求每名在校生毕业前发表一定数量的文章。

下列选择中国，最不能削弱主任结论的是（ ）。

- A.今年初，学校聘请了大量的外籍老师，对在校学生进行授课
- B.年初设定对老师的绩效考核指标时，学术成果所占比例变大
- C.学生对于发表文章这一政策颇有微词，感觉压力很大
- D.学校专门设立了各项学术基金，供老师和学生申请，对其科研活动进行支持

30.美国耶鲁大学的凯斯尔等人对“腺体热”（传染性单核白细胞增多症）在西点军校 1400 名学员中的传播情况作过研究。他们发现，200 多名发病者大多是志向远大但学业欠佳，他们的父辈又大多是社会公认的成功者。这就意味着：疾病的侵袭对象正是那些在军校生涯中心理压力最大的学员。

根据上述文字，下列选择中可以推出的是（ ）。

- A.学业欠佳的学员压力很大

B.社会公认成功者的父辈会给学员带来很大的压力

C.志向远大是学员压力增大的重要诱因

D.那些没有患“腺体热”的学员心理压力相对较小

31.对比降雨记录以及玛雅人的石刻记载，科学家发现，在公元440年到660年间的强降雨期，玛雅人口迅速膨胀，文明也普遍繁荣。这一时期之后则是一系列干旱，导致农业生产力的下降，并引发社会分裂和政治崩溃。研究人员认为，长期干旱导致了持续的环境和社会压力，抑制了人口扩张并导致了更多的敌对行为和战争，最终导致玛雅政治体制和文明崩解。

根据上述文字，下列选择中可以推出的是（ ）。

A.如果玛雅一直处于强降雨期，玛雅文明便不会崩解

B.如果玛雅人口持续迅速膨胀，那么发生战争的可能性就会小很多

C.如果玛雅的政治体制没有崩解，那么玛雅的文明也不会崩解

D.如果玛雅的文明持续繁荣，那么在气候上一定不是处于干旱期

32.通货膨胀指在纸币流通条件下，因货币供给大于货币实际需求，也即现实购买力大于产出供给，导致货币贬值，而引起的一段时间内物价持续而普遍地上涨现象。其实质是社会总需求大于社会总供给。纸币、含金量低的铸币、信用货币，过度发行都会导致通胀。

根据上述文字，下列选择中可以推出的是（ ）。

A.如果物价一直维持在一个稳定水平，那么货币也一定是坚挺的

B.纸币过度发行是造成通货膨胀的根本原因

C.大量发行期货将不会导致通货膨胀

D.如果物价持续上涨，一定是发生了通货膨胀

33.刘明是一名现代五项选手，周一到周五，他将按照一定的顺序训练射击（白）、击剑（黄）、马术（红）、游泳（蓝）和跑步（绿）五个项目。条件是：

(1) 训练马术前不会训练击剑；

(2) 训练游泳后的第二天一定是训练跑步；

(3) 训练击剑后才会训练射击。

根据以上条件，刘明的训练顺序可以是（ ）。

A.马术，射击，游泳，跑步，击剑

B.击剑，马术，游泳，跑步，射击

C.马术，击剑，游泳，射击，跑步

D.马术，击剑，游泳，跑步，射击

34.在家电产品“三下乡”活动中，某销售公司的产品受到了农村居民的广泛欢迎。该公司总经理在介绍经验时表示：只有用最流行畅销的明星产品面对农村居民，才能获得他们的青睐。

以下哪项如果为真，最能质疑总经理的论述？（ ）

A.某品牌电视由于其较强的防潮能力，尽管不是明星产品，仍然获得了农村居民的青睐

B.流行畅销的明星产品由于价格偏高，没有赢得农村居民的青睐。

C.流行畅销的明星产品只有质量过硬，才能获得农村居民的青睐。

D.有少数娱乐明星为某些流行畅销的产品作虚假广告。

35.葡萄酒中含有白藜芦醇和类黄酮等对心脏有益的抗氧化剂。一项新研究表明，白藜芦醇能防止骨质疏松和肌肉萎缩。由此，有关研究人员推断，那些长时间在国际空间站或宇宙飞船上的宇航员或许可以补充一下白藜芦醇。

以下哪项如果为真，最能支持上述研究人员的推断？（ ）

A.研究人员发现由于残疾或者其他因素而很少活动的人会比经常活动的人更容易出现骨质疏松和肌肉萎缩等这症状，如果能喝点葡萄酒，则可以获益。

B.研究人员模拟失重状态，对老鼠进行试验，一个对照组未接受任何特殊处理，另一组则每天服用白藜芦醇。结果对照组的老鼠骨头和肌肉的密度都降低了，而服用白藜芦醇的一组则没有出现这些症状。

C.研究人员发现由于残疾或者其他因素而很少活动的人，如果每天服用一定量的白藜芦醇，则可以改善骨质疏松和肌肉萎缩等症状。

D.研究人员发现，葡萄酒能对抗失重所造成的负面影响。

36.张明、李斯、刘强要代表单位参加保龄球、羽毛球、乒乓球的比赛，已知，每人只能参加一种比赛，刘强的比赛时间和乒乓球的比赛时间是相同的，刘强和参加羽毛球比赛的是同一个部门的，张明和参加羽毛球比赛的人是同乡。

根据上述信息，可以得出的李斯参加的比赛是（ ）。

A.羽毛球

B.乒乓球

C.保龄球

D.推不出

37.无人机作为一种新型遥感监测平台，飞行操作智能化程度高，可按预定航线自主飞行、摄像，实时提供遥感监测数据和低空视频监控，具有机动性强、便捷、成本低等特点。开展海域无人机遥感监视监测试点，使无人机遥感监视监测技术与现有海域监视监测技术手段有机结合，进一步丰富和完善了国家海域动态监视监测管理系统，提高了对重点海域和重点项目的动态监管水平，增强了海域综合管控能力。

根据上述信息，可以推出以下哪项为真？（ ）

- A.无人机遥感监测平台提高了我国的海域综合管控能力
- B.智能化操作程序控制的无人机将取代人工驾驶的飞机进行海域的监测
- C.无人机进行海域的监测，成本较人工驾驶的飞机成本低很多
- D.无人机是将来航空发展的必然趋势

38.河南开封千亿“再造汴京”的新闻令舆论哗然，而据媒体报道，在山西大同，另一场声势浩大、耗资上百亿元的古城再造计划早在 2008 年就已展开。前些年一些地方先人一步，通过古城项目开发旅游资源，带动了当地的经济。于是很多城市都跟风效仿，造古城运动，遍地开花，希望通过古城旅游带动当地经济发展。

以下哪项最能对这种造古城风气提出质疑？（ ）

- A.游客更倾向于自然的生态旅游，对人造景点没有太大的兴趣
- B.若干年前一窝蜂的主题公园，现在只有 10%能够盈利
- C.河南中牟县的官渡古战场遗址，2000 万打造，现在已经一片荒芜
- D.各地都造古城，古城风格雷同，千篇一律

39.近日，网络上一条微博引发热议。“星巴克江沪浙”发布消息，称杭州灵隐门店即将迎客，网友纷纷转载并发表评论。顿时让许多网友不爽：中国传统文化的地段，怎么能有西方的文化介入，他们认为，这是西方文化对中国传统文化的侵蚀

以下哪项为真，最能削弱网友的观点？（ ）

- A.星巴克从故宫推出就是最好的证明，中国的传统文化不能被外来文化侵蚀
- B.中国文化的最大特点就是包容性，对外来文明永远展示足够的自信心
- C.一个咖啡店，仅仅是拿产品换利润的企业，没有必要拔高到“侵蚀中国文化”的高度
- D.在灵隐寺参观的时候最好喝中国的茶，这样才能更深刻的体会中国的传统文化

40.最近几年，用丑闻不断来形容乳业巨头蒙牛的境地是再恰当不过了。这些负面新闻在让蒙牛遭遇消费者空前信任危机的同时，也让企业和产品形象在公众心目中一落千丈。

也许是痛定思痛的结果，蒙牛于近日开始全面“换装”——旗下产品启用新包装，改换新形象。媒体则更愿意用“革面”来形容蒙牛的这次大换装，其背后的寓意和期待，一目了然。对此，蒙牛新任总裁孙伊萍也坦言，蒙牛发布的新形象、新理念不是单纯外在的视觉转变，而是蒙牛对企业使命和核心价值观的回归与重视。

据此可以推出（ ）。

- A.“革面”能够带来视觉的转换，但是“洗心”才能真正增强企业的责任感
- B.蒙牛对产品包装的改变不仅仅是外在的视觉转变，更是核心价值观的回归
- C.只要能够重新换装，就能够改变企业在公众心目中的形象
- D.危机公关处理的越迅速，越能够快速的挽救企业的形象

41.近来，“奢侈品+官员”成为网络热搜词。奢侈品，说白了，就是昂贵的非生活必需品，有其文化内涵和艺术价值，同时也迎合了少数人爱炫耀的心理。另据媒体报道，因奢侈穿戴频致贪官落马，有地方纪委已开始组织学习奢侈品知识，意在从奢侈品着手治理反腐。反腐从“奢”入手，不无道理。

以下哪项为真，最能支持上述结论？（ ）

- A.奢侈品价格昂贵，等于正常情况下一年甚至几年的收入
- B.奢侈品并非生活必需品
- C.奢侈品的特点是满足少数富人
- D.奢侈品彰显了生活的品质和格调

42.吃香蕉可维持体内的钠钾平衡和酸碱平衡，使神经肌肉保持正常、心肌收缩协调，所以每日吃3~5根香蕉，对高血压及心脑血管疾病的患者有益。

以下哪项为真，最能支持上述结论？（ ）

- A.高血压和心脑血管疾病患者体内往往“钠”多而“钾”少，而香蕉中含有丰富的钾离子
- B.钾离子有抑制钠离子收缩血管和损坏心血管的作用
- C.香蕉美味可口，能够缓解抑郁、心理不适等症状
- D.香蕉浑身都是宝，多吃香蕉对人体有益

43.爱美是永恒的话题，很多女生在减肥的时候，都喜欢少吃饭多吃香蕉，认为香蕉是减肥首选的优良食品。

以下哪项为真，最能支持上述观点？（ ）

- A.大象以香蕉为主食

B.香蕉中淀粉含量很高，吃很少就会产生饱腹感，不会产生过多的能量(能量食品)堆积

C.香甜、软滑的香蕉，不仅味美，而且具有很高的药用价值

D.香蕉中含有较多的镁元素，空腹吃香蕉会使人体中的镁骤然升高而破坏血液中的镁钙平衡，对心血管产生抑制作用，不利于身体健康

44.伦敦奥运会之后掀起游泳热，有一个班在体育选修项目上产生如下讨论

甲：我们全班都选修游泳项目了

乙：我们班有些同学没有选修游泳项目

丙：王宁选修了游泳项目

丁：如果王宁选修了游泳项目，那么全班女生都选修了游泳

后来发现只有一个人说的话是假的，以下哪项一定为真？（ ）

A.全班女生都选修了游泳课

B.全班同学都没有选修游泳课

C.王宁没有选修游泳课

D.全班同学都选修了游泳课

45.可以保持容许生命存在的液态水的法则是，行星要与太阳的距离合适，恰好在宜居带上。进行这项研究的阿伯丁大学博士生肖恩·麦克马洪说：“如果一个行星位于这个适宜区，即不是太热亦不太冷，那么在其表面上就可以有液态的水，因此它就是一个适合居住的星球。”

以下哪项和肖恩的论断是一致的？（ ）

A.行星表面没有液态的水，就说明行星没有位于宜居区

B.行星没有位于宜居区，就不会有液态的水

C.行星表面有液态的水，说明行星位于宜居区

D.行星位于宜居区，也不一定就有液态水

46.对育宏中学全校学生进行调查发现，用 iPhone 手机人数最多的班同时也是英语成绩最好的班。由此可见，用 iPhone 手机可以提高英语成绩。

以下哪项如果为真，最能加强上述结论？（ ）

A.喜欢用 iPhone 手机的同学学习自觉性都比较高

B.用 iPhone 手机的同学英语的学习热情较高

C.用 iPhone 手机的同学家庭条件较好

D.用 iPhone 手机人数最多的班上的同学更多地利用 iPhone 进行英语学习

47.扬弘公司所有乘地铁上班的员工都不迟到，因此，有些家在市区的扬弘公司的员工不乘地铁上班。

为使上述论证成立，下列哪项关于扬弘公司的断定是必须假设的？（ ）

A.乘地铁上班的员工家都不在市区

B.不迟到的员工都乘地铁上班

C.家在市区的员工上班都会迟到

D.有些家在市区的员工上班会迟到

48.在中国，只有喔时光连锁超市 24 小时营业。

如果上述断定为真，以下哪项不可能为真？（ ）

I.北京的喔时光连锁超市不是 24 小时营业

II.上海的漫步连锁超市 24 小时营业

III.广州的喔时光连锁超市节假日 24 小时营业

A.只有 I

B.只有 II

C. I 和 II

D. I、II 和 III

49.一个罪犯要作案，必须既有作案动机又有作案时间。李某有作案动机，但无作案时间，因此，李某不可能是作案的罪犯。

以下哪项推理的结构和题干最为类似？（ ）

A.如果天气晴朗并且不刮大风，公司组织去海边游玩。今天天气多云且风很大，所以，公司不会组织去海边

B.德才兼备是新录用公务员的必要条件。李明很有才但品德却有瑕疵，但是，他仍被破格录用为公务员

C.发放特殊津贴必须有超常业绩且工龄在 30 年以上。张某有超常业绩，但工龄只有 10 年，因此，张某没有获得特殊津贴

D.产品要想卖得好，必须具有良好的质量和售后服务。水星牌豆浆机卖得不错，产品本身的质量也很好，因此，它必定具有良好的售后服务

50.小明和小亮是同班同学，他们的女朋友分别是小红和小丽，每个人爱喝的饮料不同，分别是牛奶、橙汁、咖啡、椰子汁，餐厅的点餐的时候，他们的朋友对服务员说：小亮的



女朋友爱喝椰子汁，小亮不喜欢喝牛奶，小红的男朋友爱喝咖啡，小亮经常和爱喝咖啡的人去踢足球。

问，服务员依次给小亮、小明、小红、小丽端上饮料的方法哪种是正确的？（ ）

- A.橙汁、牛奶、咖啡、椰子汁
- B.咖啡、橙汁、牛奶、椰子汁
- C.橙汁、咖啡、牛奶、椰子汁
- D.牛奶、咖啡、椰子汁、橙汁

51.小陈参加了某外企的招工面试，不久，他得知以下消息：

- (1) 公司已决定，他与小段至少录用一人
- (2) 公司可能不录用他
- (3) 公司一定录用他
- (4) 公司决定录用小段

如果四条消息中两条为真，两条为假。则下列哪项判断为真？（ ）

- A.公司录用小陈，不录用小段
- B.公司不录用小陈，录用小段
- C.公司既录用小陈，也录用小段
- D.公司既不录用小陈，也不录用小段

52.在一项试验中，第一组被实验者摄取了大量的人造奶油，第二组则没有摄入奶油。结果发现，吃奶油的人比没有吃奶油的人认知能力低。这一实验说明，人造奶油所含的某种成分会影响人的认知能力。

以下哪项如果为真，最能支持上述结论？（ ）

- A.上述人造奶油所含的该种成分也存在于大多数日常食物中
- B.第一组被实验者摄取的奶油的数量没有超出卫生部门规定的安全范围
- C.两组被实验者的认知能力在试验前是相当的
- D.在上述试验中，第一组被试验者吃的奶油大大超出日常生活中奶油的摄入量

53.如果比较法学专业学生的数量，东北政法大学的学生数是华南政法大学学生数的 70%，如果比较学生总数量（法学专业学生加上非法学专业学生），则东北政法大学的学生数是华南政法大学学生数的 120%。

由此可知（ ）。

- A.东北政法大学比华南政法大学更注重教学质量

B.东北政法大学非法学专业学生数量所占总学生数的比例比华南政法大学的高

C.华南政法大学的非法学专业学生比法学院专业学生数多

D.东北政法大学的非法学专业学生数比华南政法大学的少

54.某市政府决定全面完善地铁线路，以大幅度地提高地铁的客运量，缓解沿线包括高速公路上机动车的拥堵。同时，该市政府又决定增收沿线两条主要高速公路的机动车过路费，以补贴完善地铁线路的费用。因为，机动车主是缓解拥堵后的直接受益者，应当承担部分开支。

下列哪项如果为真，最能质疑上述决定？（ ）

A.市政府无权支配全部高速公路机动车过路费收入

B.机动车有不同的档次，但收取的过路费区别不大

C.地铁乘客同样是上述改造的直接收益者，但并不承担开支

D.为躲避多交过路费，机动车会绕开收费站，增加普通公路的流量

55.销售部的员工或者对扑克感兴趣，或者对麻将感兴趣；如果对象棋感兴趣，则对麻将不感兴趣。老刘是销售部员工，对象棋感兴趣。

以下哪项为真，可以得出老刘对电玩感兴趣？（ ）

A.象棋和电玩比麻将更具有挑战性

B.销售部对扑克感兴趣的员工都对电玩感兴趣

C.销售部所有员工都对电玩感兴趣

D.销售部员工的兴趣只限于扑克、麻将、象棋、电玩

56.最近十年，甲国经济发展迅猛，为了降低基尼系数，甲国还制定了一系列扶贫政策，但数据显示，甲国位于扶贫标准以下的人口占总人口的比例已经由2002年的7.8%上升到了2012年的9.2%，这说明甲国的扶贫事业并没有取得应有的进展。

以下哪项如果为真，最能削弱上述结论？（ ）

A.最近十年，大量移民涌入甲国，甲国人口增加了21%

B.2008年甲国遭遇了金融危机，该年GDP相比上年有所下降

C.最近十年，尽管甲国经济发展迅猛，但其通货膨胀率非常高

D.甲国每年均更新扶贫标准，最近的标准比2002年的绝对数高一倍

57.陨石是太阳系中最古老的物质之一，它们的化学组成包含有数十亿年前太阳系初生时的信息。近日，英国科学家发现富含铁的陨石在坠落地球之后一旦和酸性水体接触，会

形成磷酸盐。随后，在超过 80 度的温度环境下，磷酸盐会转变为焦磷酸盐。据此，该英国科学家认为，来自地外的物质为地球上出现的第一个细胞提供了能量。

以下哪项为真，最能加强上述结论？（ ）

- A. 美国科学家在过去 14 年里曾 3 次宣称从陨石样本中发现外星生命的微化石
- B. 焦磷酸盐是 ATP 的前身，而 ATP 是地球上所有生物细胞进行生命活动的动力
- C. 科学界普遍认为，地球适宜的气候有利于生命进行独立的进化
- D. 地球早期的环境特点是比较现在温度高，并且酸性强

58. 肉毒杆菌 A 型毒素（肉毒毒素）是由肉毒杆菌分泌的一种神经毒素，毒性极强，临床中常用来治疗慢性偏头痛。不过，研究人员认为肉毒毒素仅对缓解慢性偏头痛有疗效，即适合一个月中至少 15 天出现头痛症状的患者，但对间歇性偏头痛却没有效果。

以下哪项如果为真，最能支持研究人员的观点？（ ）

- A. 肉毒毒素治疗慢性偏头痛的副作用较小，但还需在医生建议下视情况使用
- B. 研究人员对 150 个间歇性偏头痛进行了肉毒毒素治疗，多数人都无法治愈，少数治愈的人还采用了其他疗法
- C. 目前临床上多采用氯丙嗪来治疗间歇性偏头痛，疗效很好
- D. 肉毒毒素治疗慢性偏头痛的效果也比其他药物疗效差

59. 自 2012 年 7 月 1 日起，我国除西藏和新疆以外的 29 个省(区、市)将实行居民阶梯电价。所谓阶梯式电价主要内容是：第一阶梯为基数电量，此阶梯内电量较少，电价也较低；第二阶梯电量较高，电价也较高一些；第三阶梯电量更多，电价更高。随着户均消费电量的增长，每千瓦时电价逐级递增。有人认为，与统一定价相比，实行阶梯电价有利于节能减排。

为使得上述结论成立，以下除了哪项都必须是真的？（ ）

- A. 第二、三阶梯的电价足以对浪费用电的用户产生经济压力
- B. 有一定数量的居民用电量能达到第二、三阶梯
- C. 阶梯电价的分阶标准应当按人计算，而不能按户计算
- D. 有相当数量的用电浪费现象是因为电价偏低造成的

60. 如果小王和小张去听音乐剧，那么小李和小钱就去看电影。

以下哪项为真，可以得到“小张不去听音乐剧”的结论？（ ）

- A. 小钱不去看电影，并且小王去听音乐剧
- B. 小李去看电影，并且小王去听音乐剧

C.小李不去看电影，并且小王没去听音乐剧

D.小李和小钱都不去看电影

61.记者昨日从广州医学院第二附属医院获悉，连日来备受关注的恙虫病日前再夺一命，死亡的是一名阿婆。和前两个死亡病例相似，三位死亡病例都是 70 多岁，发病前同样去过晓港公园，入院时已经连续发烧多日，病情严重，最终于上周五因多器官衰竭死亡。因此恙虫目前只存在于晓港公园，并且恙虫的只攻击上了年纪的老人。

以下各项，除了哪项都能削弱上述结论？（ ）

A.除了已经死亡的病例之外，还有两名恙虫叮咬的患者已经从重症监护区转移到普通病房

B.有另外两名患者已经病愈出院，但是他们发病之前都没有去过晓港公园

C.已经发现的其他两位患者都是中年人

D.恙虫行动缓慢，年轻人能够轻易的躲开它的攻击

62.纸制家具已步入普通家庭，受到消费者青睐。近两年纸制家具开始进入国内市场，成为沿海城市一些家庭的新宠，并被广泛用于街道、公园、游泳馆等场所，有渐成流行的趋势。环保纸家具的优势：纸的价钱非常便宜，纸制家具的价格也非常便宜，售价仅为普通木制家具的 1/3；回收率高，可 100%地循环再生产；随着国内住房水平的提高，越来越多的独生子女拥有自己的空间，因此环保纸家具必定会在国内独领风骚，占据大部分的家具类市场。

以下哪项如果为真，最能够削弱上述结论？（ ）

A.纸家具目前来说，销售量在不断的增加

B.纸家具回收率高，是因为容易损坏

C.目前，购买纸家具的都是刚工作的年轻人，木质家具的价格对他们来说太过昂贵

D.纸家具容易受潮，对使用者来说是一个难题

63.根据深圳警方就事故发布的通报，5月26日凌晨3时，深圳市滨海大道侨城东路段发生一起重大交通事故，一辆GTR跑车与同方向行驶的两辆出租车发生碰撞。比亚迪E6电动出租车在被GTR跑车撞击后爆炸起火。E6出租车内的司机和两名乘客在事故中死亡。5月28日，比亚迪A股在开盘后暴跌，一度跌至21.94元/股的跌停价位，截至收盘，比亚迪收报23.75元/股，下跌2.58%，成交金额由前一交易日的4990万元增至1.45亿元，换手率为7.95%。专家认为，比亚迪A股跌停板是因为深圳的交通事故中比亚迪电动车的爆炸。

以下哪项为真，最能够支持专家的看法？（ ）

A. 比亚迪此前一直对生产的电动车颇有信心，多次对媒体表示，电动车遇水不会漏电，碰撞后也不会爆炸

B. 纯电动的最大问题在于锂离子的不稳定性，高速碰撞之后容易发生爆炸

C. 蝴蝶效应，一件普通的交通事故，能够引发大家对公司的不信任，最终导致股票下跌

D. 比亚迪出租车在燃烧后只剩下车架。警方消息显示，另一辆出租车侧翻，司机无大碍

64. 针对国际航协称中国是航油价格“全球最高”的说法，首度发布企业社会责任报告的中航油回应表示，国内七成机场航油供应业务处于亏损状态。以东补西、以大（机场）补小（机场）成为保障全国航油供应稳定的重要原则，这也在客观上造成航班量集中的主要机场航油价格相对于国外同类机场明显偏高。

以下哪项为真，最能支持企业社会责任报告的说法？（ ）

A. 小机场由于地处偏远，航油定价过高，会影响航空公司的经营，因此航油价格低于成本价，主要靠大机场的航油利润补贴

B. 中航油集团董事长孙立表示，中国航油价格并非全球最高，只能说中等偏上水平

C. 蒙古等国家航油价格远高于中国

D. 中国航油并没有把价格上涨的压力转嫁给航空公司

65. P省为保护该省的省级重点文物保护单位，投入了大量资金，但还是捉襟见肘，资金的缺口比较大，其实P省完全可以借鉴Q省的先进经验，Q省将许多本省的重点文物保护单位开发为了旅游景点，通过销售门票等获得了大量的收入。

以下哪项如果为真，将严重削弱上述结论？（ ）

A. Q省将该省的重点文物保护单位开发成旅游景点后，人满为患，破坏了部分文物

B. Q省通过销售门票等获得的收入还是不足以弥补保护文物资金的不足

C. Q省的省级重点文物保护单位主要为古建筑，而P省的省级重点文物保护单位主要为古墓葬

D. Q省的通过销售门票等获得了大量的收入主要上缴当地财政，再由当地财政划拨专项资金用于保护文物

66. 某中学规定，本次期末数学考试采取有人监考和无人监考两种方式，如果实行有人监考被监考老师当场发现作弊的，直接记为0分；当然如果某班的全体学生都同意，就可

以实行无人监考。但是，假如实行无人监考后，事后只要这个班里有一人被认定为作弊，那么这个班所有的学生的数学成绩均记为0分。事后发现，这个班有的学生数学考了80分，有的学生得了0分。

下列说法中正确的是（ ）。

- A.如果该班实行的有人监考，那么一定有学生被监考老师当场发现作弊
- B.如果该班实行的是无人监考，那么可能有学生事后被认定为作弊
- C.如果该班全体学生都同意实行无人监考，那么就不可能有人事后被认定为作弊
- D.该班有学生不同意实行无人监考

67.四个盒子里分别存放着直尺、三角板、量角器和圆规，甲、乙、丙三人对此做了猜测，甲说：“第一个盒子里放的是圆规，第二个盒子里放的是直尺”，乙说：“第三个盒子里放的是量角器，第四个盒子里放的是三角板”；丙说：“第二个盒子里放的是直尺，第三个盒子里放的是圆规”。实际上，三人中一人全猜对了，一人全猜错了，一人猜对了一半。

则下列哪项一定是真的？（ ）

- A.第一个盒子里放的是三角板
- B.第二个盒子里放的是直尺
- C.第三个盒子里放的是三角板
- D.A、B、C项均不确定为真

68.某公司研究出了新型微波炉，该微波炉与旧款相比，价格一样，但加热效果更好，能够让食物熟的更快更透。可是销售一段时间后，发现新型微波炉的销售情况并不好，甚至还不如旧款式。

以下哪项如果为真，最不可能造成以上结果？（ ）

- A.多数消费者还不知道该公司出了一款新型微波炉
- B.消费者通常认为，只有加热久了才可能让食物熟的透
- C.最近媒体报道了一些微波炉烹饪食品致病的事件
- D.由于商家担心消费者一窝蜂购买新型微波炉后造成旧款微波炉积压，最近对旧款微波炉采取了一系列促销措施

69.随着全民健身运动的兴起，自行车骑行爱好者也越来越多，同时，许多自行车俱乐部也就应运而生，这些自行车俱乐部常常会组织一些骑行活动，但是在这些骑行活动中时常也会发生交通事故、各种意外造成的一些伤亡事件，并且这些自行车俱乐部大多未在相关的部门进行注册。因此，参加经过注册的自行车俱乐部组织的活动更加安全。

下列哪项成立，最能削弱上述论点？（ ）。

A.相关部门要求自行车俱乐部进行注册的目的主要是方便管理，对俱乐部组织骑行活动并不会进行干涉

B.未注册的自行车俱乐部的组织者组织骑行活动时，会考虑到各种安全因素

C.注册过的自行车俱乐部组织的骑行活动偶尔也会发生交通事故

D.自行车骑行活动本身充满着一定的危险性，自行车与机动车相比非常弱势

70.志成公司王经理确实是个销售能手。他在汽车销售部刚刚呆了一个月，该公司的汽车销量竟比上个月翻了一番。

以下哪项为真，最能削弱上述论证？（ ）

A.王经理上任后，制订了一系列的激励措施，员工个个都干劲十足

B.志成公司所在的城市下月起要实行摇号购车了，所以大家都疯狂抢购

C.上个月志成公司的销量所占的市场份额也上升了不少

D.王经理之前在其他公司做销售经理的时候业务能力很一般

71.桌子：椅子（ ）

A.荷叶：荷花

B.芝麻：绿豆

C.韭菜：饺子

D.杨树：柳树

72.股民：农民（ ）

A.居民：人民

B.彩票：彩民

C.党员：团员

D.医师：教师

73.手机：电话：辐射（ ）

A.电视：电脑：屏幕

B.空调：冰箱：压缩机

C.火车：地铁：噪声

D.潜艇：导弹：推进器

74.高瞻远瞩：鼠目寸光（ ）

A.一蹴而就：当机立断

- B.坐进观天：顾全大局  
C.爱不释手：弃若敝履  
D.不求甚解：囫囵吞枣
- 75.地基：高楼（ ）  
A.电：灯亮  
B.血液：红细胞  
C.光合作用：阳光  
D.手术：消毒
- 76.经济基础：上层建筑（ ）  
A.思想：行动  
B.知识：命运  
C.生命高度：生命广度  
D.物质：意识
- 77.悲伤：喜悦（ ）  
A.白天：黑夜  
B.绿叶：红花  
C.阳春白雪：下里巴人  
D.高山仰止：如履平地
- 78.保质期：时间（ ）  
A.战斗力：兵力  
B.倦怠感：压力  
C.自尊心：自信  
D.生命线：长短
- 79.钢笔：写字：墨水（ ）  
A.中药：口服：黄连  
B.柜子：储物：衣服  
C.轿车：交通：乘客  
D.键盘：按键：零件
- 80.网络：信息：流言（ ）  
A.公路：运输：车祸



B.空气：声音：噪音

C.广告：商品：虚假

D.学校：教育：人才

81.智慧：聪明（ ）

A.气魄：气势

B.垂头丧气：不由自主

C.精致：精锐

D.凝结：溶解

82.的士高：迪斯科：disco（ ）

A.初中：国中：middle school

B.二胡：民乐：erhu

C.宾士：奔驰：Benz

D.出租汽车：计程车：tax

83.交警：违章：罚单（ ）

A.士兵：违令：降级

B.客户：违约：违约金

C.裁判：违规：黄牌

D.小偷：违法：拘留

84.（ ）对于衣服相当于粮食对于（ ）

A.石油——酒精

B.御寒——充饥

C.工业——农业

D.创造——自然

85.（ ）对于好莱坞相当于瓷器对于（ ）

A.华尔街——丝绸

B.哥伦布——郑和

C.电影——景德镇

D.大本钟——大象

86.入狱：打架：伤人（ ）

A.求见：慕名：获益

- B.求婚：恋爱：遭拒  
C.商场：逛街：购物  
D.治疗：中毒：瘫痪
- 87.雪花：水（ ）  
A.雾：风  
B.曹雪芹：曹霑  
C.金刚石：石墨  
D.黄河：河流
- 88.泰山：华山（ ）  
A.手机：三星  
B.电脑：平板电脑  
C.苹果：树  
D.汾河：渭河
- 89.釜底抽薪：扬汤止沸（ ）  
A.鬼斧神工：巧夺天工  
B.群策群力：孤掌难鸣  
C.翻来覆去：废寝忘食  
D.精力充沛：全神贯注
- 90.悔过自新：执迷不悟（ ）  
A.一丝不苟：粗心大意  
B.狂风恶浪：触目惊心  
C.冷冷清清：普普通通  
D.厚此薄彼：虎头蛇尾
- 91.夸耀：炫耀（ ）  
A.富裕：奢侈  
B.嘲笑：讥笑  
C.危机：立刻  
D.迷茫：辩解
- 92.旅游：驾车：假日（ ）  
A.出海：乘船：晴天

B.上网：电脑：公司

C.歌剧：买票：影院

D.翻地：农用车：农民

93. 圆明园：八国联军：义和团（ ）

A. 钱包：小偷：警察

B. 抢劫：土匪：英雄

C. 课本：学生：老师

D. 货单：售货员：顾客

94. （ ） 对于 举目眺望 相当于 手舞足蹈 对于 （ ）

A. 瞪眼竖眉——闻风而逃

B. 东张西望——蹑手蹑脚

C. 喜出望外——匍匐前进

D. 望眼欲穿——昂首阔步

95. （ ） 对于 目标 相当于 努力 对于 （ ）

A. 工作——信心

B. 计划——喜爱

C. 行动——成功

D. 前进——奋斗

96. 隐名股东是指为了规避法律或出于其他原因，借用他人名义设立公司或者以他人名义出资，但在公司的章程、股东名册和工商登记中却记载为他人的出资人。与此相对应，显名股东（或挂名股东）是指记载于工商登记资料上而没有实际出资的股东。

以下哪个选项符合隐名股东的定义？（ ）

A. 某公司董事长个人投资了一家同行业公司，该公司用他妹夫的名义注册

B. 老刘是 A 公司的出资人，他也是该公司的法人代表

C. 小李大学毕业之后自己创业，找到了一些风险投资

D. 孙某和大学同学一起筹资开了一家餐厅，生意很兴隆，他们按当初的投资股份分红

97. 阿伦森效应是指人们最喜欢那些对自己的喜欢、奖励、赞扬不断增加的人或物，最不喜欢那些显得不断减少的人或物，指随着奖励减少而导致态度逐渐消极，随着奖励增加而导致态度逐渐积极的心理现象。

以下哪项符合阿伦森效应？（ ）

A.一位老大爷给小区里乱喊乱叫的孩子每天奖励 5 块糖果，一段时间之后取消奖励，孩子们纷纷回家玩耍，没有人在小区里乱喊乱叫

B.小王工作后积极表现，希望能够给领导和同事留下非常好的印象，一段时间之后，他的积极性有所下降

C.小李对在自己车顶上乱蹦的孩子采取奖励，如果谁带头制止这种行为，就奖励玩具手枪

D.领导决定奖励刚入职的小张，因为他在工作中表现出色

98.暗示效应是指在无对抗的条件下，用含蓄、抽象诱导的间接方法对人们的心理和行为产生影响，从而诱导人们按照一定的方式去行动或接受一定的意见，使其思想、行为与暗示者期望的目标相符合。

以下哪个选项符合暗示效应？（ ）

A.王经理对下属提前完成季度绩效提出表扬

B.班主任针对学生的某一缺点，针对性的选择电影、电视、文学作品等，并同学生边看边议论

C.小李本次期末考试成绩下滑，班主任老师找他谈话

D.出租车司机赵师傅将乘客遗落的财务归还，施主表达谢意，付给赵师傅五百元

99.安泰效应是说：安泰是古希腊神话中的大力神，他力大无穷，无往不胜。因为他只要靠在大地上，就能从大地母亲那里汲取无穷的力量。他的对手发现了这个秘密，便诱使他离开地面，在空中杀死了他。因此，要学会依靠大家、依靠集体。

以下哪项不符合安泰效应？（ ）

A.众人划桨开大船

B.独木不成林

C.柳暗花明又一村

D.孤掌难鸣

100.安慰剂效应，所谓安慰剂，是指既无药效、又无毒副作用的中性物质构成的、形似药的制剂。安慰剂多由葡萄糖、淀粉等无药理作用的惰性物质构成。安慰剂对那些渴求治疗、对医务人员充分信任的病人能产生良好的积极反应，出现希望达到的药效，这种反应就称为安慰剂效应。使用安慰剂时容易出现相应的心理和生理反应的人，称为“安慰剂反应者”。这种人的特点是：好与人交往、有依赖性、易受暗示、自信心不足，经常注意自身的各种生理变化和不适感，有疑病倾向和神经质。

以下哪项案例符合安慰剂效应？（ ）

- A.一些牙病病人去牙医诊所就会觉得症状减轻
- B.给一些高血压患者服用一种不能降压的药，但是告诉他们是有疗效的新药，结果患者血压下降了
- C.老师找成绩不好的学生谈话之后，他们成绩明显提高了
- D.很多患者就医对于医生开的处方非常信任

101.化归是指在解决问题的过程中不直接解决原问题，而是对问题进行变形、转化，直至把它变为某些已经解决的问题，或容易解决的问题。再通过这些问题的求解，把解得结果作用于原有问题，从而使原有问题得解。

根据上述定义，以下不属于化归的是（ ）。

- A.解一元二次方程时，先通过因式分解将其化为一元一次方程，再进行解决
- B.计算多边形面积时，将多边形划分为若干个三角形，再通过加和三角形求解
- C.在解决解析几何题目时，通过建立坐标系将其转化为代数问题解决
- D.在解决相遇问题应用题时，通过画图法来将抽象的文字描述化为直观的图画来解决

102.单位受贿罪，是国家机关、国有公司、企业、事业单位、人民团体，索取、非法收受他人财物，为他人谋取利益，情节严重，或者在经济往来中，在帐外暗中收受各种名义的回扣手续费的行为。

根据上述定义，以下属于单位受贿罪的是（ ）。

- A.某地红十字会工作人员以慈善的名义募集善款，并将善款用于个人投资获利
- B.某公务员命题组成员收取考生所送钱财，将面试题透露给此考生
- C.某房地产开发公司将一工程项目发包给某建筑公司，并多收取十万元用作员工奖
- D.某保险公司通过销售理财产品从客户处募集资金，再将资金投资于国际股市并将获得的利益以红利模式发给客户

103.差异化战略是指将公司提供的产品或服务差异化，形成一些在全产业范围中具有独特性的东西。实现差异化战略可以体现在设计或品牌形象、技术特点、外观特点、客户服务等方面。

根据上述定义，以下属于差异化战略的是（ ）。

- A.某家电公司首推出“365日不间断”服务制度，产品服务处于行业领军地位
- B.某工厂通过偷工减料降低了产品成本，以低价策略提高了产品的销量
- C.国内某服装厂从网上寻找韩国最新流行的衣服款式设计，制作出同款服装售卖

D.某饮料公司对不同口味的饮料采取不同颜色的包装，便于消费者辨别

104.行政效能是指行政主体在实施行政行为时，以较小的行政资源投入来实现最佳的行政工作目标，达到资源配置的最优状态。效能是指事物所蕴藏的有利的作用。行政效能所指的“事物”是指行政组织结构、行政行为和相关制度的集合。

根据上述定义，以下哪项不能提高行政效能？（ ）

- A.机关部门制定奖惩制度，治理部分工作人员“慵懒散”问题
- B.新任公务员通过参加初任培训以尽快适应岗位要求
- C.工商部门建立企业注册登记“一表通”，简化企业办事步骤
- D.贫困县修建豪华的县政府大楼，以提升县政府的形象

105.转移支付又称无偿支出，主要是指为解决财政失衡而通过一定的形式和途径转移财政资金的活动，体现的是非市场性的分配关系。

根据上述定义，以下属于转移支付的是（ ）。

- A.父母给孩子的压岁钱
- B.学校发给困难学生的助学金
- C.商业保险公司为客户报销的医药费
- D.商场搞促销返还的礼金券

106.深度营销，是指以企业和顾客之间的深度沟通、认同为目标，从关心人的显性需求转向关心人的隐性需求的一种新型的、互动的、更加人性化的营销新模式、新观念。

根据上述定义，以下不属于深度营销的是（ ）。

- A.某饮料公司将新推出的果汁向顾客进行免费赠饮，并调查的他们的偏好、口味及评价，以此决定是否将此种饮料推向市场
- B.某家教公司对所有服务过的学生都建立了学生学习档案，并制定出个性化学习方案
- C.某数码产品公司在网站上开辟一个论坛，企业派专人负责，与顾客进行双向交流，倾听顾客对企业的意见、建议
- D.某家电公司推出家电“以旧换新”的促销策略，顾客在购买新家电时可以将旧家电当做现金使用

107.幻想是与个人生活愿望相联系并指向未来的想象，它体现了个人的憧憬或寄托，且不与当前的行动直接联系而指向于未来。

根据上述定义，以下属于幻想的是（ ）。

- A.小王读书时在脑子勾画出神话故事中凤凰的形象

- B. 建筑设计师小张一边画图纸一边在脑中想象建筑的样子
- C. 即将应聘教师岗位的小李在脑中想象自己站在讲台上讲课的情景
- D. 小方重游泰山时想起自己上次与父母一起来游玩的场景

108. 企业战略联盟是两个或两个以上的经济实体（一般指企业，如果企业间的某些部门达成联盟关系，也适用此定义）为了实现特定的战略目标而采取的共担风险、共享利益的长期联合与合作协议。

根据上述定义，下列属于企业战略联盟的是（ ）。

- A. 某人将自己的专利授权某工厂长期使用，所得利润按协议分配
- B. 某建材厂和某建筑公司签订合同，长期以优惠价格向该公司提供优质建材
- C. 某中学与某师范大学达成协议，该系每年的应届毕业生都可以前去实习
- D. 某手机制造商和某软件开发公司达成合作协议共同研发手机具有竞争力的智能手机

109. 生态承载力指一定条件下生态系统为人类活动和生物生存所能持续提供的最大生态服务能力，特别是资源与环境的最大供容能力。

根据上述定义，以下哪项不属于生态承载力？（ ）

- A. 政府规定每平方海里的海域能够捕捞鱼类的质量
- B. 政府规定不同规格的校车最多能承载的人员数量
- C. 政府将某块区域划定为空气污染控制区，限制工厂排出的废气量
- D. 某自然保护区规定，每天进入景区的旅游人数不得超过 1000 人

110. 医疗纠纷是指发生在医疗卫生、预防保健、医学美容等具有合法资质的医疗企事业法人或机构中，一方（或多方）当事人认为另一方（或多方）当事人在提供医疗服务或履行法定义务和约定义务时存在过失，造成实际损害后果，应当承担违约责任或侵权责任，但双方（或多方）当事人对所争议事实认识不同、相互争执、各执己见的情形。

根据上述定义，以下属于医疗纠纷的是（ ）。

- A. 孙某在某整容医院整容后对整出来的样子不满意，认为是医生技术不够所导致要求退款，主刀医生则认为孙某故意挑剔，拒绝退款
- B. 张某出现交通意外，撞人者驾车逃逸，周围群众将其送至医院急诊时因凑不齐医疗费，医院拒绝收治该病人，为此群众与医院发生冲突
- C. 实习医生小黄在抢救病人时由于经验不足擅自盲目处理，险些造成病人生命危机，幸亏其抢救及时，病人才脱离危险。事后小黄向病人道歉，病人没有追究其责任。

D.小于患胃癌后住院治疗，医生建议手术治疗，小于的家人则坚持要保守治疗，双方争执不下，难以达成一致

111.不当得利是指没有合法根据，或事后丧失了合法根据而被确认为是因致他人遭受损失而获得的利益。取得利益的人称受益人，遭受损害的人称受害人。不当得利的取得，不是由于受益人针对受害人而为的违法行为；而是由于受害人或第三人的疏忽、误解或过错所造成的。

根据上述定义，下列哪项不属于不当得利？（ ）

- A.刘某的银行卡里莫名的多出了2万元钱，刘某异常高兴，将其占为己有
- B.小张在王某的外墙上，张贴“房屋租赁”广告
- C.小王在回家的路上捡到了100元钱，他在原地等了好久，仍不见施主认领，使用这100元钱买了零食
- D.会计小陈利用公司系统漏洞，私自挪用资金100万，并占为己有

112.光的反射是一种光学现象，指光在传播到不同物质时，在分界面上改变传播方向又返回原来物质中的现象。

根据上述定义，下列哪种生活现象不涉及光的反射？（ ）

- A.海市蜃楼现象
- B.在镜子中看到自己
- C.登山运动员容易得雪盲
- D.室内刷白石灰对眼睛不好

113.相符行为是指个人的行为与他人的行为和意志相符合、一致或相似的现象。相符行为通常包括三种情况：第一，人们出于适应社会生活环境的需要而遵守共同的社会规范，产生相似行为，以便使社会生活能正常进行；第二，相似的文化背景和社会化过程促使人们产生相似的行为，第三，人际交往中双方心理的相互影响，也导致相符行为。

根据上述定义，下列选项不属于相符行为的是（ ）。

- A.某高校毕业生大多愿意到大型国有企业工作
- B.双胞胎失散多年，但见面时仍可以一眼认出
- C.两辆汽车在闹市区刮擦，路上行人驻足围观
- D.某设计院建筑师设计的作品都有相似的风格



114.低碳经济是指在可持续发展理念指导下，通过技术创新、制度创新、产业转型、新能源开发等多种手段，尽可能地减少煤炭、石油等高碳能源消耗，减少温室气体排放，达到社会经济发展与生态环境保护双赢的一种经济发展形态。

根据上述定义，下列不符合低碳经济理念的是（ ）。

- A.某小区住房都安装了太阳能电池板
- B.某粮油食品公司大力推广绿色食品
- C.某空调公司引进了低能耗空调生产线
- D.在荒山、滩头、草甸兴建风力发电站

115.消极心态是指个体因受自身或外在因素影响，而不满意于自身条件或能力，进而造成信心的缺失，而在社会生活中逐渐形成的、又进而对人的社会生活产生消极影响的消极心理状态。

根据上述定义，下列哪项不涉及消极心态？（ ）

- A.小王常常因为身体肥胖产生自卑感，很少与人交流
- B.小张大学毕业后进入公司工作，屡屡完不成领导交代的任务，当领导再交给他任务时，小张总是以有别的事情要忙而拒绝接受新的任务
- C.老李由于身体原因，做事经常感到力不从心
- D.小陈一直担心自己性格内向而通不过面试，结果在面试时他特别紧张，因而被淘汰

116.在自然界，一株植物单独生长时，往往长势不旺，没有生机，甚至枯萎衰败，而当众多植物一起生长时，却能郁郁葱葱，挺拔茂盛，人们把这种植物中这种相互影响、相互促进的现象称之为“共生效应”。共生就是两者相互利用，同时有利于双方发展的现象，这种情况应不仅限于自然界，人类社会也会有。

根据上述定义，以下哪项属于共生效应？（ ）

- A.小丑鱼会带来食物与海葵共享；而当小丑鱼遇到危险时，海葵会用自己的身体把它包裹起来，保护小丑鱼
- B.班长组织全班同学去爬山，班里同学都积极响应
- C.鳄鱼生性凶残，经常袭击人畜达到果腹的目的
- D.印度犀牛视觉不好，听觉也不灵敏，自己难以发现险情

117.所谓棘轮效应，又称制轮作用，是指人的消费习惯形成之后有不可逆性，即易于向上调整，而难于向下调整。尤其是在短期内消费是不可逆的，其习惯效应较大。这种习惯效应，使消费取决于相对收入，即相对于自己过去的高峰收入。

根据上述定义，以下哪项不属于棘轮效应？（ ）

A.猪肉禽蛋等原材料价格下降了，但是相应的制成品如牛肉拉面、肯德基、方便面以及饭店的价格不会相应地下降

B.由俭入奢易，由奢入俭难

C.比尔盖茨为了不让自己的孩子沾染上奢侈的习惯，决定将巨额财产用于慈善事业，只给儿女留下几百万的财产

D.汽油价格上涨之后，出租车价格上涨，但是油价下调之后，出租车价格并不会下调

118.暗示效应是指在无对抗的条件下，用含蓄、抽象诱导的间接方法对人们的心理和行为产生影响，从而诱导人们按照一定的方式去行动或接受一定的意见，使其思想、行为与暗示者期望的目标相符合。

根据上述定义，以下哪项属于暗示效应？（ ）

A.班主任在课后批评小李，上课总走神

B.张经理在项目晚上后举行部门庆功宴，在酒会上对大家的表现做了表扬

C.部门经理请小李吃饭，点了“炒鱿鱼”的菜，小李之后辞职

D.老张的儿子考上了清华大学，他高兴地大摆筵席

119.比马龙效应是指评价主体低估被评价者能力，认定被评价者是不求上进的、行为差劲的，以致被评价者将这种观念内化，促使被评价者表现不良行为。

根据上述定义，以下哪项属于比马龙效应？（ ）

A.上高中的小明喜欢研究编程语言，被父母批评为不务正业

B.小李期末考试成绩不佳，班主任老师说他不求上进

C.班主任老师认为小王做题不求甚解，多次批评，小王成绩越来越差

D.经理多次批评新入职的小赵做事不认真，月底总结的时候又批评了一次

120.“布里丹毛驴效应”是指在决策过程中对两种或两种以上的选择左右摇摆、犹豫不定、迟疑不决的现象。

根据上述定义，以下哪项属于布里丹毛驴效应？（ ）

A.两只幼狼被两个孩子抓住，母狼为了救小狼，在孩子的栖身的两棵树下来回奔波最终累死

B.发洪水时，一个农民的妻子和孩子同时被冲走，他当机立断抓住离自己最近的妻子先送回岸边

C.小明在回答论述题的时候，抓耳挠腮，感觉难以下笔

D.小李的高考作文，他在两种思路中选择了后者，拿到了作文满分

## 数资习题

1.6, 3, 3,  $9/2$ , 9, 22.5, ( )

A.43

B. $33/4$

C.36

D.67.5

2.1, 2, 3, 7, 16, ( )

A.65

B.79

C.48

D.96

3.3, 9, 12, 36, 7, 21, 31, ( )。

A.93

B.62

C.74

D.82

4.1, 3, 15, 35, 63, 99, ( )

A.178

B.234

C.143

D.291

5.110, 523, 422, 734, 633, ( )

A.164

B.283

C.312

D.971

6.1, 2, 6, 22, 86, ( )。

A.286

B.342

C.256

D.352

7.64, 32, 32, 48, 96, ( )。

A.176

B.192

C.216

D.240

8.15, 36, 19, 33, 23, 30, 27, ( )。

A.21

B.27

C.17

D.29

9.8, 24, 64, 160, ( )

A.265

B.324

C.200

D.384

10.1, 5, 3, 13, 37, ( )。

A.503

B.481

C.511

D.479

11.1, 2, 1, 6, 9, 10, ( )。

A.13

B.12

C.19

D.17

12.2, 3, 5, 14, 69, ( )

A.99

B.498

C.965

D.1517

13.10, 2, -2, -4, ( )

A.-2

B.-5

C.-6

D.-8

14. $\frac{3}{5}$ ,  $\frac{4}{7}$ ,  $\frac{7}{11}$ ,  $\frac{12}{17}$ ,  $\frac{19}{25}$ , ( )

A. $\frac{28}{35}$

B. $\frac{26}{35}$

C. $\frac{28}{37}$

D. $\frac{26}{37}$

15. $\frac{1}{2}$ ,  $\frac{1}{8}$ ,  $\frac{1}{24}$ ,  $\frac{1}{48}$ , ( )。

A. $\frac{1}{96}$

B. $\frac{1}{48}$

C. $\frac{1}{64}$

D. $\frac{1}{81}$

16. 张某原来的汽车百公里油耗 8L，2017 年张某的汽车共行驶了 10000 公里。2018 年 1 月 1 日张某购了一辆油电混合动力汽车，百公里油耗为 5L。2017 年汽油价格为 6.65 元/L，2018 年汽油价为 7 元/L，张某 2018 年如果花费和 2017 年同样的汽油钱可以比 2017 年多跑 ( ) 公里。

A.5200

B.5250

C.5400

D.15200

17. 现在是上午九点整，问大约再过多长时间，时针和分针正好重合？( )

A.55

B.49

C.59

D.46

18.供水管道某处发生破裂，裂口以一定速度向外涌水，涌出的水已经形成了一个水坑，供水公司需要将水坑里的水抽干才能修理坑底的管道，抽干这个水坑用 6 台抽水机需要抽 45 分钟，10 台抽水机需要抽 25 分钟，那么 16 台抽水机需要多少分钟？（ ）

A.10

B.15

C.16

D.20

19.某工厂每开工一天取得的收入大致相同，除每月的固定支出以外，其余为获得的利润。10 月份该工厂获得利润 725000 元。11 月份因环保问题，该工厂不得不停工 10 天，获得利润 450000 元。该工厂每月的固定支出为（ ）元。（该工厂节假日照常开工）

A.50000

B.150000

C.100000

D.25000

20.用 1、2、3、4 这四个数组成两个两位数，这两个两位数相乘最小的乘积是（ ）。

A.408

B.322

C.426

D.312

21.调查组长将 327 个调查任务分给五名组员，根据个人能力，每人分到的任务数各不相同，分到任务最少的人最多分到（ ）个调查任务。

A.64

B.63

C.65

D.66

22.某工人 7 月 1 日开始上班，上班第一天加工了若干个零件，此后由于技术日益娴熟，每天都能比前一天多加工 5 个零件，直到 7 月 10 日，他一共加工了 975 个零件，该工人 7 月 1 日加工了（ ）个零件。

- A.95
- B.80
- C.120
- D.75

23.甲乙两个牧场中共有鸡鸭 260 只，其中甲牧场中 87%是鸡，乙牧场中 72.5%是鸭子。

那么甲牧场中有多少只鸭子？（ ）

- A.32
- B.48
- C.26
- D.13

24.某财政局要连续审核 30 个申请财政扶持的项目，如果要求每天安排的审核项目个数互不相等且不为零，这最多需要（ ）天。

- A.10
- B.9
- C.8
- D.7

25.一条 207 米的直线型道路，要在两侧安装路灯，路灯的照明直径是 10 米。请问至少需要安装多少盏灯？（ ）

- A.22
- B.21
- C.42
- D.44

26.李某假期去秦岭游玩，从甲山到乙山有 3 条路线，从乙山到丙山有 2 条路线，从甲山经过乙山，丙山到丁山不同走法共有（ ）种。

- A.22
- B.24
- C.20
- D.28

27.某小公司有 15 名员工，其中市场部 6 人、技术部 6 人、综合部 3 人，从中任意选取 3 人，其中恰好有市场部、技术部、综合部各 1 人的概率是（ ）。

- A.1/108
- B.108/455
- C.4/91
- D.414/455

28.甲、乙、丙三个车间共有员工 232 人，丙车间的员工数等于甲车间的员工数加乙车间员工数的  $\frac{1}{5}$ ，也等于乙车间员工数加上甲车间员工数的 40%，丙车间有员工（ ）人。

- A.54
- B.60
- C.80
- D.92

29.河道上有 A、B 两个码头相距 540 公里，在同一时刻，甲游轮从 B 码头逆流驶往 A 码头，乙游轮从 A 码头顺流驶往 B 码头，相遇后又经过 4 个小时，甲到达 A 码头，已知甲游轮的静水速度是 66 公里/小时，乙游轮的静水速度是 42 公里/小时，水流速度是（ ）公里/小时。

- A.5.4
- B.6
- C.5
- D.3

30.某竞赛班教师按照学员在竞赛中的获奖情况获得绩效奖励，有一名学员获奖可以获得奖励 500 元，有一名学员未获奖将被扣 200 元，假设甲班上共有学员 11 人，最终获得奖励 4100 元，该班未获奖的学员有（ ）人。

- A.2
- B.3
- C.5
- D.9

31.某公司推出一款新产品。当每件新产品的售价为 3000 元时，恰好能售出 15 万件。若新产品的售价每增加 200 元时，就少售出 1 万件。如果该公司仅售出 12 万件新产品，则该公司新产品的销售总额为（ ）亿元。

- A.2.88



B.4.08

C.4.32

D.4.72

32.甲乙两辆洒水车在一条直行街道执行清扫任务，甲车单独清扫需要1小时，乙车单独清扫需要1.5小时，两车同时从该街道两端相向开出，相遇时甲车比乙车多清扫了1.2千米，则该街道长度为（ ）米。

A.6

B.7

C.5

D.4

33.书架的某一层上有138本书，且是按照3本小说、4本教材、5本工具书、7本科技书、3本小说、4本教材.....的顺序循环从左至右排列的。则该层最右边是一本（ ）。

A.小说

B.教材

C.工具书

D.科技书

34.一片由盆栽构成的鲜花方阵，最外层一圈共有52盆。那么，这个鲜花方阵共有多少盆鲜花组成？（ ）

A.156

B.196

C.169

D.121

35.某公司打算对其产品的出厂价格进行调整，甲产品原价为1000元，拟调整为880元，乙产品原价250元，现降价64%，丙产品加价两成，拟调整为720元，丁产品涨价300元，这四种产品的价格平均（ ）元。

A.增长了41元

B.降低了35元

C.降低了41元

D.增长了35元

36.某蓄水池有甲、乙两个进水管，单独开甲管 20 小时可以灌满水池，单独开乙管 30 小时可以灌满水池。单独开甲进水管 5 小时后，开启乙进水管，两管同时进水直至灌满水池，此时，甲管比乙管多进水 600 升，这个蓄水池的蓄水量为（ ）升。

- A.1050
- B.1250
- C.1500
- D.2000

37.某中学共有教师 272 人，男女教师的比例是 1:3，暑假期间男教师有  $\frac{1}{2}$  出国旅游，女教师中出国旅游的比例是男教师的  $\frac{1}{2}$ ，该校暑假出国旅游的教师共有（ ）人。

- A.51
- B.85
- C.101
- D.119

38.因木材两头损坏，小明先将一根长 12 米木材的两端各锯下 1 米，然后锯了 4 次，锯成等长的短木条，那么，每根短木条长（ ）米。

- A.2
- B.24
- C.2.5
- D.2.25

39.一辆高铁列车和一辆普通货车同向而行，高铁列车从后方追上开过普通货车，高铁列车长 400 米，普通货车长 780 米，普通货车的司机看见高铁驶过其所在的窗口的时间是 10 秒钟，坐在高铁尾部的乘客能看见普通货车的时间是（ ）秒。

- A.19.5
- B.10
- C.29.5
- D.9.5

40.甲乙丙三班级分别有 3、2、4 名学生参加歌咏比赛。排列出场顺序时，要求每个班级的学生必须是相连的。那么，不同出场顺序的种数是（ ）

- A.288
- B.864

C.1728

D.3456

41.某公司的女职工数是男职工的 60%，若女职工增加 200 人，则比男职工多了 10%，那么，该公司的男职工有（ ）人。

A.200

B.250

C.300

D.400

42.公司举行年度核心客户联谊会，设定了抽奖环节，其中特等奖为液晶电视，中奖率为  $\frac{1}{12}$ ，一等奖为笔记本电脑，中奖率为  $\frac{1}{6}$ ，二等奖为 MP4，中奖率为  $\frac{1}{3}$ ，其余全部为三等奖，奖品为新款手机。负责购买奖品事务的小李有急事临时改由你接手，此时最先采购的 100 部新款手机已经送到，请问你需要购买多少台 MP4？（ ）

A.40

B.120

C.60

D.80

43.A、B、C、D 四个小组负责加工机器零件，已经知道 A、B、C 三组平均每组加工了 89 个零件，B、C、D 三组平均每组加工了 97 个零件。已知 A 组加工了 81 个零件，那么 D 组加工了（ ）个零件。

A.102

B.99

C.105

D.97

44.某届运动会，共有 12 个国家派出运动员参赛，派出运动员最少的国家是阿塞拜疆，只有一名运动员。组委会要成立运动员委员会，至少选择（ ）名运动员就能保证至少有 3 名运动员来自同一个国家。

A.24

B.23

C.34

D.22

45.将 40 台电脑分给 7 所小学，每所小学分的的电脑数各不相同，至少能分得一台，则分得电脑第二多的学校最多能分得（ ）台电脑。

- A.12
- B.19
- C.11
- D.10

46.某银行由甲、乙两部门通过门户网站定期向社会发布消息，甲部门每隔两 2 天、乙部门每隔 3 天就有一个发布日，节假日无休。则甲、乙两部门在一个自然月内最多有（ ）天同时为发布日。

- A.2
- B.5
- C.6
- D.3

47.某专业现开设 4 门公选课，要求每人至少选 2 门课，则全专业至少有（ ）人才才能保证至少有 6 个人选的课程完全相同。

- A.31
- B.37
- C.56
- D.67

48.京张城际铁路，是 2022 年冬奥会重点配套工程和促进京津冀一体化发展战略的重要交通要道。全线长约 174 千米，共有 10 个车站，中国铁路总公司为此需要准备（ ）种车票。

- A.90
- B.81
- C.100
- D.121

49.某公司共有四个业务部门，业务一部 20 人，业务二部 21 人，业务三部 25 人，业务四部 34 人，随机抽取一人到外地参加行业展会，抽到业务一部的概率是（ ）。

- A.30%
- B.24%

C.20%

D.15%

50.下列选项中一定能同时被 2, 3, 4, 5 整除的数是 ( )。(其中 X 是小于 10 的自然数, Y 是 0)

A.7XY5XY

B.2XX4YXY

C.7XX5XY

D.6XX4XY

51.近期,某市白天的降水概率均为 60%,小张打算在近期搬家(下雨天不能搬家),由于物品不多,搬家需要一天时间,小张在 3 日内能搬家的概率为 ( )。

A.40%

B.58.6%

C.78.4%

D.93.6%

52.8 名教师带着 40 名小学生参观景点,景点售票规定:成人票每人 10 元,学生票每人 5 元,团体票(10 人以上,含 10 人)每人 7 元。全部人都要进入景点,那么花费最少是 ( ) 元。

A.280

B.308

C.260

D.336

53.某旅行社组织 88 名新客到某景点旅游,景点门票按如下方式进行销售:大团体票 100 元/10 人,小团体票 60 元/5 人,单人票 15 元/人,景点内游船票按如下方式销售:大船 5 人一船,船票 200 元,小船 3 人一船,船票 150 元,这次旅行至少需要花费 ( ) 元。

A.4425

B.4450

C.4455

D.4470

54.某企业发奖金是根据利润提成的，利润低于或等 10 万元时可提成 10%；低于或等于 20 万元时，高于 10 万元的部分按 7.5%提成；高于 20 万元时，高于 20 万元的部分按 5%提成。当利润为 40 万元时，应发放奖金（ ）万。

- A.3
- B.4.5
- C.2.75
- D.2

55.实验室有足够量的浓度为 20%和 50%的硫酸溶液，现需要 30%的硫酸 300 毫升，需如何进行配置？（ ）

- A.甲乙两种溶液各取 150 毫升
- B.甲溶液取 300 毫升，乙溶液取 150 毫升
- C.甲溶液取 200 毫升，乙溶液取 100 毫升
- D.甲溶液取 100 毫升，乙溶液取 200 毫升

56.某银行有 3 项业务要招标，共有 5 家公司前来投标，且每家公司都对 3 项业务发出了投标申请，最终发现每项业务都有且只有 1 家公司中标。若 5 家公司在各项业务中中标的概率均相等，则这 3 项业务由同一家公司中标的概率为（ ）。

- A.1/243
- B.1/125
- C.1/81
- D.1/25

57.甲乙两人同时从泳池同一端出发不断往返于泳池两端，泳池长度为 50 米。若甲最快速度为 85 米/分，乙最快速度 65 米/分，五分钟内他们最多相遇几次？（ ）

- A.4
- B.6
- C.7
- D.8

58.某国发生战乱，我国政府立派出一列火车和一架专机接回滞留在当地的中国公民 3300 人。已知火车单程需要 18 小时，飞机单程需要 6.5 小时（火车和飞机停留时间忽略不计）。一列火车可以搭载 1100 人，一架飞机可以搭载 200 人。5 月 24 日早 8 点散侨行动开始，预计最快于（ ）结束。

A.5月26日12点

B.5月26日下午2点

C.5月27日12点

D.5月27日下午2点

59.从装修图纸上测量，某公司长方形会议室长是5厘米，宽是3厘米，已经知道图纸的比例是1:200，那么该会议室的实际面积是（ ）。

A.600平方厘米

B.60平方分米

C.60平方米

D.600平方米

60.甲乙丙丁四条流水线共生产了430件产品，如果甲多生产20件，乙少生产30件，丙生产数量乘以1.5，丁生产的数量乘以2，四条流水线生产的产品恰好一样多。那么，丙实际生产了（ ）件产品。

A.40

B.80

C.60

D.100

61.某工厂要在规定时间内生产一批设备，如果每天生产280台，可以提前3天完成，如果每天生产240台，就要再生产3天才能完成，则规定完成的时间是（ ）天。

A.39

B.36

C.33

D.30

62.某高校今年毕业学生7650名，比上年增长2%，其中本科毕业生比上年度减少2%，而研究生毕业数量比上年度增加10%，那么，这所高校今年毕业生的本科生有（ ）。

A.3920人

B.4410人

C.4900人

D.5490人

63.一条河全长 56 千米，某船从上游到下游需要 4 小时，从下游返回上游需要 7 小时。则此船在静水中的速度为每小时（ ）千米。

- A.10
- B.11
- C.9
- D.8

64.有一批零件如师傅单独加工需要 12 天，由徒弟单独加工需要 18 天，现由师徒二人共同加工，但中途师傅休息了几天，最后师徒二人一共花费 9 天才完成这项工作，师傅中途休息了（ ）天。

- A.6
- B.3
- C.无法确定
- D.2

65.2010 年 1 月 1 日是星期五，那么 2012 年 1 月 1 日是（ ）。

- A.星期一
- B.星期五
- C.星期四
- D.星期日

66.某超市将一批苹果和一批橘子搭配进行销售，如果 5 个苹果和 3 个橘子为一组后还剩下 8 个苹果，如果 7 个苹果和 3 个橘子为一组还剩下 24 个橘子，这批苹果和橘子共有（ ）个。

- A.264
- B.168
- C.272
- D.96

67.某公司有 A、B、C、D 四个生产车间，A 车间人数是其余三个车间总人数的  $\frac{1}{2}$ ，B 车间人数是其余三个车间总人数的  $\frac{1}{3}$ ，C 车间人数是其余三个车间总人数的  $\frac{1}{4}$ ，D 车间有 39 人，则 B 车间有（ ）人。

- A.60
- B.180



C.45

D.36

68.今天是星期一，公司组织全体员工去旅游，下次的旅游安排在150天之后，那么下次旅游的时候是（ ）。

A.星期二

B.星期三

C.星期一

D.星期四

69.李军股票账户每年年底余额减去1500元后，恰好比去年年底余额减少了四分之一，去年年底余额比前年年底的1.2倍少2000元。那么，由此可知李军股票账户今年年底余额比前年年底余额（ ）。

A.多1000元

B.少10%

C.多10%

D.少1000元

70.一份外语文件需要翻译，甲单独翻译12小时完成，乙单独翻译9小时可以完成。如果按照甲先乙后的顺序，每人每次1小时轮流进行，完成这件翻译工作需要（ ）小时。

A.11

B. $29/3$

C. $31/3$

D.10

71.王某的日工资是300元，每天可以加工50个零件，李某的日工资是260元，每天可以加工40个零件，雇主张某需要加工740个零件，至少需要支付（ ）元。（工资需要按整日进行结算）

A.4940

B.4500

C.4460

D.4440

72.某企业组织知识竞赛考试,共 20 道题,第一道题 1 分,后面每道题比前面的题多 1 分,请问考试满分是( )。

- A.230
- B.210
- C.180
- D.250

73.某分行举办 2017 年秋季趣味运动会,有 3 个比赛项目,均以团体赛方式进行。共有参赛队员 50 名,其中参加扑克接龙的有 38 人,参加集体跳绳的有 34 人,参加拔河比赛的有 32 人,扑克接龙、集体跳绳都参加的有 28 人,集体跳绳、拔河比赛都参加的有 24 人,扑克接龙、拔河比赛都参加的有 26 人,三项都参加的有 20 人。只参加一项的人比三项都没参加的多( )人。

- A.5
- B.4
- C.3
- D.2

74.将 50 名新员工分给 7 个不同的部门,每个部门分到的新员工数各不相同,分到最多的那个部门至少可以分到( )名新员工。

- A.9
- B.10
- C.11
- D.12

75.某自然保护区是一块长方形区域,长 25 千米,宽 8 千米。管理人员需要设置监测塔,将保护区的每一片区域都置于监测之下。但是每个监测塔的监视半径只有 5 千米。为此,最少需要设置多少个监测塔?( )

- A.7
- B.6
- C.8
- D.5

2018年6月份全国铁路主要指标完成情况

指 标	计算单位	本月	比上年同期 增长%	当年累计	比上年同期 增长%
<b>一、铁路运输</b>					
1. 旅客发送量	万人	27834	15.6	161818	8.0
2. 旅客周转量	亿人公里	1120.95	8.5	6868.23	4.1
3. 货运总发送量	万吨	32950	10.1	195751	7.7
4. 货运总周转量	亿吨公里	2379.53	10.2	13880.54	5.5
<b>二、铁路固定资产投资累计完成额</b>					
	亿元	3127.12	0.1	3127.12	0.1

2018年7月份全国铁路主要指标完成情况

指 标	计算单位	本月	比上年同期 增长%	当年累计	比上年同期 增长%
<b>一、铁路运输</b>					
1. 旅客发送量	万人	32276	9.9	194094	8.3
2. 旅客周转量	亿人公里	1477.73	5.7	8345.96	4.4
3. 货运总发送量	万吨	33712	8.7	229462	7.9
4. 货运总周转量	亿吨公里	2420.73	9.6	16301.27	6.1
<b>二、铁路固定资产投资累计完成额</b>					
	亿元	3750.21	-1.4	3750.21	-1.4

2018年8月份全国铁路主要指标完成情况

指 标	计算单位	本月	比上年同期 增长%	当年累计	比上年同期 增长%
<b>一、铁路运输</b>					
1. 旅客发送量	万人	34340	11.9	228434	8.8
2. 旅客周转量	亿人公里	1573.78	8.2	9919.74	5.0
3. 货运总发送量	万吨	33714	6.7	263176	7.7
4. 货运总周转量	亿吨公里	2423.15	7.1	18724.42	6.2
<b>二、铁路固定资产投资累计完成额</b>					
	亿元	4612.31	1.7	4612.31	1.7

76. 2018年6-8月份全国铁路共完成旅客发送量（ ）万人。

A. 100376

B. 94450

C. 4612.31

D. 228434

77. 2017年1-5月份全国铁路货运总发送量累计约为（ ）万吨。

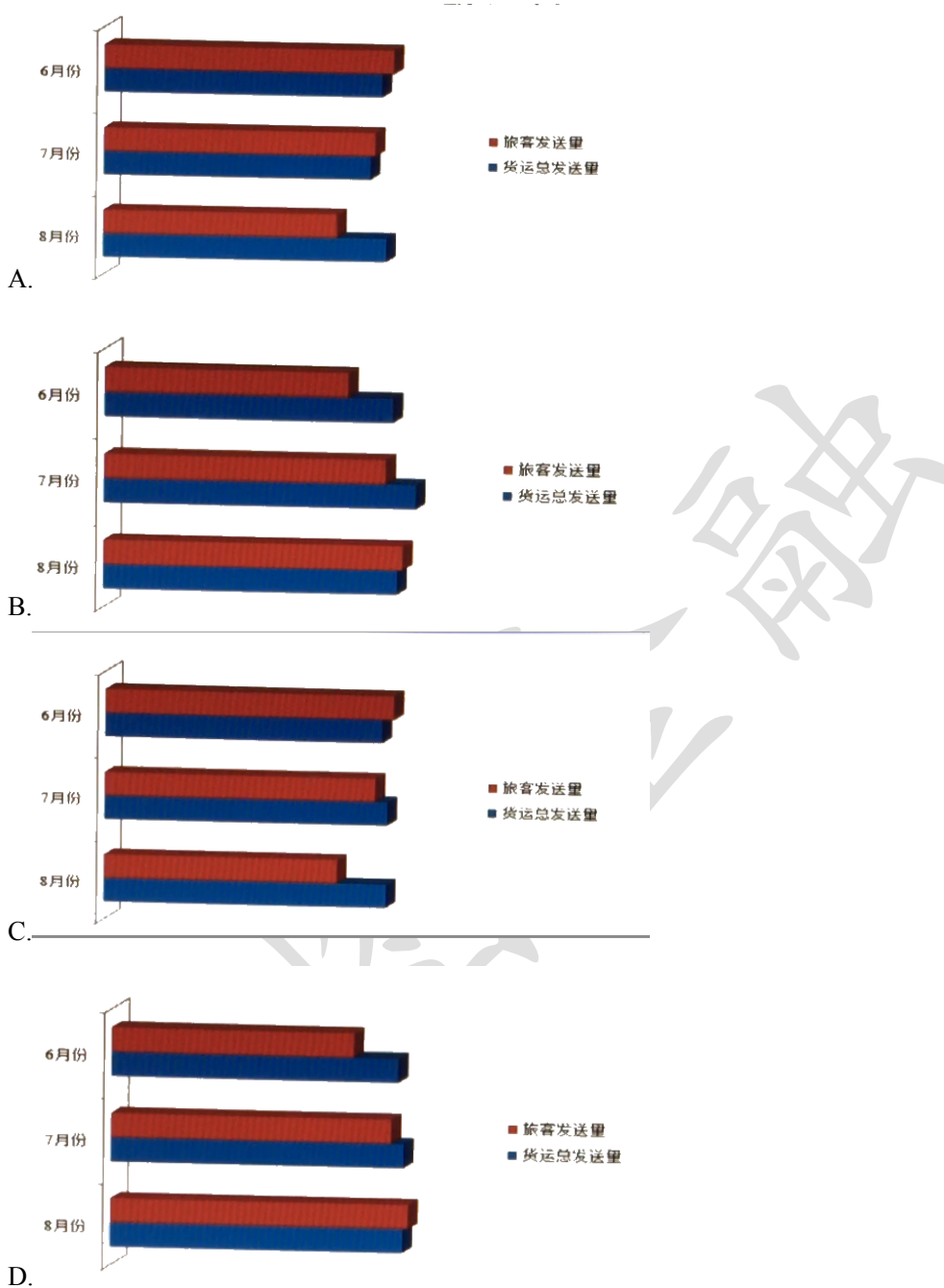
A. 151829

B. 140381

C. 181756

D. 175506

78.2018年6-8月份全国铁路旅客发送量和货运总发送量的图示应为（ ）。



79.截至2017年8月份,全国铁路货运总周转量当年累计完成约( )。

- A.19885
- B.9447
- C.17631
- D.244360

80.以下说法正确的有( )。

- (1) 2018年6-8月份全国铁路旅客周转量合计超过4000亿人公里

(2) 截至 2018 年 7 月份铁路固定资产投资当年累计完成额高于 2017 年同期

(3) 2018 年 6-8 月份全国铁路货运总周转量呈现上升趋势

(4) 2017 年上半年全国铁路旅客发送量当年累计超过 15 亿人

A.1 个

B.2 个

C.0 个

D.3 个

2017 年 1-2 月，我省工业用电量 180.28 亿千瓦时，同比增长 8.7%（同期为 4.8%），增速低于全国平均水平 2.5 个百分点，居全国第 21、中部第 5，较去年同期位次分别回落 5 位和 2 位。中部 6 省中，我省工业用电增速低于排名第一的安徽 6.2 个百分点，高于排名第六的河南 2.6 个百分点。

中部 6 省全社会用电和工业用电增速位次情况表

	全社会用电增速 (%)	居全国位次	工业用电增速 (%)	居全国位次
全国	?	—	11.2	—
山西	14.1	16	13.0	16
安徽	16.1	8	14.9	7
江西	14.0	17	7.7	18
河南	8.7	29	6.1	25
湖北	14.8	12	8.7	21
湖南	14.5	15	10.8	17

值得关注的是：1-2 月，我省全社会用电增速为 14.8%（同期为 2.4%），高于全国平均水平 1.6 个百分点，居全国第 12，中部第 2，较去年同期位次分别提升 15 位和 2 位，主要是因为第三产业（21.2%）和城乡居民生活用电高速增长所致。

81.资料中的“我省”指的是哪一个省份？（ ）

A.湖北

B.江西

C.湖南

D.山西

82.2015 年 1-2 月份，该省的工业用电量大约是多少亿千瓦时？（ ）

A.132.85

B.165.85

C.112.06

D.158.25

83.表格中有一处问号，问号处的数字应是多少？（ ）

A.15.3

B.11.2

C.14.6

D.13.2

84.表格中，江西“所在一行的四个数字中有一个存在明显错误，这个数字是（ ）。

A.7.7

B.17

C.18

D.14.0

85.下列说法中不正确的一项是（ ）。

A.从用电增速排名上看，如果工业用电增速靠前，那么全社会用电增速也靠前

B.中部六省工业用电增速排名中，最高者比最低者多 8.8 个百分点

C.中部六省社会用电增速排名中，最高者比最低者多 7.4 个百分点

D.虽然该省工业用电量同比增速低于全国平均水平，但其社会用电增速比全国增速高

2016 年，A 省完成港口货物吞吐量 13.3 亿吨，同比增长 14.2%，其中外贸货物吞吐量 2.0 亿吨，增长 24.5%。港口货物吞吐量中，集装箱吞吐量达 878.0 万标准集装箱，增长 3.1%。

2016 年末，全省公路里程 14.2 万公里，新增 1071.1 公里。年末高速公路里程 3755 公里。铁路营业里程 1642.1 公里，铁路正线延展长度 2381.8 公里。

2016 年末，全省民用汽车保有量 458.1 万辆，净增 84.9 万辆，分别增长 22.8%和 97.5%。年末私人汽车保有量 338.2 万辆，净增 74.9 万辆，分别增长 28.5%和 106%。其中私人轿车保有量 216.5 万辆，净增 56.4 万辆，分别增长 35.2%和 59.3%。

	货物周转量		货运量		旅客周转量		客运量	
	绝对数 (亿 吨公里)	比上年增长 (%)	绝对数 (万 吨)	比上年增长%	绝对数 (亿 人公里)	比上年增长 (%)	绝对数 (万 人次)	比上年增长 (%)
总计	5154.5	8.5	160966.8	9.2	1423.3	8.1	201262.9	9.5
铁路	323.9	-6.2	6137.4	19.1	311.3	-2.4	9167.2	3.6
公路	971.1	9.7	104002	8.8	1058	11.2	191001	9.8
水路	3372.1	10.1	42016	9.1	1.4	85.6	686.5	9.7
民航	0.6	-3.6	4.4	-5.1	52.7	15.4	408.2	16.3
管道	486.8	6.4	8807	8.8				

86.2015 年，A 省完成港口货物吞吐量约为（ ）吨。

- A.11.6
- B.13.3
- C.10.8
- D.15.5

87.2015 年末，该省除私人轿车之外的私人汽车保有量为（ ）辆。

- A.109.9
- B.121.7
- C.103.2
- D.140.2

88.2016 年，A 省下列各项同比增长最快的是（ ）。

- A.公路货物周转量
- B.水路货运量
- C.铁路货运量
- D.民航货物周转量

89.表中四种客运方式中，2016 年平均每人次运输距离高于 2015 年水平的有（ ）种

- A.2
- B.3
- C.1
- D.4

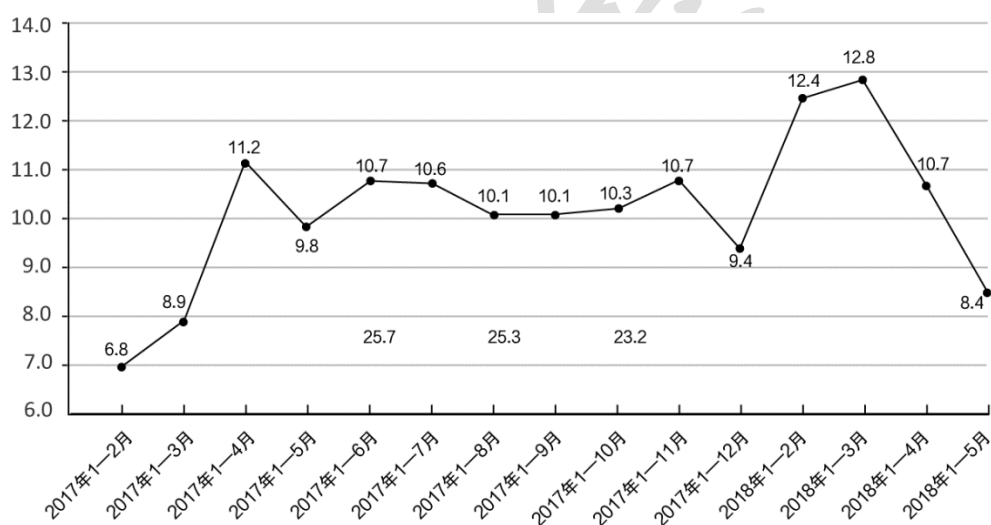
90.关于该省交通运输状况，能够从上述资料中推出的是（ ）。

- A.2016 年该省客运平均每人每次运输距离超过 100 公里
- B.2016 年管道货物周转量超过货物周转总量的一成
- C.2016 年末，高速公路里程占全省公路总里程比重超过 3%
- D.2015 年末，全省民用汽车保有量超过 300 万辆

总体上看，2018 年以来汽车零售市场保持平稳增长、稳中略有回落的发展趋势。截至 5 月底，全省共有限额以上（年主营业务收入 500 万元及以上）汽车零售单位 912 家，累计实现汽车类零售额 317.93 亿元。当月增速从 2 月至 5 月分别为 14.5%、13.6%、4.0%、-1.1%，5 月增速转为负增长。

从一季度限额以上汽车零售企业销售情况看，一季度全省共销售汽车 512899 辆，比上年同期减少 17371 辆。其中销售轿车 151797 辆，比上年同期减少 13619 辆，同比下降 8.2%。

2017-2018 年贵州省限额以上汽车零售额累计增速情况（%）



从近十年贵州省汽车拥有数量看，我省私人汽车拥有量连续迅速增长。到 2017 年末全省城镇居民百户汽车拥有量达 34.97 辆，是 9 年前的 10.6 倍，预计 2018 年底将突破 400 万辆。前期积累的汽车消费需求得到较为充分的释放，促进汽车市场迅速从成长阶段到成熟阶段，其标志性特征就是增长速度保持相对稳定，消费结构持续升级，总量需求趋于饱和，边际消费倾向下降。在大量中低收入消费者进入汽车市场之前，汽车消费总量将保持平稳态势。

2008-2017 年贵州汽车拥有情况			
年份	民用汽车拥有量	私人汽车拥有量	城镇居民家用汽车



	(万辆)	(万辆)	(百户拥有量)
2008	77.15	54.27	3.29
2009	96.83	71.28	4.85
2010	121.30	92.77	5.96
2011	140.12	109.54	10.48
2012	166.72	134.19	13.17
2013	202.76	167.87	15.84
2014	246.36	208.95	19.66
2015	294.31	255.97	23.74
2016	350.57	312.35	33.52
2017	415.71	375.93	34.97

91.2018年,截至5月底,全省限额以上汽车类零售额比上年同期相比,情况如何? ( )

- A.下降 8.4%, 回落 1.4 个百分点
- B.下降 8.4%, 回落 1 个百分点
- C.增长 8.4%, 回落 1.4 个百分点
- D.增长 8.4%, 回落 1 个百分点

92.根据资料,下列描述中说法错误的是 ( )。

- A.2018年2、3月份累计增速比去年同期分别提高 5.6 和 3.9 个百分点
- B.2018年以来,当月增速逐渐回落,汽车消费市场增速放缓
- C.2018年4月份累计增速比去年同期回落 0.5 个百分点
- D.2018年以来,汽车类零售额累计增速呈高开低走趋势

93.2018年一季度,该省限额以上汽车零售企业销售车辆数量比去年同期相比,情况如何? ( )

- A.同比增加了约 4.5%
- B.同比下降了约 3.3%
- C.同比增加了约 3.3%
- D.同比下降了约 4.5%

94.该省私人汽车拥有量突破 100 万辆是在哪一年? ( )

A.2010

B.2009

C.2011

D.2008

95.按照 2017 年城镇居民百户汽车拥有量同比增速，乐观估计，2018 年这个数据最有可能接近以下哪项？（ ）

A.46

B.36

C.49

D.34

2017 年以来，我国供给侧结构性改革深入推进，市场供求关系进一步改善，新动能不断增强，制造业经济继续保持稳中向好的发展态势。1-2 月份，规模以上制造业增加值同比增长 7.0%，增速比上年 12 月份加快 0.5 个百分点；2 月份，中国制造业采购经理指数 (PMI)虽受春节因素影响有所回落，但仍为近年同期较高水平，连续 24 个月保持在扩张区间。

PMI 是环比数据，受季节因素影响较大。农历春节是我国最重要的传统节日，通常在 1、2 月份交替出现，有时会有跨月的情况。今年春节恰在 2 月中旬，虽然法定假日是 7 天，但很多地区特别是中小企业般都在元宵节后才重新开工，因此对 2 月份的 PMI 影响较大，中型和小型企业 PMI 分别下降 1.1 和 3.7 个百分点，是制造业 PMI 回落的主要原因。尽管 2 月份 PMI 环比有所回落，但仍为近五年来春节当月的次高点，制造业总体继续保持在景气扩张区间。

随着 2 月份更多宏观经济数据的发布，我国制造业持续扩张的趋势得到进一步验证。从生产看，企业集中在春节前一阶段为节日备货的特点较为明显，统计的 574 种主要工业产品中，产量同比增长的占 63.8%，较上年 12 月份提高 8.7 个百分点，较上年 12 月份增速加快或降幅收窄的产品占 60.5%；从发电量看，1-2 月份，规模以上工业发电量同比增长 11.0%，增速比上年 12 月份加快 5.0 个百分点；从货运看，1-2 月份，铁路货达量同比增长 8.8%，上年 12 月份为下降 3.8%；从出口看，1-2 月份，规模以上工业出口交货值同比增长 9.5%，增速比上年 12 月份加快 0.2 个百分点。制造业产业链、供应链继续保持相对活跃的态势。

2017年以来，制造业大型企业总体运行平稳，且随着供给侧结构性改革继续推进，创新驱动战略深入实施，创新引领作用不断强化，推动制造业经济向高质重发展迈进。1-2月份高技术产业和装备制造业增加值同比分别增长11.9%和8.4%，增速比规模以上工业快4.7和1.2个百分点。同时，PMI调查结果显示，2月份高技术制造业和装备制造业新订单指数为56.7%和52.6%，分别高于上月3.1和1.6个百分点。其中高技术制造业新出口订单指数为53.2%，高于上月0.7个百分点，与上年均值持平，国内外市场需求保持较快增长。另外，制造业投资中新动能投资增长较快，1-2月份高技术制造业投资增速为11.3%，快于全部投资3.4个百分点，为先进产能注入了新的动力，也将进一步激发制造业经济发展的新活力。

在加快传统产业改造升级政策措施的大力推动下，制造业企业加大技改投入，优化产业结构，提升供给质量，企业生产经营状况逐步改善。1-2月份钢铁、有色等传统行业增加值同比增速均高于上年同期。

近年来，国家不断深化“放管服”改革，落实减税降费，着力降低企业生产经营成本，制造业投资和市场环境得到改善，市场信心继续增强。从企业反映的情况看，2月份，反映资金紧张和市场需求不足的企业比重为38.5%和36.1%，分别比上年同期回落1.2和5.4个百分点，且分别低于上年均值1.9和3.3个百分点，其中反映资金的企业比重已连续7个月下降，表明营商环境进一步优化，有力地促进了实体经济健康发展。从市场预期看，2月份，生产经营活动预期指数为58.2%，比上月上升1.4个百分点，其中食品及酒饮料精制茶制造业、医药制造业、通用设备制造业、电气机械器材制造业等行业生产经营活动预期指数均位于60.0%以上的高位景气区间。

另外，调查中企业普遍反映，随着春节影响因素的消退，企业正在逐步加快生产，并对近期市场发展继续保持乐观态度，制造业有望过续稳步扩张态势。

96.2016年1-2月份规模以上制造业增加值同比增长率与当年12月份相比，情况如何？

( )

A.1-2月份比12月份高0.5个百分点

B.1-2月份比12月份低0.5个百分点

C.1-2月份与12月份持平，没有变化

D.文中缺少数据，难以判断

97.对以下推断判断正确的是( )。

(1) 2016年10月，PMI处于扩张区间

(2) 2017年2月份 PMI 指数比1月份的低

(3) 2016年12月份的 PMI 指数低于2017年1-2月份的 PMI 指数

- A.只有(1)和(2)
- B.只有(2)和(3)
- C.只有(1)和(3)
- D.推断(1)、(2)和(3)都对

98.下列说法中错误的是( )。

- A.2016年制造业全部投资增速为7.9%
- B.2016年高技术制造业新出口订单指数的均值约是53.2%
- C.2017年1-2月份,规模以上工业增加值同比增长7.2%
- D.2017年1月份高技术制造业新订单指数是53.6%

99.从 PMI 调查结果看,1、2月份钢铁、有色等行业的采购量指数均高于上年同期,企业加大原材料采购力度,积极备产。这段话能够论证的原文中的观点是( )。

A.尽管2月份 PMI 环比有所回落,但仍为近五年来春节当月的次高点,制造业总体继续保持在景气扩张区间

B.在加快传统产业改造升级政策措施的大力推动下,制造业企业加大技改投入,优化结构,提升供给质量,企业生产经营状况逐步改善

C.随着2月份更多宏观经济数据的发布,我国制造业持续扩张的趋势得到进一步验证

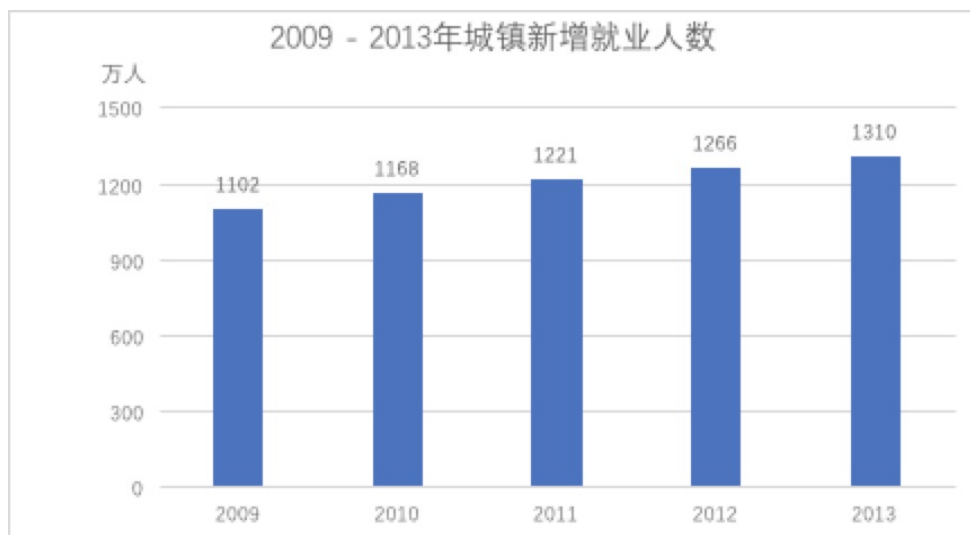
D.2017年以来,制造业大型企业总体运行平稳,且随着供给侧结构性改革继续推进,创新驱动战略深入实施,创新引领作用不断强化,推动制造业经济向高质量发展迈进

100.下列观点,在文中得到支持的有( )。

- (1) 制造业在景气区间稳定运行
- (2) 新动能引领制造业发展提升
- (3) 制造业企业市场信心持续增强

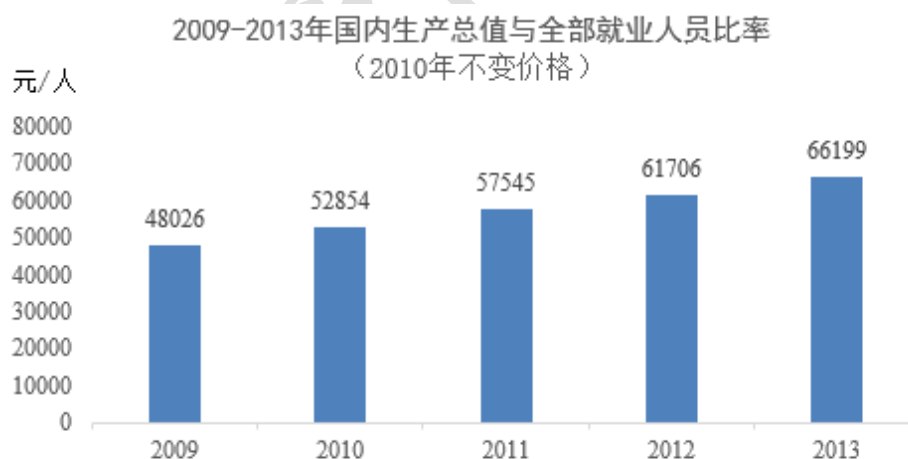
- A.只有(1)和(2)
- B.只有(2)和(3)
- C.推断(1)、(2)和(3)都对
- D.只有(1)和(3)

2013 年末全国就业人员 76977 万人，其中城镇就业人员 38240 万人，全年城镇新增就业 1310 万人，年末城镇登记失业率为 4.05%，略低于上年末的 4.09%，全国农民工总量为 26894 万人，比上年增长 2.4%，其中，外出农民工 16610 万人，增长 1.7%，本地农民工 10284 万人，增长 3.6%。



全年国内生产总值与全部就业人员的比率为 66199 元/人（以 2010 年不变价格计算），比上年提高 7.3%。

2009-2013 年国内生产总值与全部就业人员比率



注：失业率=年末城镇登记失业人数/（年末城镇登记失业人数+城镇就业人员）

101.2013 年末城镇登记失业人数为（ ）万人。

- A.1510
- B.1614
- C.1716
- D.1820

102.2013 年末城镇就业人员占全国就业人员的（ ）。

A.49.7%

B.48.1%

C.52.2%

D.53.8%

103.2013 年末外出农民工与全国农民工的比例为（ ）。

A.1:1.1

B.1:1.6

C.1:1.9

D.1:2.3

104.2012 年国内生产总值与全部就业人员的比率为（ ）元/人。

A.60287

B.60982

C.61695

D.61902

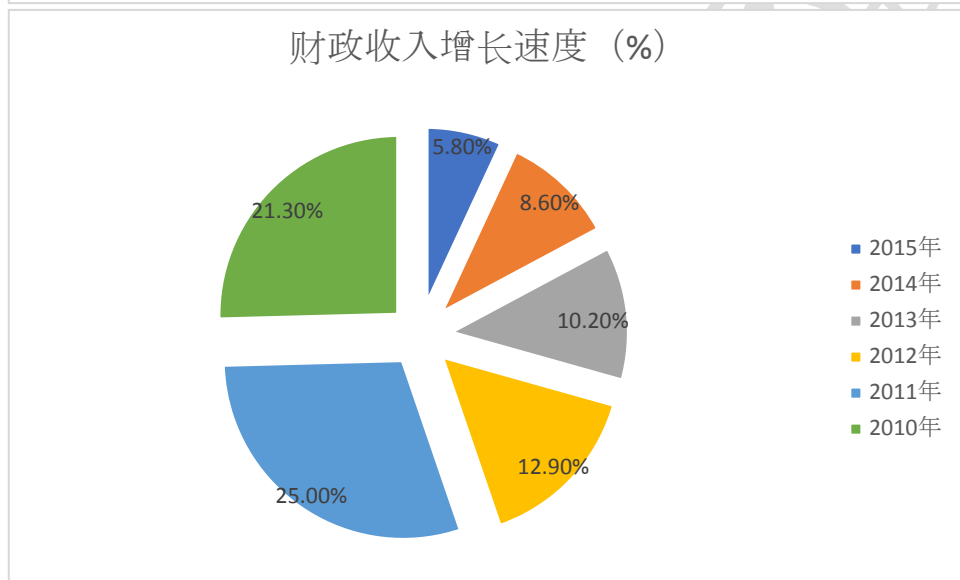
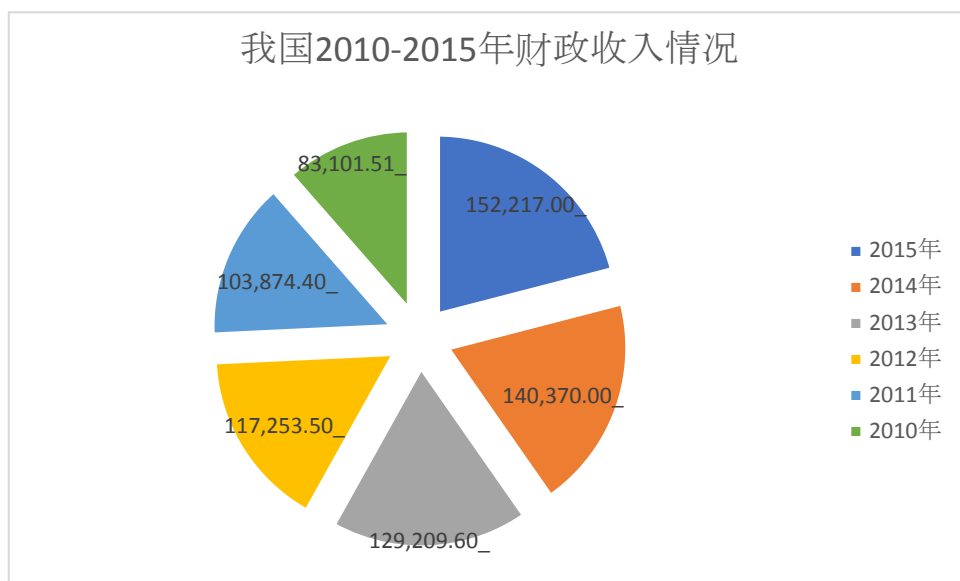
105.根据上述材料，下列说法错误的是（ ）。

A.2013 年的数据显示，越来越多人选择留在家乡工作

B.2010-2013 年城镇就业人数最多的是 2013 年

C.2009-2013 年，我国国内生产总值与全部就业人员比率逐年增加

D.2009-2013 年，我国城镇新增就业人数增长率逐年升高



106. 由图知，财政收入增速最快的一年财政收入（ ）亿元。

- A. 152269.23
- B. 103874.43
- C. 140370.03
- C. 117253.52

107. 与上一年相比，财政收入增速下降近五成的年份，财政收入比上年增加（ ）亿元

- A. 11899.20
- B. 20772.92
- C. 19956.12
- D. 13379.07

108.2015 年财政收入与 2010 年相比增加了（ ）%。

A.83.8

B.83.17

C.25

D.5.8

109.所有财政收入增速介于 10%和 20%之间的年份，财政收入的总和是（ ）亿元。

A.246463.16

B.269579.67

C.329564.67

D.117253.52

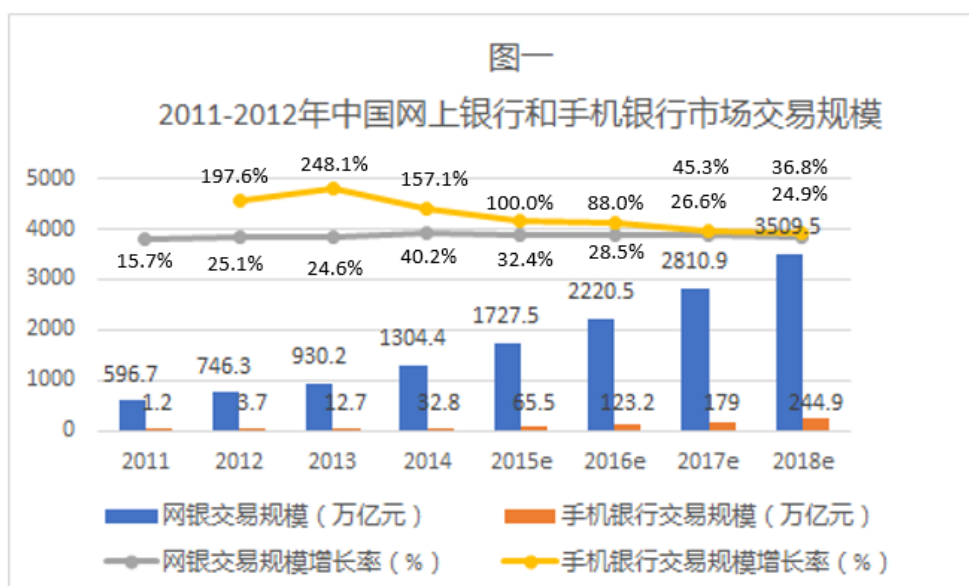
110.下列选项中，表述错误的是（ ）。

A.2010-2015 年间，我国财政收入一直稳中有升

B.2010-2015 年间，我国财政收入增速一直稳中有升

C.2011 年，我国财政收入突破 10 万亿元

D.2015 年财政收入与 2011 年相比增加近五成



注：2015年以后的数据为预测值



图二

中国电子支付产业核心参与方



111.下列主体中，在我国电子支付产业中负有监管职责的部门是（ ）。

- A.中国人民银行
- B.中国银行
- C.中国电信
- D.中国银联

112.根据材料相关信息，下列各年中，我国网银交易规则增量最大的是（ ）。

- A.2015年（预测值）
- B.2014年
- C.2013年
- D.2012年

113.根据材料相关信息，2018年我国手机银行渠道占网银交易规模比例与2011年手机银行渠道占网银交易规模比例相比，约相当于后者的（ ）。

- A.210.2倍
- B.34.7倍
- C.6.5倍
- D.3.5倍

114.根据材料中的相关信息，下列关于我国网络银行，手机银行发展的相关看法中，不正确的是（ ）。

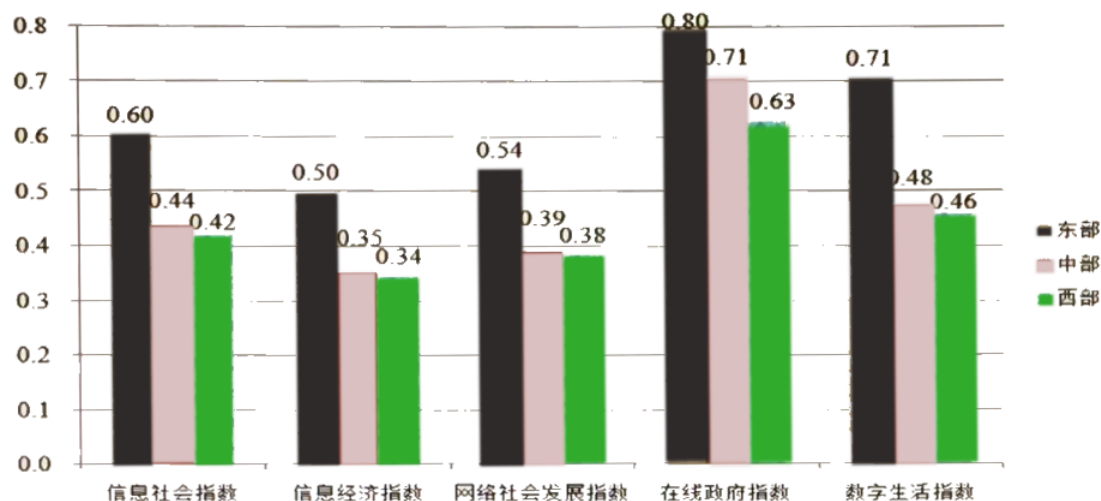
- A.2016 年我国手机银行和网络银行交易规模之和约为 2350 亿元
- B.我国手机银行和网络银行的市场交易总规模在 2013 年以后每年增速不低于 25%
- C.2012-2018 年我国手机银行市场交易规模增速始终高于网络银行交易规模增速
- D.2013 年以来我国手机银行交易规模增速逐年下滑

115.根据材料内容，不能得出以下结论（ ）。

- A.通讯运营商是我国电子支付产业的重要组成部分
- B.网络银行和手机银行共同组成了电子支付产业
- C.我国手机银行交易规模在 2014 年实现了 3 年增长近 30 倍的惊人速度
- D.我国电子支付产业中包括线上、线下两类不同的渠道

国家信息中心发布《2017 中国信息社会发展报告》显示，2017 年中国信息社会指数达到 0.4749。从信息社会发展的四个重点领域看，在线政府领域发展最快，2017 年全国在线政府生活指数达到 0.6070，同比增长 10.5%。

年份	全国信息社会指数	全国信息经济指数	网络社会发展指数	在线政府指数	数字生活指数
2011	0.3274	0.3114	0.3109	0.5031	0.3015
2012	0.345	0.3316	0.3353	0.3914	0.3528
2013	0.3807	0.3462	0.3617	0.441	0.4141
2014	0.417	0.3683	0.381	0.545	0.4589
2015	0.4351	0.3795	0.3852	0.545	0.5038
2016	0.4523	0.3848	0.4057	0.5496	0.5341
2017	0.4749	0.4112	0.425	0.607	0.5443



116.2011-2017 年间，中国各领域信息社会指数中出现起伏变化的是（ ）。

- A.全国信息经济指数
- B.网络社会发展指数
- C.在线政府指数
- D.数字生活指数

117.与 2011 年相比，2017 年我国网络社会发展指数提高了近（ ）。

- A.1.4 倍
- B.0.7 倍
- C.3 倍
- D.0.4 倍

118.2017 年东中西部各领域信息社会指数差距最大的是（ ）。

- A.信息经济指数
- B.网络社会发展指数
- C.在线政府指数
- D.数字生活指数

119.2017 年西部地区各类指数与全国水平相差的最大值是（ ）。

- A.0.0843
- B.0.0712
- C.0.0549
- D.0.0450

120.根据资料，下列说法错误的是（ ）。

A.2011-2017 年间，从四个重点领域看，发展最慢的是在线政府指数

B.2017 年信息社会指数及四大领域指数中，中部地区均处于中等水平

C.2011-2017 年间，从四个重点领域看，数字生活指数发展最快

D.2017 年，在信息社会指数及四大领域指数中，东部地区有部分指数低于全国平均水平

化  
学  
金  
融